

1 класс

второе
полугодие


УМК «Начальная школа XXI века»

Сравнение чисел

$$5 < 9$$

$$15 = 15$$

$$11 > 8$$



Начнем урок с хорошего настроения, как у нашего солнышка.



Доброе утро!

Сегодня **6 апреля**.

Работаем в обычной тетради в клетку.

1. Отступи вниз 4 клетки, вправо 10 клеток.

2. Запиши число.

3. В следующей строке пропиши правильно цифры от 1 до 10.


4. Определи следующую строку.

Запиши числа до 20 через одно, начиная с 2.

2 4 ...

Между цифрами 1 клетка.

Назовите пропущенное
число:



Какое число называют
при счете

перед числом? 12 8

после числа?

15 7

Назовите числа, которые
стоят между

14 и 19

11 и 15

Назовите предыдущее
и последующее число:

3	4	5
---	---	---

Не решая примеров, скажите, где
ответ больше или меньше?

Почему?

$$18 + 5$$

$$18 - 5$$

Назовите самое маленькое
и самое большое число

12, 1, 14, 3, 7, 18

Расположите их в порядке
увеличения.

1, 3, 7, 12, 14, 18

**Вычислите и запишите только
ответы.**

$9 + 2$

$6 + 4$

$9 - 4$

$8 + 5$

$7 - 5$

$10 - 4$

$6 + 3$

$11 - 3$



1. Пересчитай красные шары. Сколько их?
Пересчитай синие шары. Сколько их?



Числа можно сравнивать и без рисунков.

Из двух чисел меньше то число, которое называют при счёте раньше, а больше то число, которое называют при счёте позже.

3. Какое число больше: 13 или 19, 20 или 15, 5 или 8?
Какое число меньше: 11 или 14, 13 или 9, 17 или 20? Объясни свой ответ.

Работа по учебнику стр. 85

9.

Какое число написано на шкале линейки левее: 5 или 9? Какое из этих чисел написано правее?



Назови все числа, которые написаны на линейке справа от числа 0. Есть ли числа, которые написаны слева от числа 0?



На зарядку солнышко
Вызывает нас.



Поднимаем руки мы
По команде: «Раз!»

А над нами весело шелестит
листва.



Опускаем руки мы
По команде: «Два!»
Руки кверху поднимаем,
А потом их опускаем,
А потом их разведем
И к себе скорей прижмем.




Работа по учебнику стр. 86



Числа можно сравнивать с помощью шкалы линейки.

Из двух чисел меньше то число, которое на шкале линейки написано левее, а больше то число, которое написано правее.

Левее нуля на шкале линейки нет ни одного числа. Поэтому **ноль меньше любого другого числа, а любое число больше нуля.**

10.  Найди на шкале линейки числа 12 и 16. Какое из них расположено правее? Какое левее? Какое из этих чисел больше и какое меньше?

11.  Сравни числа.

11	А	8	19	А	20	6	В	0	0	А	12
15	В	13	16	А	18	0	А	1	20	В	0

Работа в тетради стр. 58

1. Заполни пропуски словами «больше» или «меньше».

18 больше 10 6 больше 5

9 меньше 15 12 меньше 17


2. Запиши пропущенные при счёте числа.

9 10 11 12 13 14 15 16 17 18 19 20

Какие из чисел в ряду больше 14?

Какие из чисел меньше 12?

3. Обведи на линейке кружками все числа, которые больше 7 и меньше 13.



Работа в тетради стр. 58

4.

Запиши одно число, которое:

больше 5

больше 1

больше 18

меньше 10

5.

Запиши два числа, сумма которых:

больше 10

меньше 6

Задание для самоподготовки

Уч.с.85 № 4,5,6,7,8 – выполни устно
Уч.с.86 №11 – запиши в тетрадь (в клетку)

Помни!!!

Между столбиками 3 клетки.

Рефлексия урока



1

У меня всё
получилось!



2

Не всё получилось,
но я старался.



3 Не старался,

Много не получилось.