

Общая характеристика Зарубежной Азии

теория

тест

задания

вопросы

практика



План

Визитка

- 1. Место и роль Зарубежной Азии в мире.
- 2. Особенности географического положения региона.
- 3. История формирования его политической карты.
- 4. Характерные черты природно-ресурсного потенциала, населения.
- 5. Хозяйство Зарубежной Азии .

1. Место и роль Зарубежной Азии в мире.

Они различаются размерами территории и природными богатствами, уровнем социально –экономического развития и «стажем» независимости, политическим устройством т.д

Различия между странами Азии особенно проявились после Второй мировой войны, когда усилилась неравномерность их политического и социально- экономического развития.

Регион играет огромную роль в современном мире КНР, Индия.

Азия обладает крупнейшими в мире нефтяными ресурсами, выступает поставщиком минерального и с/х сырья, а в последнее время и продукцией обрабатывающей промышленностью размерами территории и природными богатствами, уровнем социально –экономического развития и «стажем» независимости, политическим устройством т.д

1. Место и роль Зарубежной Азии в мире.

Зарубежная Азия- один из самых больших по площади территории и крупнейший по численности населения регион мира.

Она занимает южную и юго- восточную части материка Евразии и прилегающие острова, наиболее крупными из которых являются Японские, Тайвань, Филиппинские, Большие и Малые Зондские, Шри-Ланка.

Границы между государствами проходят по хорошо выраженным природным рубежам.

ЭГП стран Азии определяется их соседским положением, приморским положением большинства стран, глубинным положением некоторых стран.

**Назвать по пять государств Азии,
имеющих приморское и
внутриконтинентальное положение.**



**С помощью визитной карточки стран
Зарубежной Азии конкретизируйте
характеристику их государственного
строя**

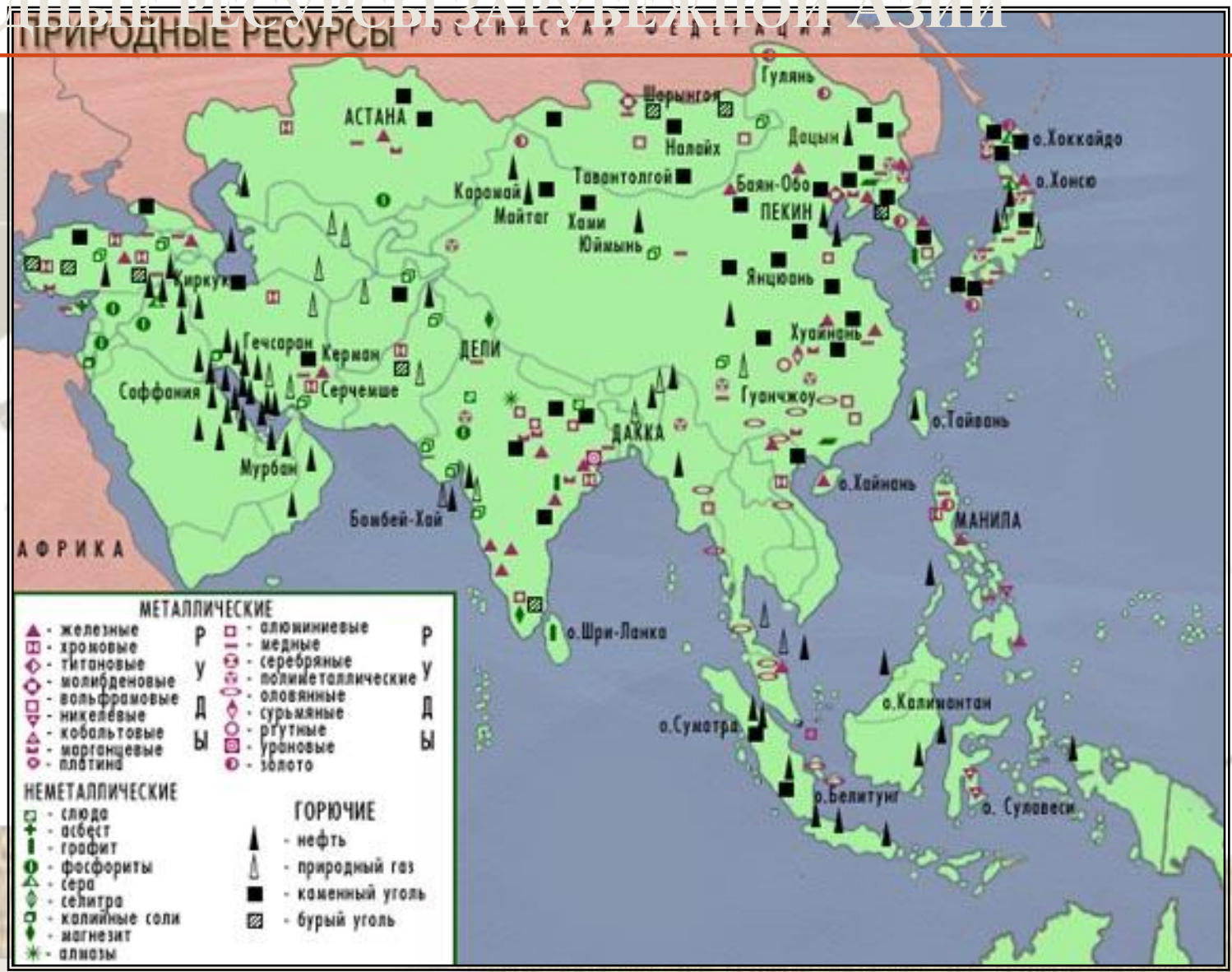
Республики	Конституционные монархии	Абсолютные монархии

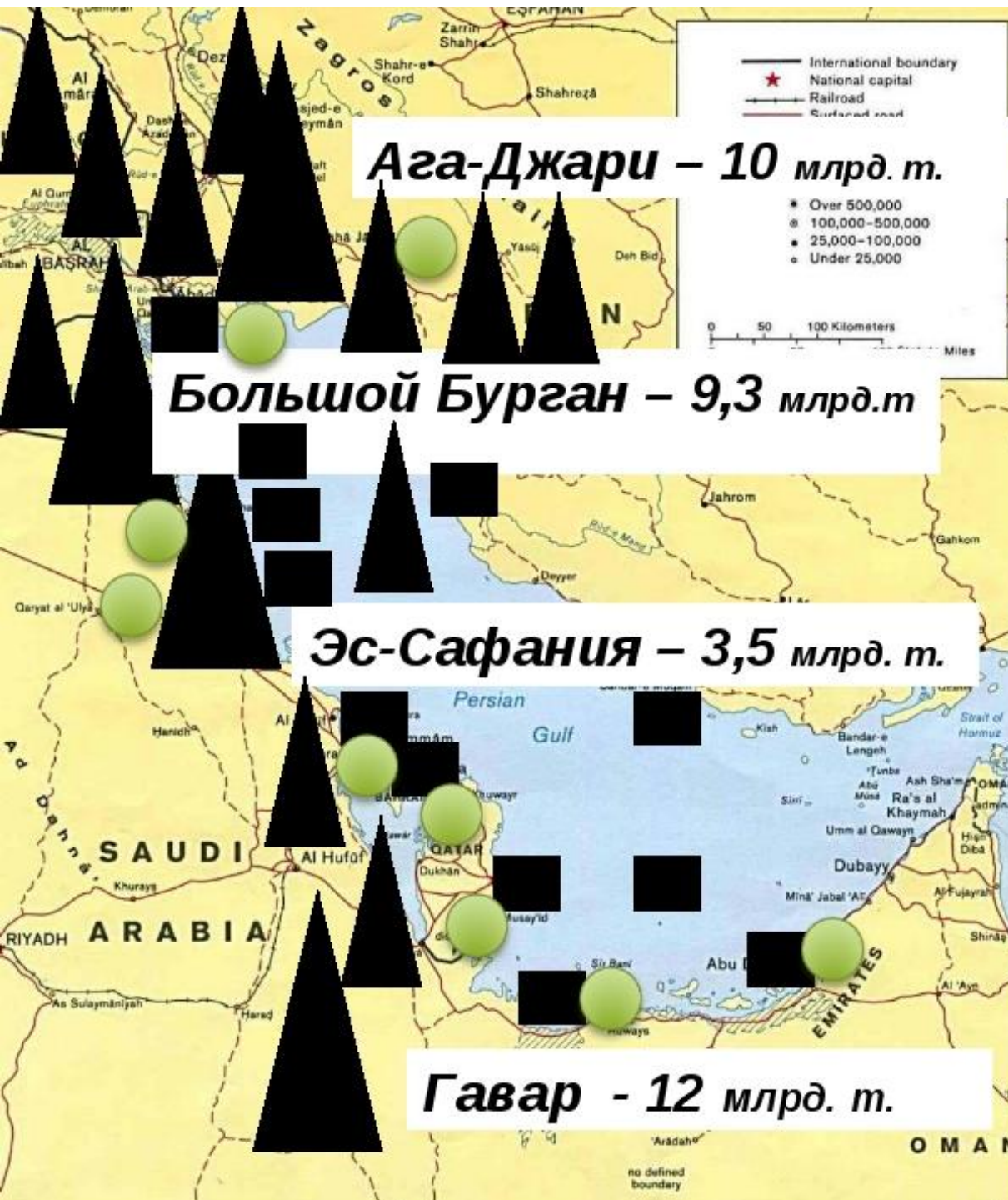
Природно-ресурсный потенциал Азиатского региона

- Природно-ресурсный потенциал располагает мощной ресурсной базой для промышленности и ограниченными возможностями для развития аграрного производства. Особое значение в мировом масштабе имеют азиатские минеральные ресурсы, и в первую очередь запасы топлива и металлов.
- Так же в регионе значительны лесные ресурсы, ресурсы пресных вод. Природные возможности для развития сельского хозяйства ограничены, огромные пространства Азии представлены горным, сильно расчленённым рельефом, а так же засушливыми или переувлажненными территориями. Обрабатываемые земли занимают только 1/6 территории региона, что соответствует среднемировому показателю, но в двое ниже, чем в Европе.

Привести примеры стран, обладающими значительными запасами минеральных ресурсов.

ПРИРОДНЫЕ РЕСУРСЫ ЗАРУБЕЖНОЙ АЗИИ





Население Зарубежной Азии

- Зарубежная Азия – крупнейший регион мира по численности жителей. Здесь проживает более 60% мирового населения. Для Азии характерны высокие абсолютные и относительные темпы роста населения. Особенно быстро растет население в Юго-Западной Азии. Здесь же расположены и страны – «рекордсмены» по темпам роста населения: ОАЭ, Катар, Иордания.
Для Зарубежной Азии характерна крайняя неравномерность размещения населения. Подавляющая часть жителей сосредоточена всего лишь в нескольких ареалах, приуроченных в основном к долинам больших рек и крупным равнинам. Для Азии характерен очень пестрый этнический состав. Здесь проживает более тысячи народов, среди которых есть и совсем небольшие. Однонациональных стран в регионе немного. Это в основном арабские страны Юго-Западной Азии, а так же Япония, две Кореи, Бангладеш.

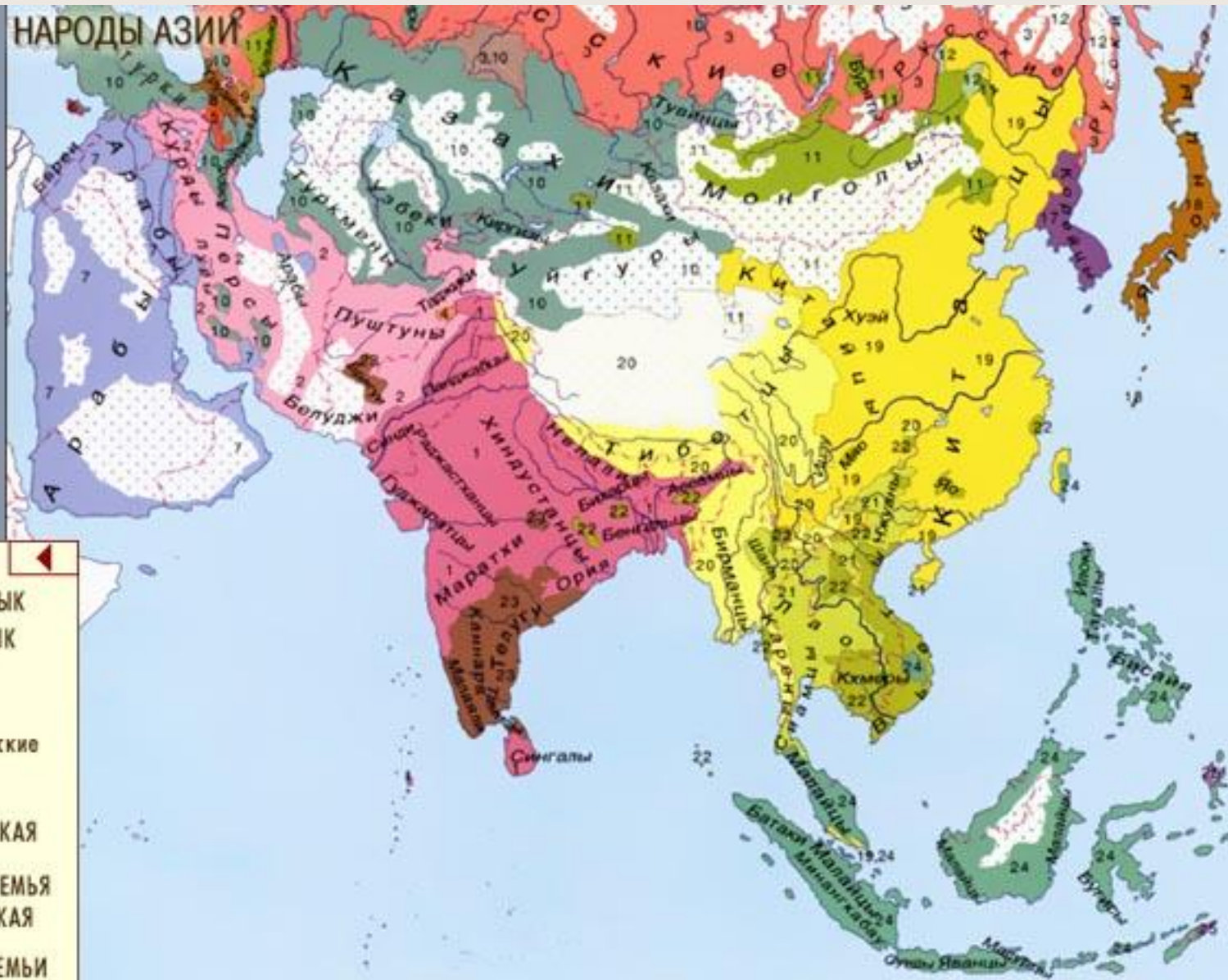
- По численности населения Зарубежная Азия занимает первое место, где проживает 60% населения Земли.
- Назовите страны зарубежной Азии, которые находятся на стадии демографического взрыва.

Субрегионы Азии	Темпы прироста %
Юго- Западная	3,0
Центральная Азия	1,6
Южная Азия	1,9
Юго- Восточная Азия	1,5
Восточная Азия	0,9
Зарубежная Азия	1,4

Определить, какие языковые семьи и языковые группы распространены в странах Азии

Языковая семья	Языковая группа	Страны и регионы распространения.

НАРОДЫ АЗИИ

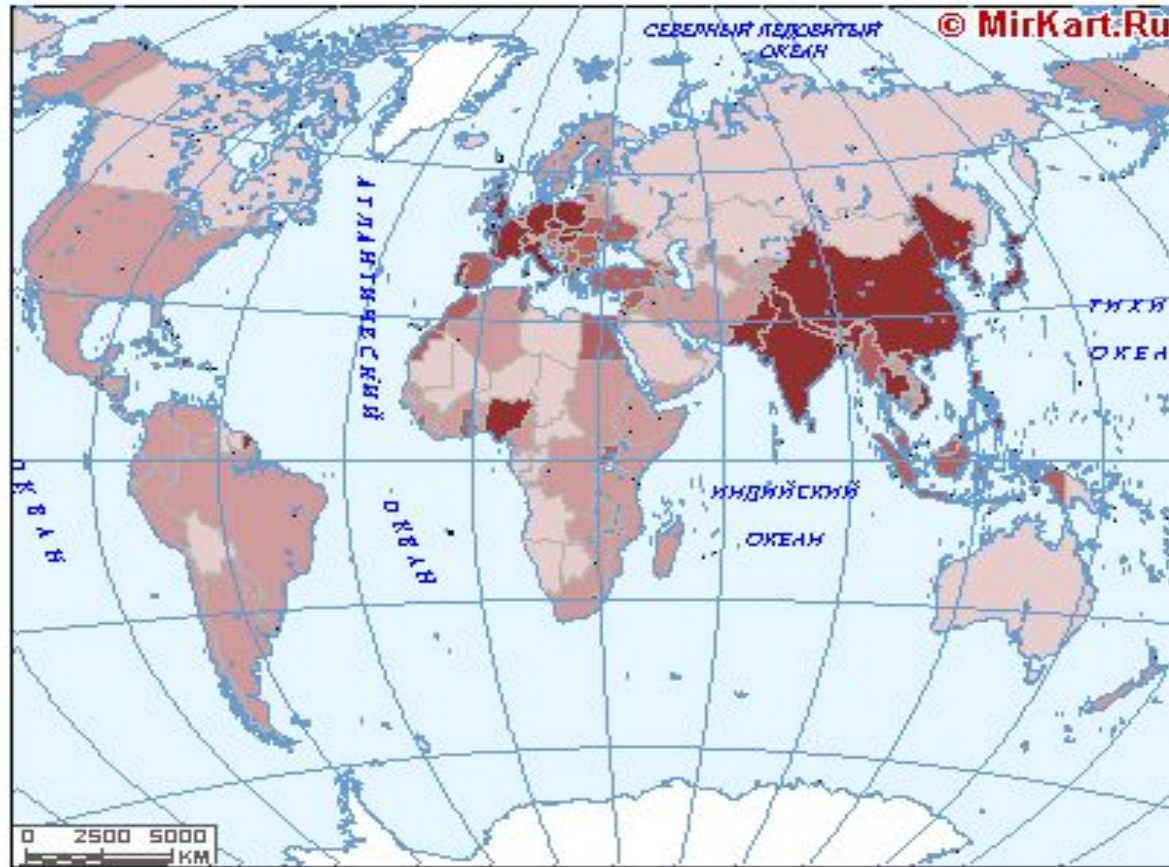


- 17 - КОРЕЙСКИЙ ЯЗЫК
- 18 - ЯПОНСКИЙ ЯЗЫК
- СИНО-ТИБЕТСКАЯ СЕМЬЯ
- 19 - китайские
- 20 - тибето-бирманские
- 21 - СЕМЬЯ ТАИ
- 22 - АВСТРОАЗИАТСКАЯ СЕМЬЯ
- 23 - ДРАВИДСКАЯ СЕМЬЯ
- 24 - АВСТРОНЕЗИЙСКАЯ СЕМЬЯ
- 25 - ПАПУАСКИЕ СЕМЬИ

Определить, какие религии распространены в странах Азии

Религия.	Регион.	Страны.
ислам.		
буддизм		
индуизм		
конфуцианств о		
СИНТОИЗМ		
иудеи		

Определить, какие причины лежат в неравномерности размещения населения в странах Азии



Плотность населения мира (чел / кв.км)



Состав населения Азии

Зарубежная Азия – самый «мужской регион» мира, в котором сильный пол заметно преобладает.

Вековые традиции и связанное с ними неравноправное положение женщины в Китае и Индии обусловили численное превосходство мужчин.

Особенно резкое преобладание мужчин характерно для нефтедобывающих стран Юго-Западной Азии, что явилось результатом массовой трудовой иммиграции (в Катаре мужчины составляют $\frac{2}{3}$ населения).

Урбанизация Азии

- Азию часто называют мировой деревней, так как именно здесь самая маленькая доля горожан. Большая часть сельских жителей сосредоточена в крупнейших странах – Китае, Индии, Индонезии. Один из азиатских парадоксов состоит в том, что на «деревенском фоне» там выросло большое количество крупных городов, в том числе и гигантов. Половина крупнейших городов мира расположена в Зарубежной Азии. Отличительная черта азиатских городов-гигантов – перенаселенность. Абсолютный рекордсмен по степени заселенности – Сянган (Гонконг).

В промышленном производстве.

За последние десятилетия изменилась роль Азии в мировом хозяйстве.

Азия-регион контрастов. Занимает первое место по добыче нефти, угля, железной руды, хромитов, оловянных и вольфрамовых руд.

В обрабатывающей промышленности выделяются по выплавке стали, производству морских судов, роботов, бытовой электроники, компьютерных комплектующих деталей, х/б тканей, одежды, обуви.

В сельском хозяйстве

В большинстве стран зарубежной Азии основная часть экономического активного населения занята в сельском хозяйстве.

Страны являются лидерами как по производству основных с/х культур, так и по поголовью скота.

Большая часть продукции сельского хозяйства потребляется внутри самого региона.

Специализация: рисосеяние, субтропическое земледелие, выращивание чая, каучуконосов и технических культур, пастбищное животноводство.

Транспорт Азии

Во внутренних перевозках – ж/д транспорт, во внешних – морской. Крупные порты:

Сингапур, Шанхай, Сянган, Нагой, Ульсан Кванджу(Юж. Корея) Кипр, Сингапур, Китай и Япония входят в «мировую» десятку по величине торгового флота.

Своеобразная транспортная система в странах-экспортерах нефти и газа- в *грузообороте* преобладает трубопроводный .
а в пассажирообороте – автомобильный.

Крупнейшие аэропорты- Токио, Сеуле, Сянгане, Бангкоке, Дели, Сигапуре, Пекине.

Модели социально-экономического развития

Японская (восточно-азиатская) модель.

Социалистическая модель.

Китайская модель (модель третьего пути).

Экспорт нефти

1. Жесткое госуд-ое регулирование экономики.
2. Экспортная ориентация экономики.
3. Привлечение иностранного капитала.
4. Создание крупных национальных монополий.

Характерно использование принципов организации государственной социалистической экономики при «политическом прессинге».

Представляет собой симбиоз рыночной экономики с центральным планированием и старой политической надстройкой

Страны относящиеся к этой группе, формируют свое хоз-во на базе добычи и экспорта нефти или продуктов ее переработки.

Каждая социально-экономическая модель в Азии сочетает в себе традиционные и современные элементы.

ПРОДУКЦИЯ КИТАЯ



АВТОМОБИЛИ



Ф
А
Р
Ф
О
Р



ШЕЛК



ЧАЙ

ПРОДУКЦИЯ ИНДИИ



Фармацевтика



Сбор чая



Пряности



Сбор хлопка

ПРОДУКЦИЯ ЯПОНИИ



СУДА



РОБОТЫ



АВТОМОБИЛИ



ТЕЛЕВИЗОРЫ

Тест

1. Большинство монархических государств Зарубежной Азии находится:

- А. Юго-Западной Азии
 Б. в Центральной Азии
 В. Южной Азии
 Г. Юго-Восточной Азии

2. Найдите ошибку в перечне многонациональных стран Зарубежной Азии:

- А. Бангладеш
 Б. Индонезия
 В. Индия
 Г. Ирак

3. Ислам- религия большинства верующего населения:

- А. Монголия
 Б. Индия
 В. Турция
 Г. Бангладеш

4. Найдите ошибку в перечне стран Азии. Занимающихся выращиванием и экспортом чая:

- А. Китай
 Б. Шри-Ланка
 В. Индия
 Г. Пакистан

5. Какие страну в прошлом была колонией Великобритании?

- А. Сирия
 Б. Бангладеш
 В. Иордания

ОТВЕТЫ

Тест

6. Найдите ошибку в перечне государств – архипелагов Зарубежной Азии:

- ✓ А Шри – Ланка Б Малайзия и Фиджи В Индонезия и Филиппины
Г. Япония и Мальдивы

7. Назовите, какая страна относится к числу « новых индустриальных стран» относятся:

- ✓ А. Япония Б Мьянма В. Малайзия Г Индия

8. Все три государства: Индонезия, Бахрейн, Бруней – являются:


- ✓ А членами ОПЕК Б. членами НАТО В. членами АСЕАН Г.
нейтральными

9. Укажите самые крупные города Юго-Западной Азии:


- ✓ А Стамбул и Багдад. Б Алжир и Тель-Авив В Эр- Рияд и Дамаск
Г Дакка и Тегеран

ответы

ВОПРОСЫ




политика, направленная отделение, обособление и ставшая главной целью создание собственного национального государственного образования.




Раздельное обучение в школах, в университетах, раздельная работа, разные помещения в общественных местах, влияние на брачные отношения, на распорядок дня, на рацион питания, на одежду, на систему судопроизводства.



Высшая форма урбанизации



Характерно четкое подразделение на старую и новую части. Самое оживленное место в старом городе- базар с прилегающими к нему торговыми улицами и кварталами ремесленников, которые тут же продают свою продукцию. В новой части современные дома.



Город, крупная промышленная новостройка, оказывающая стимулирующее воздействие на развитие окружающего района.

ЗАДАНИЯ



- Поиск дополнительной информации: региональные группировки



- Составление таблицы







- Выберите верные утверждения

Выберите верные утверждения

		Да	Нет
1	Рисовые ландшафты стран Азии размещены главным образом на горных склонах	<input type="radio"/>	<input type="radio"/>
2	Экономическое чудо в настоящее время наблюдается в Индии и Китае	<input type="radio"/>	<input type="radio"/>
3	«Торговать или умереть» эпитафия к экономике -Японии	<input type="radio"/>	<input type="radio"/>
4	Главное богатство стран Юго –Западной Азии -нефть	<input type="radio"/>	<input type="radio"/>
5	Мировой лидер по количеству больших городов -Индия.	<input type="radio"/>	<input type="radio"/>
6	Для Японии, в отличие от других стран Азии, характерен первый тип воспроизводства населения	<input type="radio"/>	<input type="radio"/>
7	Наиболее высокая плотность населения наблюдается Западной Азии	<input type="radio"/>	<input type="radio"/>
8	«Демографический взрыв» характерен в основном развитым странам	<input type="radio"/>	<input type="radio"/>
9		<input type="radio"/>	<input type="radio"/>
10	Каждый седьмой житель Земли – китаец.		

Составление таблицы

Используя карты атласа, учебник и другие источники заполните в таблице особенности природных условия

страна	Географическое положение	Особенности природных условий	Отрасли специализации
Индия			
Китай			
Индонезия			
Япония			

Подготовка к ЕГЭ: часть А

А1. Какая из перечисленных стран входит в состав ОПЕК?

1. Норвегия
2. Саудовская Аравия
3. Канада
4. Казахстан

А2. Назовите , в каких странах Азии преобладает доля мужского населения:

1. в Саудовской Аравии.
2. Японии.
3. Индонезии.
4. Австралии.

ОТВЕТ

Подготовка к ЕГЭ: часть А

А3. Назовите наиболее важный минеральный ресурс Зарубежной Азии, определяющий место в международном разделении труда –это:

1. железная руда 2. нефть 3 каменный уголь 4 алмазы

А4. Назовите, какой из полуостровов наиболее густо заселен:

1. Малаккский 2. Аравийский 3 Индостан 4.Малая Азия

А5 Выберите, какая черта объединяет города Ханой, Дели и Пекин?

1. Являются крупными промышленными центрами,
2. Являются не самыми крупными городами – столицами,
3. Расположены в Восточной Азии,
4. Являются крупнейшими городами -столицами

ответ

Подготовка к ЕГЭ: часть Б

Б1. Установите соответствие между типами стран и страной, относящейся к данному типу:

- | | |
|--------------------------------|---------------|
| 1. наименее развитая страна | А Индонезия |
| 2. новая индустриальная страна | Б Катар |
| 3. нефтедобывающая страна | В Южная Корея |

	Г. Непал		
1	2	3	4

Б2. Установите соответствие между странами Зарубежной Азии и ведущими под отраслями сельского хозяйства:

- | | |
|--------------|------------------------------|
| 1. Индонезия | А. Субтропическое земледелие |
| 2. Израиль | Б выращивание риса |
| 3. Монголия | В пастбищное животноводство |

4. Филиппины

--	--	--

ответ