

Повторение курса математики начальной школы



РАССКАЗ ШРЕКА.

«Я встал пораньше, в 4 кг утра. Позавтракал плотно, выпил 1 км молока. Потом отправился на озеро, Расстояние до него немалое, 5 градусов. Утром было прохладно, температура всего 10 часов тепла. Поэтому я шел быстро, со скоростью 6 метров. Пришел, закинул удочку, не прошло и 20 сантиметров, как я поймал первую рыбку. Большущую – длиной 50 минут и весом 3 км/ч.

Отличная получилась уха!»

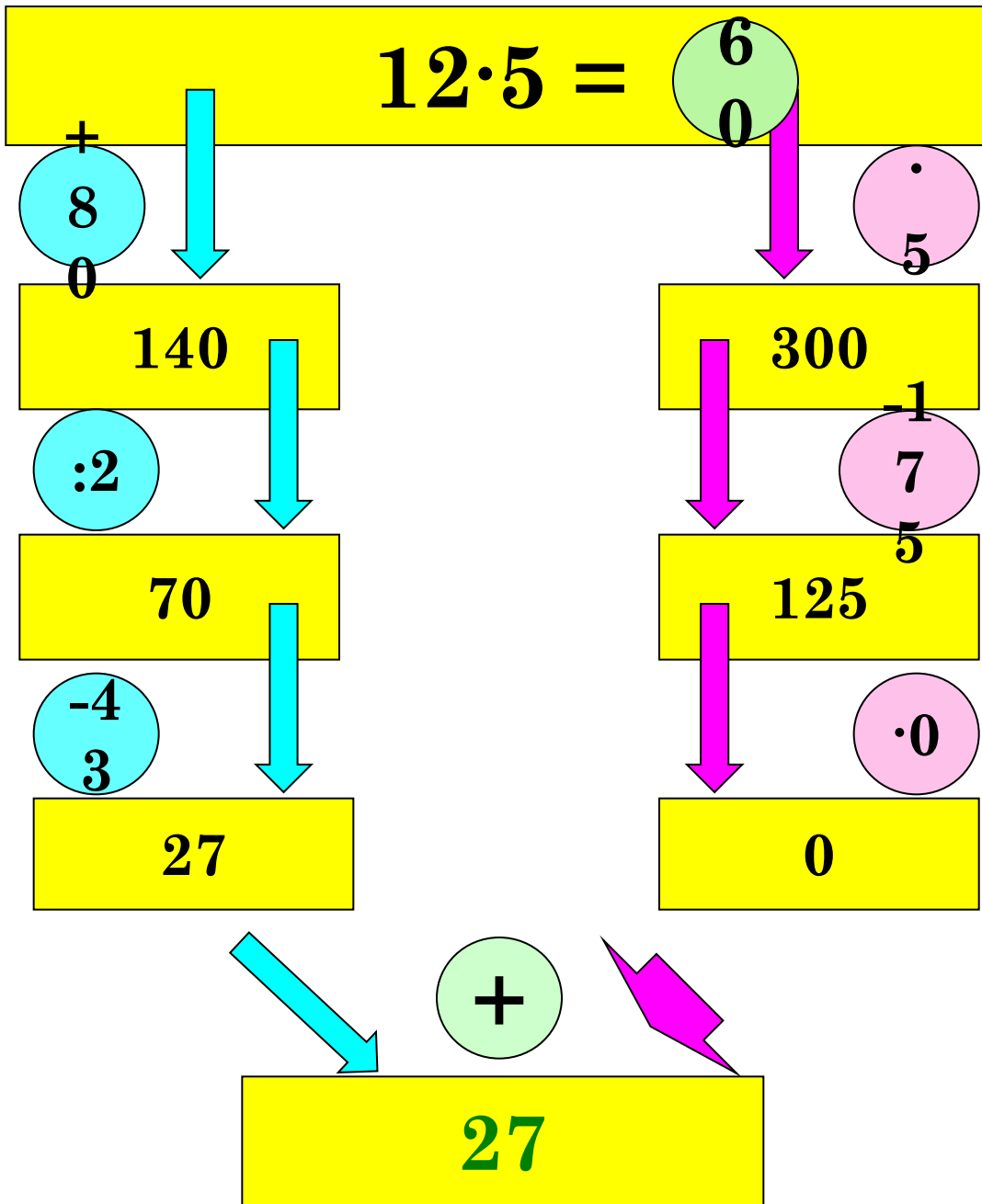


ЗАДАЧА.


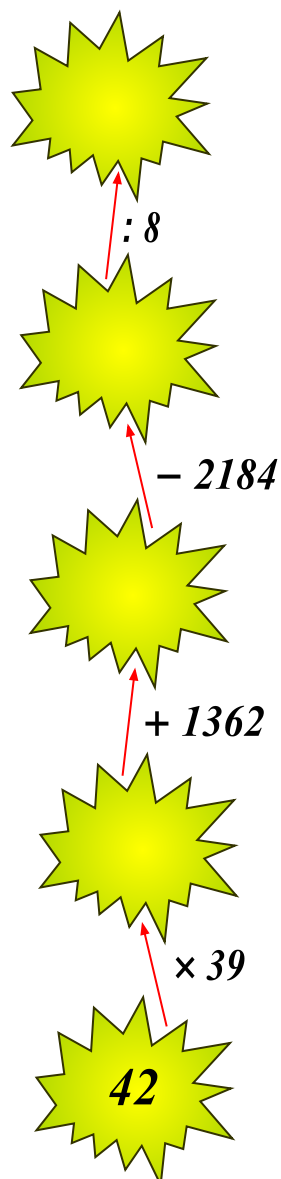
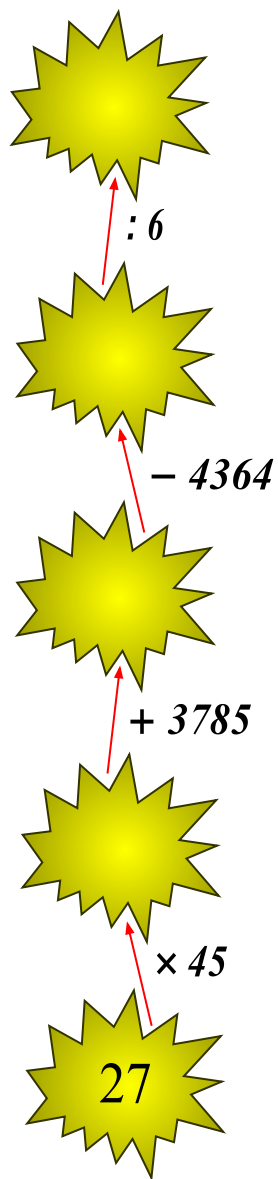
«Я встал пораньше, в 4 к^втра.лит
Позавтракал плотно, выпил 1 л^р
молока. Потом отправился на озеро,
Расстояние до него немалое, 5 к^в километро
Утром было прохладно, температура^в
всего 10 градусо^в тепла. Поэтому
я шел быстро, со скоростью
6 км/ч^в. Пришел, закинул удочку,
не прошло и 20 са^в минут^в,
как я поймал первую рыбку.
Большущую – длиной 50 сантимер^в
и весом 3 кг^в ов
Отличная получилась уха!»



Устные упражнения



НАХОЖДЕНИЕ ЗНАЧЕНИЯ ВЫРАЖЕНИЯ



Последуйте за котом по
математическим кочкам.
Не торопитесь при
выполнении вычислений, а
то можете соскользнуть с
кочки и увязнуть в болоте!



РЕШЕНИЕ УРАВНЕНИЙ

$$(x + 3) \cdot 7 = 133;$$

$$124 : (x - 14) = 31$$



РЕШЕНИЕ ЗАДАЧ

Принцесса и Шрек пошли в лес, осмотреть свои владения. Они решили узнать, какой длины изгородь им придется поставить.

Известно, что длина участка прямоугольной формы равна 150 м, а ширина на 16 м меньше. Необходимо узнать, какой длины должна быть изгородь, чтобы огородить весь участок.



1-а

2-в

3-е

4-и

5-о


6-г

7-л

8-р

9-к

0-н



Огры— мифические существа, чудовищные, безобразные великаны-людоеды. У них очень внушительный рост, достигающий в величину до 20-40 метров. Их выдающееся качество — невероятная сила. Они часто носят тяжелейшие дубины на охоту или в качестве оружия, но всё же их нельзя недооценивать и в безоружном бою. Из костей своих жертв они изготавливают трофеи и талисманы, которыми они украшают как своё жильё, так и самих себя.



ДОМАШНЕЕ ЗАДАНИЕ

- Составить и решить задачу о Шреке и Фионе.
- Составить и решить уравнение.



ЛИТЕРАТУРА:

- « Математика: Открытые уроки. 5,6,7,9.11 классы.»
Выпуск 2/ Авт.-сост. Н.М.Ляшева и др. – Волгоград:
Учитель,2005
- <http://karmanform.ucoz.ru/5.rar>
- <http://www.zaitseva-irina.ru/html/f1103452759.html>
- http://go.mail.ru/search_images?use_morph=yes&q=http://go.mail.ru/search_images?use_morph=yes&q=шрек

