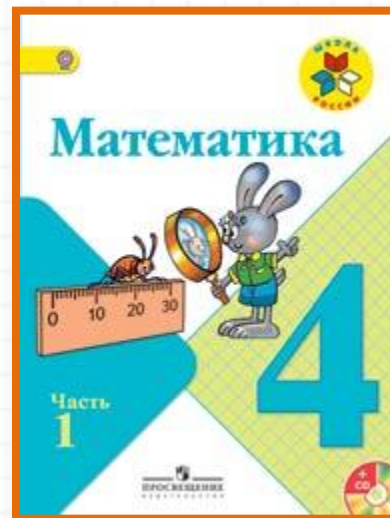


Школа России

4 класс


стр. 60



Устный счёт к уроку № 108

Письменное деление на двузначное число

Устный счёт



- 1) Найди частное чисел **560** и **40**.
- 2) Какое число меньше **952** на **200**?
- 3) Какое число больше суммы чисел **450** и **550** на **100**?
- 4) Какое число надо уменьшить на **80**, чтобы получить **190**?
- 5) Назовите число, которое больше **30** в **15** раз.
- 6) На сколько надо разделить **640**, чтобы получилось **80**?
- 7) От какого числа надо отнять **200**, чтобы получить **249**?
- 8) Первый множитель **60**, второй **30**. Чему равно произведение?
- 9) Во сколько раз **20** меньше **1000**?
- 10) Найдите **$\frac{1}{7}$** от **3500**.
- 11) Найдите **$\frac{4}{8}$** от **800**.
- 12) Из суммы чисел **450** и **150** отнять их разность.
- 13) Запишите число, в котором **679** сотен.

Отвeты:

14, 752, 1100, 270,
450, 8, 449, 1800,
50, 500, 400, 300,
67 900

На каждом квадратном метре огорода было посажено **40** луковиц. Длина огорода **5** м, ширина **4** м. Сколько луковиц было посажено на всём огороде?




800 ЛУКОВИЦ

Петя купил **3** ручки и **6** карандашей по одинаковой цене. За карандаши он заплатил на **24 рубля больше**. Сколько стоит 1 карандаш?



8

Сшили **20** шортов и **30** юбок, расходуя одинаковое количество метров на каждое изделие. Израсходовали **100 м** ткани. Сколько метров ткани потребовалось на одно изделие?



2 метра

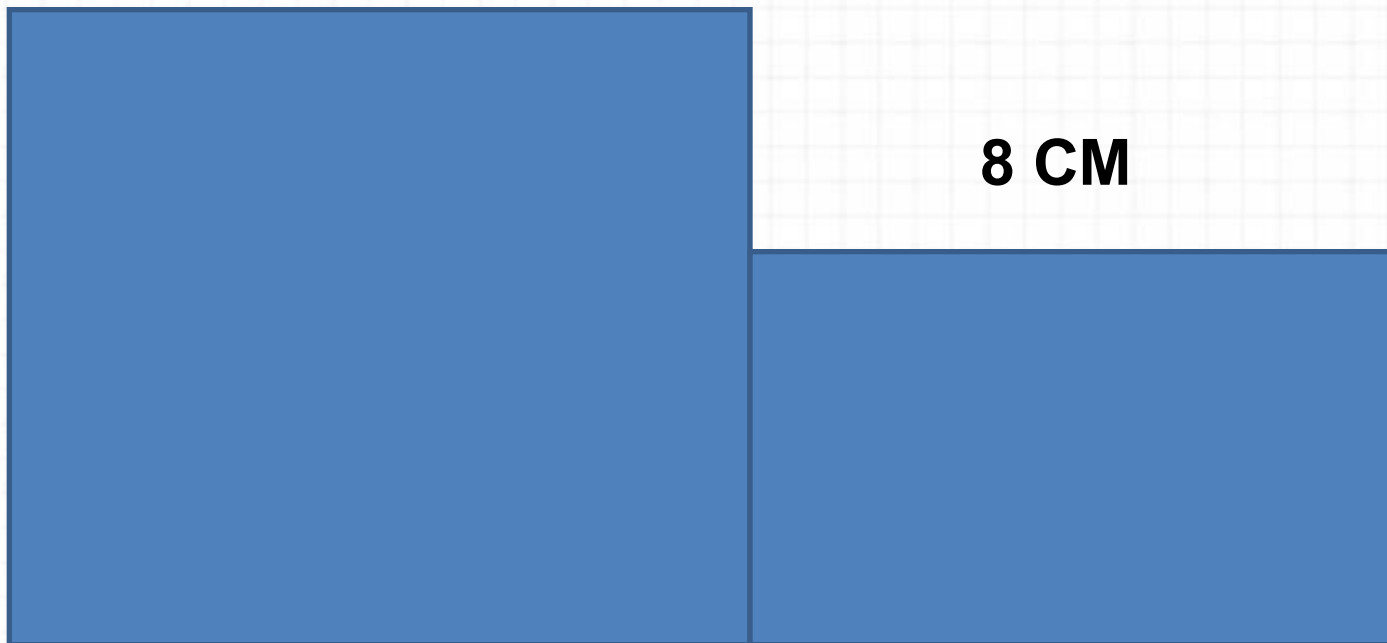
Автобус ехал **3 ч** со скоростью **70 км/ч**
и **3 ч** со скоростью **80 км/ч**. Какое
расстояние проехал автобус?



450 км

Вычисли периметр и площадь многоугольника .

10 CM



8 CM

6 CM

10 CM

Каковы могут быть длина и ширина
прямоугольника, если его периметр
18 см?



$$P = 18 \text{ см}$$

Алгоритм деления

- 1. Найти первое неполное делимое.**
- 2. Определить число цифр в частном.**
- 3. Делим.**
- 4. Умножаем.**
- 5. Вычитаем.**
- 6. Сравниваем остаток с делителем.**
- 7. Образуем второе делимое.**

Задание на смекалку



В шахматном турнире участвовали **7** человек. Каждый с каждым сыграл по одной партии. Сколько всего партий они сыграли?



$$6 \times 7 = 42$$

Конец

Сайт Елены Берюховой «Школа АБВ»
<http://shkola-abv.ru>

