

**Бен-Секка**

**Сомали**

**Африка**

**Рас-Хафун**

**Игольный**

**30,3 млн. км<sup>2</sup>**

**Альмади**

**Гвинейский залив**

**Мадагаскар**

# Повторим:

- 1) Что такое рельеф?
- 2) Какие формы рельефа вы знаете?
- 3) Каким цветом на карте изображены горы?
- 4) Каким цветом на карте изображены равнины?



# Формы рельефа




**Равнина**



**Плоскогорье**



**Горы**



**Возвышенность**



## 2. Выбери правильный ответ:

**А.** Африка – ...по величине территории материк.

- 1) первый
- 2) ~~второй~~
- 3) третий
- 4) четвертый


**Б.** Крайняя южная точка Африки – ...

- 1) мыс Бен-Секка
- 2) мыс Игольный
- 3) мыс Рас-Хафун
- 4) мыс Альмади

**В.** Африка омывается водами...

- 1) Индийского океана
- 2) Тихого и Атлантического океанов
- 3) Атлантического и Индийского океанов
- 4) Тихого и Индийского океанов

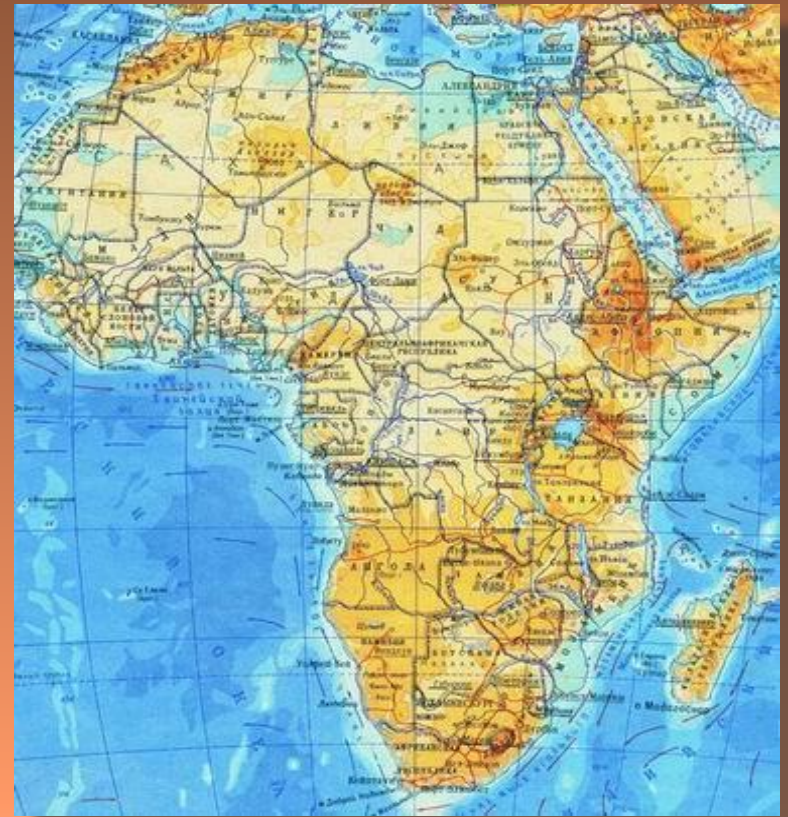
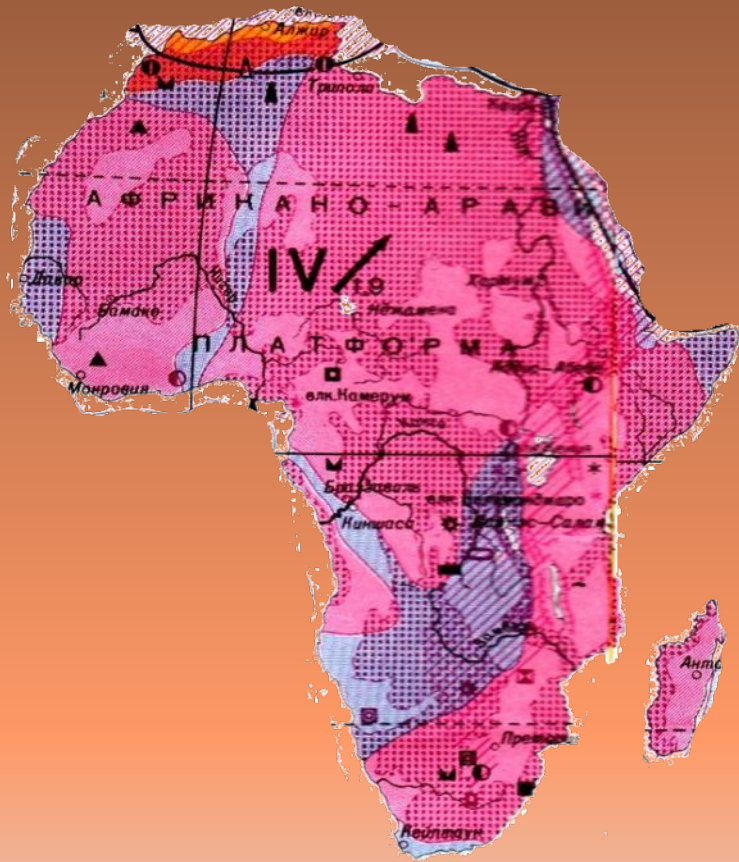
**Г.** Площадь территории Африки (вместе с островами) равна ... млн. кв. км.

- 1) 54,9
  - 2) 30,3
  - 3) 24,2
  - 4) 17,8
- 

# Рельеф и полезные ископаемые Африки







# Рельеф отдельных частей материка

## *Северная Африка*

Высокий Атлас

*Наивысшая точка*

*г. Тубкаль, 4 165 м*



Низкий Атлас

# Великие Африканские разломы





# Восточная Африка

Восточно-Африканское плоскогорье



Эфиопское нагорье



Килиманджаро

# Южная Африка

Драконовы горы



Капские горы

# Выводы:

- Максимальная высота – 5895м, вулкан Килиманджаро.
  - Преобладание равнин высотой 200 – 1000м, так как в основании лежит Африкано-Аравийская платформа.
  - Великие Восточно-Африканские разломы.
  - На северо-западе горы Атлас, на юге Капские и Драконовы горы.
- 