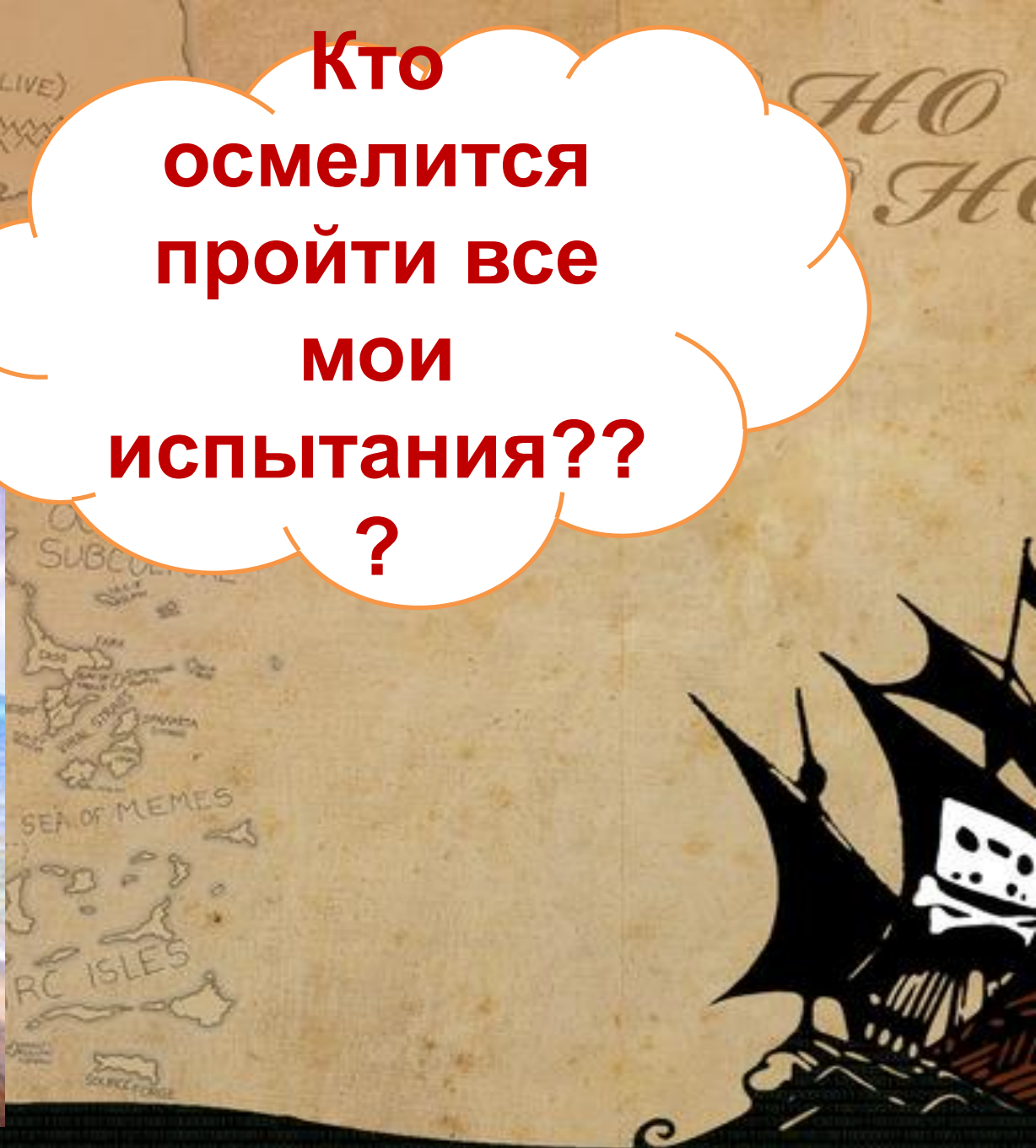




Математический КВЕСТ

**Кто
осмелится
пройти все
МОИ
испытания??
?**





YO HO HO
YO HO HO

Начинаем!!!

Только справившись со
всеми моими
испытаниями, вы
найдёте 5 ключей.





Испытание 1

**Кто самый
быстрый?**

**Варит отлично твоя голова:
Пять плюс один получается...**

**Вышел зайчик погулять,
Лап у зайца ровно...**

**Ты на птичку посмотри:
Ног у птицы ровно...**

**Говорил учитель Ире,
Что два больше, чем...**

**Знает точно ученица:
От десятка ноль отнять -
будет...**

**Ходит в народе такая молва:
Шесть минус три получается...**

**Отличник тетрадкой своею гордится:
Внизу, под диктантом, стоит...**

**На уроках будешь спать - за
ответ получишь...**

*YO HO HO
YO HO HO*

Ключ: сколько лапок у трёх





Ну какие молодцы,
вы прошли моё
первое испытание!
Но я приготовил
вам второе.

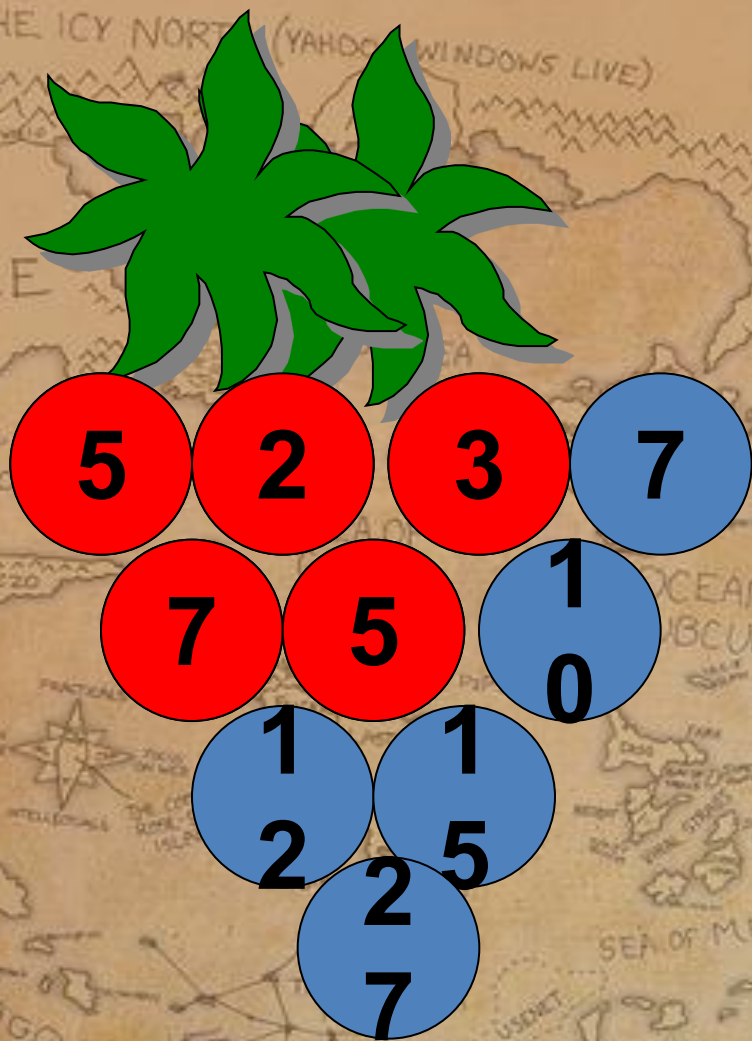


YO HO
YO HO

Испытание 2

Кто самый
точный?





Посмотрите, как
заполнена гроздь
винограда числами:
вверху два
слагаемых, внизу
между ними их
сумма.





По тому же правилу заполните числами эти грозди.

Ключ: сколько раз встречается цифра

Молодцы!
Теперь я хочу,
чтобы вы встали
и взялись за руки.





Испытание 3

Кто самый энергичный?

1) Его бросают за борт тонущим
людям.

2) Моя загадка
коротка:

3) Три стороны и три
угла

карта

4) Не овал я и не круг,
Треугольнику я друг,
Прямоугольнику я
брат,

Ключ :: периметр треугольника, стороны которого равны по 6



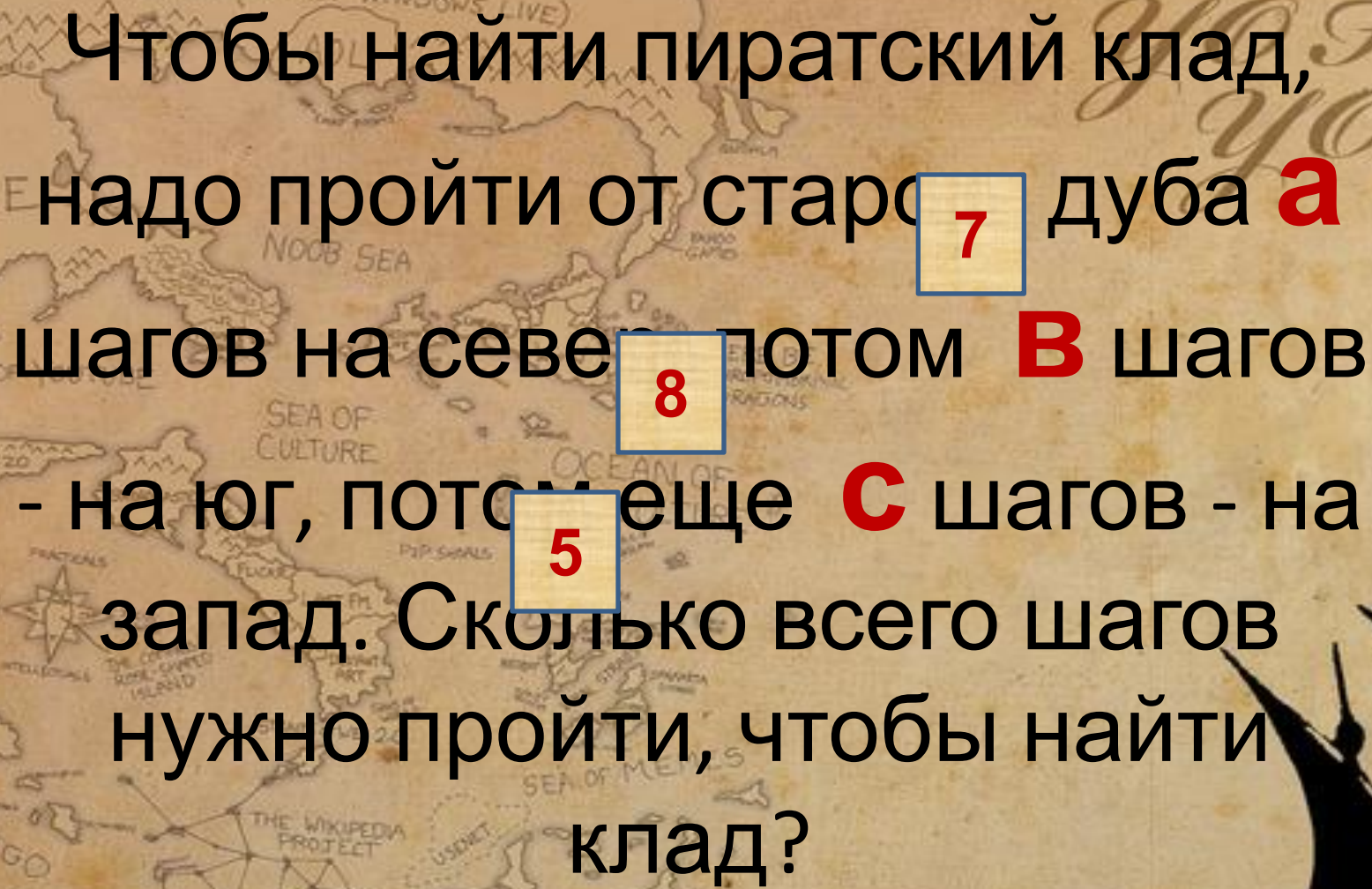
Да тут собрались
крутые
математики!
Ну держитесь!!!





Испытание 4


Кто самый сообразительный?

A treasure map with various locations and a pirate ship illustration. The map includes labels like 'THE ICY NORTH (YAHOO, WINDOWS LIVE)', 'SPACE', 'NOOB SEA', 'GULF OF...', 'SEA OF CULTURE', 'OCEAN OF...', 'PIZZO', 'THE WIKIPEDIA PROJECT', 'IRC ISLES', and 'PIPELAGO'. A pirate ship is visible in the bottom right corner.

Чтобы найти пиратский клад,
надо пройти от старого **7** дуба **а**
шагов на север **8** потом **В** шагов
- на юг, потом еще **С** шагов - на
запад. Сколько всего шагов
нужно пройти, чтобы найти
клад?

Ключ: общее количество шагов

Вы справились с
самым сложным
испытанием!
Но посмотрим,
справитесь ли вы
вот с этим?





Испытание 5

Кто самый смелый?

5 дм = _____ см

10 см = _____ дм

35 см = _____ дм _____ см

1 см = _____ мм

15 мм = _____ см _____ мм

10 дм = _____ м

YO HO HO
YO HO HO



Ключ: ответ последнего выражения



Вы нашли все 5
ключей. Вы
готовы к
созданию
задачника.