


Проверочная работа «История России 16 век»

Назовите имя правителей, изображенных на картинах




Назовите имя правителей, изображенных на картинах



Иван III (Великий)
(Грозный)
(1462-1505 гг.)



Василий III
(1505-1533 гг.)



Иван IV
(1533-1584 гг.)

Расположите события в хронологической последовательности

(не называя конкретных дат)

1. Введение единых мер веса, длины и денежная реформа
2. Путешествие Афанасия Никитина
3. Созыв первого Земского собора
4. Судебник Ивана III
5. Взятие Смоленска
6. Боярское правление
7. Поход Ермака в Сибирь
8. Завершение перестройки московского Кремля, строительство Архангельского собора
9. Ливонская война

Расположите события в хронологической последовательности

- (не называя конкретных дат)
2. Путешествие Афанасия Никитина – 1468-1474гг.
 4. Судебник Ивана III – 1497г.
 8. Завершение перестройки московского Кремля, строительство Архангельского собора – 1508г.
 5. Взятие Смоленска - 1514
 1. Введение единых мер веса, длины и денежная реформа – 1535-1538 г.
 6. Боярское правление (1538-1548)
 3. Созыв первого Земского собора (1549)
 9. Ливонская война (1558-1583)
 7. Поход Ермака в Сибирь -1581г.

ОТВЕТ:

**1. Венчание на царство
Ивана IV состоялось**

- а) 16 января 1533г.
- б) 16 января 1537г.
- в) 16 января 1547г.
- г) 16 января 1578г.

**1. Венчание на царство
Ивана IV состоялось
в) 16 января 1547г.**



II. Заполните пропуски в тексте « Формирование единых государств в Европе и России» используя данные ниже подсказки.

Формирование единых государств в Западной Европе и России имело как общие черты, так и различия. Одновременно с созданием (____) шел процесс укрепления абсолютной (____) власти. В России также происходило постепенное формирование (____) – национальной формы абсолютизма, при которой монархическая власть не была ограничена выборным (____) органом и опиралась лишь на приближенных великого (____), образующих аппарат управления единым государством.

Подсказки:

- 1.Единые государства
- 2.княжеской
- 3.монархической
- 4.самодержавия
- 5.царь
- 6.княжества
- 7.царская
- 8.представительный
- 9.князь
- 10.абсолютизм

II. Заполните пропуски в тексте « Формирование единых государств в Европе и России» используя данные ниже подсказки.

Формирование единых государств в Западной Европе и России имело как общие черты, так и различия. Одновременно с созданием (**ЕДИНЫХ ГОСУДАРСТВ**) шел процесс укрепления абсолютной (**МОНАРХИЧЕСКОЙ**) власти. В России также происходило постепенное формирование (**САМОДЕРЖАВИЯ**) – национальной формы абсолютизма, при которой монархическая власть не была ограничена выборным (**ПРЕДСТАВИТЕЛЬНЫМ**) органом и опиралась лишь на приближенных великого (**КНЯЗЯ**), образующих аппарат управления единым государством.

Подсказки:

- 1.Единые государства
- 2.княжеской
- 3.монархической
- 4.самодержавия
- 5.царь
- 6.княжества
- 7.царская
- 8.представительный
- 9.князь
- 10.абсолютизм

II. Заполните пропуски в тексте « Формирование единых государств в Европе и России» используя данные ниже подсказки.


ОТВЕТ:

**ЕДИНЫХ ГОСУДАРСТВ, МОНАРХИЧЕСКОЙ, САМОДЕРЖАВИЯ,
ПРЕДСТАВИТЕЛЬНЫМ, КНЯЗЯ .**


ИЛИ:

1, 3, 4, 8, 9

Что изображено на картине
Рябушкина?



Заседание Боярской Думы



Назовите положения, характеризующие правление Ивана III:

1. Формирование самодержавной власти царя
2. Начало закрепощения крестьянства
3. Принятие титула государя всея Руси
4. Введение опричнины
5. Создание поместной системы
6. Формирование приказов
7. Завершение объединения русских земель вокруг
Москвы

**Назовите положения, характеризующие правление
Ивана III:**

2. Начало закрепощения крестьянства

3. Принятие титула государя всея Руси

7. Завершение объединения русских земель вокруг
Москвы

ОТВЕТ:

2,3,7

3. Войско, созданное в правление Ивана Грозного

- а) рекрутское
- б) драгунское
- в) гусарское
- г) стрелецкое

3. Войско, созданное в правление Ивана Грозного г) стрелецкое



Установите соответствие между датой и событием

Дата	
А) неудачный поход на Крымское ханство	1) 1581г. 2) 1556г.
Б) Ливонская война	3) 1558-1583гг.
В) присоединение Астраханского ханства	4) 1559г. 5) 1582г.
Г) присоединение Казанского ханства	6) 1552г.
Д) Ям-Запольский мир с Польшей	
Е) начало похода Ермака в Сибирь	

Установите соответствие между датой и событием

Дата	
<p>А) неудачный поход на Крымское ханство-4) 1559г.</p> <p>Б) Ливонская война - 3) 1558-1583гг.</p> <p>В) присоединение Астраханского ханства2) 1556г.</p> <p>Г) присоединение Казанского ханства 6) 1552г.</p> <p>Д) Ям-Запольский мир с Польшей - 5) 1582г.</p> <p>Е) начало похода Ермака в Сибирь 1) 1581г.</p>	

Установите соответствие между датой и событием

А	Б	В	Г	Д	Е
4	3	2	6	5	1

2. Современниками Ивана Грозного были

- а) Елена Глинская, Стефан Баторий, хан Кучум
- б) Борис Годунов, патриарх Филарет
- в) протопоп Аввакум, патриарх Никон
- г) хан Батый, литовский князь Миндовг

2. Современниками Ивана Грозного были

а) Елена Глинская, Стефан Баторий, хан Кучум



Определите события и явления, произошедшие в период правления Василия III

1. Период боярского правления
2. Принятие решения Польского сейма об объявлении войны России в союзе с крымским ханом
3. Формирование приказной системы
4. Введение кормлений
5. Завершение объединения земель вокруг Москвы
6. Присоединение Казани
7. Появление Боярской думы с законодательными функциями
8. Создание поместной системы

Определите события и явления, произошедшие в период правления Василия III

- 2. Принятие решения Польского сейма об объявлении войны России в союзе с крымским ханом
- 3. Формирование приказной системы
- 4. Введение кормлений
- 8. Создание поместной системы

ОТВЕТ:

2,3,4,8

II. Заполните пропуски в тексте « Начало царствования Ивана IV» используя данные ниже подсказки.

В отличие от опекунов не принимавших участия в воспитании юного великого князя, митрополит Макарий старался внушить молодому Ивану мысль об особом предназначении правителя- быть наместником Бога на земле. По его замыслу подросший Иван IV должен был принять титул (____), чтобы с одной стороны возвыситься над боярами и (____), а с другой- стать вровень с великими (____) – императором Священной Римской империи и турецким султаном. Морозным днём 16 января (____) года в Успенском соборе Московского Кремля был совершен обряд (____).

Подсказки:

1. 1547 г.,
2. 1549 г.
3. Сильвестр
4. Боярская Дума
5. Избранная рада
6. Венчание на царство
7. Князь
8. Монарх
9. Шапка Мономаха
10. Царь

II. Заполните пропуски в тексте « Начало царствования Ивана IV» используя данные ниже подсказки.

В отличие от опекунов не принимавших участия в воспитании юного великого князя, митрополит Макарий старался внушить молодому Ивану мысль об особом предназначении правителя- быть наместником Бога на земле. По его замыслу подросший Иван IV должен был принять титул (*ЦАРЯ*), чтобы одной стороны возвыситься над боярами и (*КНЯЗЬЯМИ*), а с другой- стать вровень с великими (*МОНАРХАМИ*) – императором Священной Римской империи и турецким султаном. Морозным днём 16 января (*1547*) года в Успенском соборе Московского Кремля был совершен обряд (*ВЕНЧАНИЯ НА ЦАРСТВО*).

Подсказки:

1. 1547 г.,
2. 1549 г.
3. Сильвестр
4. Боярская Дума
5. Избранная рада
6. Венчание на царство
7. Князь
8. Монарх
9. Шапка Мономаха
10. Царь

**II. Заполните пропуски в тексте « Начало царствования Ивана IV»
используя данные ниже подсказки.**

ОТВЕТ:

ЦАРЯ, КНЯЗЬЯМИ, МОНАРХАМИ, 1547, ВЕНЧАНИЯ НА ЦАРСТВО

ИЛИ:

1,6,7,8,10

4. Круг приближенных и доверенных лиц царя

Ивана IV


- а) Народное Вече
- б) Избранная Рада
- в) Государственная Дума
- г) Синод

4. Круг приближенных и доверенных лиц царя Ивана IV

б) Избранная Рада



**Князь А.
Курбский**



Адашев А.Ф.



**Священник
Сильвестр**



Митрополит Макарий

Даты Ливонской войны

а) 1565-1572

б) 1558-1583

в) 1530-1533

г) 1538-1547

Даты Ливонской войны

б) 1558-1583



Установите соответствие между датой и событием

Дата	
<p>А) смерть матери Ивана IV Елены Глинской</p> <p>Б) венчание Ивана IV на царство</p> <p>В) 1-ый Земский Собор</p> <p>Г) принятие нового Судебника</p> <p>Д) принятие Уложения о службе</p> <p>Е) проведение опричнины</p>	<p>1) 16 января 1547г.</p> <p>2) 1550г.</p> <p>3) 1549г.</p> <p>4) 1556г.</p> <p>5) 1538г.</p> <p>6) 1565-1572гг.</p>

8. Установите соответствие между датой и событием

Дата

А) смерть матери Ивана IV Елены Глинской -5) 1538г.

Б) венчание Ивана IV на царство- 1) 16 января 1547г.

В) 1-ый Земский Собор -3) 1549г.

Г) принятие нового Судебника -2) 1550г.

Д) принятие Уложения о службе -4) 1556г.

Е) проведение опричнины-6) 1565-1572гг.

Установите соответствие между датой и событием

А	Б	В	Г	Д	Е
5	1	3	2	4	6

9. Назовите положения, являющиеся целями опричнины

- 1) установление неограниченной власти царя
- 2) повысить роль Народного вече
- 3) усилить налоговый гнёт
- 4) борьба с феодальной аристократией
(самостоятельностью бояр)
- 5) ускорить социально-экономическое развитие страны
- 6) ликвидация остатков феодальной раздробленности
(удельных княжений, Новгородской вольницы)

9. Назовите положения, являющиеся целями
опричнины

- 1) установление неограниченной власти царя
- 4) борьба с феодальной аристократией
(самостоятельностью бояр)
- 6) ликвидация остатков феодальной раздробленности
(удельных княжений, Новгородской вольницы)

ОТВЕТ: 1, 4, 6