




ЗАДАНИЯ ПО МАТЕМАТИКЕ ДЛЯ УЧЕНИКОВ 1 КЛАССА

1. СДЕЛАЙТЕ ПРИМЕРЫ ПО ОБРАЗЦУ:

- Образец: $5+(5+7)=(5+5)+7=10+7=17$
- А) $3+(17+4)$
- Б) $11+(9+3)$
- В) $17+(3+9)$
- Г) $47+(3+9)$
- Д) $52+(8+5)$



1. СДЕЛАЙТЕ ПРИМЕРЫ ПО ОБРАЗЦУ:

Образец: $15 - (5 + 3) = (15 - 5) - 3 = 10 - 3 = 7$

А) $12 - (2 + 4)$

Б) $25 - (5 + 9)$

В) $17 - (2 + 9)$


Г) $16 - (6 + 3)$

Д) $19 - (9 + 9)$






3. ЗАПИШИ ПО-ДРУГОМУ. СДЕЛАЙ ПО ОБРАЗЦУ.


- Образец: $3+3+5+3+3=(3*4)+5=12+5=17$
- А) $2+2+2+7$
- Б) $4+4+8+4+4$
- В) $7+7+1$
- Г) $5+5+3$
- Д) $7+2+7$



4. СКОЛЬКО ВСЕГО УТОК ВЫ ВИДИТЕ? КАК ИХ
БЫСТРЕЕ СОСЧИТАТЬ?



5. МАМА КУПИЛА ШКАФ С ШЕСТЬЮ ПОЛКАМИ, СКОЛЬКО КНИГ В ШКАФУ ЕСЛИ НА КАЖДОЙ ПОЛКЕ СТОИТ ПО ПЯТЬ КНИГ? СКАЖИТЕ КАК РЕШИТЬ ЭТУ ЗАДАЧУ ДВУМЯ СПОСОБАМИ?



6. БАБУШКА ПРОДАВАЛА НА РЫНКЕ ГРИБЫ. В ТРЕХ ВЕДРАХ ОСТАЛОСЬ ПО ДВА КИЛОГРАММА ЛИСИЧЕК, В ДВУХ ПО КИЛОГРАММУ СЫРОЕЖЕК. СКОЛЬКО ГРИБОВ ОСТАЛОСЬ У БАБУШКИ? КАКИМИ СПОСОБАМИ МОЖНО РЕШИТЬ ЗАДАЧУ?



7. В конкурсе участвовало пять команд. В каждой команде было четыре мальчика и пять девочек. Сколько всего человек принимало участие в конкурсе? В решении используй умножение.



8. В магазине было 25 упаковок конфет. Из них 7 продали, а 4 украли. Сколько упаковок конфет осталось в магазине? Реши двумя способами.



9. В классе 19 человек. На уроке математики 6 человек ушли на прививку, а через десять минут ушли еще 4 человека. Сколько человек ушло на прививку? Сколько человек осталось в классе?



10. Мальчик набрал 6 литров ягод, на следующий день набрал еще 2 литра. Сколько ягод у мальчика осталось, если он просыпал 3 литра лесу?



11. На прилавок привезли 10 килограмм яблок, затем еще 5 килограмм яблок другого сорта. Из них 7 килограмм продали, а 3 килограмма испортились. Сколько ягод осталось на прилавке? Решите разными способами.



12. ЗАПИШИ С ПОМОЩЬЮ ВЫРАЖЕНИЙ ПО ОБРАЗЦУ:

- Образец: семь раз по восемь – $7*8$
- А) пять раз по девять
- Б) три раза по пять
- В) девять раз по четыре
- Г) шесть раз по два
- Д) три раза по пять



13. Сколько будет монет, если две монеты потеряются? Если еще 6 монет тебе подарит бабушка? Если мама увеличит количество твоих монет в два раза?



14. РЕШИ ПО ОБРАЗЦУ:

- Образец: $2*(5*3)=(2*5)*3=10*3=30$
- А) $4*(5*3)$
- Б) $5*(2*7)$
- В) $5*(6*2)$

