



# Обобщение темы:



Махотина В.В.



# Ход работы:




Махотина В.В.



# 1. Слово «география» в переводе с греческого означает:





Махотина В. В.




# 2. Первую книгу по географии написал:



Махотин В.В.



# 3. Сколько плаваний к берегам Африки совершил Генрих-мореоплавататель:



Махотина Е.В.



# 4. Первое кругосветное путешествие совершила экспедиция:


--	--	--



Махотина В.В.




# 5. Самая большая планета Солнечной системы:



Махотина Е.В.



# 6. Угол наклона земной оси составляет:



Махотина В.В.





- 7. Кто первым высказал предположение о шарообразности Земли:
  - А)
  - Пифагор
  - Б) Аристотель
  - В)
  - НЬЮТОН



Махотина В.В.



- 8. Что является моделью Земли:
  - А) план местности
  - Б) географическая карта
  - В) глобус



Махотина В.В.



- 9. Расстояние , выраженное в градусах от точки до экватора-
  - А) географическая долгота
  - Б) географическая широта
  - В)
  - меридиан



Махотина В.В.



- 10. Расстояние, выраженное в градусах от точки до начального меридиана-
  - А) параллель
  - Б) географическая широта
  - В) географическая долгота



Махотина В.В.



- Какие материки расположены в северном полушарии:
  - 1. Африка, Северная Америка
  - 2. Северная Америка, Евразия
  - 3. Австралия, Антарктида



- Перечислите материки, расположенные в южном полушарии:
  - 1. Австралия, Антарктида
  - 2. Южная Америка, Австралия
  - 3. Африка. Евразия



- Найдите материки, которые пересекает начальный меридиан:
  - 1. Северная Америка , Южная Америка
  - 2. Евразия, Австралия
  - 3. Антарктида, Африка, Евразия



- По физической карте России определите: что расположено севернее:
  - 1. г. Москва
  - 2. г. Санкт-Петербург
  - 3. г. Сочи





- Определите какой населённый пункт расположен восточнее:
  - 1. г. Москва
  - 2. г. Екатеринбург
  - 3. г. Якутск



3



- В каком направлении от озера Байкал расположено Ладожское озеро:
  - 1. север
  - 2. запад
  - 3. северо-запад



- Определите географические координаты:
  - 1. Гора Эверест
  - 2. Вулкан Везувий
  - 3. Гора Мак-Кинли



- 1.
- 28СШ
- 78 ВД
- 2.
- 41СШ
- 16ВД
- 3.
- 65СШ
- 150ЗД



• Определите географические объекты по заданным координатам:

• 1.

• 56сш

• 38вд

• 2.

• 34юш

• 70зд

• 3.

• 34юш

• 150вд



- 1. г.Москва
- 2.
- г.Сантьяго
- 3.
- г.Канберра

