




ХОЗЯЙСТВО СЕВЕРО-ЗАПАДА



ЦЕЛЬ: знакомство с особенностями развития хозяйства Северо – Западного экономического района.

- ЗАДАЧИ:**
1. определить отрасли специализации промышленности;
 2. определить отрасли специализации сельского хозяйства;
 3. Определить роль Санкт-Петербургского морского порта для района и РФ.

ОТВЕТЬТЕ НА ВОПРОСЫ И

сделайте вывод:

- В состав Северо – Запада входит 4 области и один город федерального значения.
- Северо-западный район имеет приморское положение.
- Северо-запад расположен в зоне широколиственных лесов.
- Район расположен на пологой болотистой равнине.
- Район обеспечен водными ресурсами.
- Район обеспечен минеральными ресурсами.
- Во времена Российской империи промышленность Санкт-Петербурга ориентировалась на привозное сырье.
- Основная масса населения сосредоточена в Санкт-Петербурге.



РАБОТА ПО КАРТАМ АТЛАСА:

- По экономической карте определите ресурсную базу экономики Северо - Запада (минеральные ресурсы и другие виды ресурсов).
- Определите отрасли специализации промышленности (Санкт-Петербург, Новгород, Псков).
- Почему промышленность Санкт-Петербурга привязана к морскому побережью?
- Откуда Санкт-Петербург получает энергию и металл?



Отрасли специализации с/х Северо-Запада:

Отрасли специализации сельского хозяйства	Факторы, определяющие специализацию
1. 2.	

Работа по карте (с.123 учебника):

- Определите отрасли специализации промышленности Калининградской области.
- Определите факторы, способствующие такой специализации.
- Определите отрасли специализации сельского хозяйства Калининградской области.
- Какая существует особенность в развитии хозяйства Калининградской области?



ОТРАСЛЕВАЯ СТРУКТУРА ПРОМЫШЛЕННОСТИ СЕВЕРО-ЗАПАДА (%)

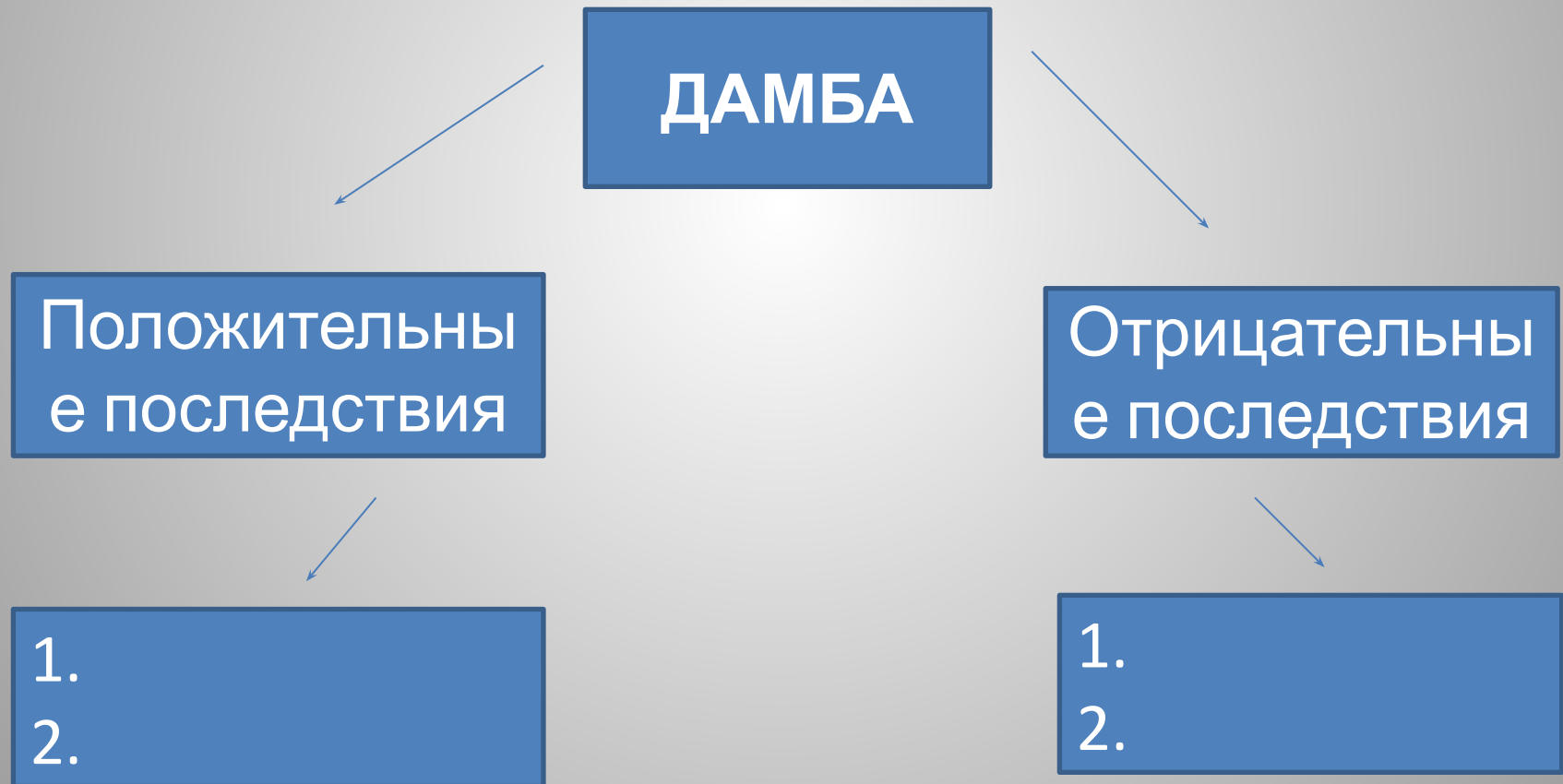
Определите отрасли, которые являются «лицом»
района

Электроэнергетика	Топливная	Черная металлургия	Цветная металлургия	Химическая	Машиностроение	Лесная	Легкая	Пищевая	Прочие отрасли
12,1	7,3	2,4	1,5	6,8	21,9	10,6	2,1	27,8	7,5

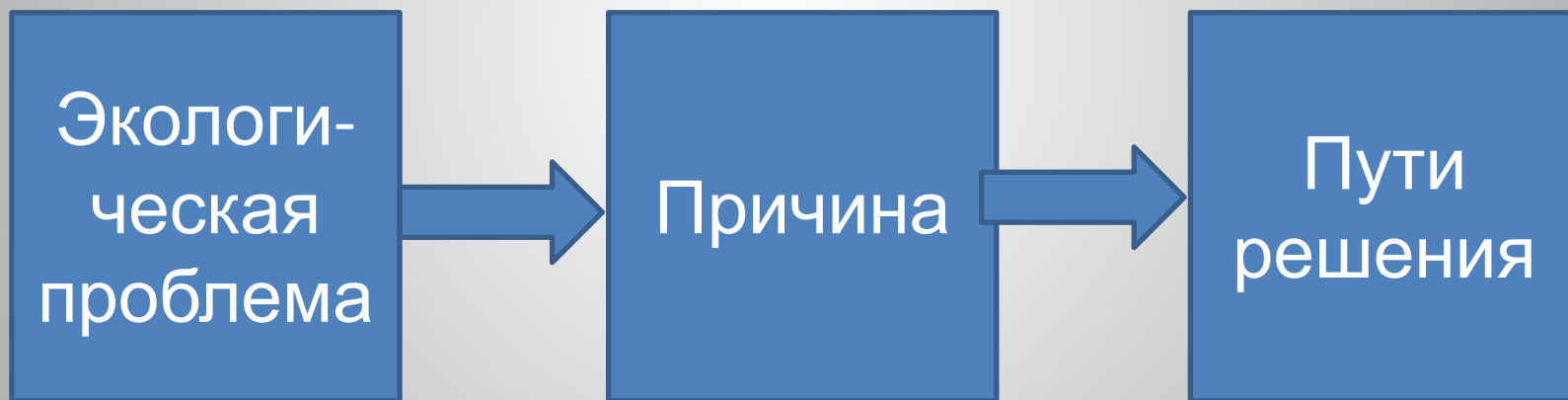
- Огромную роль в хозяйстве не только района, но и всей России играет Санкт-Петербургский морской порт. Его значение особенно возросло после распада СССР. Почему?
- Как скажется создание новых портов на работе С.-Петербургского порта, а также других портов России?



Для решения проблемы наводнений в Финском заливе была построена дамба. Отрадите результаты строительства дамбы на схеме:



Составьте все возможные схемы,
отражающие **экологическую ситуацию** в
регионе:





П. 27, вопросы устно