
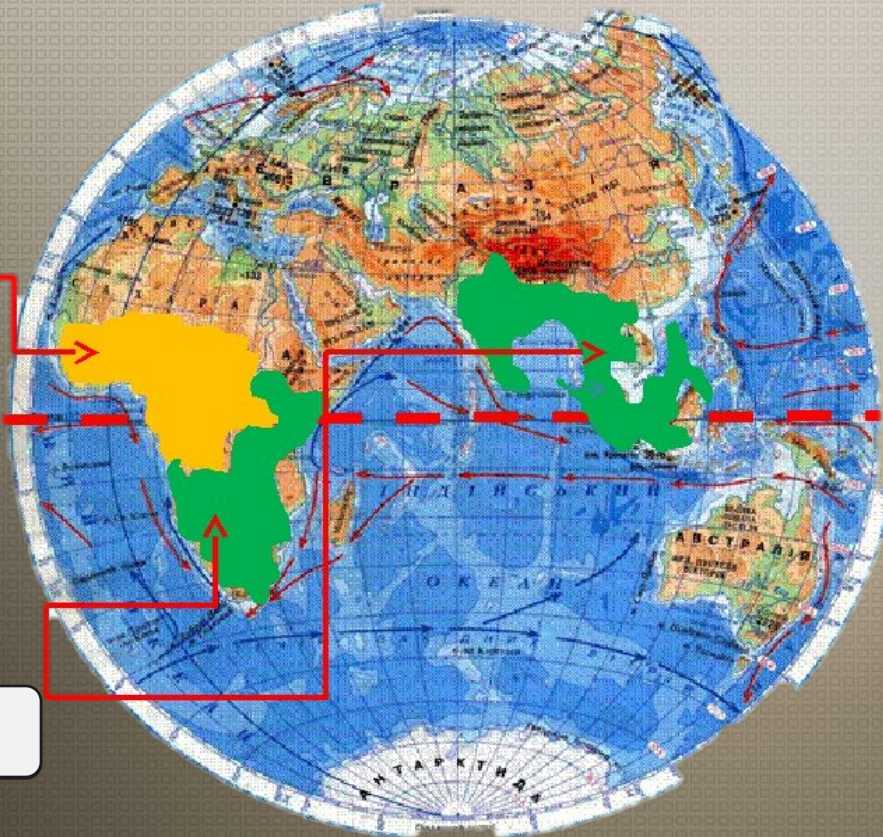


Окружающий мир 1 класс
УМК «Школа России»



Тренировочные задания
по теме
«Где живут слоны?»

1. Определите название для указанных линий



А.

Б.



В.

А. Саванна

Б. Экватор

В. Тропические леса

2. Учительница попросила ребят нарисовать животных саванны и тропического леса. Кто допустил ошибку?



А. Аня нарисовала саванну.

Б. Катя нарисовала тропический лес.



3. Выберите, на каком рисунке показан африканский слон?



А.




Б.

Объясните, по какому признаку удалось их различить?



4. Разделите животных на 2 группы



А.



Б.



В.



Д.



Е.



Г.

1. Саванна

А.

В.

Г.

Д.

2. Тропический лес

Б.

Е.

5. Выберите подходящее название для каждой фотографии



А.



1. В тропических лесах

2. Африканская саванна

Б.



Использованная литература

- Плешаков А. А., Гара Н. Н., Назарова З. Д. Окружающий мир. **1** класс. Тесты. Учебное пособие для общеобразовательных организаций. М.: Просвещение, **2018**.
- Плешаков А. А., Плешаков С. А., Окружающий мир. Проверочные работы. **1** класс. Учебное пособие для общеобразовательных организаций. М.: Просвещение, **2018**.
- Плешаков А. А., Назарова З. Д. Окружающий мир. Тетрадь учебных достижений. **1** класс. Учебное пособие для общеобразовательных организаций. М.: Просвещение, **2018**.