



Климат Северной Америки

1 вариант

- 1. Значительная часть территории Австралии расположена в ... КП.**
А) экваториальном; Б) тропическом;
В) субэкваториальном.
- 2. На большую часть территории Южной Америки влагу приносят:**
А) пассаты; Б) западные ветры умеренных широт; В) муссоны.
- 3. По своим климатическим условиям Южная Америка самый... материк?**
А) влажный; Б) жаркий; В) жаркий и влажный.
- 4. Что является причиной изменения климатических условий по сезонам года в С/Э и С/Т КП:**
А) географическая широта местности;
Б) смена воздушных масс;
В) рельеф местности.
- 5. Восстановите цепочку причинно-следственных связей.**
А) На большей части Австралии расположены пустыни.
Б) Горы задерживают влажные ВМ с океана.
В) Выпадает мало осадков.

2 вариант

- 1. На севере Австралии формируется КП, в котором действуют экваториальная и тропическая ВМ.**
А) экваториальный; Б) тропический;
В) субэкваториальный.
- 2. По своим климатическим условиям Австралия самый... материк?**
А) жаркий; Б) сухой; В) жаркий и сухой.
- 3. На крайний юг Южной Америки влага приносится ВМ с:**
А) Тихого океана;
Б) Атлантического океана;
В) Индийского океана.
- 4. Какая из перечисленных причин не влияет на климат материков:**
А) положение по широте; Б) положение по долготе; В) удаленность от океана.
- 5. Восстановите цепочку причинно-следственных связей.**
А) На большей части Австралии расположены пустыни.
Б) Горы задерживают влажные ВМ с океана.
В) Выпадает мало осадков.

Оцените работу своего соседа

КЛЮЧ

1 вариант

1.Б

2.А

3.А

4.Б

5.В,Б,А

2 вариант

1.В

2.Б

3.Б

4.Б

5.В,Б,А

5 правильных ответов «5»

4 правильных ответа «4»

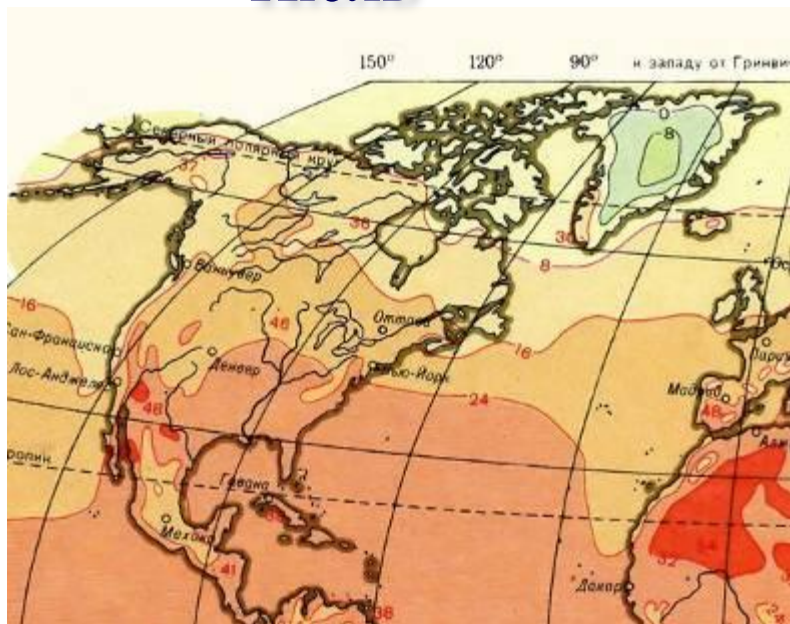
3 правильных ответа «3»

2 и менее правильных ответа «2»

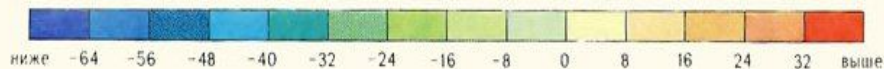
Задание №1

По климатической карте сравните климатические условия двух полуостровов Северной Америки – Калифорнии и Флориды. Назовите общие и отличительные черты климата этих географических объектов.

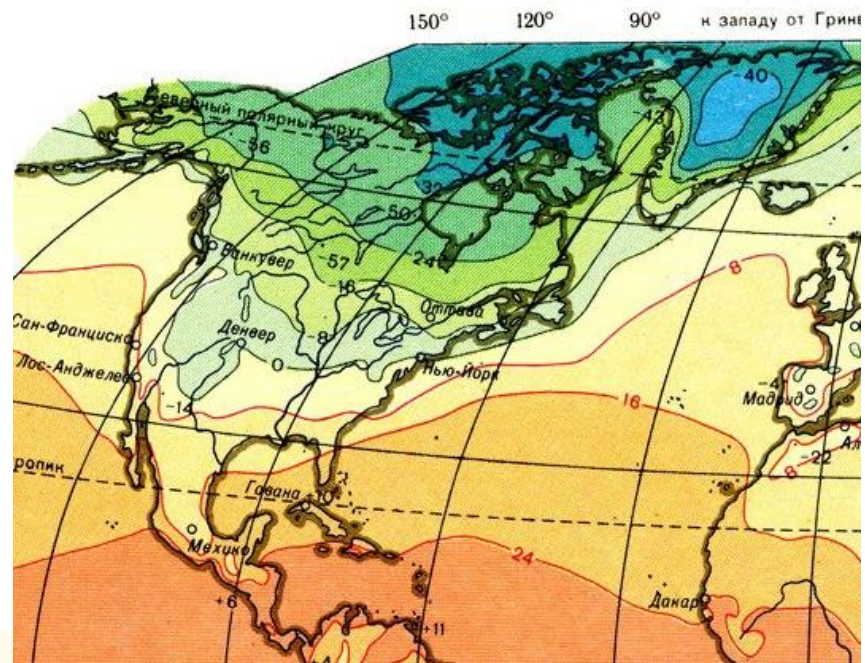
Июль



ТЕМПЕРАТУРА ВОЗДУХА НА УРОВНЕ ЗЕМНОЙ ПОВЕРХНОСТИ В ГРАДУСАХ ЦЕЛЬСИЯ

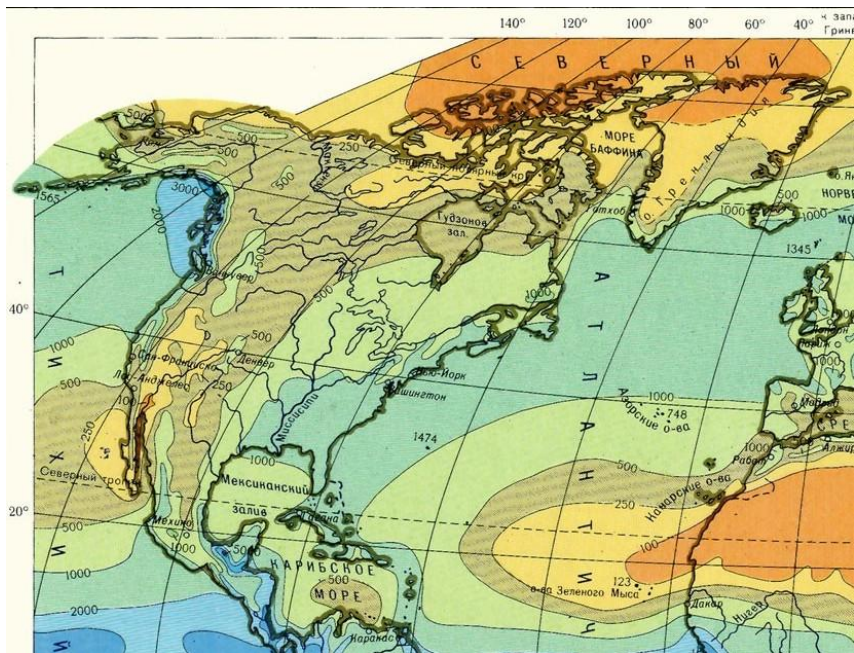


Январь



- 8 — Изотермы выше 0°
- 8 — Изотермы 0° и ниже
- 53 Абсолютная максимальная температура воздуха
- -21 +15 Абсолютная минимальная температура воздуха

Среднегодовое количество осадков



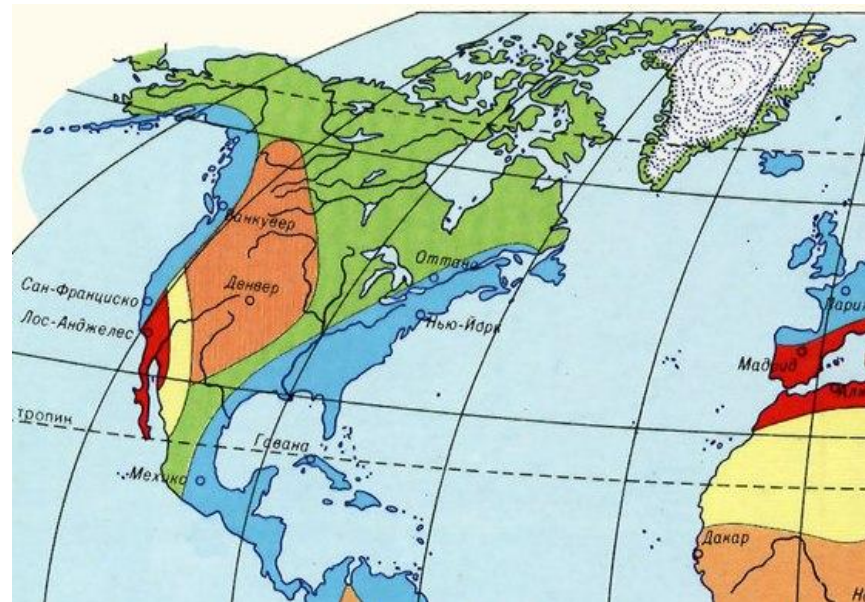
ГОДОВОЕ КОЛИЧЕСТВО ОСАДКОВ В МИЛЛИМЕТРАХ



менее 100 250 500 1000 2000 3000 5000 более

• 1712 Годовое количество осадков на островах

Режим выпадения осадков



ОСАДКИ ВО ВСЕ СЕЗОНЫ

- с равномерным распределением
- с двойным максимумом
- с летним максимумом
- Постоянная засухливость

ПЕРИОДИЧЕСКИЕ ОСАДКИ

Отчетливо выраженный сухой сезон

- с летним максимумом
- с зимним максимумом
- с весенним максимумом

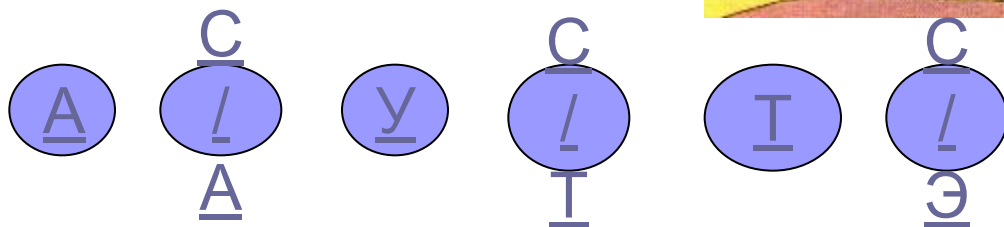
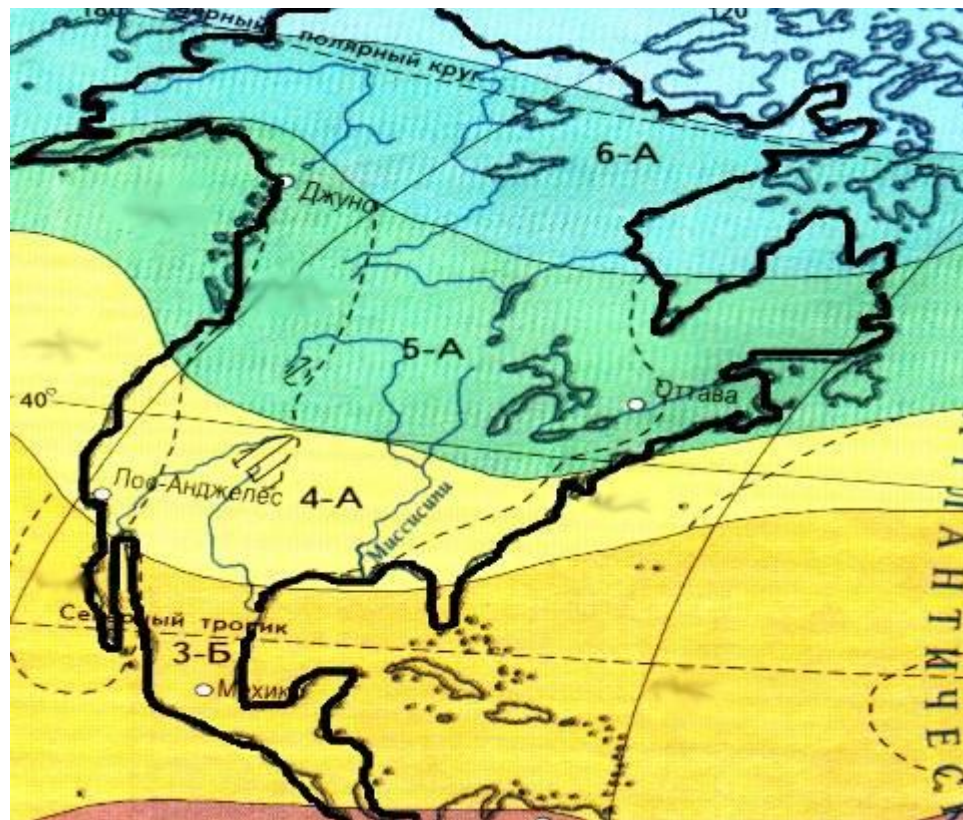
Проблема!



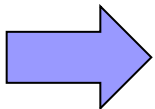
Почему находясь на одной географической широте климатические условия значительно отличаются по температуре воздуха и количеству осадков?

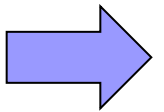
Задание №2 в контурной карте

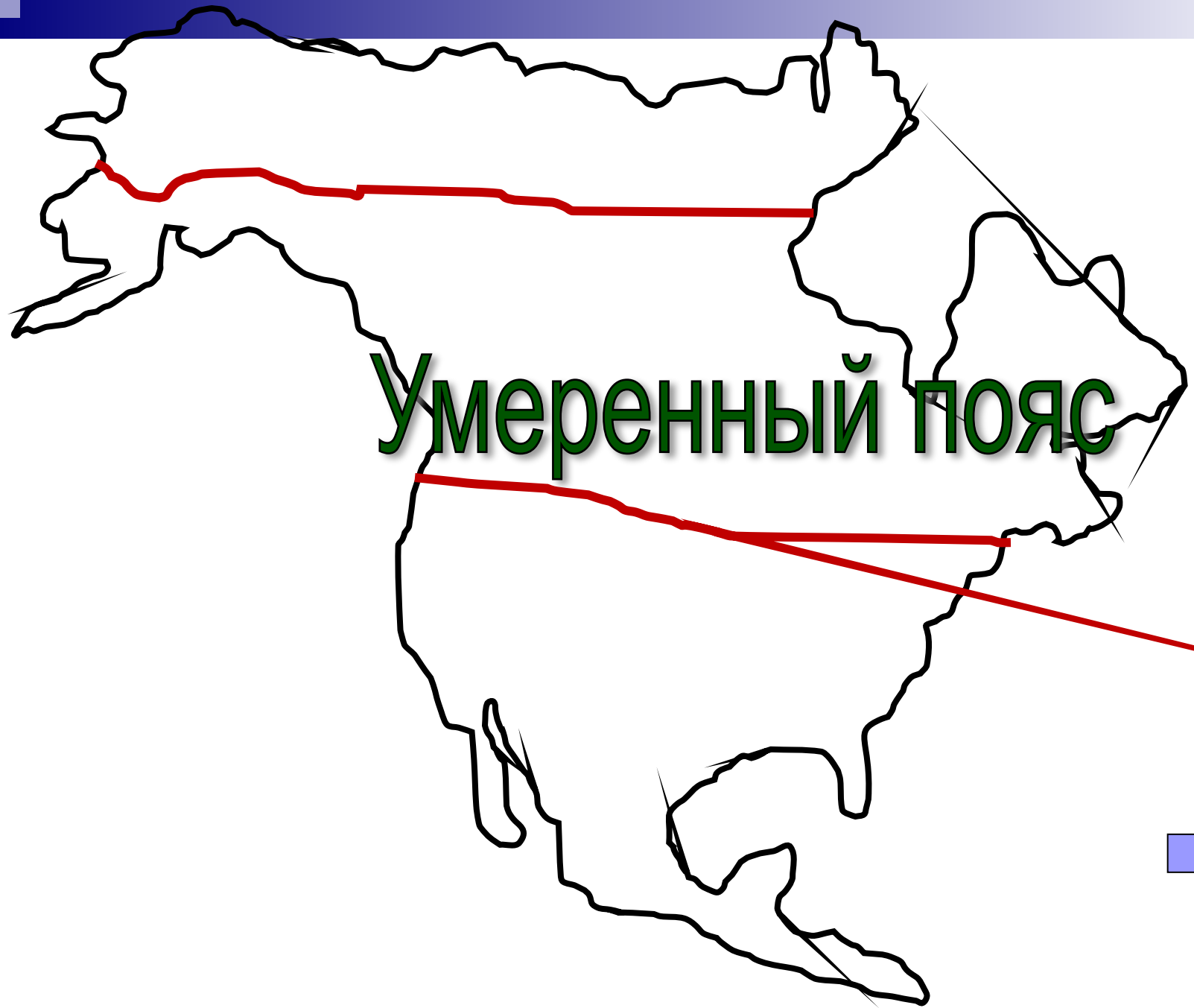
Нанесите на контурную карту Северной Америки, при помощи условных обозначений, климатические пояса, в которых расположен материк.



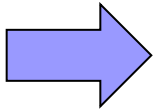
Арктический пояс

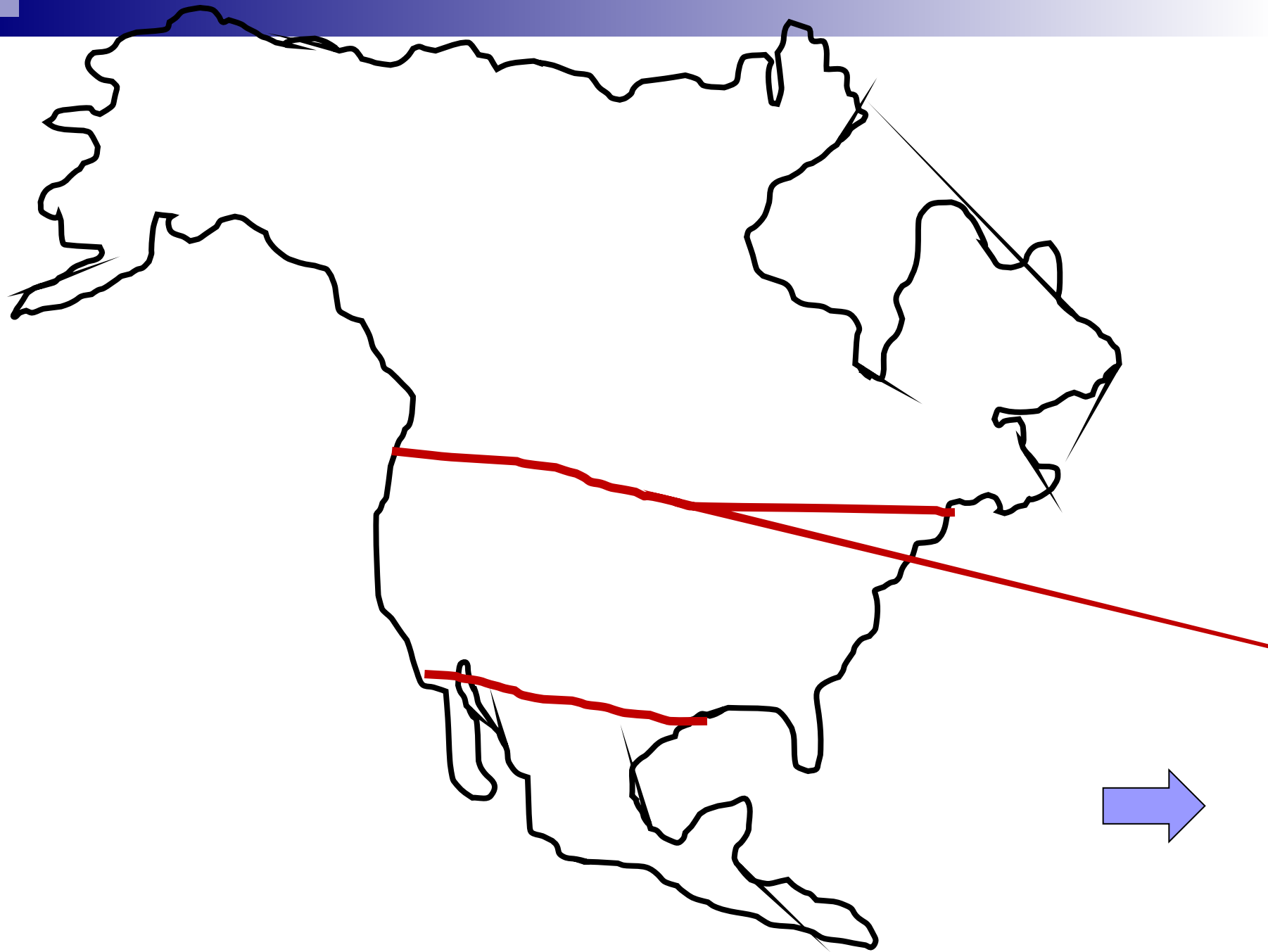


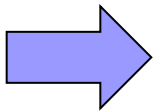




Умеренный пояс

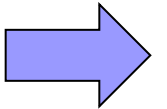








Субэкваториальный пояс



Арктический пояс



Умеренный пояс

Субэкваториальный пояс

Вспомним! Климатообразующие факторы



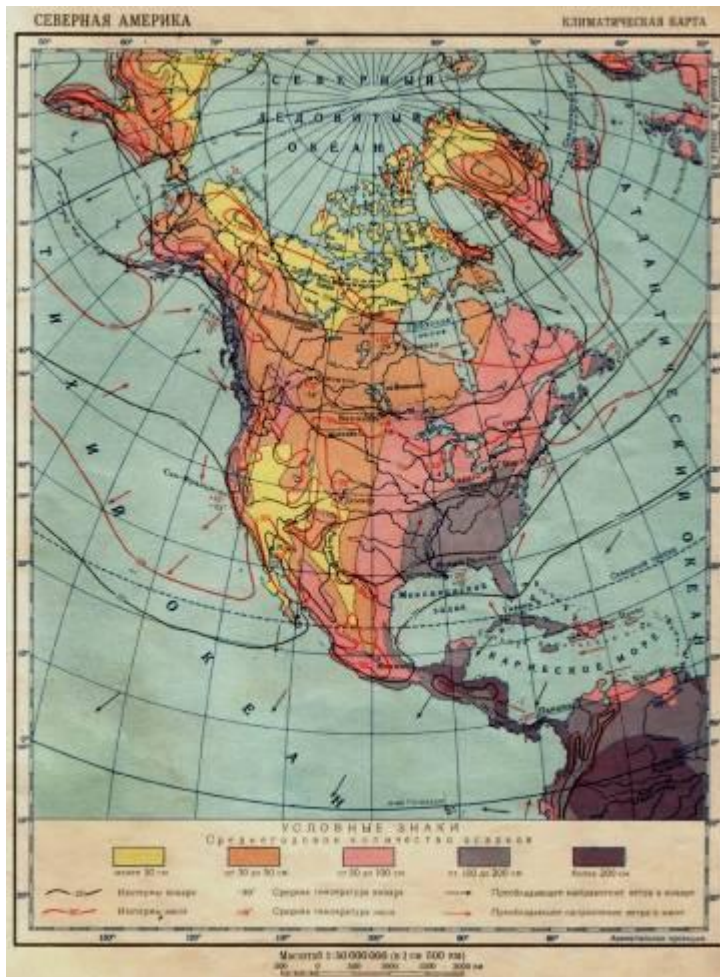
Задание:



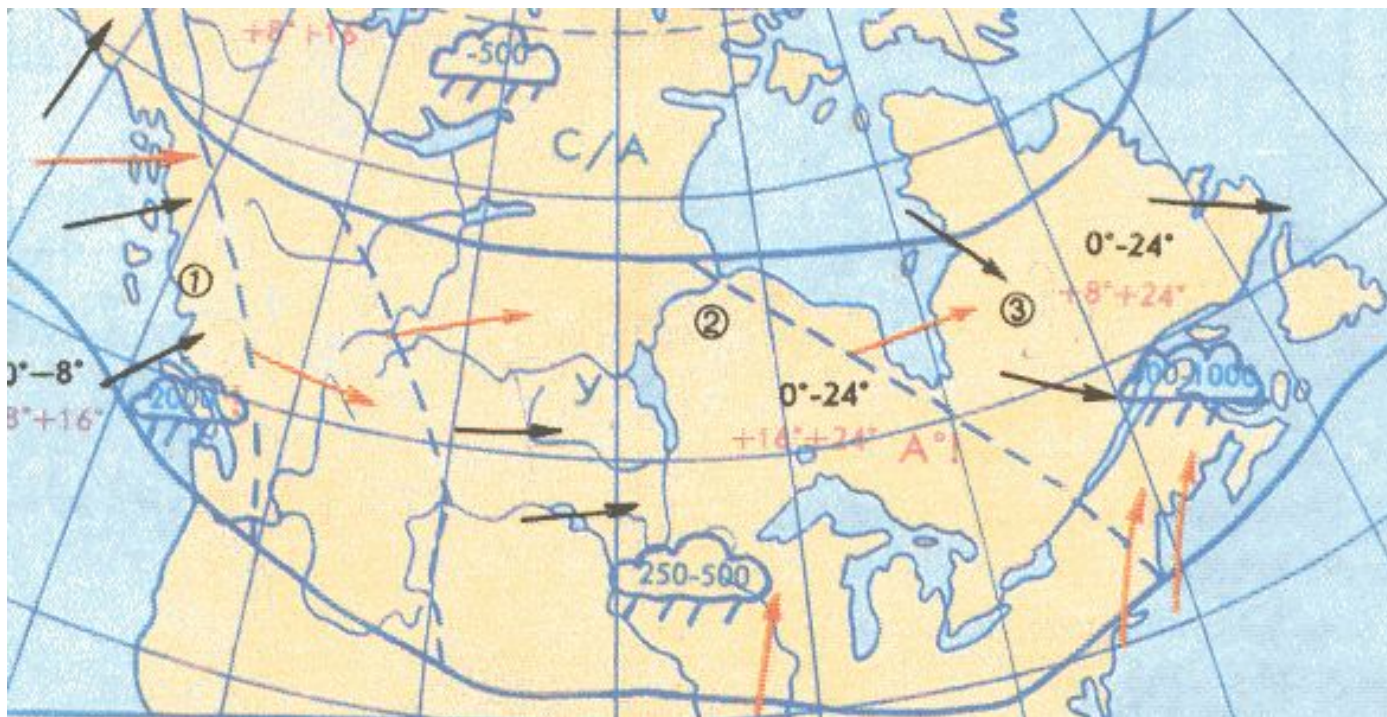
Факторы влияющий на климат Северной Америки



Используя знания о свойствах воздушных масс, закономерностях их перемещения, расскажите об особенностях арктического и субарктического климатических поясов



Умеренный климатический пояс

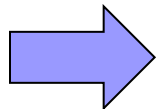
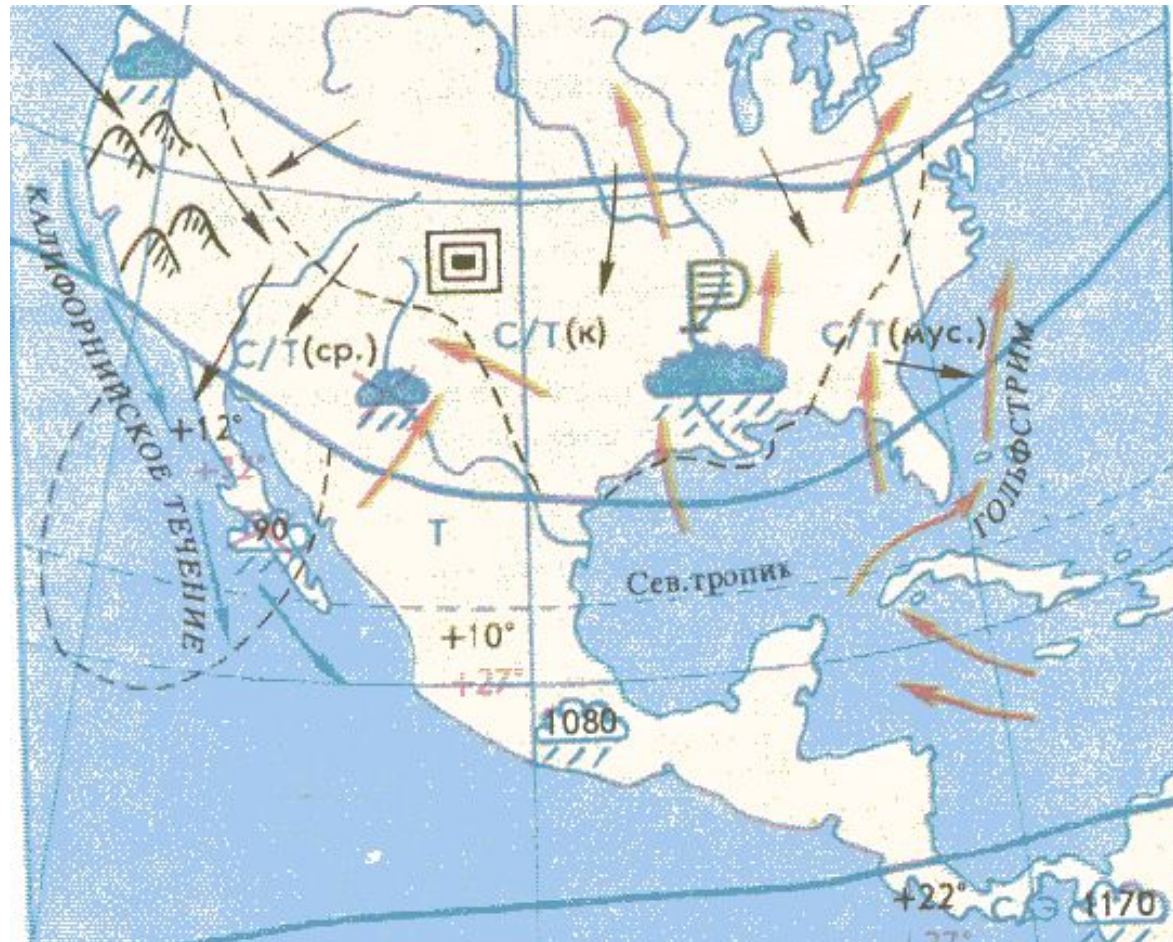


Сравните климат отдельных частей материка, расположенных в одном климатическом поясе, выявите причины различия. Отрадите результаты в таблице.

Практическая работа



Субтропический и тропический климатические пояса

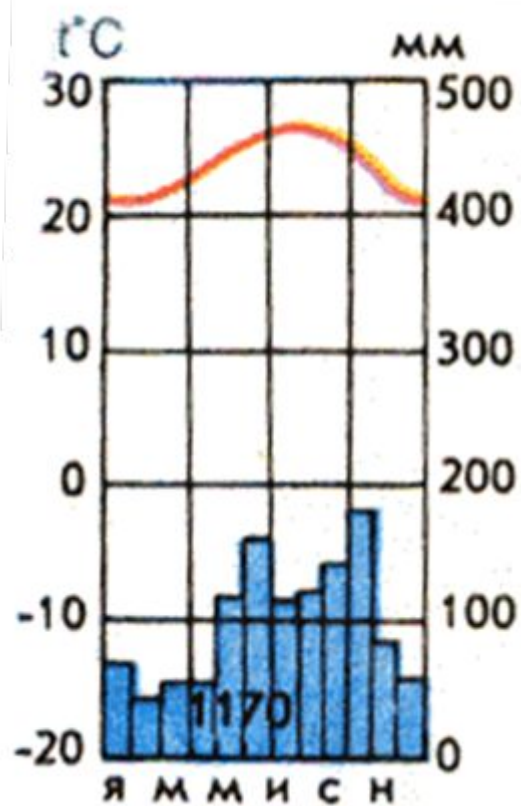


Выводы



Несмотря на одинаковое широтное положение, западная и восточная части материка Северная Америка имеют существенное отличие в климате. Это связано с рельефом, океаническими течениями, направлениями ветров.

Определите тип климата по климатограмме



Природа Северной Америки





Рефлексия

Ребята, выскажитесь одним предложением, выбирая начало фразы:

сегодня я узнал...

было интересно...

было трудно...

я выполнял задания...

я понял, что...

теперь я могу...

я почувствовал, что...

я приобрел...

я научился...

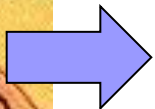
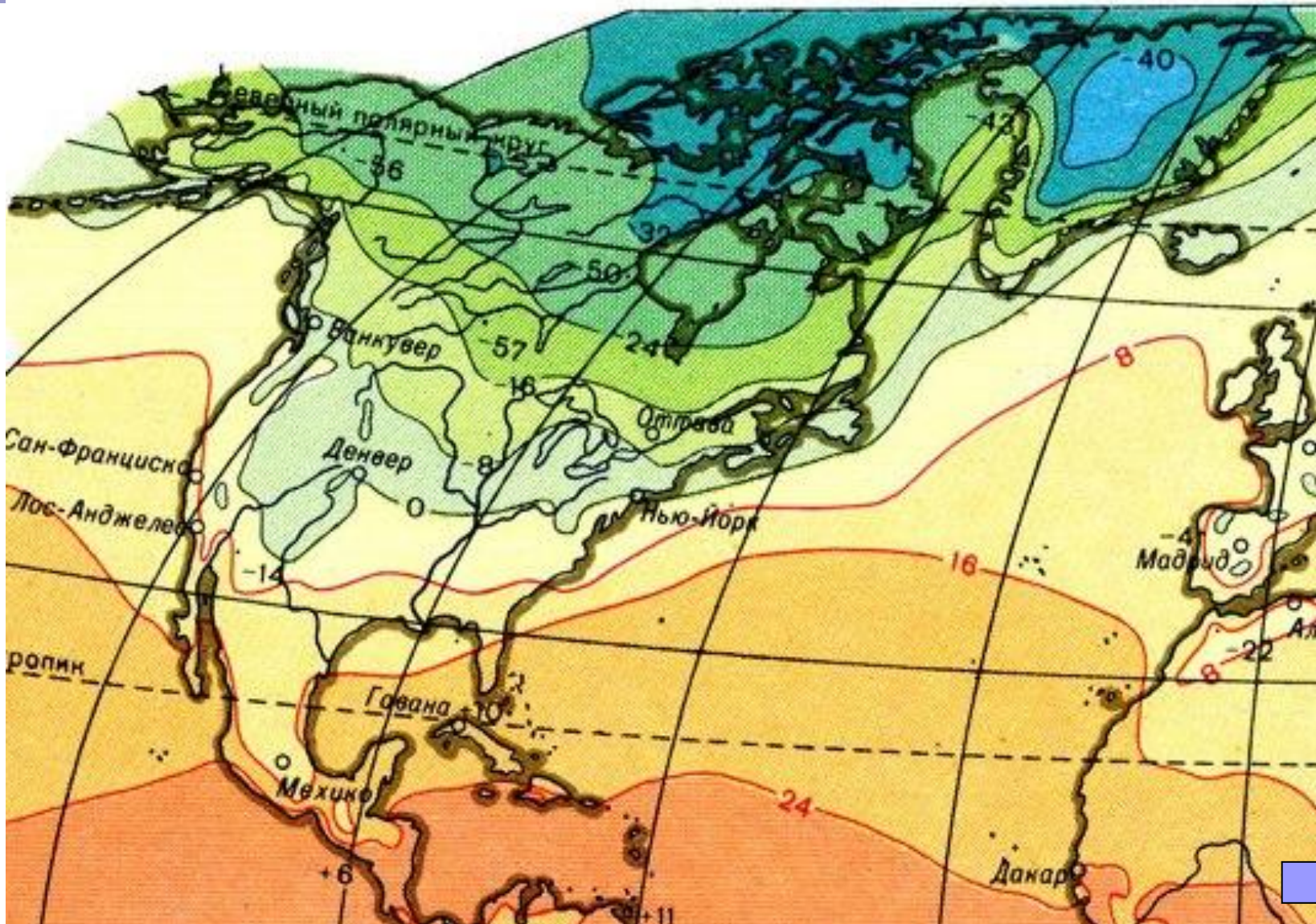
у меня получилось ...

я смог...


я попробую...

урок дал мне для жизни...

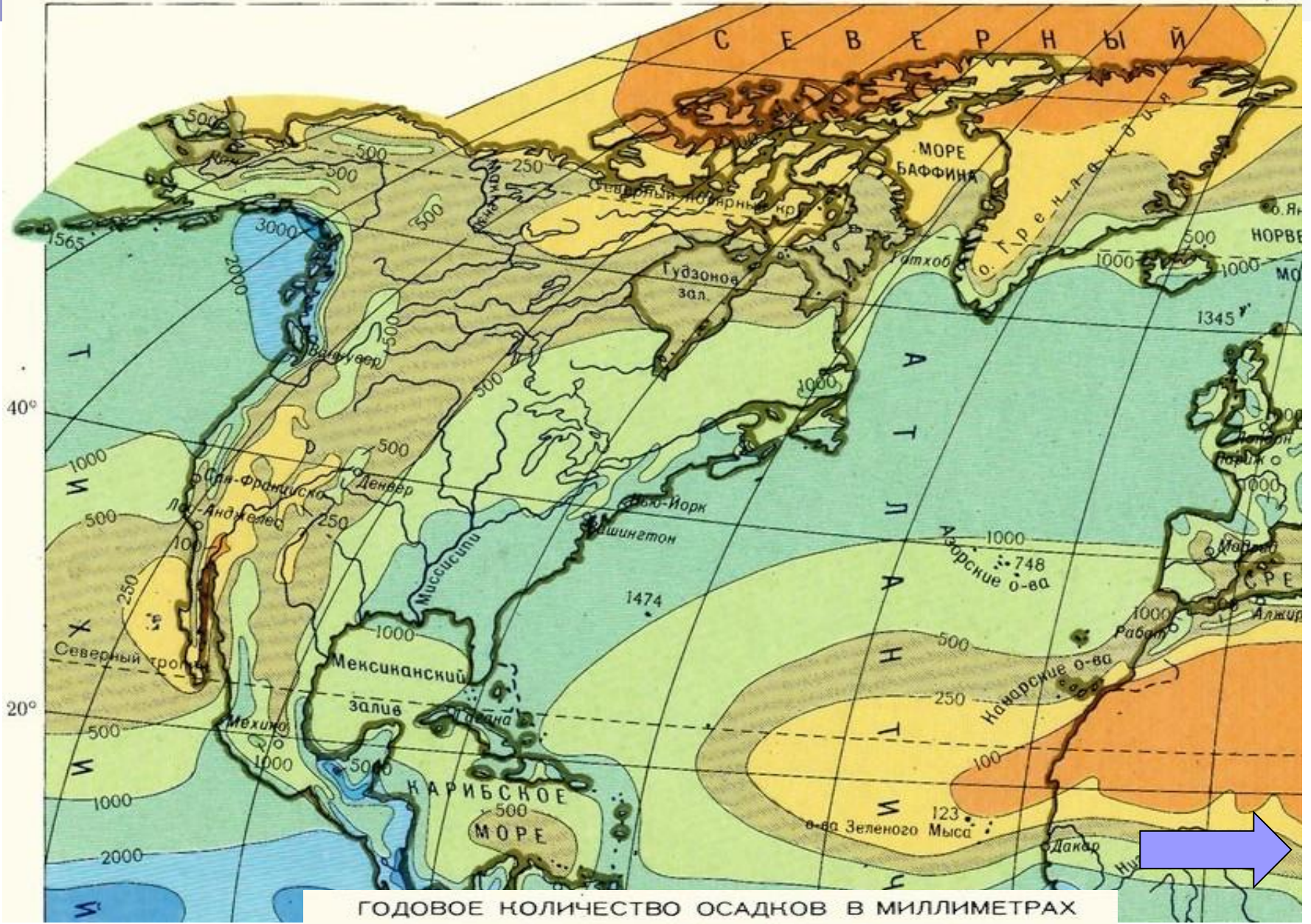




ТЕМПЕРАТУРА ВОЗДУХА НА УРОВНЕ ЗЕМНОЙ ПОВЕРХНОСТИ В ГРАДУСАХ ЦЕЛЬСИЯ

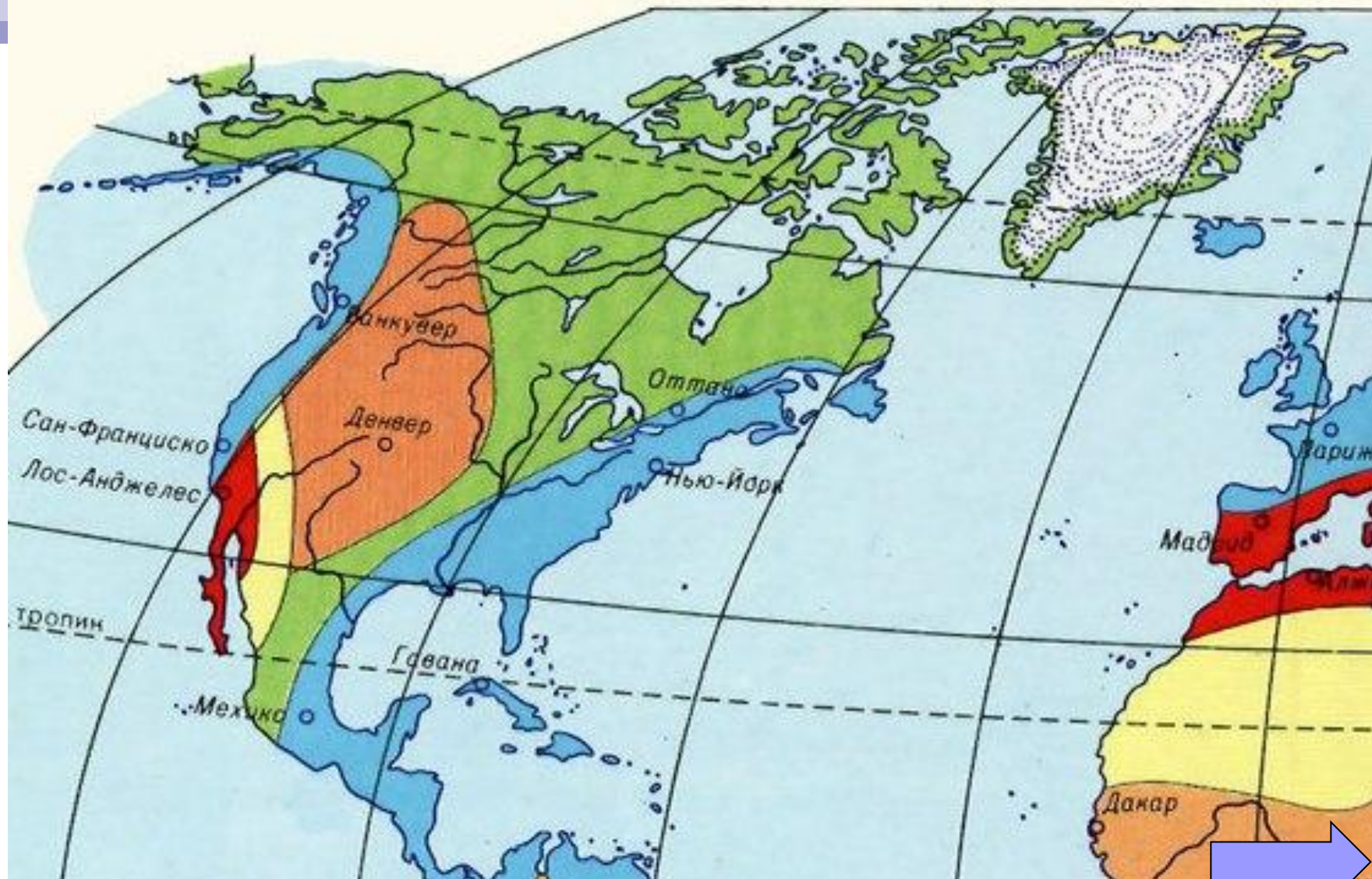


- 8 — Изотермы выше 0°
- 8 — Изотермы 0° и ниже
- +53 Абсолютная максимальная температура воздуха
- 21 +15 Абсолютная минимальная температура воздуха



• 1712 Годовое количество осадков на островах





ОСАДКИ ВО ВСЕ СЕЗОНЬ

- с равномерным распределением
- с двойным максимумом
- с летним максимумом

Постоянная засухливость

ПЕРИОДИЧЕСКИЕ ОСАДКИ

Отчетливо выраженный сухой сезон

- с летним максимумом
- с зимним максимумом
- с весенним максимумом