

УМК «Начальная школа XXI века»

Зеркальное отражение предметов

Урок 2

1 класс
второе
полугодие



Запиши и реши выражения




Является ли нижняя надпись
зеркальным отражением верхней?

Направо пойдешь...

...шэдйоп оявдпн

Работа по учебнику стр. 130

2.  Поставь зеркало справа, слева, сверху и снизу от каждой цифры и посмотри на её отражение в зеркале.
Какие цифры выглядят совершенно одинаково на странице учебника и в зеркале?

1 2 3 4 5 6 7 8 9 0

3. Догадайся, как с помощью зеркала можно прочитать, что фигурист написал на льду.



Б б
В в

В в
Г г

Г г
Э э

Э э
З з

З з
Н н

Н н
К к

К к
Р р

Р р
С с

С с
ь в

ь в
ц д

ц д
ч р

ч р
ш щ


ш щ
э ю

э ю
ю ю

ю ю
р я

р я

Работа по учебнику стр. 130

4.  Поставь зеркало сначала слева, справа, а потом сверху, снизу от каждой буквы. Посмотри в зеркало. Назови буквы, которые выглядят в зеркале так же.

А Б В Г Д Е Ж З И К Л
М Н О П Р С Т У Ф Х Ц
Ч Ш Щ Ъ Ы Ь Э Ю Я



Работа по учебнику стр. 131

5. Поставь зеркало справа от рисунка и посмотри в него. Ты видишь в зеркале тот же рисунок или что-то изменилось? Что изменилось? Что левее в учебнике: кошка или бабушка, клубок или кресло? А в зеркале? С какой стороны в учебнике (слева или справа) от кошки клубок? А с какой стороны он в зеркале? В какую сторону в учебнике (направо или налево) смотрит бабушка? А в какую сторону она смотрит в зеркале? Изменяются ли в зеркале: левая и правая стороны рисунка; верхняя и нижняя часть рисунка; размеры и цвет предметов?



Работа по учебнику стр. 131

ВСПОМИНАЕМ ПРОЙДЕННОЕ

6.

Выполни действия в рабочей тетради.

$$(12 - 7) + 4$$

$$9 + (6 - 6)$$

$$11 - (6 + 5)$$

$$8 + (13 - 5)$$

7.



Вычисли.

Вариант 1

Вариант 2

$$4 + 8$$

$$5 + 6$$

$$12 - 9$$

$$11 - 3$$

$$6 + 7$$

$$9 + 8$$

Поменяйтесь тетрадями и проверьте работу друг у друга.

Работа по учебнику стр. 132

8. * Оле купили две матрёшки. В большой матрёшке было 8 маленьких, а в матрёшке поменьше — 6. Сосчитай всех матрёшек Оли.



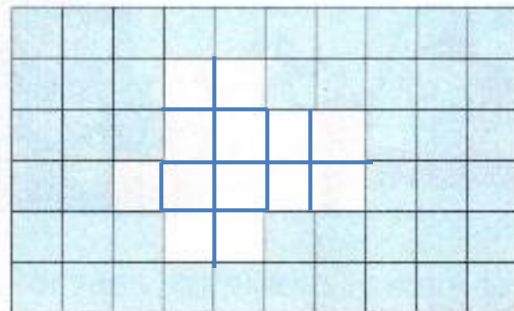
$$8+1=9$$



$$6+1=7$$

$$9+7=16$$

9. * Сколько плиток отвалилось от стены?



Рефлексия урока



1

У меня всё
получилось!



2

Не всё получилось,
но я старался.



3

Не старался,
Многое не получилось.