


Сколько десятков и единиц?

1 дес. 5 ед.



15


2 дес. 4 ед.



24

51

5 дес. 1 ед.



Решите примеры устно :

$$9 + 6 = 15$$



$$2 + 4 = 6$$

$$6 + 8 = 14$$



$$4 + 4 = 8$$

Решите примеры устно:

$$7 + 9 = 16$$



$$7 + 3 = 10$$

$$7 + 6 = 13$$



$$7 + 3 = 10$$

Решите примеры устно:

$$13 - 4 =$$



3

1

$$11 - 6 =$$



1

5



Решите примеры устно :

$$16 - 9 =$$



6

3

$$14 - 7 =$$

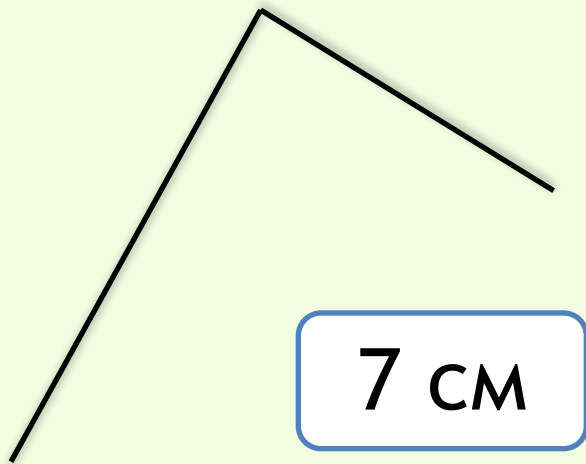


4

3



Реши устно!
1 дм = 10 см



Длина первого звена 1 дм,
длина второго — на 3 см
меньше.

ВЫЧИТАНИЕ ДВУЗНАЧНЫХ ЧИСЕЛ

При вычитании двузначных чисел единицы вычитают из единиц, десятки из десятков.

$$45 - 23 =$$

Алгоритм рассуждения:

1. Нахожу в числах 45 и 23 единицы. В числе 45 будет 5 единиц, а в числе 23 будет 3 единицы.
2. Вычитаю единицы. $5 - 3$ будет 2, записываю два, отступив одну клеточку от знака равно.
3. Вычитаю десятки. $4 - 2$ будет 2. В ответ, перед разрядом единиц записываю число 2.



Подумай, а как мы
будем складывать?

$$21+34=55$$



Выпиши реши примеры

$12+10$

$96-34$

$33+44$

$58-27$

$21+12$

$74-21$

$75+21$

$39-12$

$84+15$

$47-23$

Запиши условие задачи и реши ее

У Васи 9 орехов, а у Вити — на 2 ореха больше. Сколько орехов у двух мальчиков?

Вася — 9 ор.

Витя — , на 2 ор. > чем у  ←

1) $9+2=11$ (ор.)

2) $11+9=20$ (ор.)

Ответ: 20 орехов.



Из-под забора видно 8 кошачьих лап.
Сколько кошек около забора?

2



Задание из учебника

- Тема: Вычитаем десятки. СТР 97, номер 4,5 устно
- Тема: Складываем десятки. Стр. 95, номер 5, 6. Номер 8 устно
- Выполняем задание от учителя на УЧИ.ру
- Выполняем работу в тетрадях на печтаной основе на стр, соответствующей теме.
arhipchik.93@yandex.ru