

Тема: **РЕКИ**

Течёт, течёт – не вытечет,
Бежит, бежит – не выбежит.

Что такое река?

Река – постоянный поток воды,
протекающий в естественном
углублении, называемом
руслом

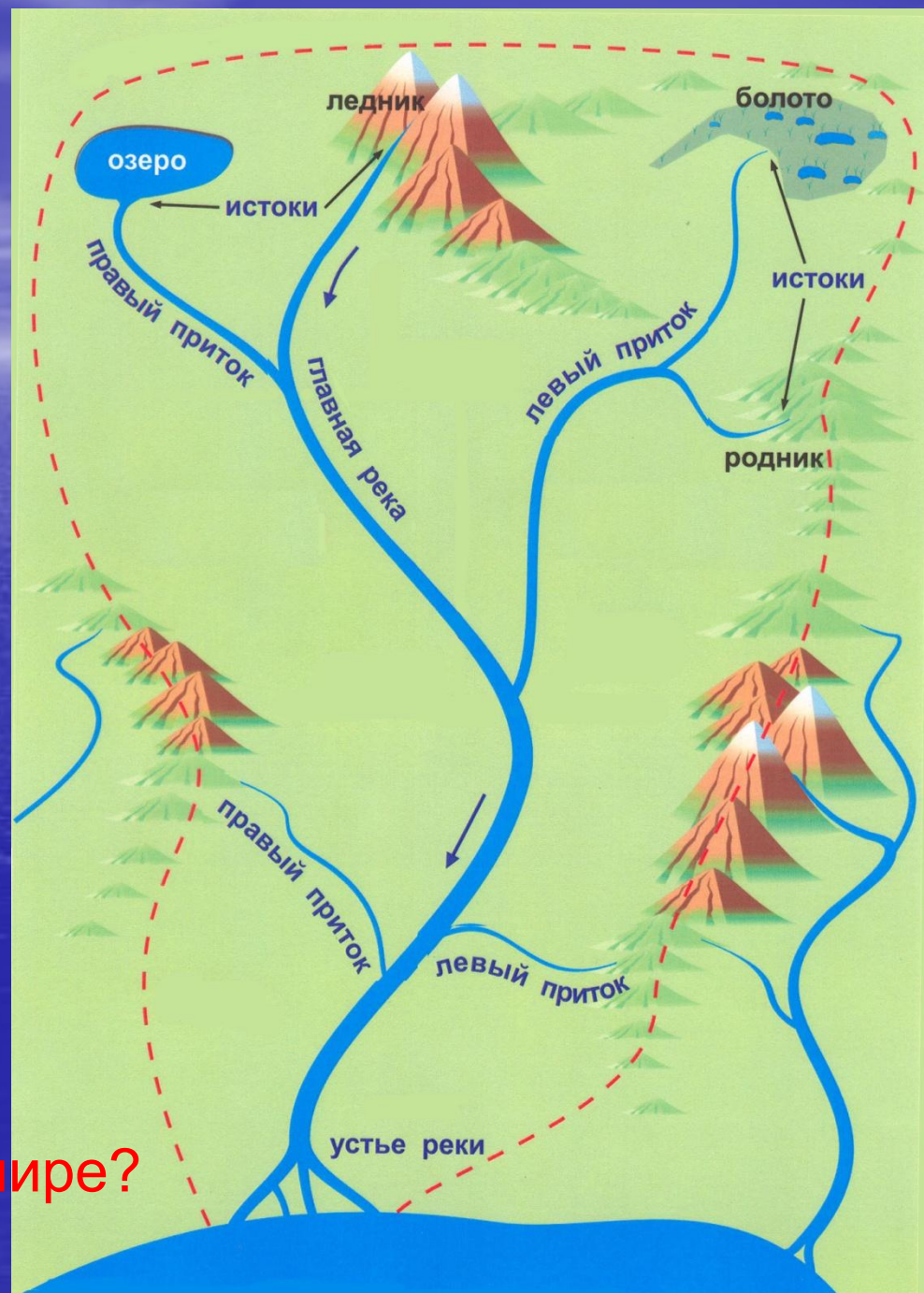
Исток — начало реки.

Устье — место впадения в другую реку, море или озеро.

Длина реки — расстояние от истока до устья

Какая река самая длинная в мире?

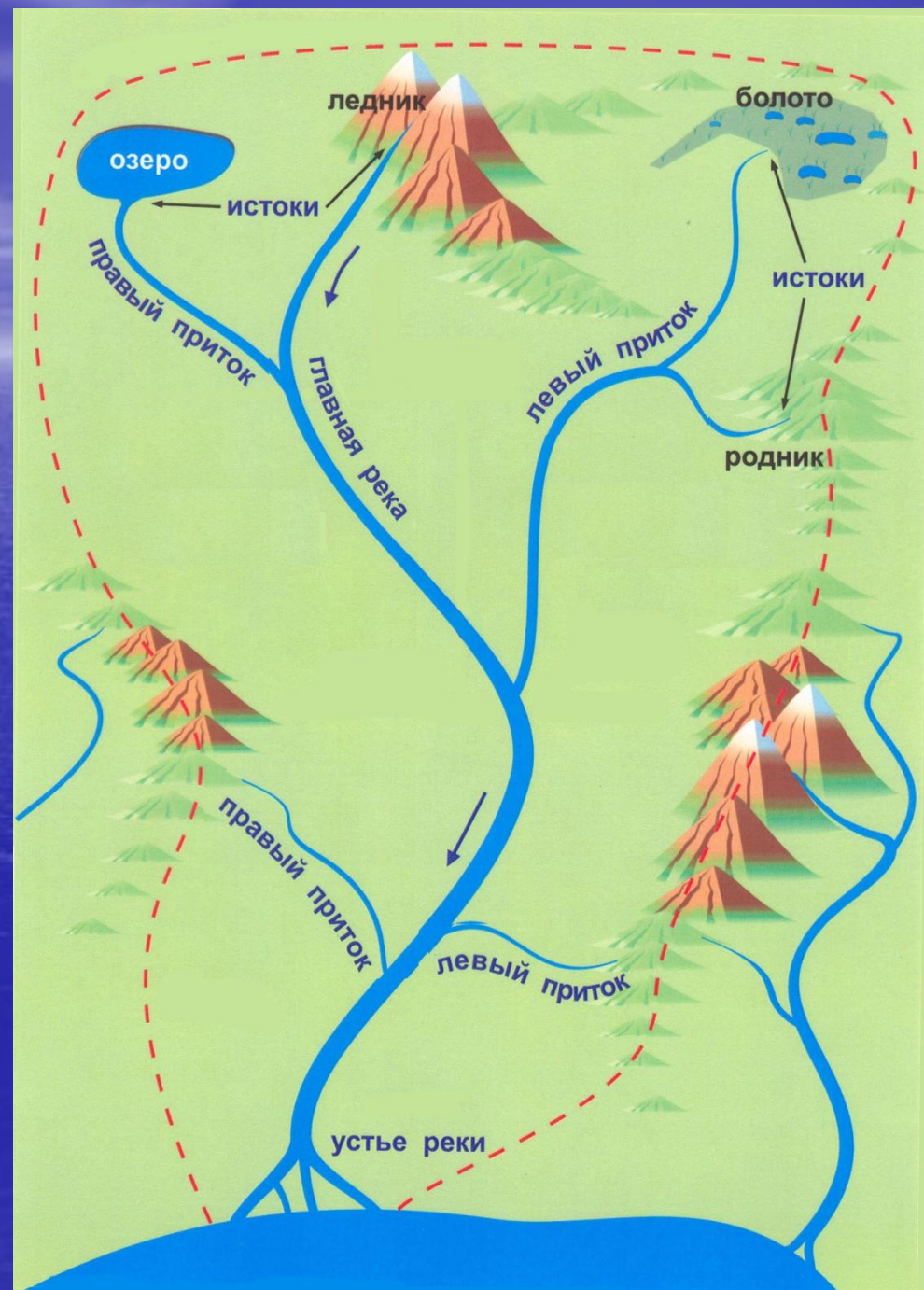
НИЛ



Река всегда течёт
в понижение по
рельефу

Приток — река,
впадающая в другую
реку

Речная система
— главная река со
всеми
притоками.



Бассейн реки -
участок земной
поверхности, с
которого вся вода
стекает в реку

Водораздел -
граница,
разделяющая
соседние речные
бассейны

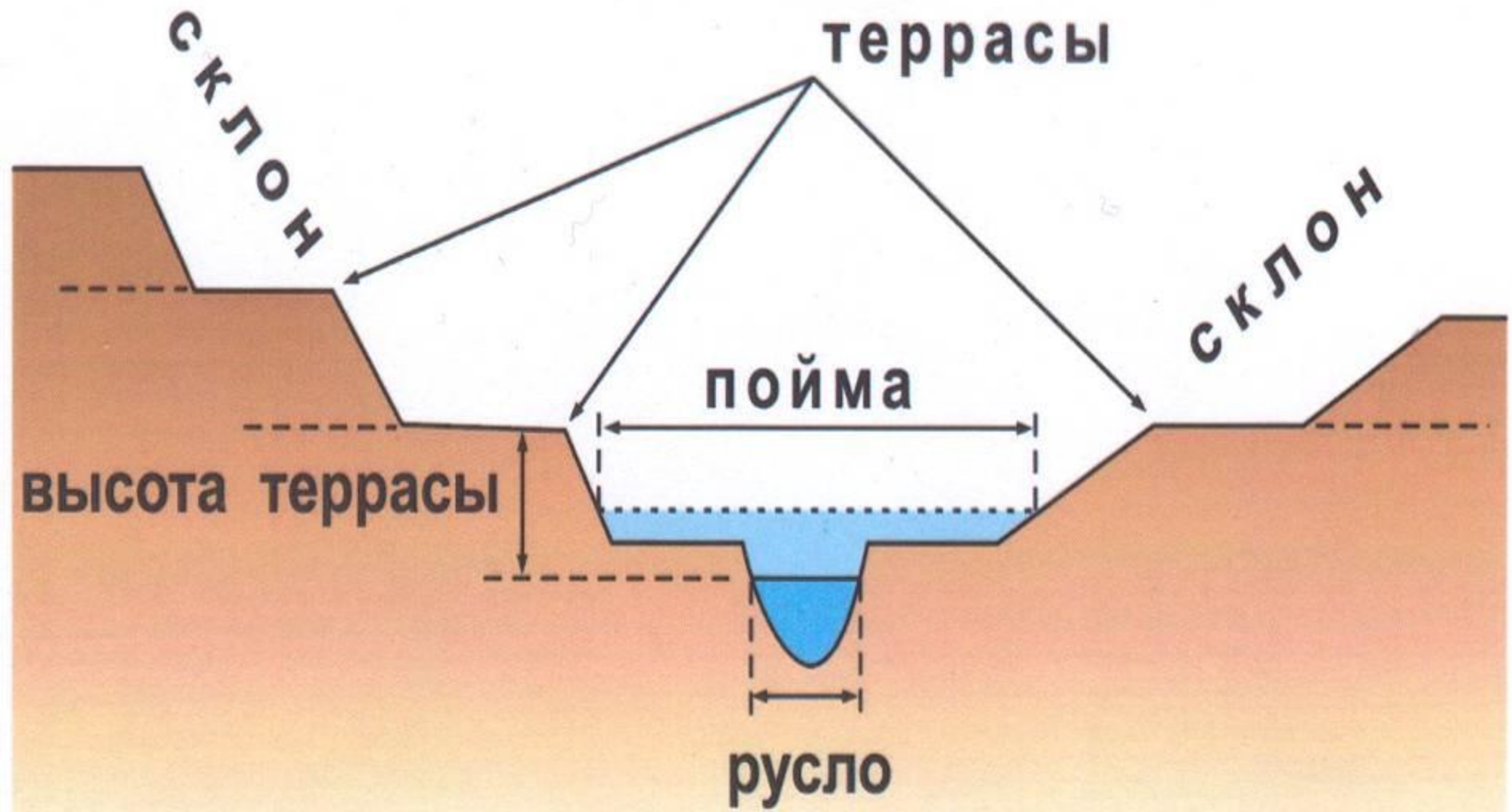


Речная долина -


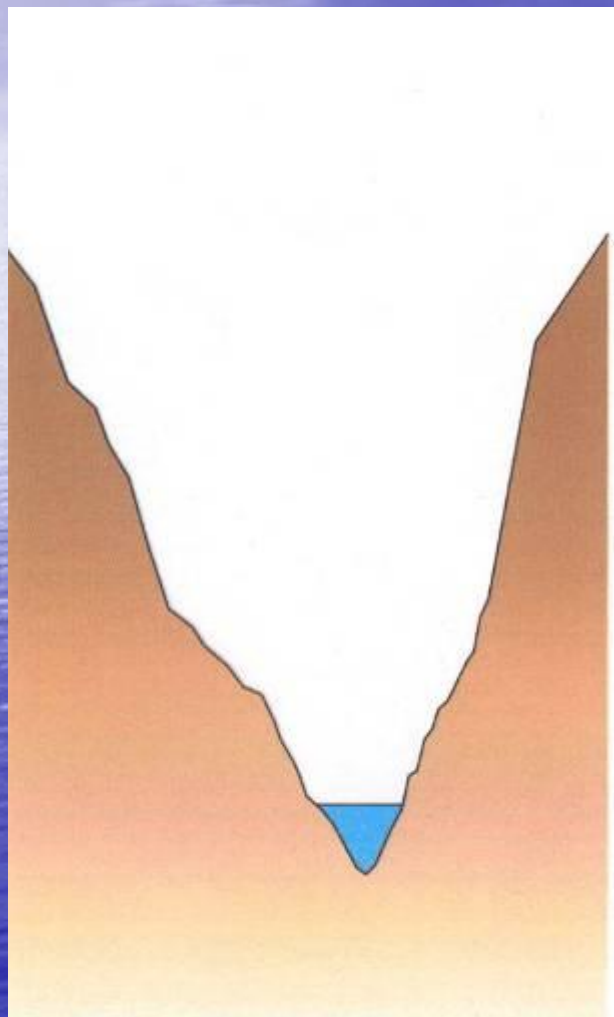


широкое понижение в рельефе, на дне которого находится русло реки.

Долина равнинной реки

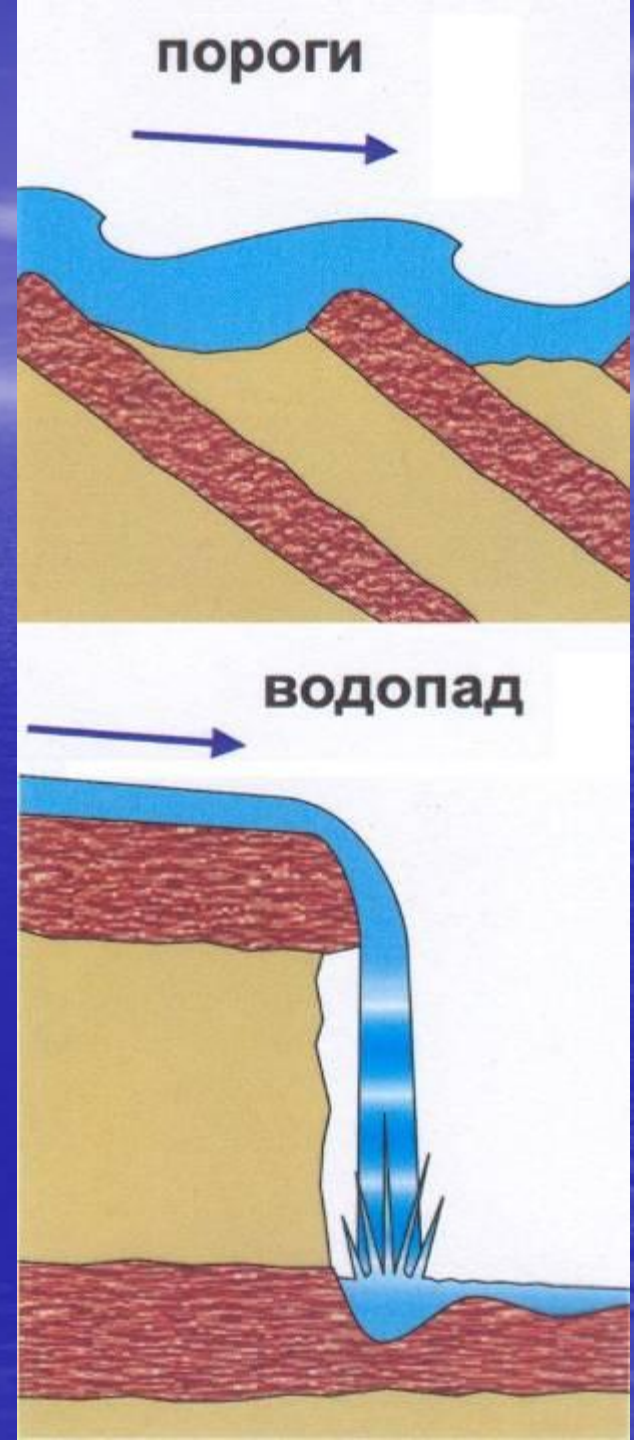


Долина горной реки

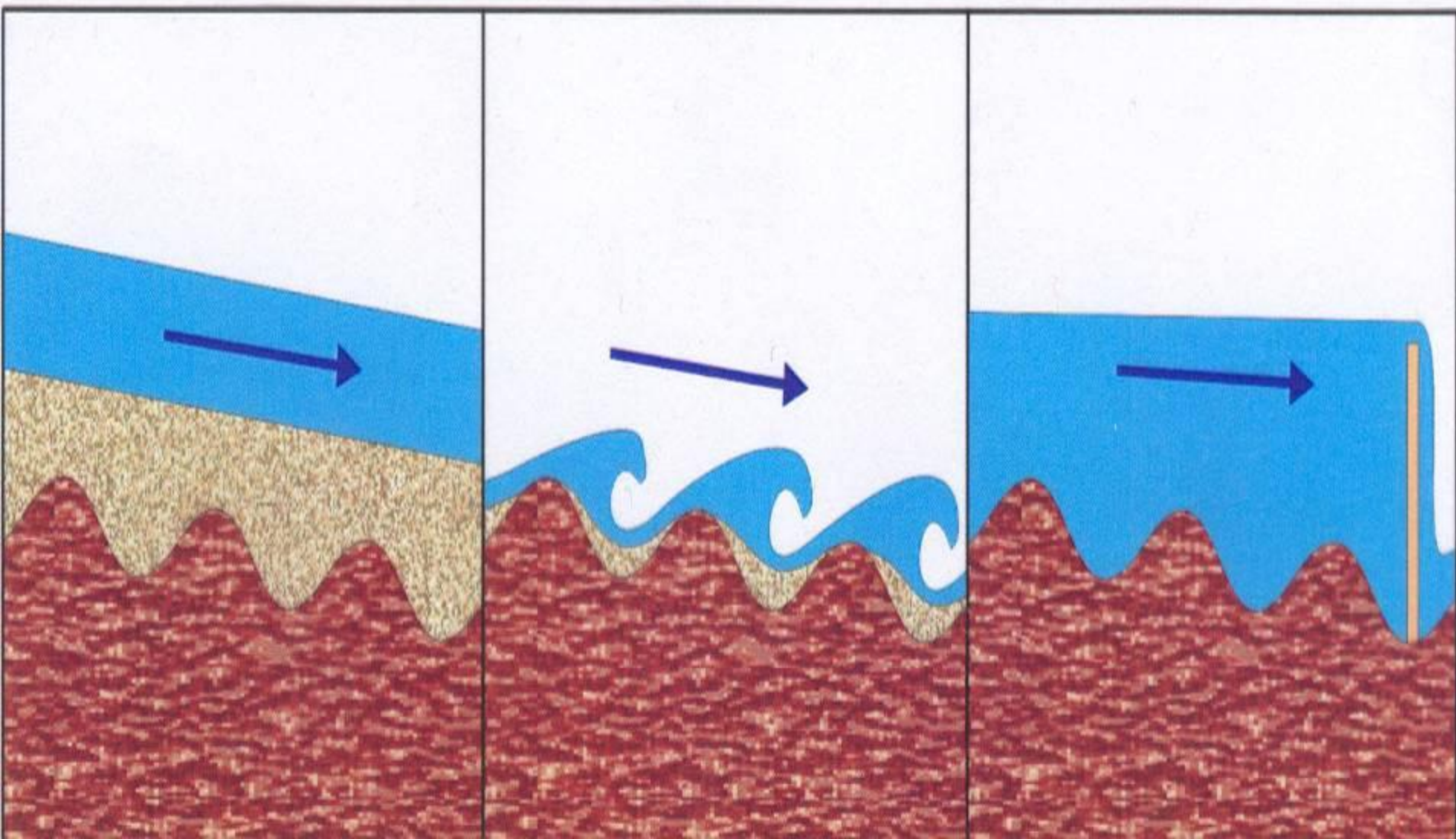


Пороги образуются при выходе твердых пород пересекающих русло и нагромождении камней

Падая с высокого уступа река образует **водопад**



Пороги на равнинной реке



Питание рек.

- 1) дождевое
- 2) ледниковое
- 3) подземные воды
- 4) снеговое
- 5) смешанное

Водный режим рек - изменение количества воды в реке в течение года.

Половодье – большой и продолжительный по времени подъём воды в реке.

Паводок – быстрый и краткий подъём воды в реке.

Межень – период самого низкого уровня воды в реке.

Заполни таблицу, используя материалы учебника.

Признак реки	Горная река	Равнинная река
Скорость течения		
Долина		
Глубина		
Русло		

Подведём итоги

Река – постоянный поток воды, протекающий в естественном углублении, называемом руслом

Исток – начало реки.

Речная долина - Широкое углубление на дне которого расположено русло реки

Речная система - Главная река со всеми её притоками

Водораздел - Граница, разделяющая соседние речные бассейны

Устье - Место впадения реки в море или другую реку

Приток - Река, впадающая в главную реку.

Выполни задание:

1. Найди на карте России реки:

Волга, Лена, Амур.

2. Определи где у данных рек ИСТОК, а где УСТЬЕ ?

3. Есть ли у данных рек притоки? Как они называются? Какие левые, а какие правые?

4. Определи какие это реки – горные или равнинные?

Домашнее задание:

- § 30, вопросы после параграфа.
- Подготовка к практической работе – «Реки»
- В контурной карте (мира) обозначить:
 - 1 крупные реки на всех материках,
 - 2 крупные водопады,
 - 3 определить координаты водопадов:
Виктория, Ниагарский, Анхель.