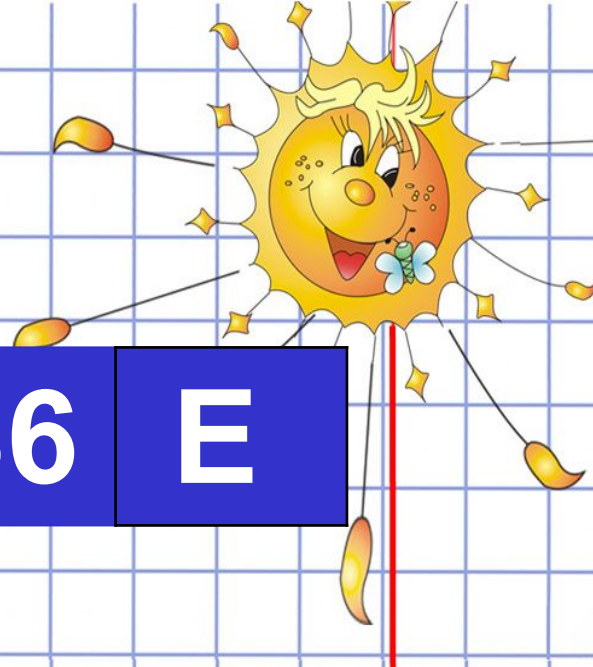


Расположи числа в порядке возрастания и расшифруй слово, важное для нашего урока.



5 Л

50 А

36 Е


42 Й

19 И

48 К

27 Н

# Миллиметр



Какие единицы длины ты  
знаешь?

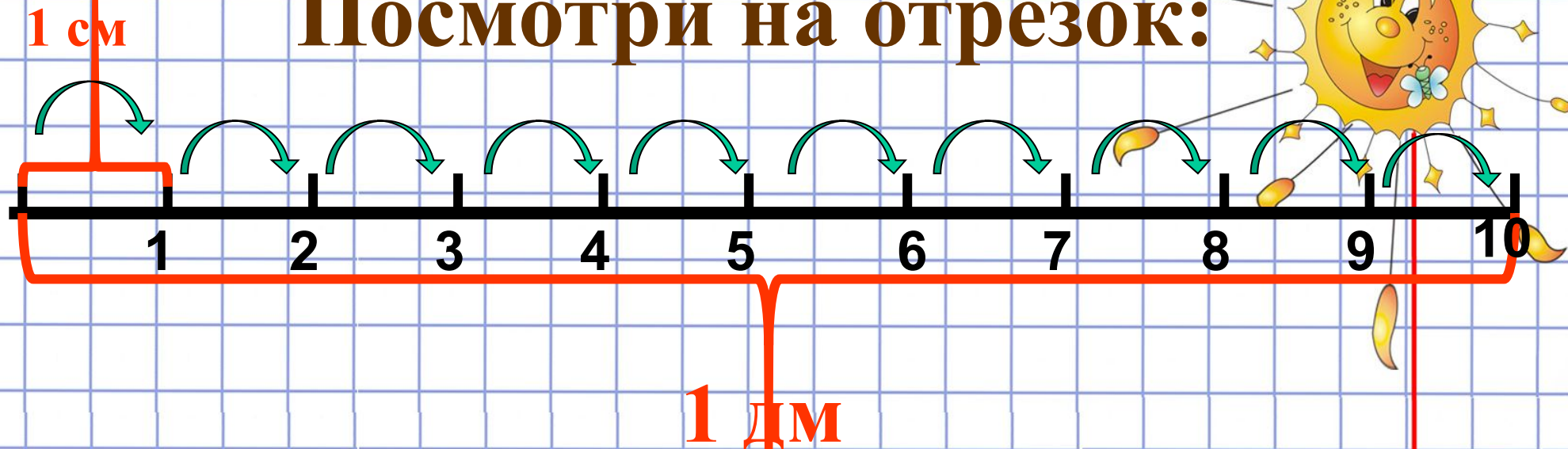
$$1 \text{ дм} = 10 \text{ см}$$

$$1 \text{ м} = 10 \text{ дм}$$



Есть более мелкая единица  
длины — миллиметр

**Посмотри на отрезок:**



**Сколько в 1 дм содержится см?**

$$1 \text{ дм} = 10 \text{ см}$$

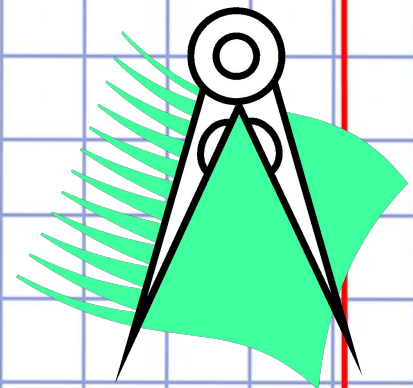

*Эти меры измерения длины  
надо запомнить:*

$$1 \text{ м} = 10 \text{ дм}$$

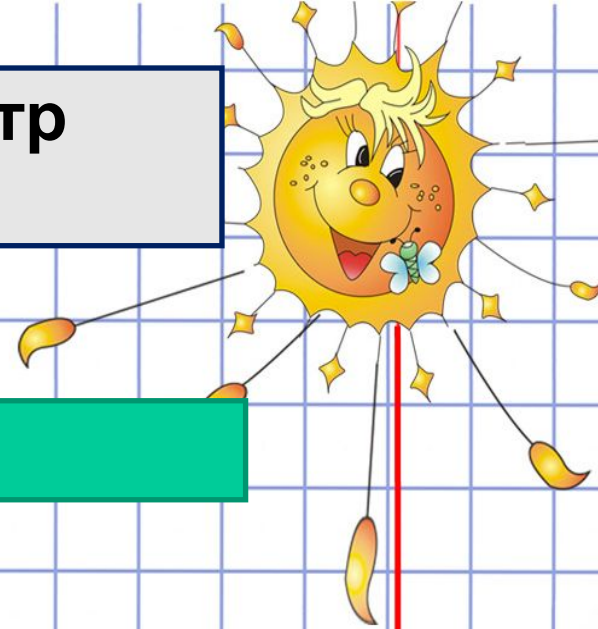
$$1 \text{ м} = 100 \text{ см}$$

$$1 \text{ дм} = 10 \text{ см}$$


$$1 \text{ см} = 10 \text{ мм}$$



Какая единица длины больше: 1 сантиметр или 1 дециметр? На сколько?



1 ДМ



1 СМ

Ответ запиши  
в тетрадь