

Игра-викторина «Знай правила дорожного движения!»



ПРОВЕРЬ СВОИ ЗНАНИЯ.

Начать



ЧТО ЗА ЗНАК?

- а Перебегать дорогу
- б запрещено
- в Внимание, дети
- г Дети



НЕВЕРНО...



← Еще раз

Продолжить тест →



УРА!!!




Продолжить тест →



ПРАВИЛЬНО
!

Могут ли пешеход двигаться в
зоне действия этого знака?



а ДА

б НЕТ



НЕВЕРНО...



← Еще раз

Продолжить тест →



УРА!!!

Продолжить тест

ПРАВИЛЬНО

!



Когда надо соблюдать правила дорожного движения?

- а Всегда
- б Когда рядом дорожный полицейский
- в Когда у тебя хорошее настроение



НЕВЕРНО...



← Еще раз

Продолжить тест →



УРА!!!

Продолжить тест



ПРАВИЛЬНО!

Можно ли играть около дороги?

- а** Нет
- б** Только если нет машин и пешеходов
- в** Да



НЕВЕРНО...



← Еще раз

Продолжить тест →



УРА!!!

Продолжить тест



ПРАВИЛЬНО!

Если светофор не исправен, кто регулирует движение на проезжей части?

- а Регулировщик
- б Полицейский
- в Дорожный рабочий



НЕВЕРНО...



← Еще раз

Продолжить тест →



УРА!!!

Продолжить тест



ПРАВИЛЬНО!

Какой стороны нужно придерживаться, шагая по тротуару?

- а** Идти по центру
- б** Лево́й стороны
- в** Право́й стороны



НЕВЕРНО...



← Еще раз

Продолжить тест →



УРА!!!

Продолжить тест



ПРАВИЛЬНО!

**Могут ли в зоне этого знака
двигаться
автомобили?**



а ДА

б НЕТ



НЕВЕРНО...



← Еще раз

Продолжить тест →



УРА!!!

Продолжить тест



ПРАВИЛЬНО!

Наши верные друзья и помощники на улицах города

- а Водители и милиционеры
- б Пешеходы
- в Дорожные знаки



НЕВЕРНО...



← Еще раз

Продолжить тест →



УРА!!!

Продолжить тест



ПРАВИЛЬНО!

Назовите части дороги:

- а** Проездная часть, обочина, кювет
- б** Проездная часть, кювет
- в** Кювет



НЕВЕРНО...



← Еще раз

Продолжить тест →



УРА!!!

Продолжить тест



ПРАВИЛЬНО!

Какая часть улицы предназначена для пешеходов?

- а** Обочина
- б** Тротуар
- в** Все верно



НЕВЕРНО...



← Еще раз

Продолжить тест




УРА!!!

Продолжить тест



ПРАВИЛЬНО!

**Могут ли в зоне этого знака
двигаться
автомобили?**



а ДА

б НЕТ



НЕВЕРНО...



← Еще раз

Продолжить тест



УРА!!!

Продолжить тест



ПРАВИЛЬНО!

Разрешено ли перевозить пассажира на велосипеда?

- а Нет
- б Разрешено, ребенка в возрасте до 7 лет на дополнительном сиденье
- в Разрешено для всех без исключения



НЕВЕРНО...



← Еще раз

Продолжить тест →



УРА!!!

Продолжить тест



ПРАВИЛЬНО!

Какой сигнал светофора запрещает движение?

а Красный

б Зеленый

в Желтый



НЕВЕРНО...



← Еще раз

Продолжить тест →



УРА!!!

Продолжить тест



ПРАВИЛЬНО!

Разрешена ли езда на велосипеде по обочине?

- а** Нет
- б** Разрешена, если это не создает помех пешеходам
- в** Все верно



НЕВЕРНО...



← Еще раз

Продолжить тест →



УРА!!!

Продолжить тест



ПРАВИЛЬНО!

Как называют людей, которые пользуются транспортом?

- а Водители
- б Пешеходы
- в Пассажиры



НЕВЕРНО...



← Еще раз

Продолжить тест →



УРА!!!

Продолжить тест



ПРАВИЛЬНО!

Что означает слово «пешеход»?

- а** Идущий пешком
- б** Идущий шагом
- в** Идущий по пешеходному переходу



НЕВЕРНО...



← Еще раз

Продолжить тест →



УРА!!!

Продолжить тест



ПРАВИЛЬНО!

**По какой стороне дороги ходят пешеходы,
когда
нет тротуара?**

- а** По левой стороне
- б** По правой стороне, навстречу транспорту
- в** По левой стороне, навстречу транспорту



НЕВЕРНО...



← Еще раз

Продолжить тест →



УРА!!!

Продолжить тест



ПРАВИЛЬНО!

Что за знак?



- а** Место стоянки
- б** Въезд запрещен
- в** Движение без остановки запрещено
- г** Внимание, дети



НЕВЕРНО...



← Еще раз

Продолжить тест →



УРА!!!

Продолжить тест



ПРАВИЛЬНО!

Какие геометрические формы имеют дорожные знаки?

- а** Треугольник, квадрат, круг, прямоугольник
- б** Треугольник, квадрат
- в** Квадрат, круг, прямоугольник



НЕВЕРНО...



← Еще раз

Продолжить тест



УРА!!!

Продолжить тест



ПРАВИЛЬНО!

**Могут ли в зоне этого знака
двигаться
автомобили?**



а ДА

б НЕТ



НЕВЕРНО...



← Еще раз

Продолжить тест →



УРА!!!

Продолжить тест



ПРАВИЛЬНО!

**Как называется знак, который устанавливают
около
школ и детских садов?**

- а Школа**
- б Детское учреждение**
- в Дети**



НЕВЕРНО...



← Еще раз

Продолжить тест →



УРА!!!

Продолжить тест



ПРАВИЛЬНО!

Как должны поступать пешеходы, если во время перехода перекрестка зеленый сигнал светофора изменился на желтый,

а вы не успели перейти дорогу?

- а** Быстро перебежать улицу
- б** Вернуться на тротуар
- в** Остановиться на осевой линии и дождаться зеленого сигнала



НЕВЕРНО...



← Еще раз

Продолжить тест →



УРА!!!

Продолжить тест



ПРАВИЛЬНО!

**С какого возраста разрешается ездить на
велосипеде
по проезжей части?**

а с 14 лет

б с 13 лет

в с 12 лет



НЕВЕРНО...



← Еще раз

Продолжить тест →



УРА!!!

Продолжить тест



ПРАВИЛЬНО!

На каком расстоянии от правого края проезжей части

разрешена езда на велосипеде?

- а** Не более 0,5 м
- б** Не более 1,0 м
- в** Не более 2,0 м



НЕВЕРНО...



← Еще раз

Продолжить тест →



УРА!!!

Продолжить тест



ПРАВИЛЬНО!

Что обозначает этот дорожный знак?



- а** Лестница
- б** Подземный переход
- в** Наземный переход
- г** Вход в подвал



НЕВЕРНО...



← Еще раз

Продолжить тест →



УРА!!!

Продолжить тест



ПРАВИЛЬНО!

Как на проезжей части улиц и дорог
обозначен

пешеходный переход?

- а кружочками
- б полосками
- в квадратами
- г треугольниками



НЕВЕРНО...



← Еще раз

Продолжить тест →



УРА!!!

Продолжить тест



ПРАВИЛЬНО!

Какой из этих дорожных знаков относится к разрешающим?




1



2



3



4



- а 1
- б 2
- в 3
- г 4

НЕВЕРНО...



← Еще раз

Продолжить тест →



УРА!!!

Продолжить тест



ПРАВИЛЬНО!

Как называется полосатое орудие труда инспектора ГАИ?

- а Жезл
- б Дубинка
- в Скипетр
- г Указка



НЕВЕРНО...



← Еще раз

Продолжить тест →



УРА!!!


Продолжить тест



ПРАВИЛЬНО!

Что обозначает знак?

- а** Въезд запрещен
- б** Главная дорога
- в** Автомагистраль



НЕВЕРНО...



← Еще раз

Продолжить тест →



УРА!!!

Продолжить тест



ПРАВИЛЬНО!

Что означает одновременно горящие все сигналы светофора?

- а** Можно начинать переход дороги
- б** Скоро будет включен зеленый сигнал и нужно подготовиться к переходу дороги
- в** Светофор не работает



НЕВЕРНО...



← Еще раз

Продолжить тест →




УРА!!!

Продолжить тест



ПРАВИЛЬНО!

Какой из этих дорожных знаков относится к запрещающим?



а 1,2

б 2

в Все



НЕВЕРНО...



← Еще раз

Продолжить тест →



УРА!!!

Продолжить тест



ПРАВИЛЬНО!

Как велосипедист должен информировать других участников

движения о намерении остановиться?

- а** Правая рука вытянутая вперед
- б** Поднять руку вверх
- в** Левая рука вытянутая в сторону



НЕВЕРНО...



← Еще раз

Продолжить тест →



УРА!!!

Продолжить тест



ПРАВИЛЬНО!

Какой знак обозначает «Уступи дорогу»?



1



2



3



4

а 1,2

б 3

в 2,4

г 2



НЕВЕРНО...



← Еще раз

Продолжить тест →



УРА!!!

Продолжить тест



ПРАВИЛЬНО!

Что означает этот знак?



- а** Запрещается движение пешеходом
- б** Разрешается движение только пешеходом



НЕВЕРНО...



← Еще раз

Продолжить тест →



УРА!!!

Продолжить тест



ПРАВИЛЬНО!

ВЫ МОЛОДЦЫ!!!

**СПАСИБО
ЗА**

УЧАСТИЕ!

