

Тест по теме «Проценты»

1.

2.


3.

4.

5.

6.

7.



Начать тест


Результаты теста

Верно: 3

Ошибки: 5

Отметка: 2

Время: 0 мин. 14 сек.



ещё



*Сколько процентов
соответствует дробь 0,8?*

8%

80%

800%




Найдите 20% от числа 120

60

6

24



Укажите верные утверждения

1 см
составляет
1% от 1 м

1 мм²
составляет
1% от 1 см²

1 м²
составляет
1% от 1 км²

8 коп
составляют
1% от 8 руб

1 дм
составляет
1% от 1 м

1 кг
составляет
1% от 1 т

исправить

ответ готов!

A B C

*В киоск привезли 400 газет.
До обеда продали 30% всех газет,
а после обеда – 45% .
На сколько больше продано
газет после обеда?*

120

60

180

А В С

Укажите верные утверждения

**5 кг
составляют
5% от 1 ц**

**20 см
составляют
20% от 2 м**

**40 м
составляют
2% от 2 км**

**10 кг
составляют
1% от 1 т**

**1 руб
составляет
1% от 10 руб**

**1 ц
составляет
1% от 1 т**

исправить

ответ готов!



*Укажите ту часть массы,
которая больше других*

15% от 24 кг

22% от 15 кг

15% от 20 кг



Укажите верное утверждение

1% - это сотая часть

30% от 20 рублей меньше 20% от 30 рублей

30% от 20 рублей равны 20% от 30 рублей

4 кг есть 15% от 20 кг

25% равны $\frac{1}{4}$ всех учащихся школы

1% - это десятая часть

исправить

ответ готов!




ALLDAY.RU