

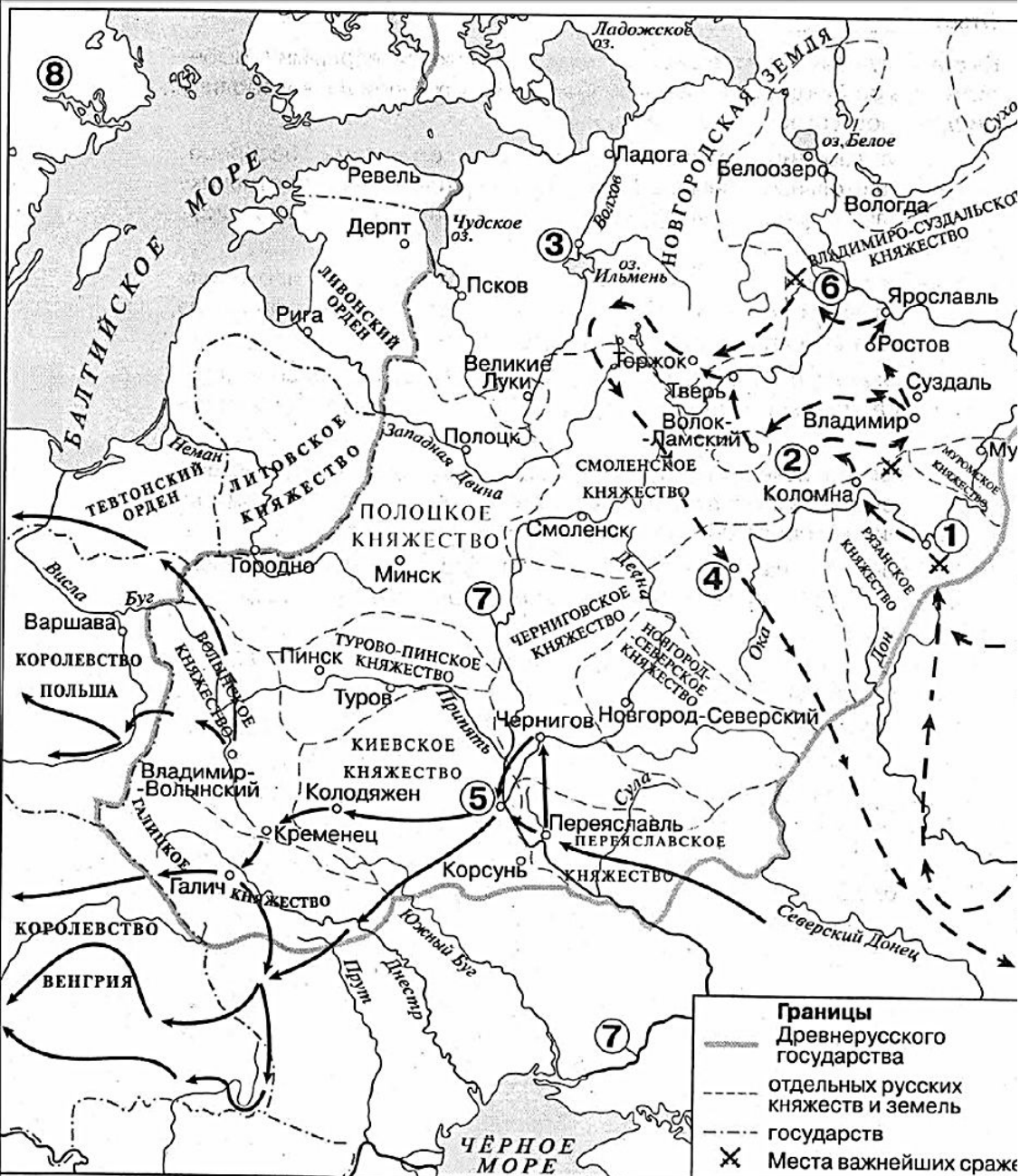
№ 13. Укажите век, когда произошли события, обозначенные на схеме стрелками. Ответ запишите словом.

№ 14. Укажите название города, обозначенного на схеме цифрой «3».

№ 15. Назовите главнокомандующего, руководившего походом по направлению, обозначенному в легенде схемы цифрой «7»

№ 16. Какие суждения, относящиеся к событиям, обозначенным на схеме, являются верными? Выберите три суждения из шести предложенных. Запишите цифры, под которыми они указаны.

- 1) Первое летописное упоминание о городе, обозначенном на схеме цифрой «6», относится к 1147 г..
- 2) Цифрой «5» на схеме обозначена Рязань.
- 3) Стрелками, обозначенными в легенде схемы цифрой «8», показаны действия монгольских войск.
- 4) Цифрой «2» на схеме обозначена река Калка.
- 5) Боярин Евпатий Коловрат, прославившийся своей храбростью, был родом из города, обозначенного на схеме цифрой «4».
- 6) Цифрой «1» на схеме обозначен водный объект, по которому в годы ВОВ проходила Дорога жизни.



№ 14. Назовите город, обозначенный на схеме цифрой «3».

№ 15\_1. Назовите главнокомандующего войском, совершившего поход, обозначенный на карте пунктирными стрелками.

№ 15\_2. Назовите год, когда состоялось сражение, место которого обозначено на схеме цифрой «6».

№ 16. Какие суждения, относящиеся к схеме, являются верными? Выберите четыре суждения из девяти предложенных.

- 1) В ходе событий, обозначенных на схеме стрелками, беспрецедентно длительным семинедельным сопротивлением противнику прославились защитники города, обозначенного на схеме «2».
- 2) Упадок торговли по пути, значительная часть которого проходила по реке, дважды обозначенной на схеме цифрой «7», стал одной из причин начала политической раздробленности на Руси.
- 3) В одной из средневековых исторических повестей рассказывается о подвигах русского богатыря Евпатия Коловрата — выходца из города, на схеме цифрой «4».
- 4) В битве на реке Неве русским воинам под предводительством князя Александра Ярославича противостояло войско государства, территория которого обозначена на схеме цифрой «8».
- 5) Цифрой «5» на схеме обозначен город, обороной которого (в ходе событий, обозначенных на схеме стрелками) руководил воевода Дмитр.
- 6) Цифрой «1» на схеме обозначено место, где погиб великий князь владимирский Юрий Всеволодович.
- 7) Поход, обозначенный на схеме сплошными стрелками, состоялся раньше похода, обозначенного пунктирными стрелками.
- 8) На схеме подписаны государства, образовавшие



№ 13. Назовите военачальника, возглавившего поход по направлению, обозначенному в легенде схемы цифрой «4».

№ 14. Назовите русского полководца, под руководством которого совершены походы, обозначенные на схеме.

№ 15. Назовите государство, войска которого совершили поход, обозначенный в легенде схемы цифрой «5».

№ 16. Какие суждения, относящиеся к данной схеме, являются верными? Выберите три суждения из шести предложенных. Запишите в таблицу цифры, под которыми они указаны.

- 1) В сражении, обозначенном на схеме цифрой «3», русские войска потерпели поражение.
- 2) Цифрой «2» на схеме обозначено сражение, произошедшее зимой.
- 3) В период, к которому относится схема, высшим органом управления в городе, обозначенном на схеме цифрой «1», являлось народное собрание.
- 4) Раньше других походов, обозначенных на схеме стрелками, произошёл поход войска, направление движения которого обозначено в легенде схемы цифрой «6».

5) На схеме обозначен и подписан город, который в XIV в. являлся основным в Северо-Восточной Руси соперником Москвы в борьбе за роль центра объединения русских земель.

6) На схеме обозначено и подписано озеро, по которому в годы Великой Отечественной войны проходила Дорога жизни.



Какие суждения, относящиеся к данному изображению, являются верными?

1. В сражении, которому посвящена марка, воевали русские воины против монголов
2. Сражение, события которого представлены на марке, произошло после Куликовской битвы
3. Сражение, изображённое на марке, произошло на Чудском озере
4. Русский князь, командовавший в сражении, получил ярлык на Великое княжение
5. Сражение, изображённое на марке, произошло в 1242 году

№ 14\_1. Назовите князя, командовавшего русскими войсками в походах, обозначенных в легенде схемы цифрой «5».

№ 14\_2. Укажите название сражения, обозначенного на схеме цифрой «2».

№ 15\_1. Заполните пропуск в предложении: «Цифрой «7» на схеме обозначен город, основанный киевским князем в первой половине \_\_\_\_\_ века».

№ 15\_2. Укажите название города, обозначенного на схеме цифрой «1».

№ 16. Какие суждения, относящиеся к схеме, являются верными?

Выберите пять суждений из девяти предложенных.

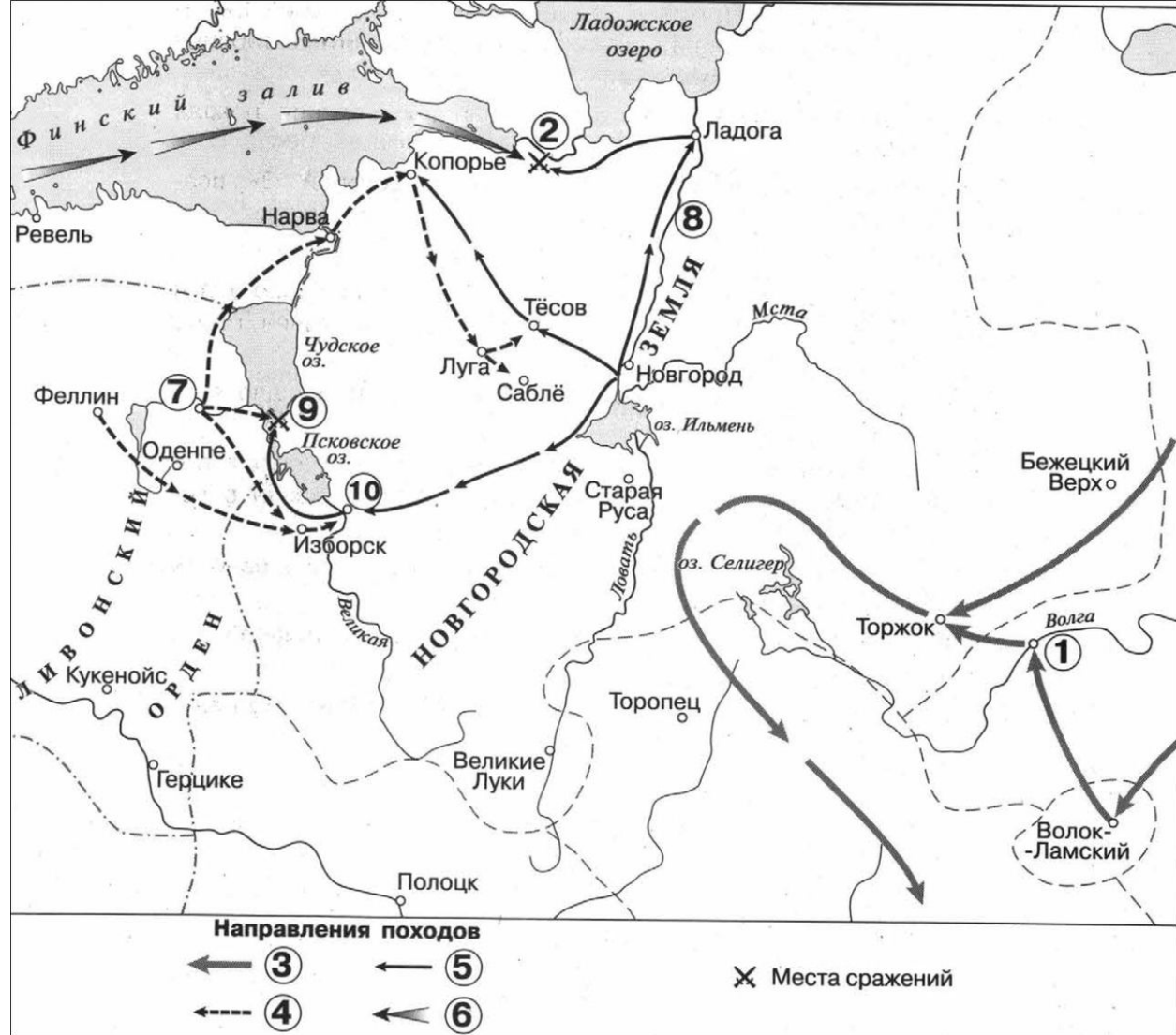
1) Цифрой «4» в легенде схемы обозначено направление похода шведских войск.

2) Поход войск, обозначенных в легенде схемы цифрой «3», возглавлял Мамай.

3) Числом «10» на схеме обозначен город Псков.

4) Сражение, обозначенное на схеме цифрой «2», произошло в том же году, когда монгольскими завоевателями был захвачен город Киев.

5) Сражение, обозначенное на схеме цифрой «9», произошло весной.



6) На схеме обозначен и подписан город, первым из русских городов встретивший войско противника, поход которого указан в легенде схемы цифрой «3».

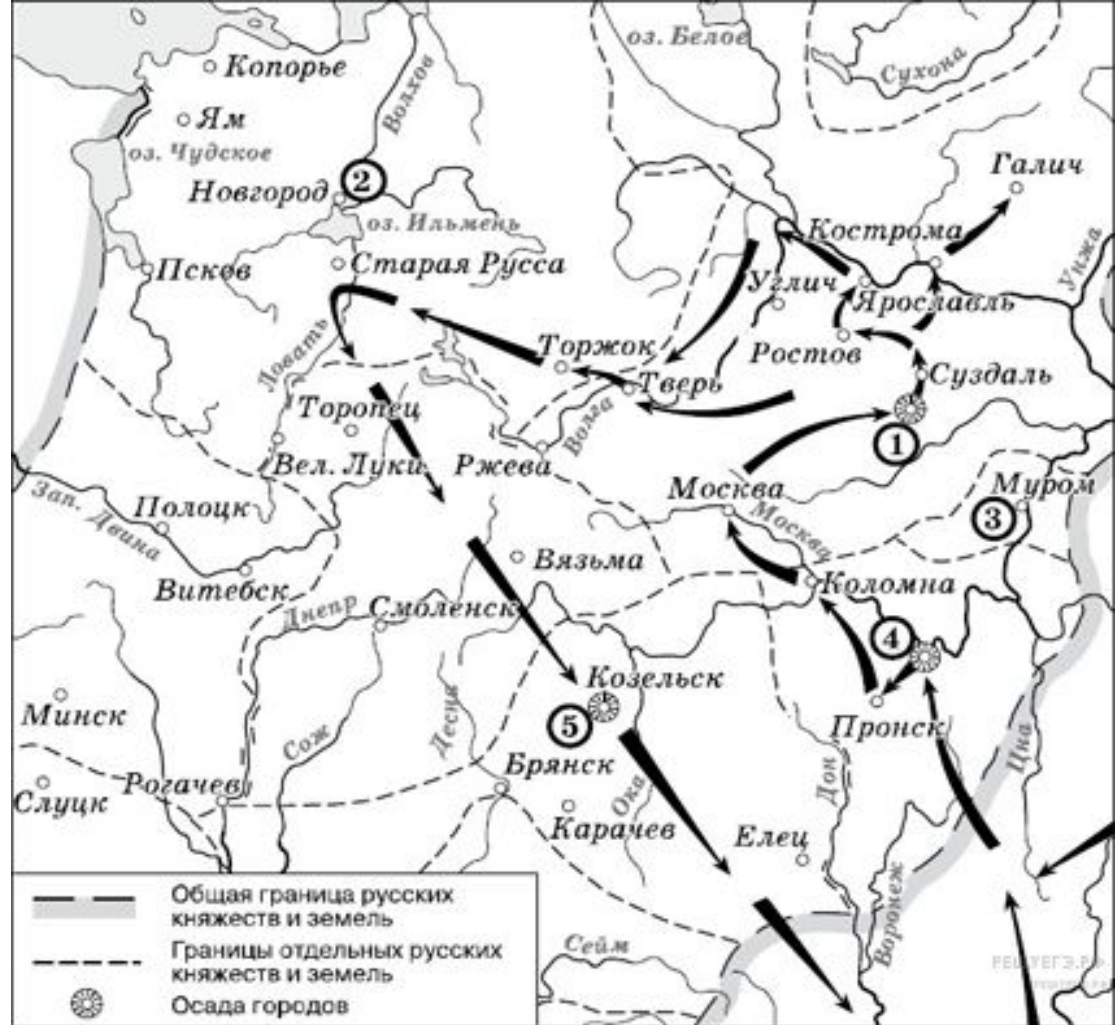
7) Цифрой «8» на схеме обозначена река, по которой в древности проходил торговый путь «из варяг в греки».

8) Войском, поход которого обозначен в легенде схемы цифрой «6», командовал Карл XII.

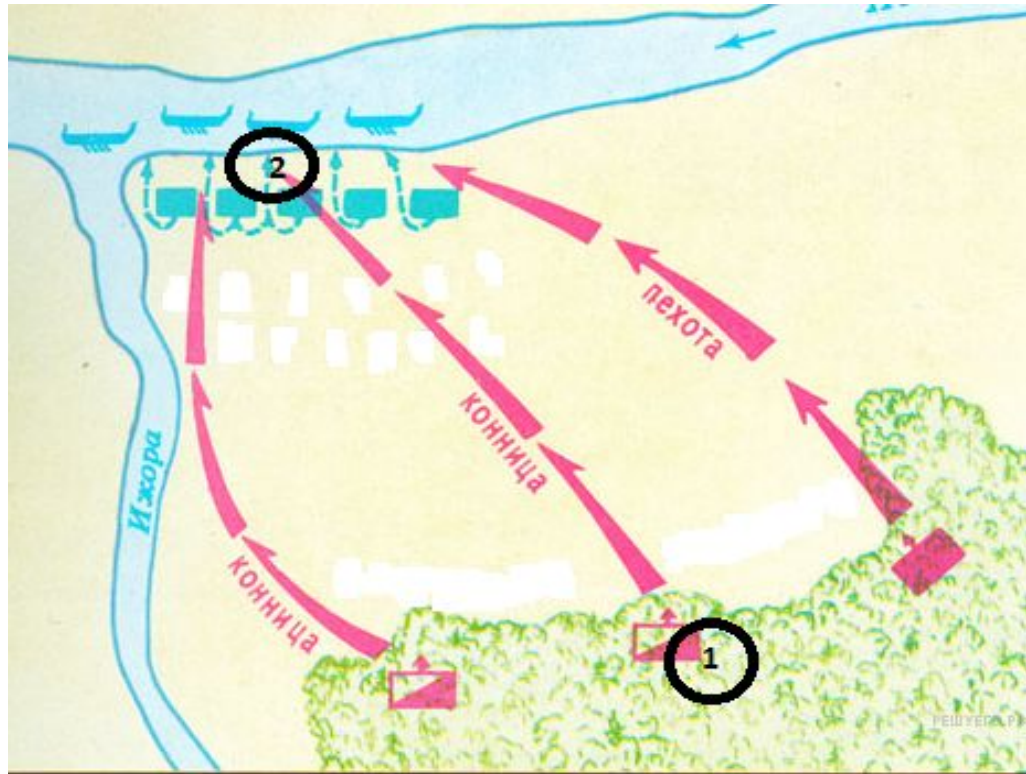
9) В ходе обозначенных на схеме походов завоевателями был взят Торжок.

1. Напишите имя полководца, осуществившего поход, обозначенный на схеме стрелками. 2. Напишите цифру, которой обозначена столица земли, где в период данного похода существовала республиканская форма правления.

Какие суждения, относящиеся к событиям, обозначенным на схеме, являются верными? Выберите три суждения из шести предложенных.



- 1) завоеватели вторглись в пределы Руси в зимний период
- 2) ни один из городов, захваченных завоевателями, не выдержал осады более одной недели
- 3) поход, обозначенный на схеме стрелками, длился около трёх лет
- 4) одним из последствий событий, обозначенных на схеме, было начало раздробленности Древнерусского государства
- 5) в результате событий, обозначенных на схеме, русские земли попали в зависимость
- 6) полководец, поход которого обозначен на схеме, является основателем государства



1. Напишите название битвы, представленной на схеме. 2. Назовите имя полководца, командовавшего войском, отмеченном на схеме цифрой «2».

Какие суждения, относящиеся к событию, обозначенному на схеме, являются верными. Выберите три суждения из шести предложенных.

- 1) битва состоялась во время нашествия монголо-татар на юго-западные русские земли
- 2) один из полководцев, участвовавший в битве, в последствие был канонизирован русской Церковью
- 3) битва была примером междоусобных войн на Руси периода политической раздробленности
- 4) в составе войска одной из сторон сражался отряд половцев
- 5) результаты битвы имели большое значение для укрепления внешнеполитического авторитета Московского княжества
- 6) земли, на которой состоялась битва, принадлежали Великому Новгороду



1. Напишите имя полководца, участвовавшего в походах, обозначенных на карте.

2. Напишите название озера, на котором произошло сражение, обозначенное на схеме цифрой 1.

Какие суждения, относящиеся к событиям, обозначенным на схеме, являются верными?

Выберите три суждения из шести предложенных.

1) На карте изображены события XIII в.

2) Основным соперником русских княжеств была Литва.

3) Одной из причин походов на русские земли было стремление распространить католичество.

4) Русские князья заключили союз с Ливонским орденом для совместных военных действий.

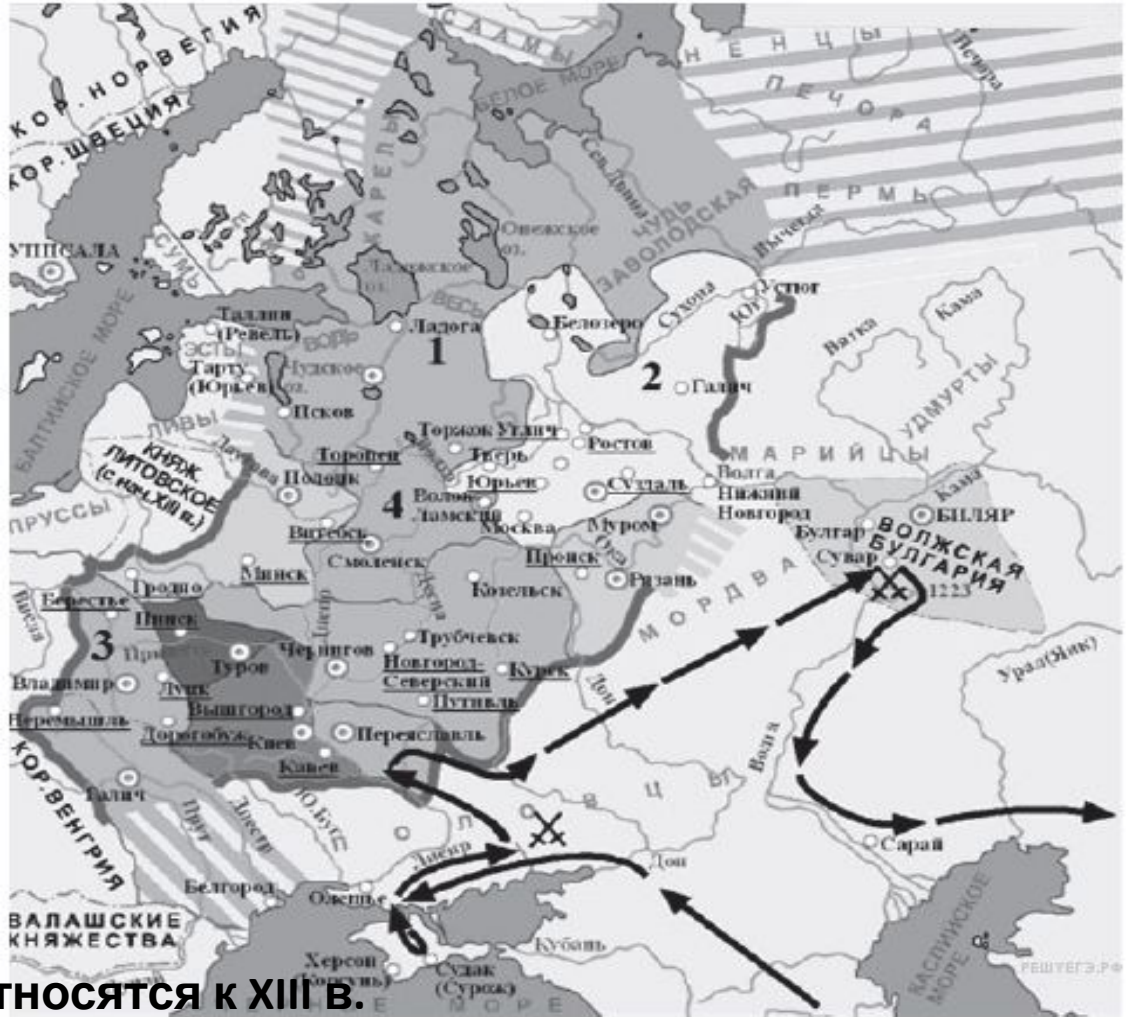
5) За одержанные победы князя-полководца наградили шапкой Мономаха.

6) Благодаря успешным действиям русских войск была обеспечена безопасность западных границ Руси.



1. Напишите термин, обозначающий название периода отечественной истории, события которого изображены на карте.
2. Напишите цифру, обозначающую княжество, в котором была сильная княжеская власть.

Какие суждения, относящиеся к событиям, обозначенным на схеме, являются верными? Выберите три суждения из шести предложенных.



- 1) Изображённые события относятся к XIII в.
- 2) Сражение с участием отрядов русских князей произошло на реке Калка.
- 3) Русскими войсками командовал князь Александр Невский.
- 4) Угроза нападения с юго-востока явилась предпосылкой объединения русских княжеств.
- 5) Для отражения нападения русские земли заключили союз с Литвой.
- 6) Сражение было проиграно русскими войсками, потому что русские князья действовали разрозненно.

- 
- **Охарактеризуйте последствия нашествия Батыея на Русь.**



**И.Глазунов. Штурм города.**

# Из путевых заметок Плано Карпини

«Когда мы ехали через их  
землю, то находили  
бесчисленные головы и  
кости мертвых людей,  
лежавшие на поле.  
Некогда богатый и  
многолюдный Киев  
сведен почти на нет: едва  
существует там и двести  
домов...»



## Последствия нашествия:



- ◆ из 74 городов 49 разрушены;
- ◆ резкое сокращение численности населения.
- ◆ многие ремесленники уведены в рабство;
- ◆ разорение Руси;
- ◆ *зависимость Руси от Золотой Орды*

# Последствия МОНГОЛЬСКОГО вторжения

Экономические	Политические	Социальные	Культурно-бытовые
<ol style="list-style-type: none"><li>1. Разрушение сел и городов</li><li>2. Упадок ремесла</li><li>3. Нарушение торговых связей</li><li>4. Упадок с/х</li></ol>	<ol style="list-style-type: none"><li>1. Изменение роли и значения князя в государстве</li><li>2. Ослабление отдельных русских земель</li></ol>	<ol style="list-style-type: none"><li>1. Резкое сокращение численности населения</li><li>2. Формирование зависимого населения</li><li>3. Запустение земель</li></ol>	<ol style="list-style-type: none"><li>1. Упадок ремесла</li><li>2. Уничтожение храмов, книг, летописей</li><li>3. Утрата политических традиций</li></ol>



Киев

Русские княжества

★ Сарай

Черное море

Каспийское море



# Русь и Золотая Орда в XIII в.





**Насколько  
значимыми  
оказались  
последствия  
установления ига  
для истории  
России?**

ОБЛАВ  
Ы

«Ордынский  
Выход»

ХАН ЗОЛОТОЙ  
ОРДЫ

Баскаки  
Численники

ЯРЛЫКИ

Участие в  
походах

*Неврюева рать  
Дюденева рать*

ВЕЛИКИЙ КНЯЗЬ

КНЯЗЬ

КНЯЗЬ


КНЯЗЬ

РУССКИЕ ЗЕМЛИ



# «Песнь о Щелкане» (отрывок)

Брал он млад Щелкан  
Дани выходы, царские невесты,  
С князей по сто рублей,  
С бояр по пятидесяти.  
У которого денег нет,  
У того дитя возьмет;  
У кого дитяти нет,  
У того жену возьмет;  
У кого жены нет,  
Того самого головой возьмет.



# Из русской летописи



В лето 1257. Той же зимой  
приехали ..., сочли все земли:  
Суздальскую, и Рязанскую, и  
Муромскую, и поставили  
десятников, и сотников, и  
тысячников, и темников и  
шли в Орду; не считали лишь  
игуменов, чернецов и попов,  
тех, кто смотрит на святую  
Богородицу...»

# **Подведем итоги:**

**Насколько значимыми  
оказались последствия  
установления ига для  
истории России?**

№ 23 (анализ исторической ситуации). В середине XIII века русские земли на долгие два с половиной века попали в зависимость от ордынских захватчиков. Назовите одну причину поражения русских государств от монголов в XIII веке. Приведите не менее двух форм зависимости русских земель от Золотой орды.

## Итоги событий 1237-1263 гг.

# Ордынское иго

1240-1480

### Политическая зависимость

Ордынские ханы давали русским князьям ярлык на княжение

### Экономическая зависимость

Русские земли были вынуждены платить дань (ордынский выход)

Результатом **Батыева нашествия** и последующих событий стало установление стабильно действующей системы зависимости русских земель от Золотой орды. Подчеркивая исключительно негативный характер этой зависимости, историки долгое время использовали термин **«ордынское иго»**. Русь потеряла суверенитет – санкция на правление отныне давалась из Орды через ярлык на великое княжение. Экономическая зависимость заключалась в выплате ежегодной дани – ордынского «выхода».

В последние годы в исторической науке исключительно негативные оценки зависимости Руси от Орды сменились более сдержанными. Ряд историков подчеркивают, что через Орду Русь приобщилась к культуре Востока, торговым путям, идущим в Восточную Азию и т.д.

# Сопротивление или сотрудничество?



**Даниил  
Галицкий**



**Александр  
Ярославич  
(Невский)**



**Андрей  
Ярославич**



### **Традиционный образ Александра Невского в массовом сознании**

Александр Невский со времён Ивана Грозного почитается как общерусский святой «благодарный князь», а со времён Петра Великого – как образец мужества в деле защиты Родины от иноземцев. В 2008 г. в ходе многомесячного голосования на одном из российских телеканалов определялось «имя России», т.е. исторический персонаж, который наиболее полно отражает национальный идеал нашего народа. Больше всего голосов набрал именно Александр Невский, опередив А. Пушкина, А. Суворова, П. Столыпина, Д. Менделеева, Александра II, Ф. Достоевского, Петра I, И. Грозного, И. Сталина, В. Ленина. На телепроекте личность Невского представлял будущий глава Русской православной церкви патриарх Кирилл, сказавший о князе, что «вся политическая деятельность Александра Невского определялась... безграничной любовью к Отечеству и своему народу».

### **Оценки Александра Невского частью наших современников**

Позор русского исторического сознания в том, что Александр Невский стал непререкаемым понятием национальной гордости... знаменем... народа, чью историческую судьбу он жестоко исковеркал... Александр Невский, вне всякого сомнения, был национальным изменником.

*М.М. Сокольский,  
публицист (1990-е гг.)*

Существуют два Александра. Один – «реальный» – сын своего времени, хитрый, властолюбивый и жестокий правитель, всеми силами старавшийся сначала заполучить, а потом удержать титул великого князя. Он одним из первых... в годы ордынского нашествия понял простую истину: помогая Орде грабить и угнетать свой народ, можно получить кое-какие выгоды для себя. <...> «Реального» князя Александра Ярославича хорошо знают профессиональные историки. Другой, мифический, Александр Невский – герой, созданный с определёнными политическими целями. Он живёт и действует сегодня, влияя на мысли и поступки множества людей, плохо знакомых с историей Отечества (хотя, скорее всего, полагающих, что отлично знают её).

*И.Н. Данилевский, историк*

# Александр Невский в оценках историков

Еще более спорным вопросом является оценка наследия **Александра Невского** – наиболее известного деятеля средневековой истории Руси.



С одной стороны **Александр** отбил агрессию **Швеции** и **Ливонского ордена в 1240-1242 гг.** В условиях одновременного давления с Востока и Запада он предпочел **союз с Ордой**, который чаще всего трактуется как «меньшее из зол».

С другой стороны, участники этого союза были неравны. Русские князья в течение двух с половиной веков были вынуждены унижаться перед ордынскими ханами, а русские земли – выплачивать ежегодную дань.

**Александр Невский** сыграл непосредственную роль в покорении Ордой **Новгорода** – города, который вообще не был завоеван Батыем, однако тоже был вынужден платить дань после событий **1250-х гг.**

**Из книги Федора Шамагонова и Игоря Грекова «Мир истории: Русские земли в XIII-XV вв.»:**

«Именно Батый навязал князю Александру рать против князя Андрея, и Александр Невский не сам поехал в Орду, а был туда вызван. Нам представляется, что если бы Александр Невский и не поехал в Орду, Орда, в силу своих интересов, все равно направила бы на Русь карательную рать!»

**Из книги Джона Феннела «Кризис средневековой Руси»:**

«Стечение таких событий как путешествие Александра в Орду и карательный набег во главе с Неврюем, с одной стороны, военная акция между его прибытием в Сарай и триумфальным въездом во Владимир – с другой, почти не оставляют сомнений в соучастии Александра».

# Александр Невский и Золотая Орда



**Великий князь Александр Невский.**

Миниатюра из царского титулярника. 1672 г.

**Александр Невский** оставался великим князем Владимирским **в 1252–1263 гг.** На протяжении своего великого княжения он проводил **политику беспрекословного подчинения Орде.**

**В 1255 г.** новгородцы изгнали сына и наместника Александра **Василия** и призвали на княжение брата Александра Ярослава Ярославича, который **в 1252 г.** поддерживал Андрея Ярославича, пытавшегося противостоять Орде.

**Александр** при поддержке новгородских бояр подавил восстание и заставил новгородцев вновь принять **Василия Александровича** на княжение.

**В 1257 г.** Орда впервые провела на Руси **перепись населения** – «число». Цель переписи – упорядочить сбор дани. Новгородцы, опасаясь роста **«выхода»** и считая исчисление народа богопротивным, греховным делом, отказались «даться в число» и восстали.

Даже князь Василий поддержал мятеж. Александр прибыл в Новгород с татарскими **«численниками»** и суздальскими полками и принудил новгородцев повиноваться ханской воле.

**Из книги Федора Шахмагонова и Игоря Грекова «Мир истории: Русские земли в XIII-XV вв.»:**

«За два десятилетия относительно спокойной жизни Северо-Восточная Русь залечила раны, отстроились ее города, победами над интервентами с Запада прославились ее полки. Александр Невский почти достиг своей цели... Быть может не так уж и много оставалось доделать удивительному государю, великому полководцу и блистательному дипломату, чтобы сразиться с Ордой и устроить ей Куликово поле на сто лет ранее, избавив Русь от неисчислимых бедствий предстоящего столетия».

**Из книги Джона Феннела «Кризис средневековой Руси»:**

«Прекращение ордынских карательных походов было вызвано не политикой Александра Невского, а занятостью Орды в Литве, в Южной Руси и особенно в Иране. Александр «фактически положил конец сопротивлению русских князей Орде на многие годы вперед».

**№ 24 (задание на аргументацию). По историческим вопросам высказываются различные, часто противоречивые точки зрения. Ниже приведена одна из противоречивых точек зрения.**

**Используя исторические знания, приведите два аргумента, которыми можно подтвердить данную точку зрения, и два аргумента, которыми можно опровергнуть её. При изложении аргументов обязательно используйте исторические факты.**

**«Ордынская политика Александра Невского была единственно верной в сложившихся исторических условиях»**

1. Историческое сочинение о периоде 1223- 1263 гг. в истории России. В сочинении необходимо:

- указать не менее двух событий (явлений, процессов), относящихся к данному периоду истории;
- назвать две исторические личности, деятельность которых связана с указанными событиями (явлениями, процессами), и, используя знание исторических фактов, охарактеризовать роль этих личностей в событиях (явлениях, процессах) данного периода истории России;
- указать не менее двух причинно-следственных связей, существовавших между событиями (явлениями, процессами) в рамках данного периода истории. Используя знание исторических фактов и (или) мнений историков, дайте одну историческую оценку значимости данного периода для истории России. В ходе изложения необходимо использовать исторические термины, понятия, относящиеся к данному периоду.

## Русские княжества в конце XIII в.

Во второй половине XIII

века великое

Владимирское

княжество распалось на

множество мелких

княжеств, которые лишь

номинально подчинялись

великому князю

Владимирскому. Орда

теперь передавала

Владимир во временное

владение тому, кто

получал

великокняжеский ярлык.

Владимирский князь не

мог вмешиваться во

внутренние дела других

русских княжеств.

После смерти **Александра Невского** великий владимирский престол занимали его братья: **Ярослав Тверской** и **Василий Костромской**.

В годы их правления зависимость Руси от Орды усилилась.

**Ярослав в 1270 г.**, а **Василий в 1272 г.** прибегали к помощи Орды для подавления волнений в Новгороде.

**Василий Костромской** умер **в 1277 г.** В борьбу за великое княжение вступило следующее поколение – сыновья **Александра Невского: Дмитрий Переяславский** и **Андрей Городецкий**.

**В 1277 г.** хан отдал великое княжение **Дмитрию**, но **в 1281 г.** передал его **Андрею**. Придя с ордынским войском, **Андрей** изгнал **Дмитрия** и разорил значительную часть земель **Северо-Восточной Руси**.

# Дюденева рать 1293 года

**Дмитрий** обратился за помощью к хану **Ногаю**, отколовшемуся от Орды. С его помощью он вернул себе великое княжение **в 1283 г.**

Однако **в 1285 г. Андрей** вновь привел на Русь ордынцев, но подчинить Владимир не смог. **В 1293 г. Андрей** пришел на Русь с огромным ордынским войском – **Дюденовой ратью.**

Дюденева рать – войско ордынского полководца **Тудана (Дюдены)** – была самой страшной со времени Батыева нашествия. Ордынцы разорили **14** городов. Особенно сильно пострадал **Переяславль.**

**В 1294 г. Дмитрий Переяславский** умер, а великим князем стал **Андрей Городецкий.**

В общей сложности за **25 лет (с 1275 по 1300 гг.)** Орда совершила **15** карательных походов на Русь. В большинстве случаев ордынцев приглашали русские князья.



Карта движения татар Дюденовой рати

## Потомки Всеволода Большое гнездо:

**Всеволод Большое Гнездо (1154-1212)**  
Великий князь Владимирский  
в 1176-1212 гг.

**Константин (1185-1218)**  
Великий князь Владимирский  
в 1216-1218 гг.

**Юрий (1188-1238)**  
Великий князь Владимирский  
в 1212-1238 гг.

**Ярослав (1191-1246)**  
Великий князь Владимирский  
в 1238-1246 гг.

**Святослав (1196-1252)**  
Великий князь Владимирский  
в 1246-1248 гг.

Ростовские и  
ярославские  
князья

**Александр Невский (1220-1263)**  
Великий князь Владимирский  
в 1252-1263 гг.

**Андрей (?-1264)**  
Великий князь Владимирский  
в 1248-1252 гг.

**Михаил Хоробрит (1229-1248)**  
Великий князь Владимирский  
в 1248 г.

**Ярослав (1230-1272)**  
Великий князь Владимирский  
в 1263-1272 гг.