

# **НЕРАСКРЫТЫЕ СТРАНИЦЫ ЭКОНОМИЧЕСКИХ РАЙОНОВ**

**Урок 9 класс  
География  
Есина Н.А.**

<b>Города</b>	<b><u>5</u></b>	<b><u>10</u></b>	<b><u>15</u></b>
<b>Значимые природные объекты</b>	<b>10</b>	<b><u>15</u></b>	<b><u>20</u></b>
<b>Практика</b>	<b>10</b>	<b><u>15</u></b>	<b><u>20</u></b>
<b>Чтобы это значило?</b>	<b><u>5</u></b>	<b><u>10</u></b>	<b>15</b>
<b>Догонялки</b>	<b><u>30</u></b>	<b><u>30</u></b>	<b><u>30</u></b>


- **СТО**           
- город РФ, порт на  
**Тихом океане.**

**ВЛАДИВОСТОК**



**С "Ч" - по небу я гуляю  
И грозу вам предвещаю.  
С "Л" - я город на реке  
От Москвы невдалеке.  
Пряник мой и самовар  
Знают все: и мал и стар.**

**ТУЧА - ТУЛА**



*Два слога первые - цветок,  
В "дохань" попал мой  
третий слог.*

**А вместе если их прочтёте,  
То в волжский город  
попадёте.**

**АСТРАХАН**

**Ь**



Многосуточная ночь с полярными сияниями, долгие красочные зори весной и осенью. Полярный день летом. Тундра на севере и на поднятиях рельефа, лесотундра в центре, редкостойная тайга на юге. Разнообразие минеральных богатств (апатиты, железо, медь, никель, кобальт, титан...) Между Мурманском и Рыбачьим фьорд с забавным названием Ура-Губа. В его ответвлении — губе Кислой создана первая в стране Кислогубская приливная электростанция (ПЭС).





МУРМАНСКАЯ ОБЛАСТЬ



К этому природному объекту применимы слова «Мать», поется в песне «Из-за острова на стрежень....».

В древности носила название Ра, в средние века Итиль.

Является главной транспортной магистралью.








ВОЛГ

А



**Его называют двугорбым, расположен южнее всех, и как ни странно в Азиатской части страны, покрыт не тающим льдом. Здесь берут начало реки, которые являются притоками реки, впадающей в умирающее море. Является самой ..... России.**



# ЭЛЬБРУС



Рассчитайте, как изменится численность населения в городе Северобайкальск, если за год рождаемость составила 600 человек, смертность — 800 человек, количество выбывших — 1 200 человек, количество прибывших — 700 человек.

**700 человек**

Рассчитайте  
сколько коробок спичек  
произведет Иркутский  
лесоперерабатывающий завод  
из одного 30 –летнего кедра. Для  
справки: высота дерева 10 м,  
диаметр ствола 50 см.

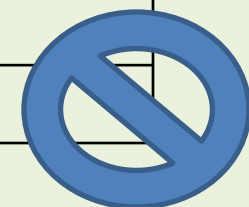
Нисколько,  
кедр – ценное

дерево



Используя данные таблицы, дополните данную диаграмму необходимой информацией:

№	Промышленность	% от общего	
		Бурятия	Иркутская область
1	Электроэнергетика	30,3	11,6
2	Топливная промышленность	3,7	6,8
3	Черная металлургия	0,5	1,4
4	Цветная металлургия	12,6	23,2
5	Химическая и нефтехимическая	0,1	8,4
6	Машиностроение	31,6	15,2
7	Лесная и деревообрабатывающая, целлюлозно-бумажная	6,8	21,8
8	Промышленность строительных материалов	2,3	1,9
9	Легкая	2,2	0,3
10	Пищевая	8,6	8,0
11	Мукомольно- крупяная	0,7	0,5



# ОТВЕТ

- А Легкая**
- Б Лесная и деревообрабатывающая, целлюлозно-бумажная**
- В Машиностроение**
- Г Мукомольно- крупяная**
- Д Пищевая**
- Е Промышленность строительных материалов**
- Ж Топливная промышленность**
- З Химическая и нефтехимическая**
- И Цветная металлургия**
- К Черная металлургия**
- Л Электроэнергетика**



# Реши

**ЦЕНТРАЛЬНАЯ РОССИЯ**

-----

**ЗАПАДНЫЙ МАКРОРЕГИОН**

=

**ВОСТОЧНАЯ СИБИРЬ**

-----


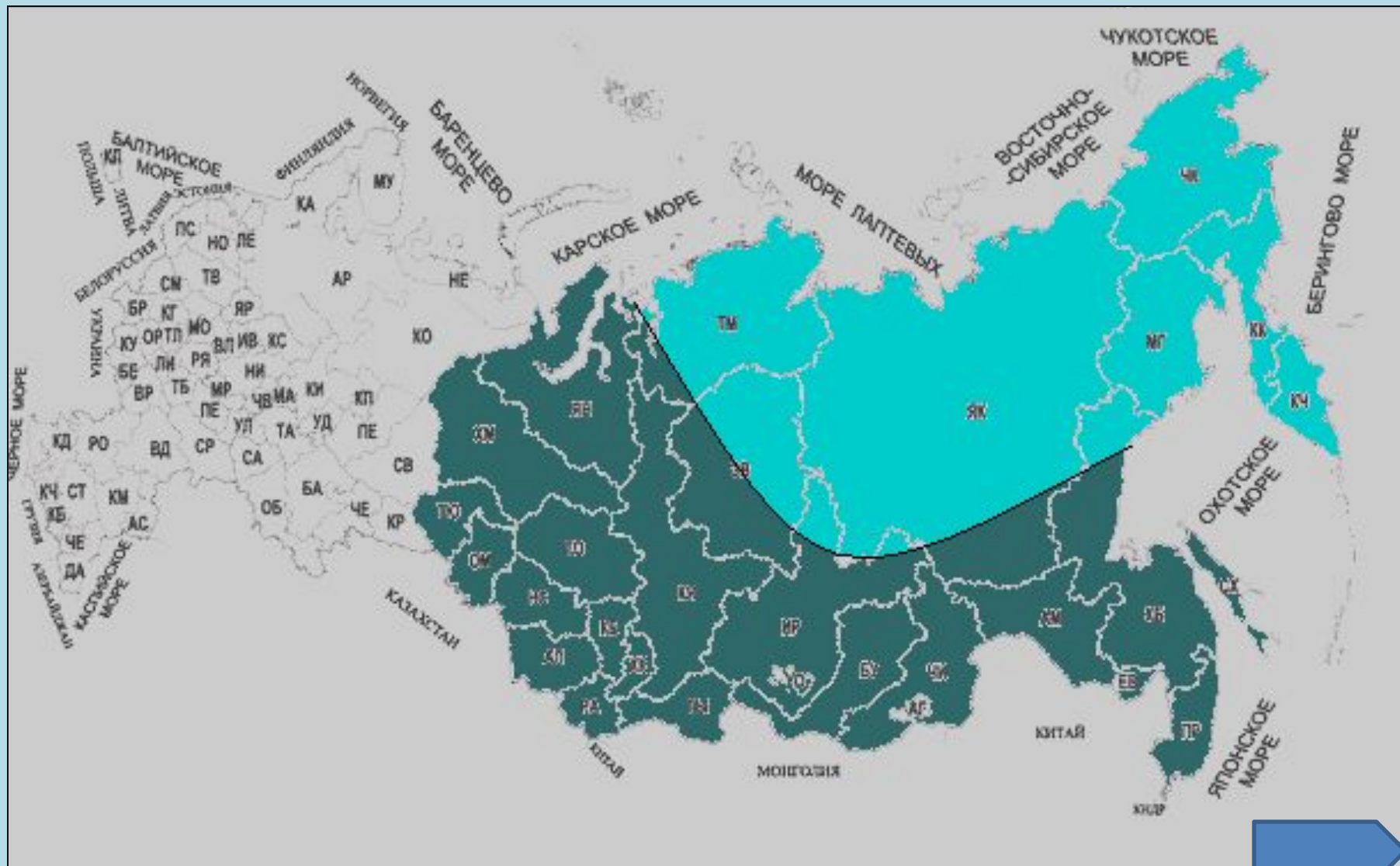
?

**ВОСТОЧНЫЙ  
МАКРОРЕГИОН**

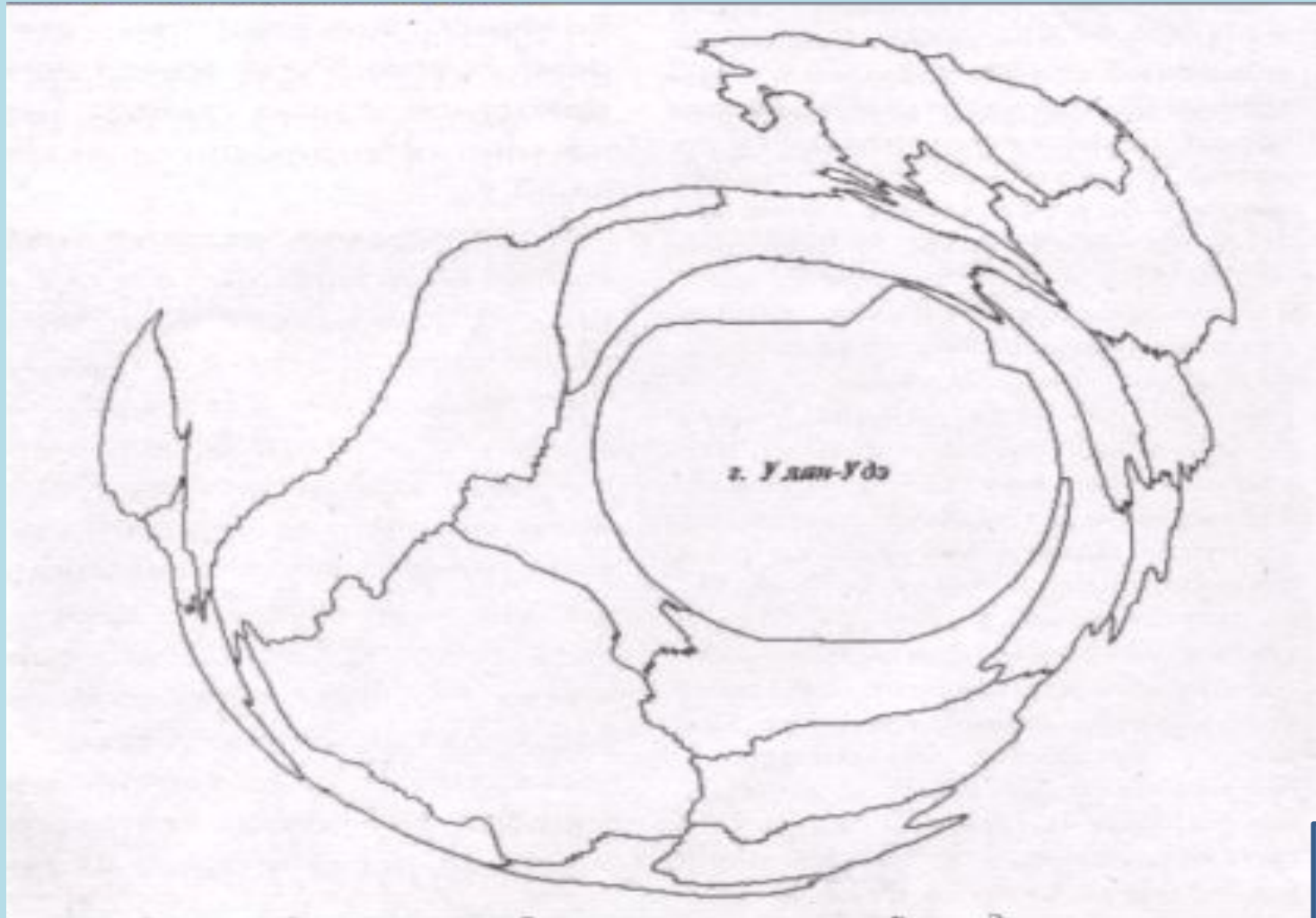




# О каком проекте идет речь?



Что, по вашему мнению, показано на данной схеме?



**Определите субъект**

**30 баллов Федерации**

**Область располагается в  
районе южного  
окончания  
меридиональной горной  
системы, по которой  
принято проводить  
границу между частями  
света.**



20 баллов

**Единственный город  
России, где находятся  
одновременно и АЭС и  
ГЭС.**



10 баллов

**Здесь находится самая  
восточная точка  
течения реки,  
крупнейшей в той части  
света, где Петр I  
прорубал окно**



# Определите субъект Федерации

30 баллов

**В южной части этого  
региона широко  
распространено  
овцеводство.**



20 баллов

**Новый статус этот  
регион получил лишь  
недавно и на картах он  
в прежнем статусе.**



10 баллов

**Граничит с двумя странами, одна из которых выделяется своей численностью, другая огромными пастбищами.**





# Определите субъект Федерации

30 баллов

**Этот субъект РФ имеет сухопутную границу с двумя странами СНГ, одна из которых имеет выход в Мировой океан, а вот столица этого государства находится в зоне внутреннего стока.**



20 баллов

**А столица другого  
государства стоит на  
берегу крупнейшего  
озера Старого Света.**



10 баллов

**Этот субъект богат  
народностями,  
проживающими на её  
территории, за что  
получил название «Гора  
ЯЗЫКОВ»**

