



ПРЯМОЙ СЧЁТ

0, 1,  2, 3, 4, 5,  6, 7, 8,  9, 10.

ОБРАТНЫЙ СЧЁТ

10, 9,  8, 7, 6,  5, 4,  3, 2, 1, 0.

УСТНЫЙ СЧЁТ.

- **Счёт прямой и обратный:**
 - - от 1 до 10;
 - - счёт от 8 до 2;
 - - счёт от 9 до 3;
 - - счёт от 4 до 10.



Загадка

- 1) У цифры голова — крючок,
И даже брюшко есть.
Крючок похож на колпачок,
И эта цифра...



Загадка

- 2) Столько ножек у стола
И углов в квартире,
Догадались, детвора?
Их всегда...



Загадка




- 3) Цифра с буквой «З» похожи, Как двойняшки, посмотри. Даже перепутать можно Букву «З» и цифру...



Загадка

- 4) Разрешит сегодня мама
После школы мне гулять.
Я — не много и не мало —
Получил отметку...





Сложение и вычитание в пределах **10.**



Реши задачи:

Пять ежей – с лукошками,
Три ежа – с гармошками.
Сколько среди сосен
Ежей гуляет?

$$5+3=8$$



По дорожке мышка шла,
Четыре яблока несла,
Два – зайцу отдала,
Остальные в кладовку убрала.



$$4-2=2$$



Идут гулять козлята,
Четыре дружных брата.
А рядом **три** сестрицы –
Три козочки идут.
И братья, и сестрицы
Отправились гулять.
Попробуй-ка, сумей-ка
Их всех пересчитать.


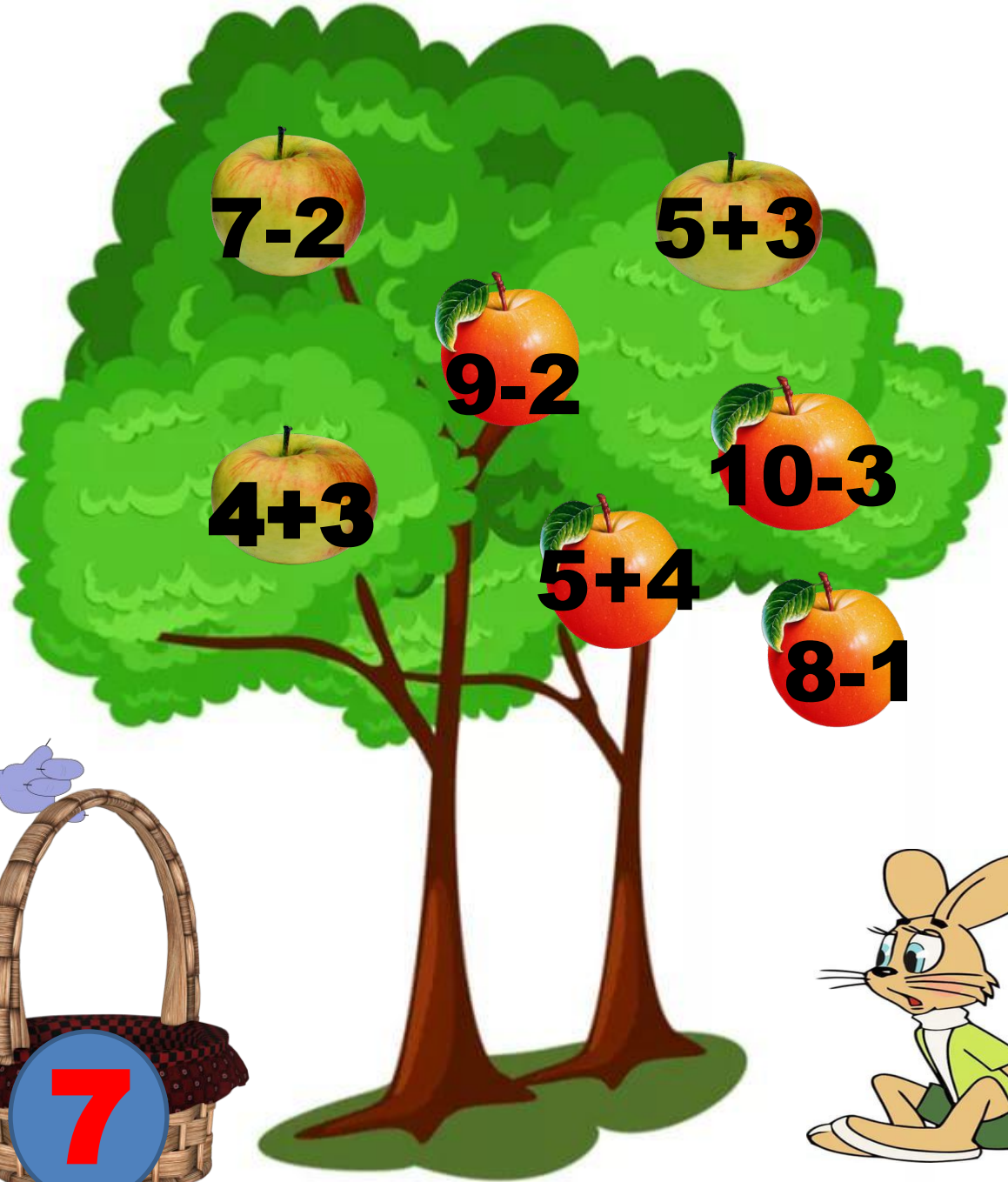
$$4+3=7$$





Помоги волку собрать яблоки в
корзину.





Сколько мышат поймают Леопольд?





$$7-4$$



$$6-1$$



$$8-3$$



$$7-2$$



$$9-3$$



$$10-5$$

Собери букет цветов вместе с
Красной шапочкой.





$$9-1$$



$$4+4$$



$$6-2$$



$$2+7$$



$$5+3$$



$$10-2$$



8



Узнай, в каком домике живёт
каждый поросёнок?





6-3



10-8



5-4



1



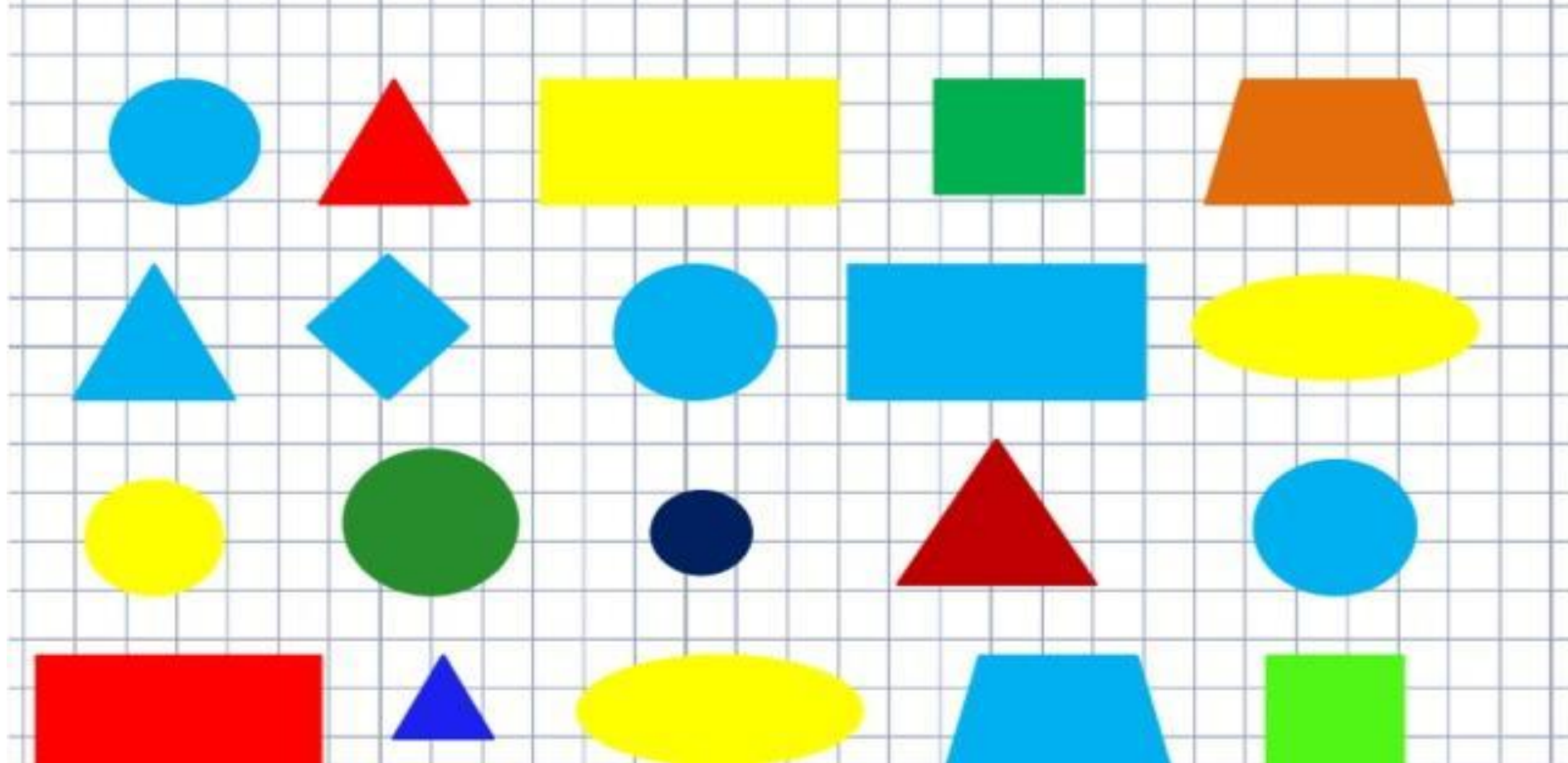
2



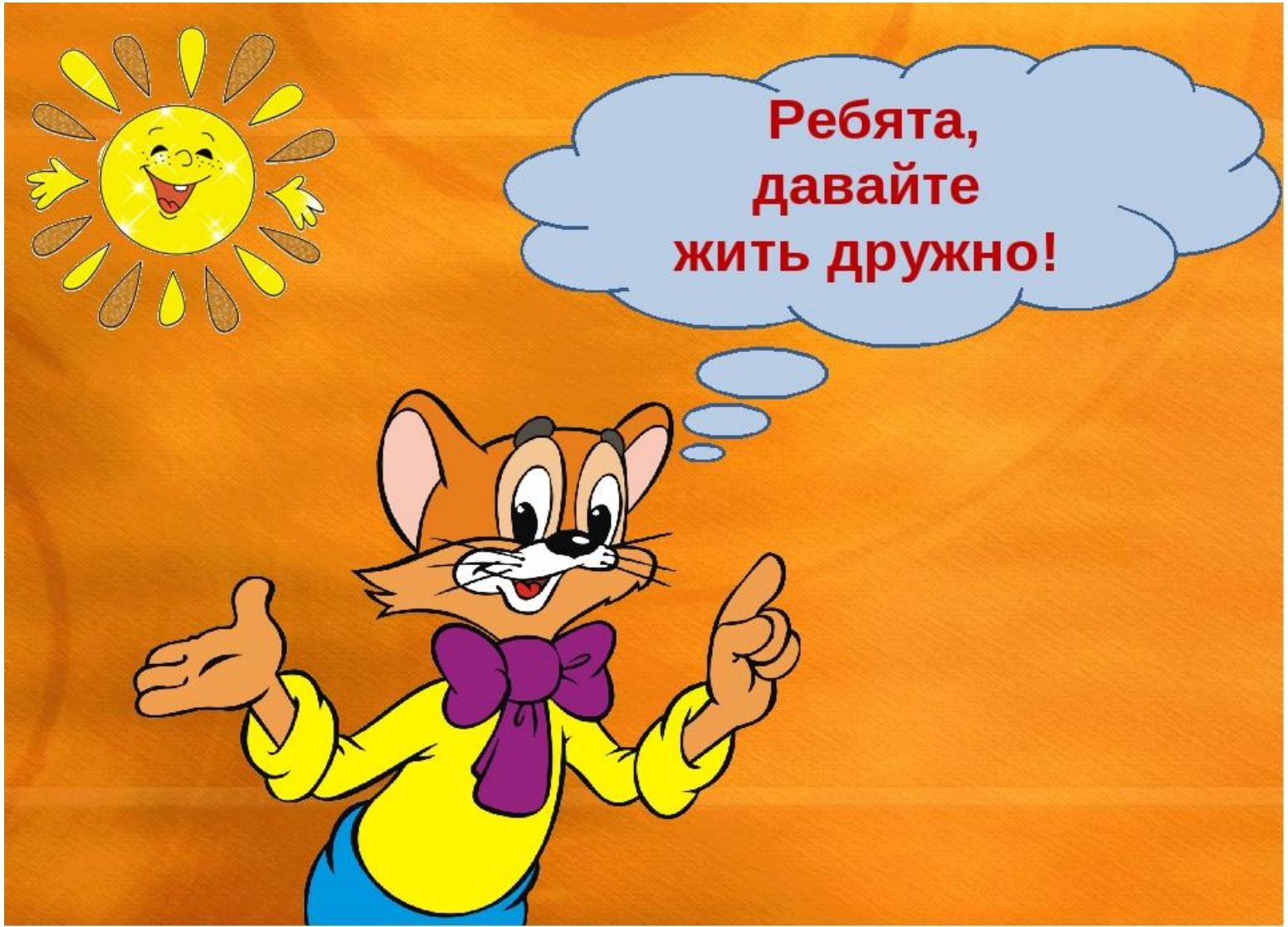
3

Геометрические фигуры.

В каждом ряду найди лишнюю фигуру и подчеркни ее. Объясни, почему она лишняя.



- Все молодцы. Спасибо за урок!



Молодцы!!!

GIF.ru