

# Разбор заданий по картам: экспансия с Запада: Невская битва, Ледовое побоище

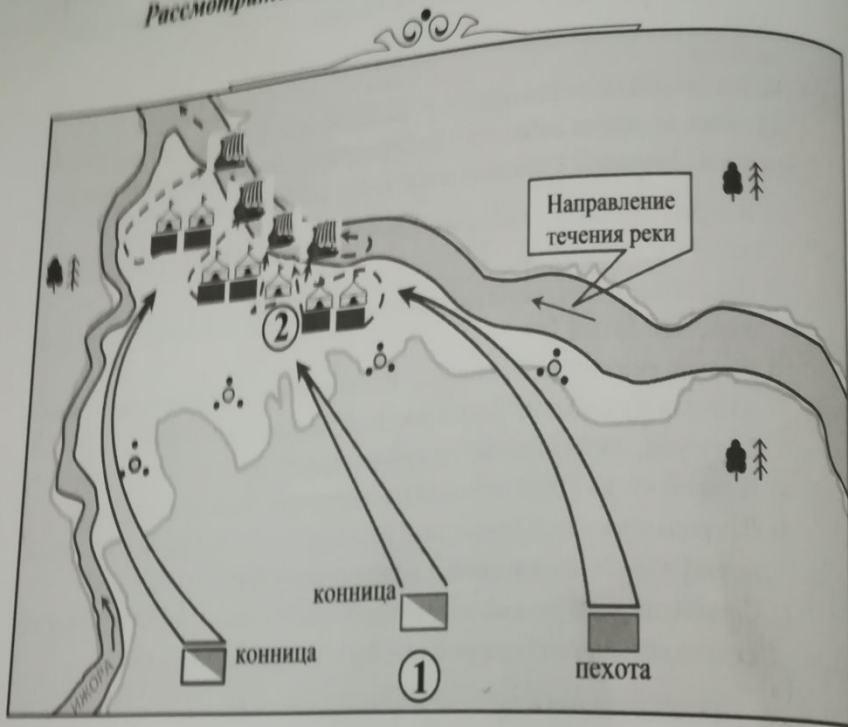


Разбор заданий  
картографического  
свежего  
практикума Пазина  
2019-2020 года  
от преподавателя  
Ощепкова Андрея  
Игоревича

<https://vk.com/repetitorachinsk>



Рассмотрите схему и выполните задания 15.1–15.4.



15.1. Напишите имя полководца, который командовал войском, отмеченным на схеме цифрой «1», и его прозвище, полученное за участие в отображённой на схеме битве.

Ответ: \_\_\_\_\_.

15.2. Напишите имя полководца, предположительно командовавшего войском, отмеченным на схеме цифрой «2».

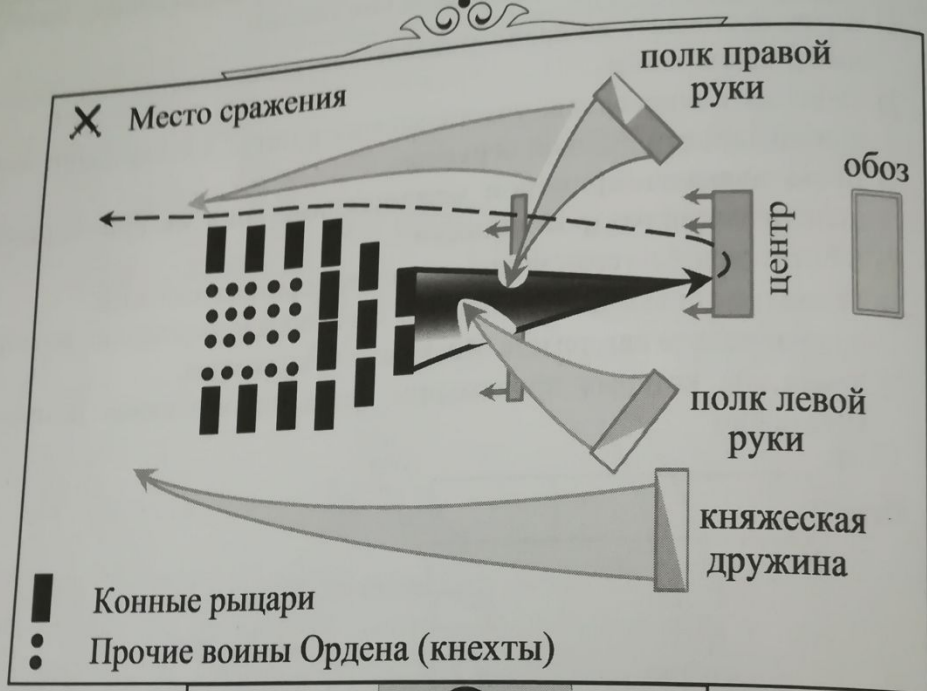
Ответ: \_\_\_\_\_.

15.3. Напишите год, когда произошло сражение, изображённое на схеме.

Ответ: \_\_\_\_\_.

4. Какие суждения, относящиеся к событию, обозначенному на схеме, являются верными? Выберите три суждения из шести предложенных. Запишите в таблицу цифры, под которыми они указаны.

- 1) Битва состоялась во время монгольского нашествия на юго-западные русские земли.
- 2) Один из полководцев, участвовавших в битве, впоследствии был канонизирован Русской церковью.
- 3) Битва являлась примером междоусобных войн на Руси периода политической раздробленности.
- 4) В битве одной из сражавшихся сторон был отряд половцев.
- 5) Результаты битвы имели большое значение для укрепления внешнеполитического авторитета Московского княжества.
- 6) Земли, на которых происходила битва, принадлежали Великому Новгороду.



1. Напишите имя и прозвище полководца, возглавлявшего русские войска в битве, указанной на схеме.

Ответ: \_\_\_\_\_.

2. Напишите название озера, обозначенного на схеме цифрой «1».

Ответ: \_\_\_\_\_.

3. Укажите год, в котором произошла битва, отражённая на схеме.

Ответ: \_\_\_\_\_.

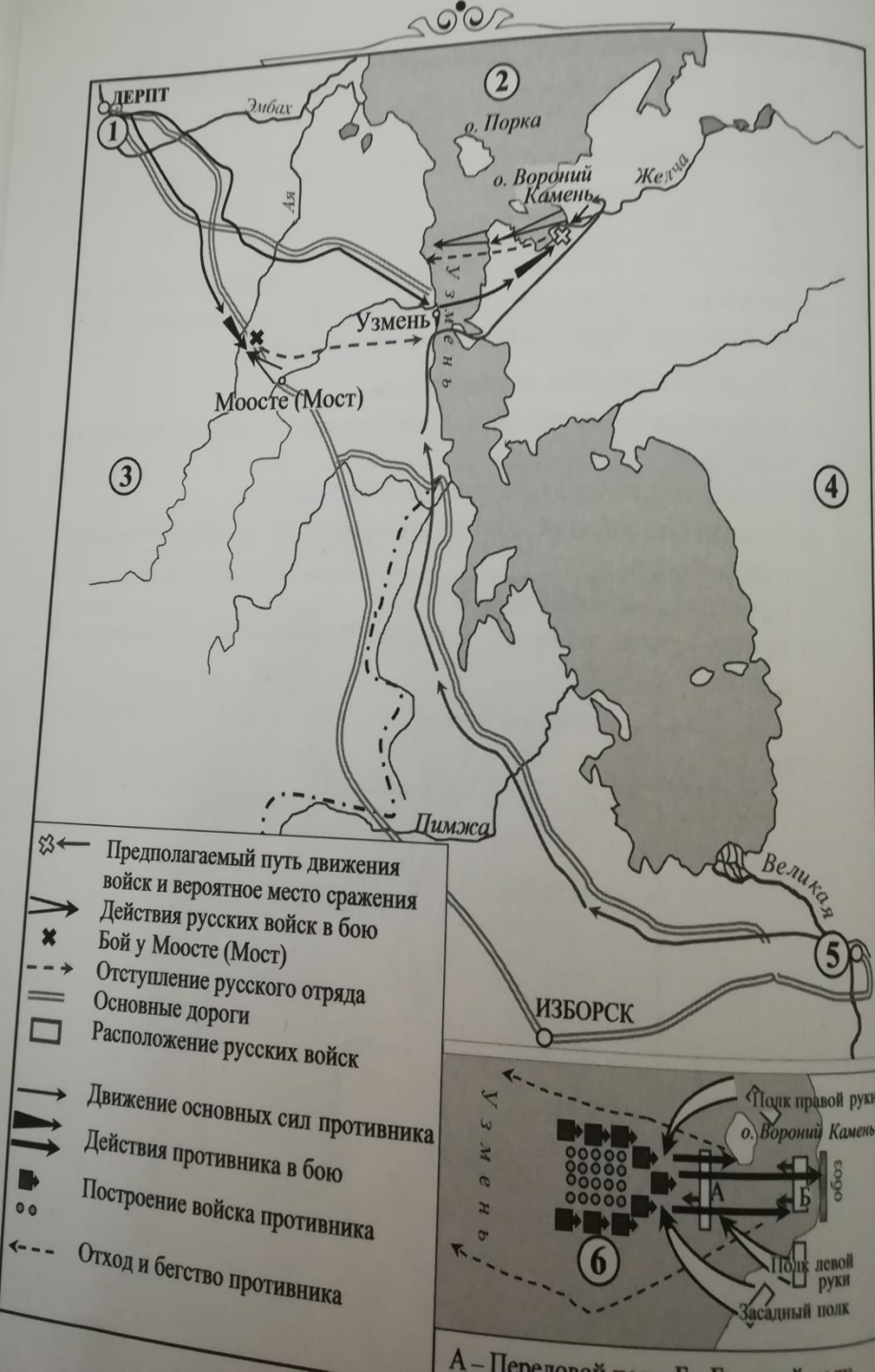
4. Какие суждения, относящиеся к событиям, обозначенным на схеме, являются верными? Выберите три суждения из шести предложенных. Запишите в таблицу цифры, под которыми они указаны.

- 1) Сражение состоялось поздней осенью.
- 2) Войска ордена использовали клин («свинью») в качестве боевого построения.
- 3) Русские войска одержали победу в сражении.
- 4) В результате событий, обозначенных на схеме, русские земли попали в зависимость.
- 5) Сражение состоялось весной.
- 6) Войска ордена воевали с войсками Владимиро-Суздальского княжества.

Ответ:

--	--	--

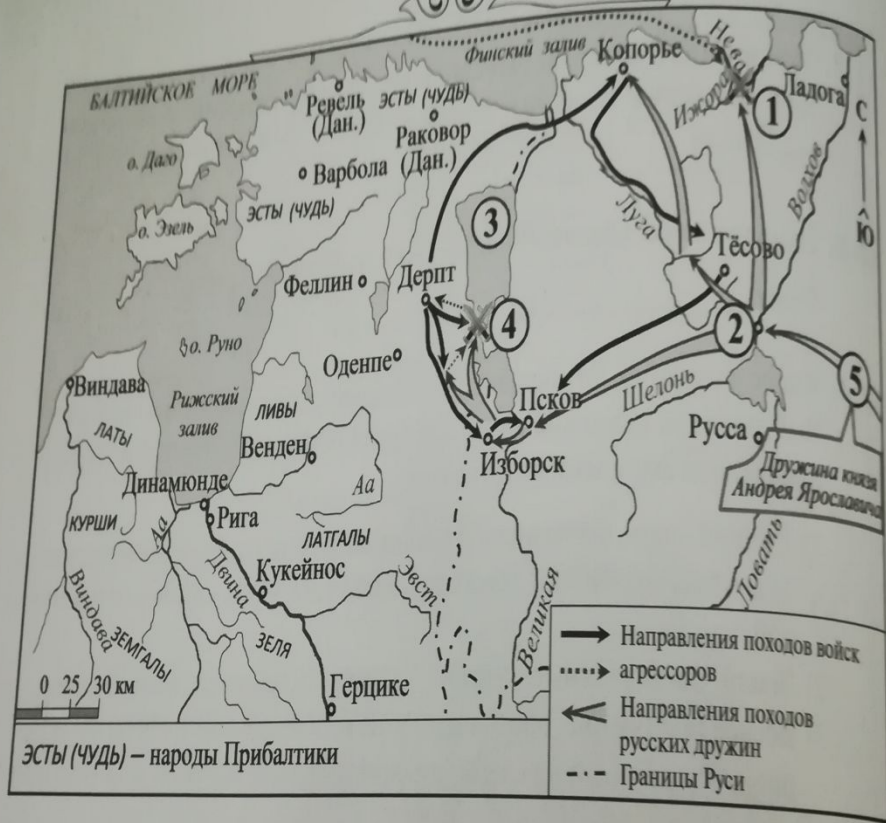




1. Укажите название города, которому принадлежали территории, обозначенные на схеме цифрой «4».  
 Ответ: \_\_\_\_\_
2. Укажите имя и прозвище русского князя, осуществившего боевые операции, показанные на схеме и вставке к схеме.  
 Ответ: \_\_\_\_\_
3. Назовите озеро, обозначенное на схеме цифрой «2».  
 Ответ: \_\_\_\_\_
4. Какие суждения, относящиеся к данной схеме, являются верными? Выберите три суждения из шести предложенных. Запишите в таблицу цифры, под которыми они указаны.
  - 1) Русский князь, проводивший боевые операции, изображённые на схеме, за два года до событий, показанных на схеме, нанёс крупное поражение войскам Батыя.
  - 2) Земли, обозначенные на схеме цифрой «3», принадлежали Швеции.
  - 3) Боевое построение, обозначенное на вставке к схеме цифрой «6», в период, отражённый на схеме, русские называли «свинья» или «кабанья голова».
  - 4) Город, обозначенный на схеме цифрой «5», — Новгород.
  - 5) Город, обозначенный на схеме цифрой «1», был основан Ярославом Мудрым.
  - 6) События, отражённые на схеме, легли в основу сценария советского исторического художественного фильма (1938 г.), название которого совпадает с именем князя, которое требуется назвать в задании № 15.2.

Ответ:

--	--	--



18.1. Укажите век, в который происходили события, показанные на схеме.  
 Ответ запишите словом.

Ответ: \_\_\_\_\_



18.2. Укажите название озера, находящегося на схеме рядом с цифрой «2».

Ответ: \_\_\_\_\_

18.3. Назовите прозвище русского князя, одержавшего победы в сражениях, обозначенных на схеме цифрами «1» и «4».

Ответ: \_\_\_\_\_

18.4. Какие суждения, относящиеся к данной схеме, являются верными? Выберите три суждения из шести предложенных. Запишите в таблицу цифры, под которыми они указаны.

- 1) Цифрой «2» на схеме обозначен Новгород.
- 2) В сражении, обозначенном на схеме цифрой «4», принимали участие русские полки суздальского князя Ярослава Всеволодовича, пришедшие на помощь основным силам.
- 3) В городе, обозначенном на схеме цифрой «2», в данный период существовала сильная княжеская власть.
- 4) В настоящее время города Рига и Ревель (под современным названием) являются столицами независимых государств.
- 5) В ходе событий, обозначенных на схеме стрелкой , показаны действия датчан.
- 6) На схеме стрелкой  показаны действия шведских аггрессоров.

Ответ:

--	--	--