

# Случаи сложения вида $+ 7$ стр. 70



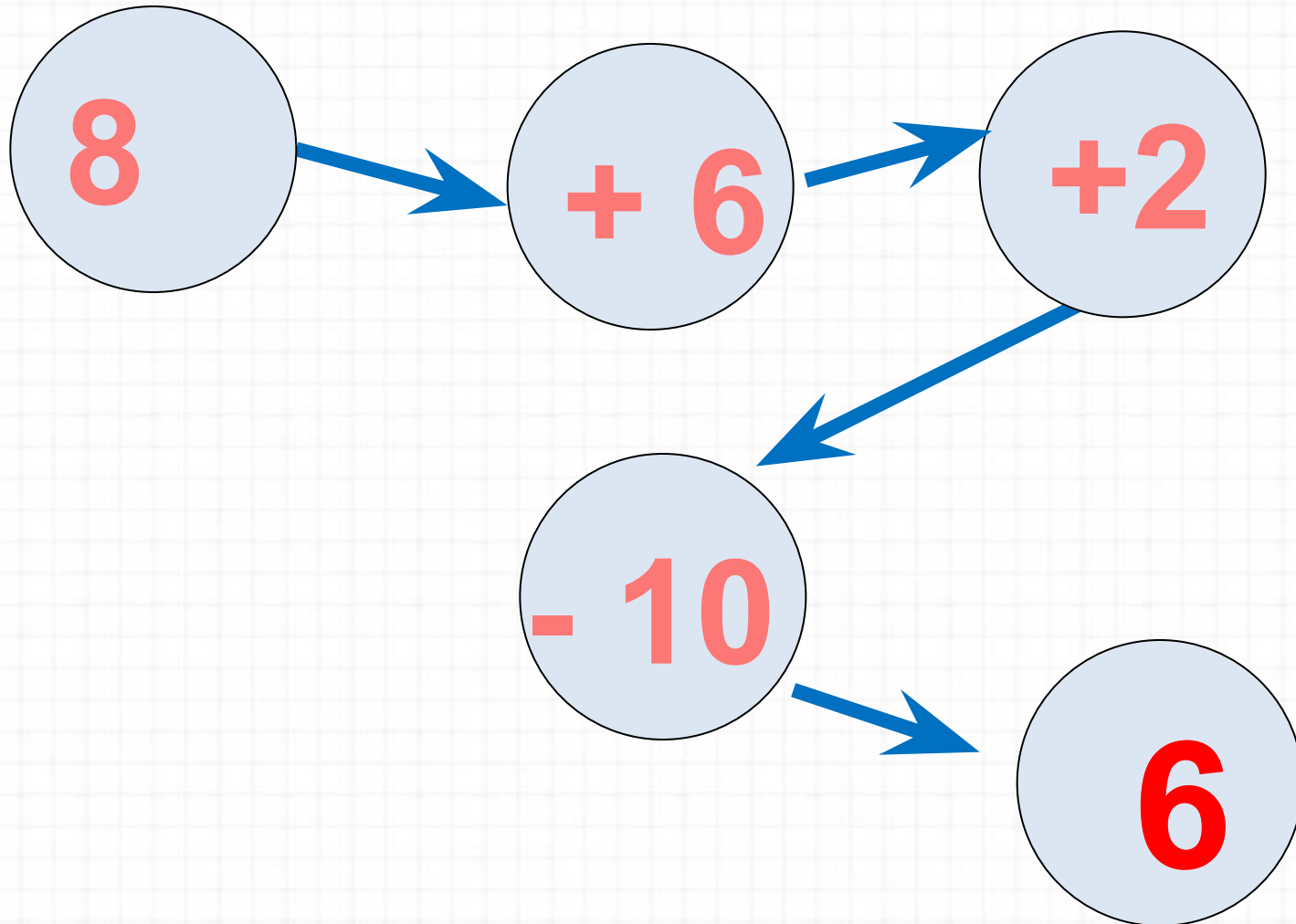
*Школа России  
Математика 1 класс*



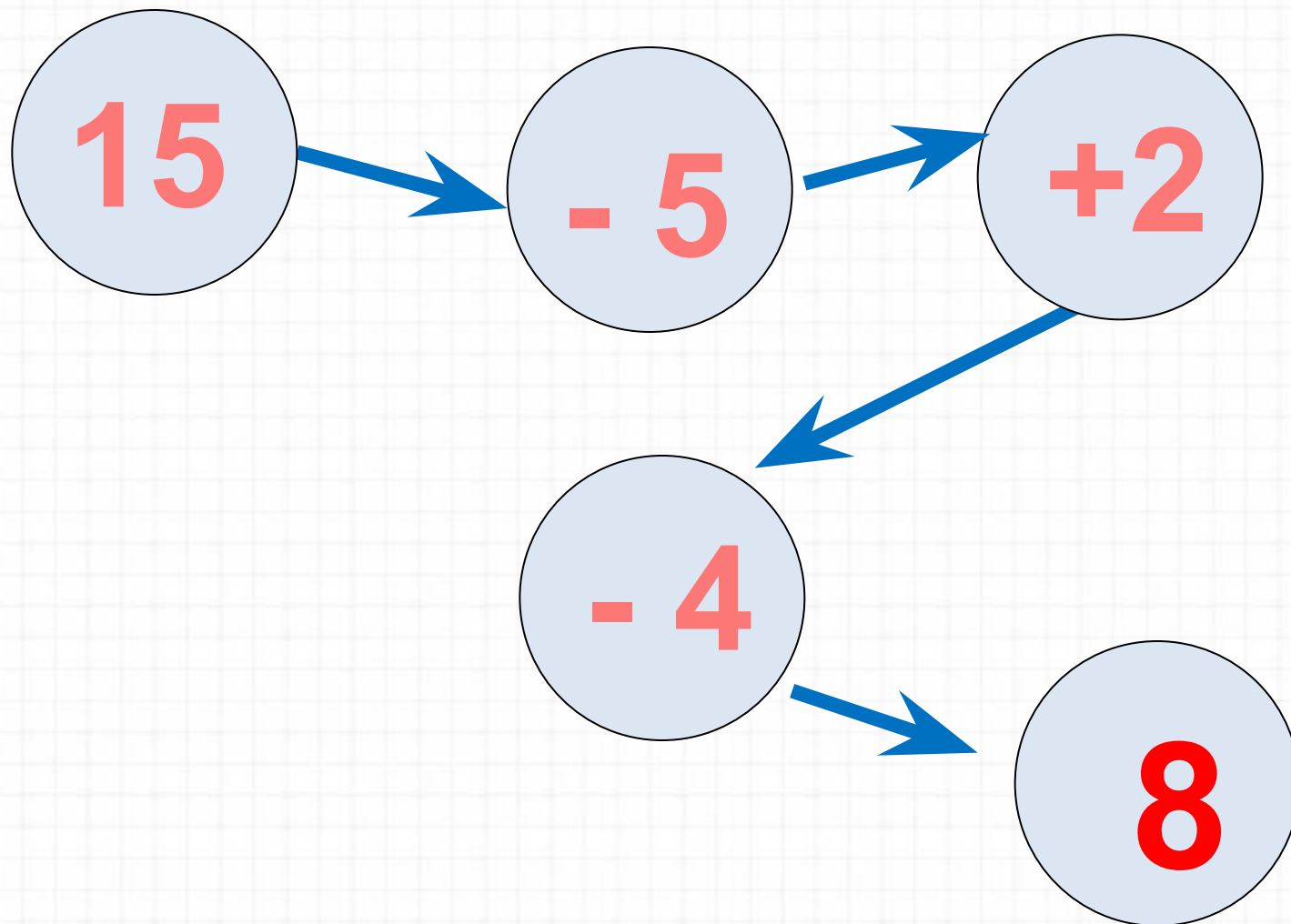


Устный счёт

Реши цепочку примеров.



Реши цепочку примеров.



Дима для украшения класса сделал уже **9** флажков. Ему осталось сделать ещё **6**. Сколько нужно всего сделать флажков Диме?



**15**

$$9 + 6 = 15$$



Диме надо вырезать **15** флажков. Он вырезал уже **10** флажков. Сколько ему осталось вырезать?



**5**

**флажков**

$$15 - 10 = 5$$


Дима сделал для класса **9** красных и **6** жёлтых флажков. На сколько больше он сделал красных, чем жёлтых флажков?



на 3

флажка

$$9 - 6 = 3$$



Расскажи, как удобнее прибавить 2 слагаемое.

$$7 + 6 = 7 + \underline{\quad} + \underline{\quad}$$


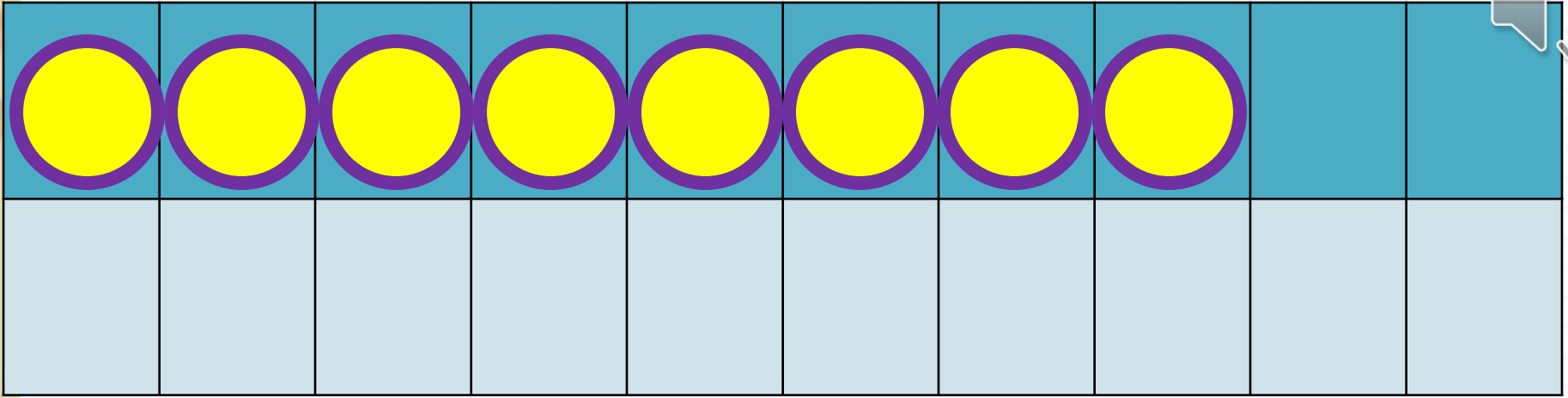
$$8 + 4 = 8 + \underline{\quad} + \underline{\quad}$$

$$9 + 3 = 9 + \underline{\quad} + \underline{\quad}$$




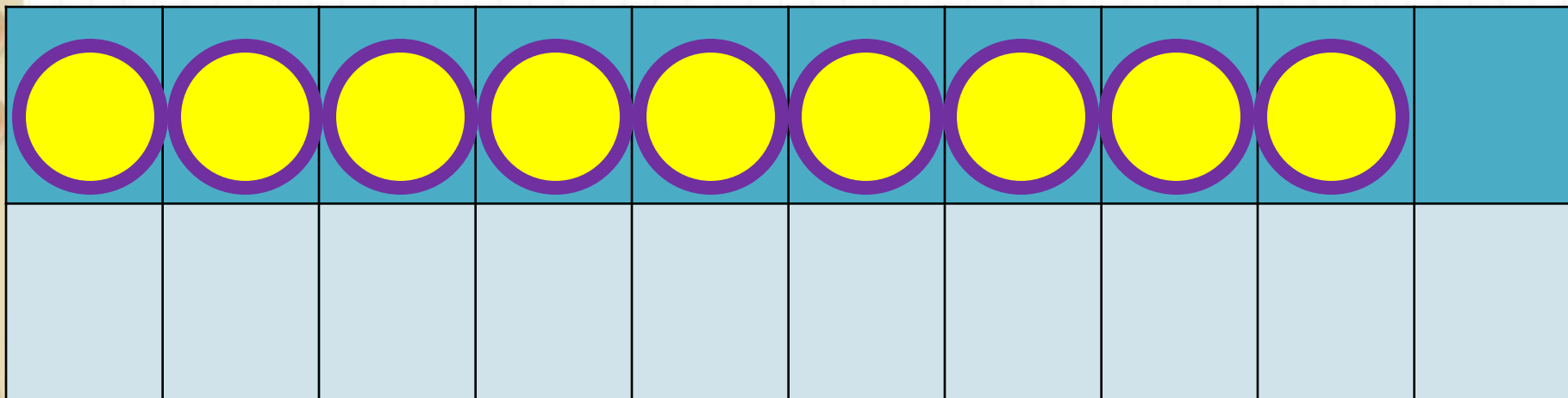
# Новый материал






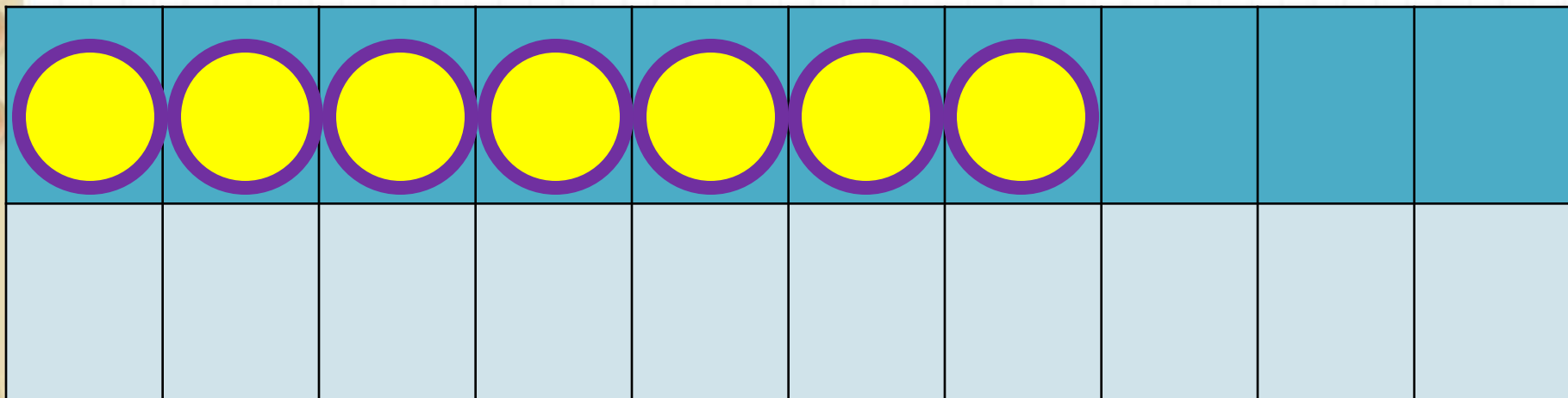
$$8 + 7$$

$$8 + 2 + 5$$



$$9 + 7$$

$$9 + 1 + 6$$



$$7 + 7$$

$$7 + 2 + 5$$

# Запомни!

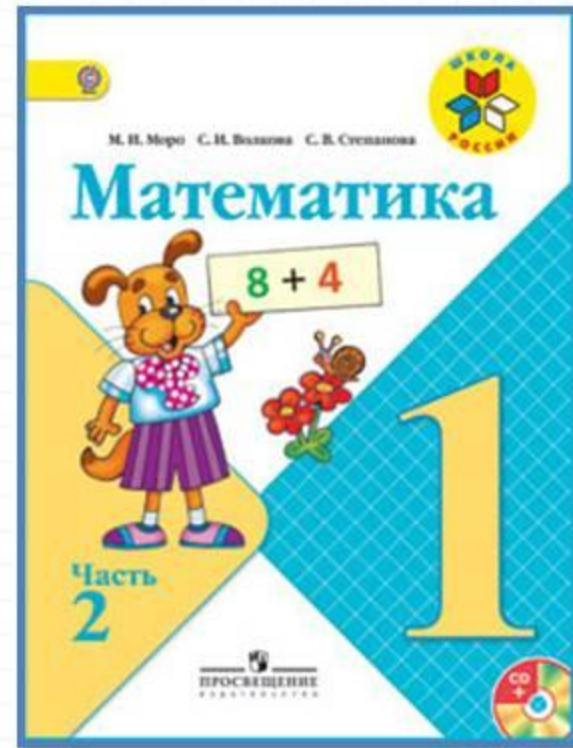
$$7 + 7 = 14$$

$$8 + 7 = 15$$

$$9 + 7 = 16$$

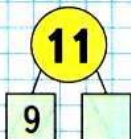

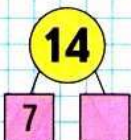
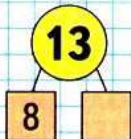
Какое число учились прибавлять?

# Работа по учебнику



стр. 70

$$\square + 7$$



Объясни, как к числу 9 прибавить 7.



$$\begin{array}{r} 9 + 7 \\ 9 + 1 + 6 \end{array}$$

Рассуждая так же, вычисли.

$$\begin{array}{r} 8 + 7 \\ 8 + 2 + \square \end{array}$$

$$\begin{array}{r} 7 + 7 \\ 7 + \square + \square \end{array}$$

**Запомни!**

$9 + 7 = 16$

$8 + 7 = 15$


$7 + 7 = 14$

$1. \quad \begin{array}{|c|c|c|c|c|} \hline 9 + 6 & 9 + 3 & 9 + 5 & 15 - 0 & 0 + 8 \\ \hline 8 + 5 & 8 + 6 & 8 + 4 & 15 - 15 & 9 - 9 \\ \hline \end{array}$

2. После чаепития в одной коробке осталось 6 конфет, а в другой — 4. Сколько конфет осталось в обеих коробках?


3. Какая сумка тяжелее, если в одной 3 кг капусты и 2 кг моркови, а в другой 6 кг картофеля? На сколько килограммов?

4. Что должно быть нарисовано в пустой клетке?



$4 + 2 + 6 = \square \quad | \quad 8 - 3 + 5 = \square \quad | \quad 4 + 5 + 7 = \square$

Объясни, как к числу 9 прибавить 7.



$$\begin{array}{r} 9 + 7 \\ \hline 9 + 1 + 6 \end{array}$$

Рассуждая так же, вычисли.

$$\begin{array}{r} 8 + 7 \\ \hline 8 + 2 + \square \end{array}$$

$$\begin{array}{r} 7 + 7 \\ \hline 7 + \square + \square \end{array}$$

**Запомни!**

$$9 + 7 = 16$$

$$8 + 7 = 15$$

$$7 + 7 = 14$$



1.	$9 + 6$		$9 + 3$		$9 + 5$		$15 - 0$		$0 + 8$
	$8 + 5$		$8 + 6$		$8 + 4$		$15 - 15$		$9 - 9$

2. После чаепития в одной коробке осталось 6 конфет, а в другой — 4. Сколько конфет осталось в обеих коробках?
3. Какая сумка тяжелее, если в одной 3 кг капусты и 2 кг моркови, а в другой 6 кг картофеля? На сколько килограммов?

4. Что должно быть нарисовано в пустой клетке?



# Закрепление изученного



Вставь пропущенные числа.



$$9 + \square = 16$$

$$12 - \square = 6$$

$$\square + 8 = 15$$

Увеличь на 7 числа.



3	7	5	6	8	4	9

$$7 \text{ см} + 7 \text{ см} =$$

$$8 \text{ кг} + 7 \text{ кг} =$$

$$9 \text{ л} + 7 \text{ л} =$$

$$6 \text{ дм} + 7 \text{ дм} =$$

# Задания на смекалку



У бабушки Даши внучка **Маша**, кот **Пушок**, собака **Дружок**. Сколько у бабушки внуков?



1



Мельник пришел на мельницу. В каждом углу он увидел по 3 мешка, на каждом мешке сидело по 3 кошки, у каждой кошки по 3 котёнка. Сколько ног было на мельнице?



Две ноги,  
у кошек

папы

# Рефлексия

Чему научились сегодня на уроке?

Что для вас было самым интересным?

Какое задание вызвало у вас затруднение?

Как вы думаете, почему?

Оцените свою работу на уроке.



