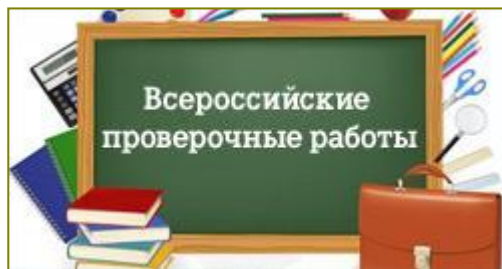


# Готовимся к Всероссийской проверочной работе

Окружающий мир **4** класс

Тренировочные задания  
«Природные зоны России»



# 1. Определите по карте природных зон России название зоны, указанной стрелкой

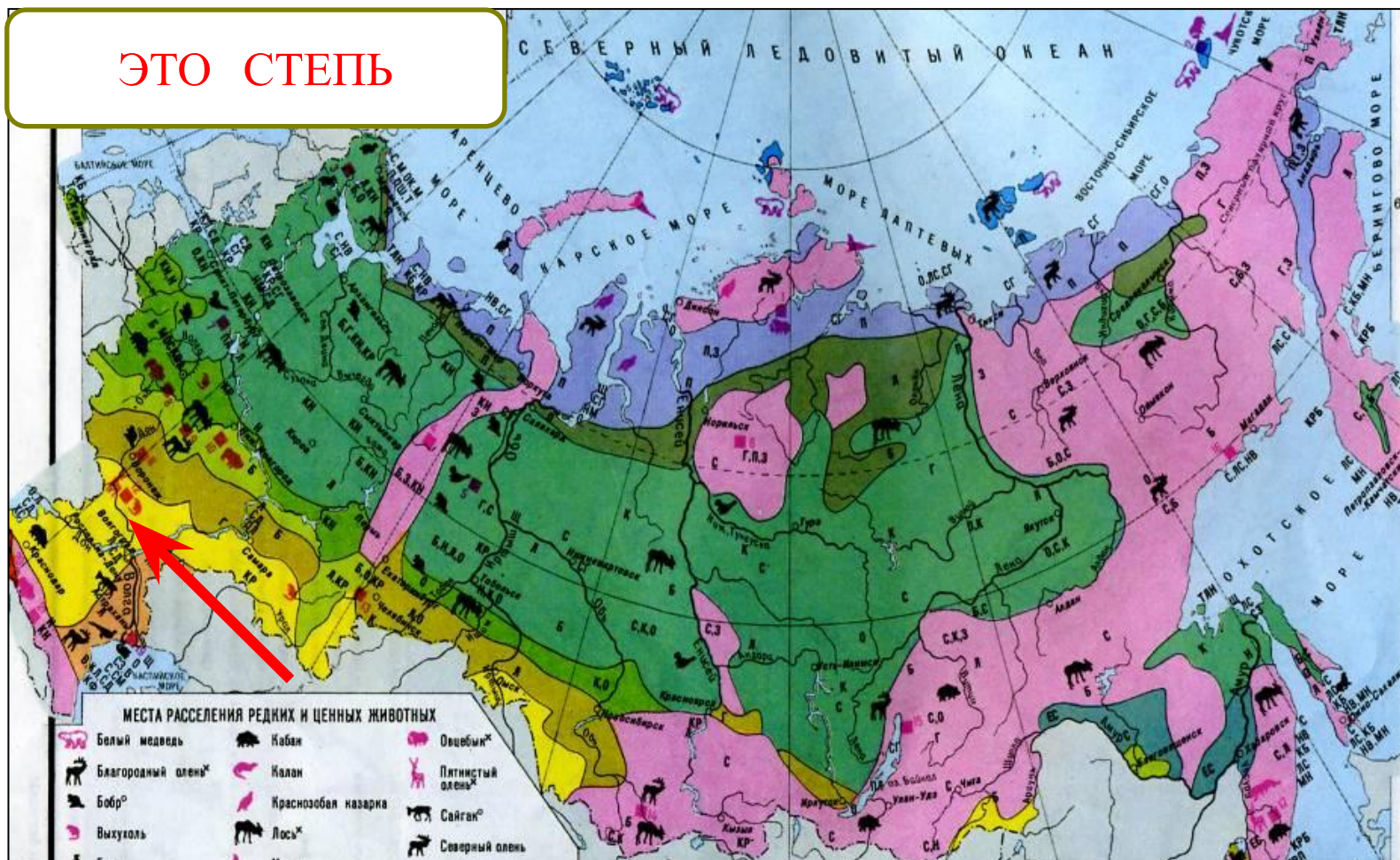
ЭТО ТУНДРА





## 2. Определите по карте природных зон России название зоны, указанной стрелкой

ЭТО СТЕПЬ





### 3. Определите по карте природных зон России название зоны, указанной стрелкой

ЭТО АРКТИЧЕСКИЕ ПУСТЫНИ



4. По тексту определите, о какой природной зоне идёт речь



Зона тундры

Зона лесов

Зона пустынь


Зона степей





## 5. Заполните таблицу, используя предложенные слова и названия

ЗОНА	РАСТЕНИЯ	ЖИВОТНЫЕ




БЕЛА  
КУРОПА  
  
ВЕРБЛ  
КОЛЮ



## 6. Заполните таблицу, используя предложенные слова и названия

ЗОНА	РАСТЕНИЯ	ЖИВОТНЫЕ



## 7. Заполните таблицу, используя предложенные слова и названия


ЗОНА	РАСТЕНИЯ	ЖИВОТНЫЕ



КОМЯ

РЛИ

ИВ





**8. Если ты захочешь побольше узнать об обитающих в пустынях змеях, то какую из книг ты выберешь?**

**А. Атлас «Достопримечательности пустыни Сахара»**

**Б. Роман «Жизнь в ледяной пустыне»**

**В. Энциклопедия «Пресмыкающиеся степей и пустынь»**



**Г. Энциклопедия «Мир зверей степей и пустынь»**

9. Северное сияние - это явление, характерное для природной зоны \_\_\_\_\_.

А. ПУСТЫНЬ

Б. СТЕПЕЙ


В. ЛЕСОВ

✓ Г. АРКТИЧЕСКИХ  
ПУСТЫНЬ





**10. Определите, к какой природной зоне можно отнести указанную модель цепи питания**



**А. ПУСТЫНЬ**

**В. ЛЕСОВ**

**Б. СТЕПЕЙ**



**Г. ТУНДРЫ**

# 11. Определите, какое звено в цепи питания пропущено



А. КОМАР

В. ЛЕММИНГ ✓


Б. СЕВЕРНЫЙ  
ОЛЕНЬ

Г. ВОЛК





**12.** Определите, по каким причинам в тундре много болот и озёр



**А.** Постоянно идут дожди.

**Б.** Многолетняя мерзлота не пропускает дождевую и талую воду на глубину.

**В.** Почва бедна перегноем.

**Г.** Из – за низкой температуры воздуха вода с поверхности почвы испаряется медленно.

**13. Выберите, какие типы лесов встречаются в зоне лесов**

**А.** Смешанные леса

**А Б В**

**Б.** Тайга

**А Б Г**

**В.** Тропические леса

**Б В Г**

**Г.** Широколиственные леса

**А В Г**



**14.** Отметьте признаки приспособленности белого медведя к условиям жизни в Арктике

**А.** Ноги, превратившиеся в ласты.

**Б.** Густая длинная шерсть.

**В.** Белый цвет меха.

**Г.** Широкие лапы.

**Д.** Мощные клыки, похожие на сабли.



**А Б В**

**А Б Г**

**Б В Г**

**В Г Д**

**15. Определите, в каком ряду названия животных подписаны верно**



**А.** Белая куропатка, лось, северный олень, лемминг.

**Б.** Белая куропатка, сайгак, северный олень, хомяк.

**В.** Белая куропатка, сайгак, северный олень, лемминг.

**Г.** Полярная сова, сайгак, северный олень, хомяк.



**16. Определите, какое звено в модели цепи питания пропущено**

СТЕПНЫЕ ЗЛАКИ

СУСЛИК



А.




Б.




В.

# 17. Установите соответствия



А.




Б.



В.



Г.



Д.

1. ЛЕС

2. ТУНДРА


3. СТЕПЬ

4. ПУСТЫНЯ

5. АРКТИЧЕСКАЯ  
ПУСТЫНЯ



**18. Выберите, каких домашних животных разводят в пустынях и полупустынях**




**А.**



**Б.**



**В.**



**Г.**

**А Б**

**А Г**

**А В**

**Б В**

**19. Выберите, какой заповедник находится в зоне арктических пустынь**



**20.** Выберите, какой заповедник создан для сохранения полупустынь и пустынь



## 21. Узнайте птицу по описанию





## 22. Узнайте животное по описанию



## 23. Узнайте животное по описанию



## 24. Отметьте признак приспособленности ковыля к условиям жизни в степи

А. Цветёт весной, до наступления летней жары

Б. Имеет очень узкие листья, которые испаряют мало влаги.

В. Запасает влагу в толстых, мясистых листьях.



**25.** Определите, какое звено в модели цепи питания пропущено



**А.** ЛОСЬ

**Б.** БУРУНДУК



**Г.** БЕЛКА



# Использованная литература

- Демидова М. Ю. Готовимся к Всероссийской проверочной работе. Окружающий мир. Рабочая тетрадь. **4** класс. М.: Просвещение, **2016**.
- Плешаков А. А. Окружающий мир. Тесты. **4** класс. Пособие для общеобразоват. учреждений.— М.: Просвещение, **2013**.

# Интернет ресурсы

- **[note.taable.com](http://note.taable.com)**
- **[prikoli.smigid.ru](http://prikoli.smigid.ru)**
- **[imgplusdb.com](http://imgplusdb.com)**
- **[mimege.ru](http://mimege.ru)**
- **[www.apus.ru](http://www.apus.ru)**
- **[kladraz.ru](http://kladraz.ru)**
- **[7law.info](http://7law.info)**
- **[parkzakamsk.ru](http://parkzakamsk.ru)**
- **[vk.com](http://vk.com)**
- **[all-pix.com](http://all-pix.com)**

# Источник шаблона

Сайт <http://linda6035.ucoz.ru/>