



Реши
кроеворд



ЛУ

2 П Л Ю 3

5 Я

4 Ч И С Л

6 Ю Т Р Е З О

О

СК

Ж

АД

Е

АЧ

7 Т Р Е У Г О Л Ь Н И

8 К И

СТ

И

8 Д Е Л Е Н И

9 П Я Д Ь

Е



Задание №5

Копатыч вырастил в своём саду 24 кг яблок и 36 кг груш. Шестую часть всех фруктов он отдал своему другу Крошу, пятую часть всех фруктов Лосяшу, а остальные - Нюше. Сколько килограмм фруктов получила Нюша?



Решение

- 1) $24 + 36 = 60$ (кг) всего фруктов собрал Копатыч
- 2) $60 : 6 = 10$ (кг) фруктов получил Крош
- 3) $60 : 5 = 12$ (кг) фруктов получил Лосяш
- 4) $60 - (10 + 12) = 38$ (кг) фруктов получила Нюша

Ответ : 38 кг






**Не хочу, не хочу! Везде
учат, в школе учат,
дома учат, ещё и в
сказке навалились**

**Да тебе видать
надо в Тридевятое
царство**








Тридевятое царство



**Выход из
сказки**



1. Какая точка лежит левее на координатном луче?

А (5) или З (2);
Н (15) или Б (27);
С (20) или А(3);
Д (101) или Н (14);
И (8) или К (17);
Е (9) или Р (10).



Выпишите названия этих точек.

2. Начертите координатный луч и отметьте точки с соответствующими координатами. **Какое слово появилось на луче?**

И (4) С (1) А (7) Л(5)

**ЗНАНИЕ
СИЛА**



**И решил Вовка с тех пор всё делать
сам**




Самостоятельная работа



Лучики желтого цвета – мне очень понравилось занятие.

Лучики голубого цвета – занятие не интересное.





**До новых
встреч !**

