


5 февраля – «День

эрудита»



5 февраля – «День

Эрудит – образованный человек, который много читает, изучает разные предметы, познаёт мир.

5 февраля – «День

Эрудит – образованный человек, который много читает, изучает разные предметы, познаёт мир.

Интересные факты:

- Самый высокий IQ (коэффициент умственного развития) показала 10-летняя американка Мэрилин Во Саван в 1956 году. Она попала в Книгу рекордов Гиннеса.
- IQ передаётся по наследству с вероятностью в 70%.

5 февраля – «День

Чтобы быть эрудированным, умным человеком, нужно много читать, интересоваться разными науками, развивать логику.

Тебе предлагается **10 заданий**, которые необходимо выполнить **за указанное время**. Ты выполняешь на карточках, а затем сверяешь свой результат с готовым решением.

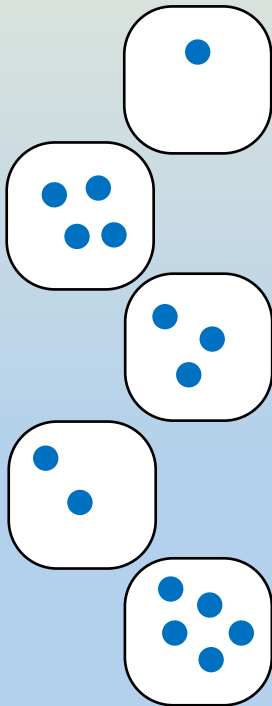
Успехов!

ЗАДДААН

ИЯ

**№
1**

Соедини слева направо.
По какому принципу соединять,
догадайся.



2

ДВА

1

ЧЕТЫРЕ

4

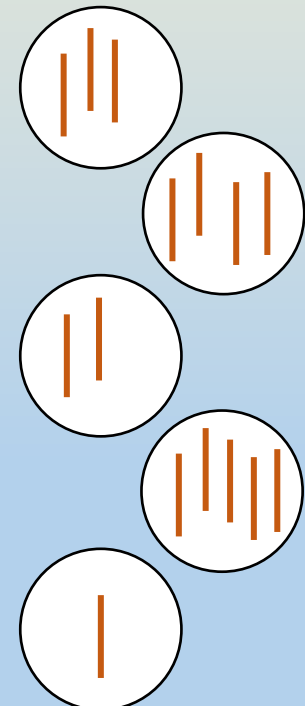
ОДИН

5

ПЯТЬ

3

ТРИ



№

2

Разрисуй клетки по

адресам.



3			
2			
1			
	А	Б	В
		А2	
		Б1	
		В3	

4				
3				
2				
1				
	А	Б	В	Г
		А3	В2	
		Б1	В3	
		Б4	Г1	

5					
4					
3					
2					
1					
	А	Б	В	Г	Д
		Д1	Г1	Б3	
		Д4	В2	А5	
		Г5	Б4	А2	

№

3

Найди 9 отличий.

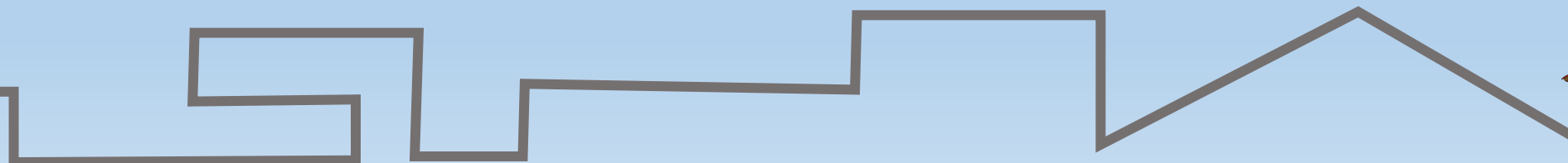






№

4

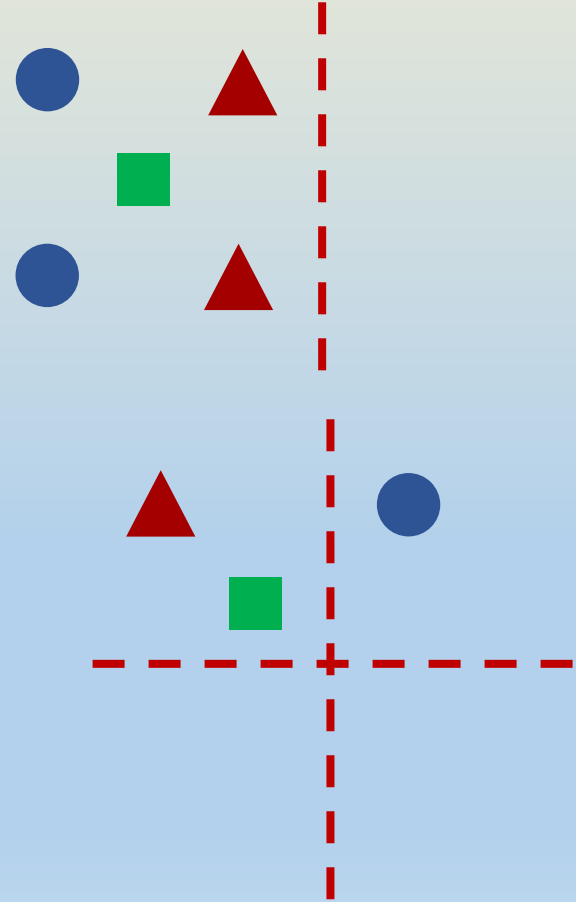
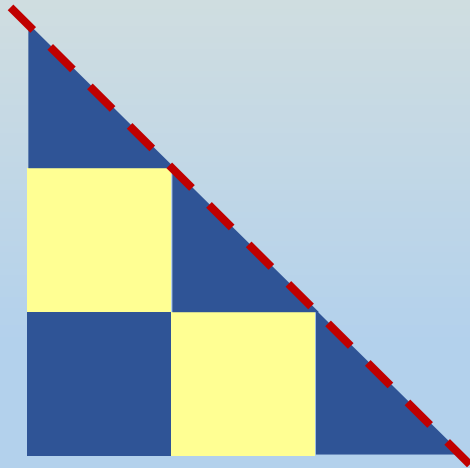

На какой дороге ровно 6 поворотов

вправо?



**№
5**

Дорисуй и раскрась
симметрично
относительно указанной линии.



№

6

Сколько раз можно найти в этих строках слово «весна»?



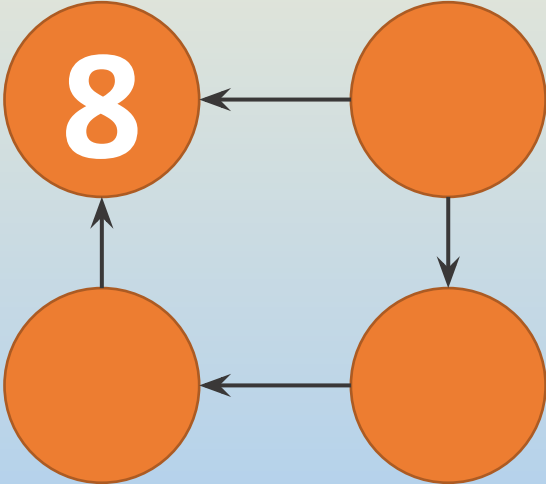
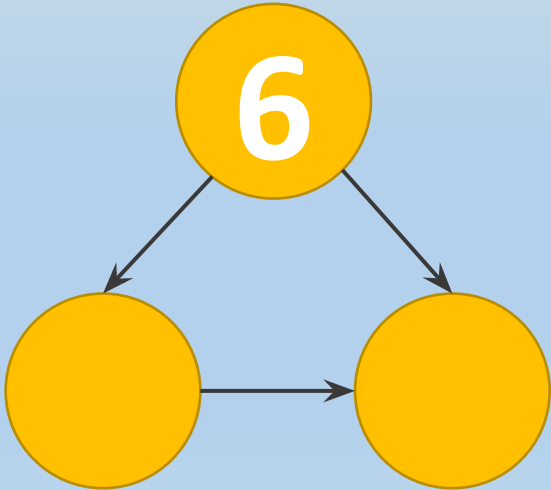
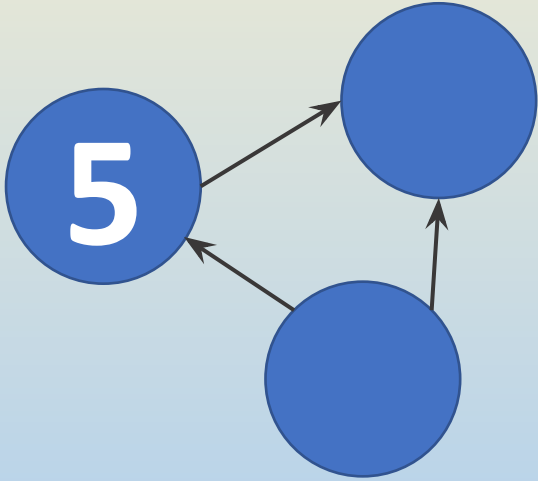
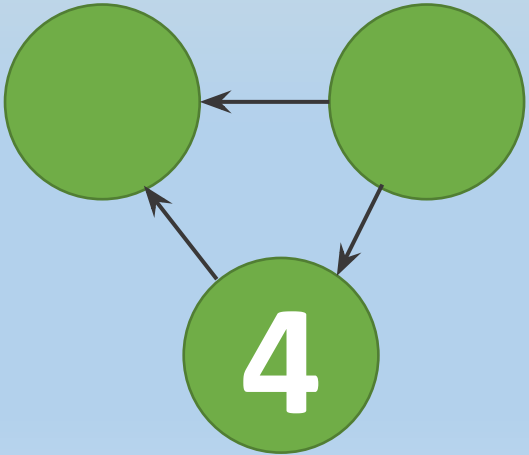
ВЕСНА ВЕНИК ВЕСНА ВЕТЕР
ВЕСНА ВОЛК ВЕСНА ВОСКВЕ
СНА ВЕСТЬЛЯ
ВЕСНА МО ВЕСНА РЕКА ВЕСНА
АДОМ
ВЕСНА РЕ ВЕСНА МИ ВЕСНА В
ЕСНА

ВОЙ ВЕСНА СН ВЕСНА ФЕ ВЕС

_____ СЛОВ


№
7

Впиши любые числа таким образом, чтобы стрелка шла от меньшего числа к большему.



№
8

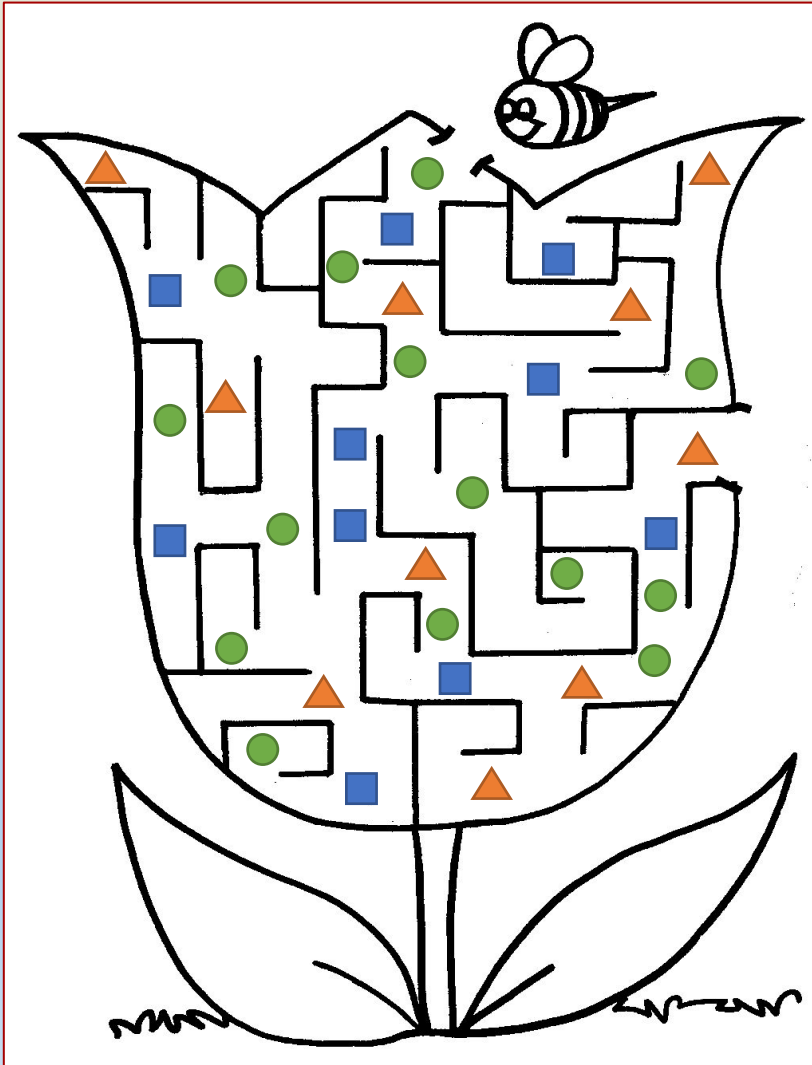
Соедини бусы.



№

9

Посчитай количество каждой геометрической фигуры на выходе из лабиринта.



Треугольников: _____

Квадратов: _____

Кругов: _____

№1

0

Составь слово из букв, за
оторыми
спряталось число 3.



2	+	Э	=	5
4	-	Л	=	2
5	+	Р	=	8
13	-	У	=	10
8	-	Е	=	6
7	+	Д	=	10
4	+	А	=	1
3	+	И	=	6
9	-	С	=	5
8	-	Ж	=	1
1	+	Т	=	4

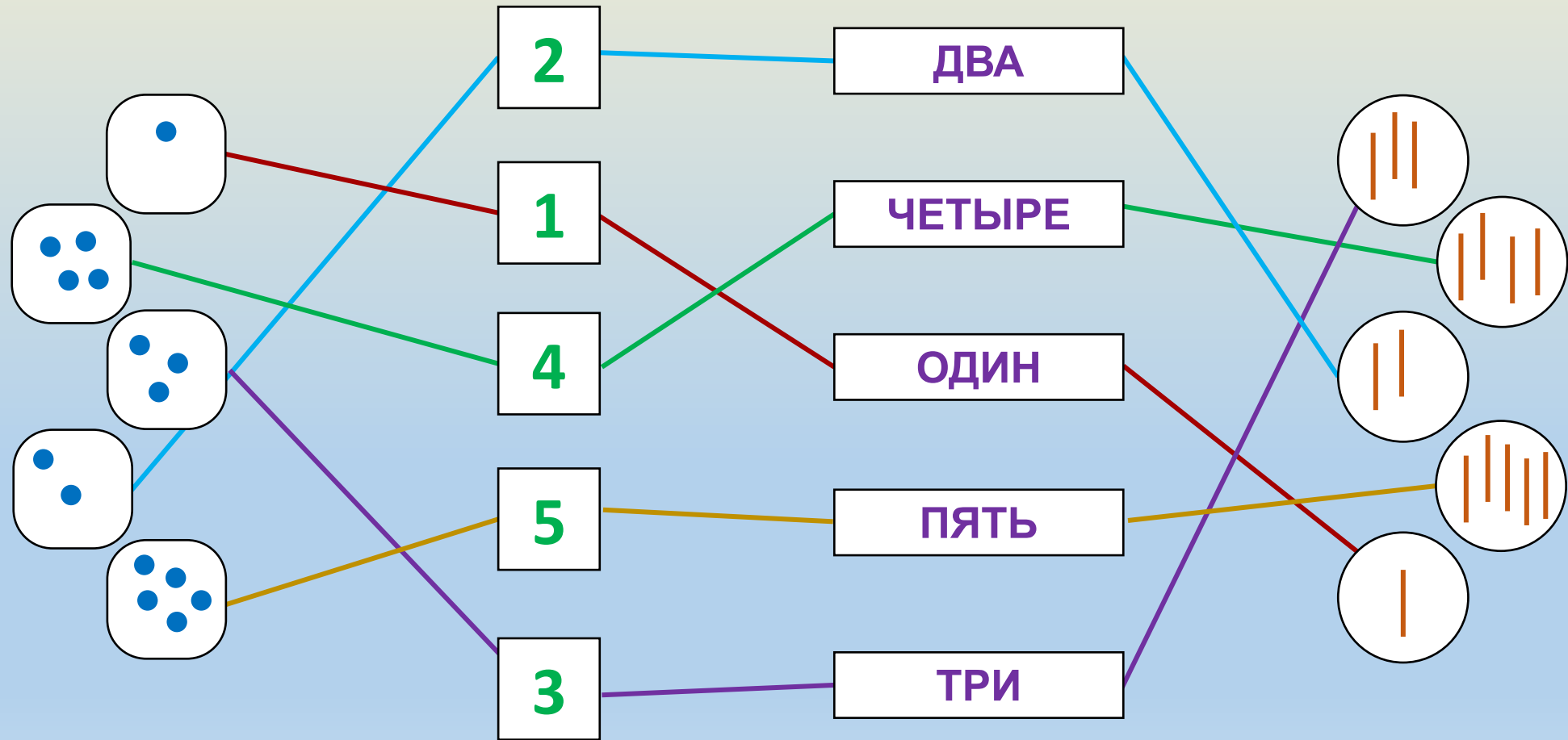
Слово: _____

ОТВЕТ

Ы

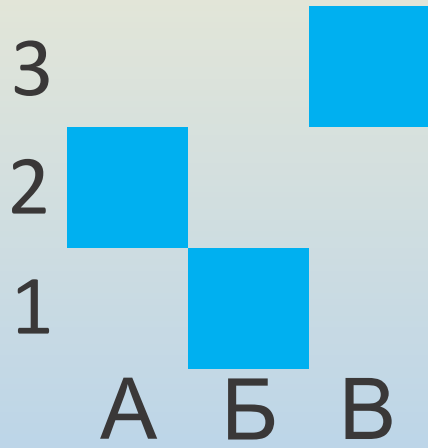
**№
1**

Соедини слева направо.
По какому принципу соединять,
догадайся.

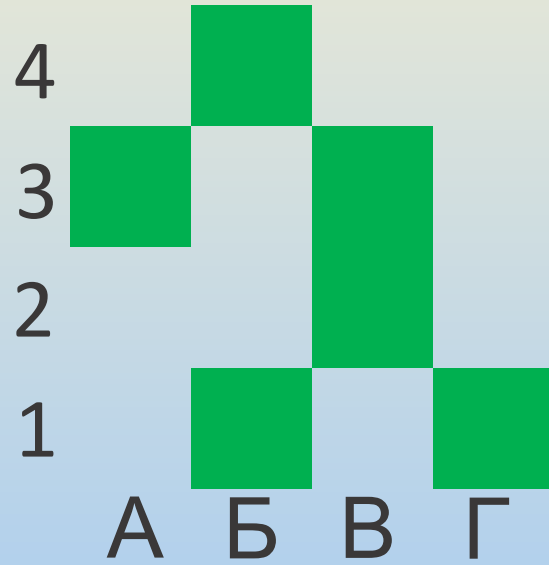


№ 2

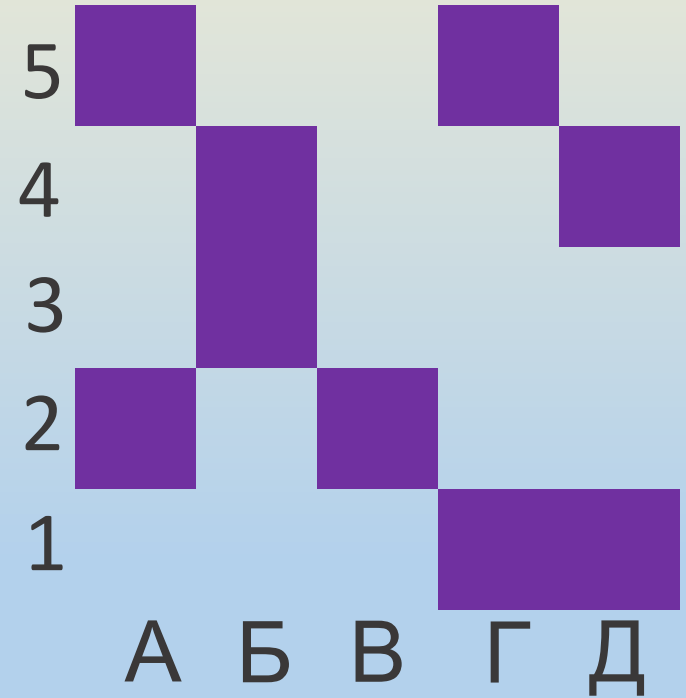
Разрисуй клетки по адресам.



А2
Б1
В3



А3 В2
Б1 В3
Б4 Г1



Д1 Г1 Б3
Д4 В2 А5
Г5 Б4 А2

№

3

Найди 9 отличий.

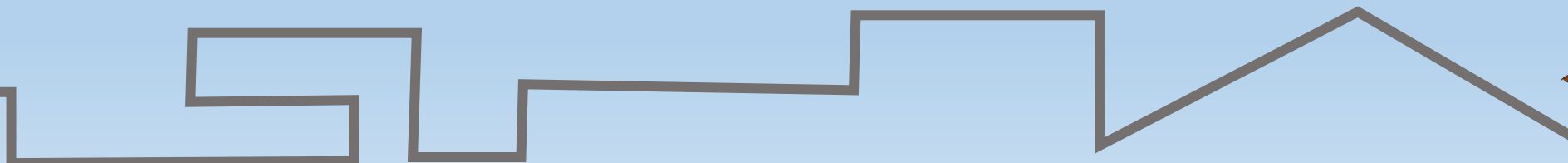





№

4

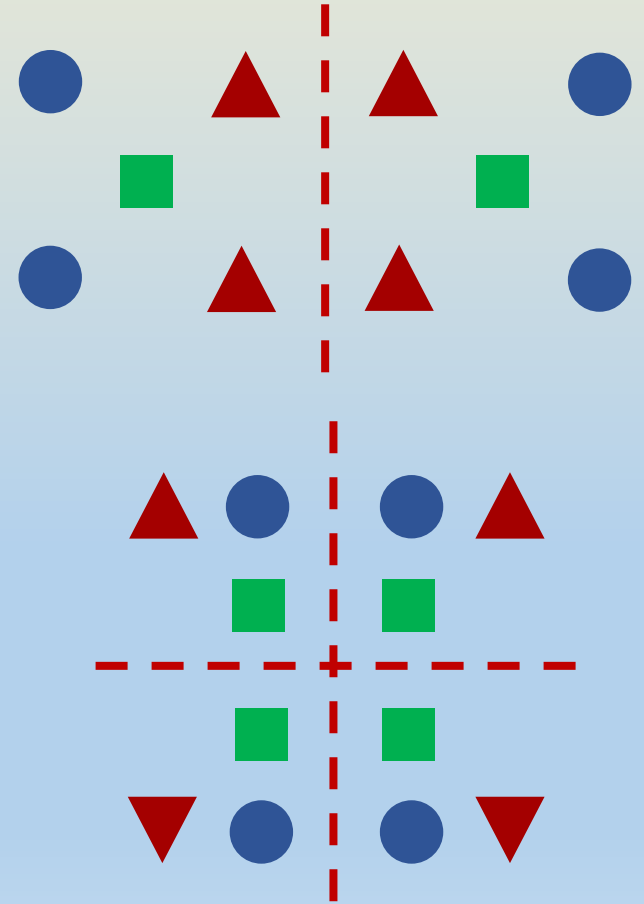
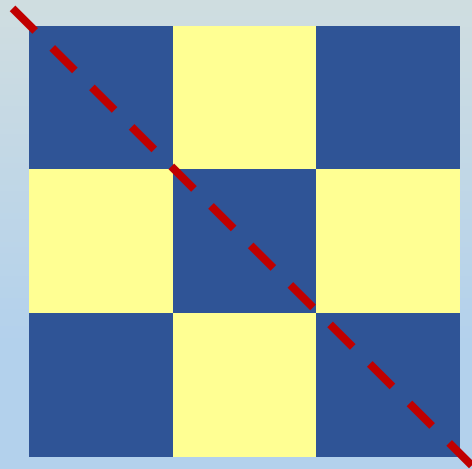
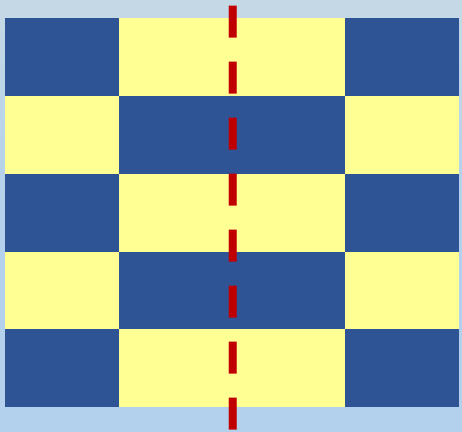
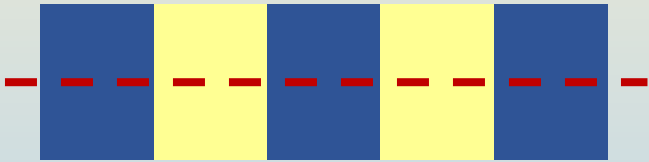
На какой дороге ровно 6 поворотов

вправо?



**№
5**

Дорисуй и раскрась
симметрично
относительно указанной линии.



№

6

Сколько раз можно найти в этих строках слово «весна»?



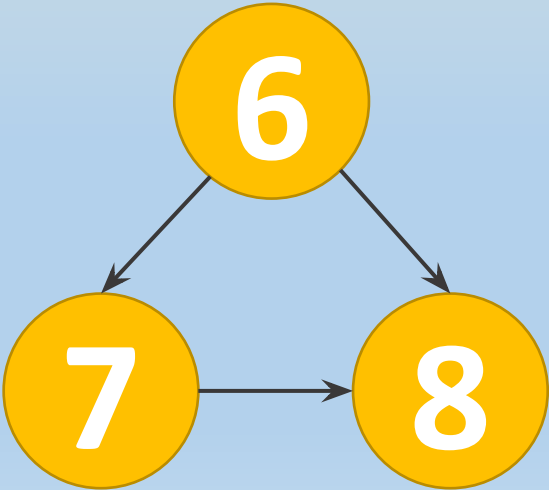
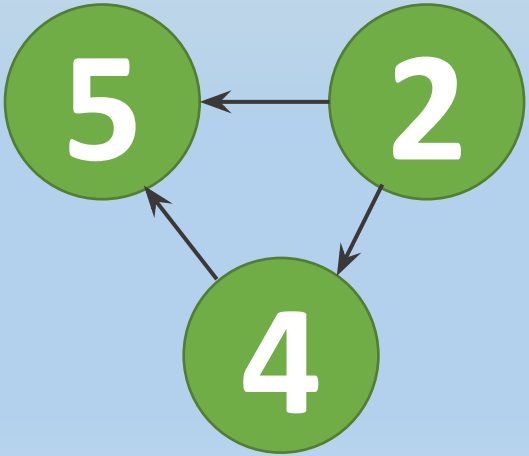
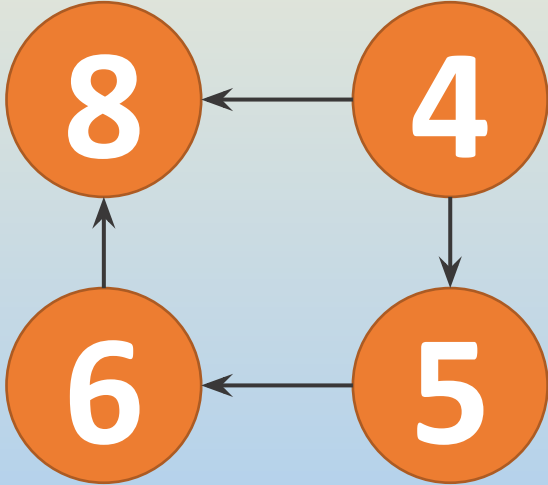
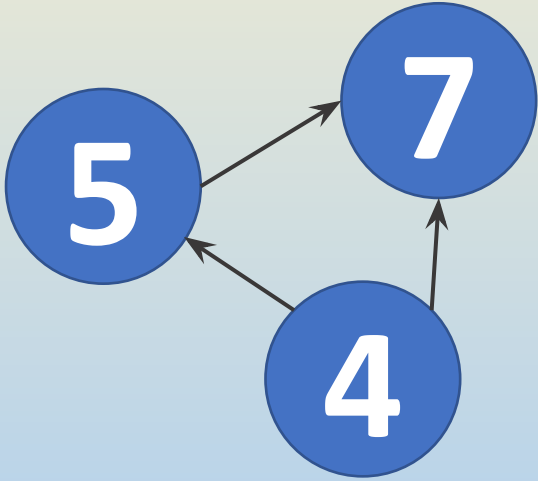
ВЕСНА ВЕНИК ВЕСНА ВЕТЕР
ВЕСНА ВОЛК ВЕСНА ВОСКРЕ
СНА ВЕСТЬ ЛЯ
ВЕСНА МО ВЕСНА РЕКА ВЕСНА
АДОМ
ВЕСНА РЕ ВЕСНА МИ ВЕСНА В
ЕСНА

20 СЛОВ

ВОЙ ВЕСНА СН ВЕСНА ФЕ ВЕС

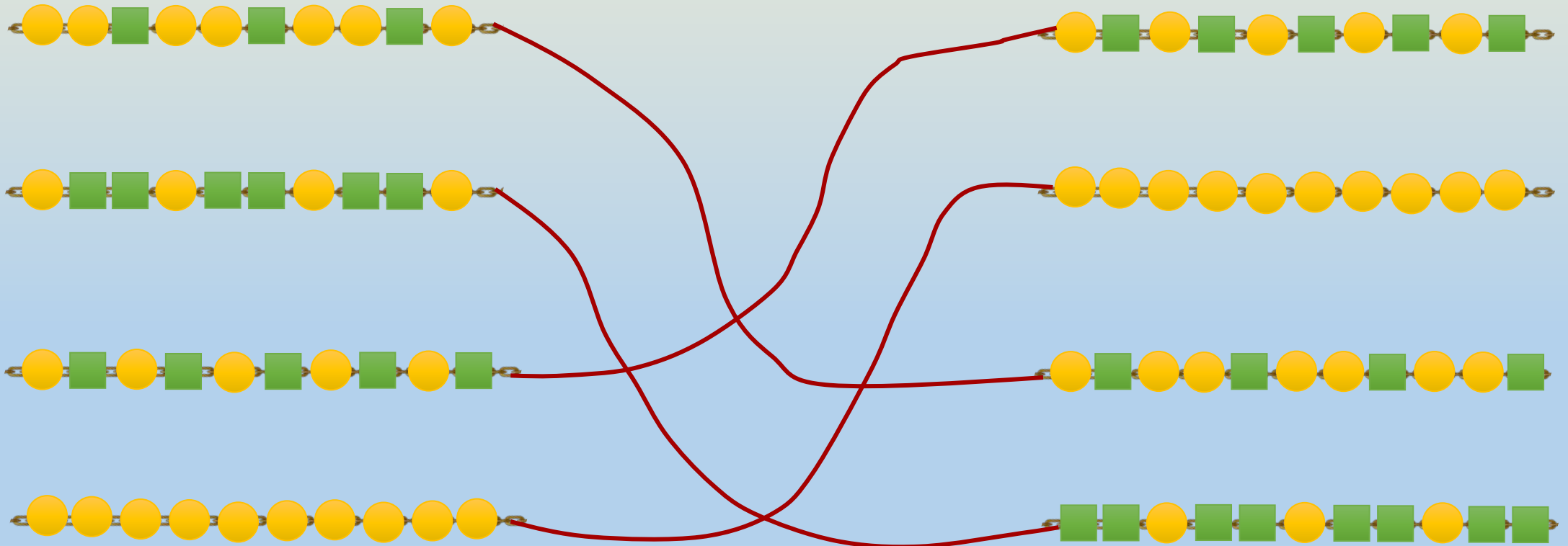
№
7

Впиши любые числа таким образом, чтобы стрелка шла от меньшего числа к большему.



№
8

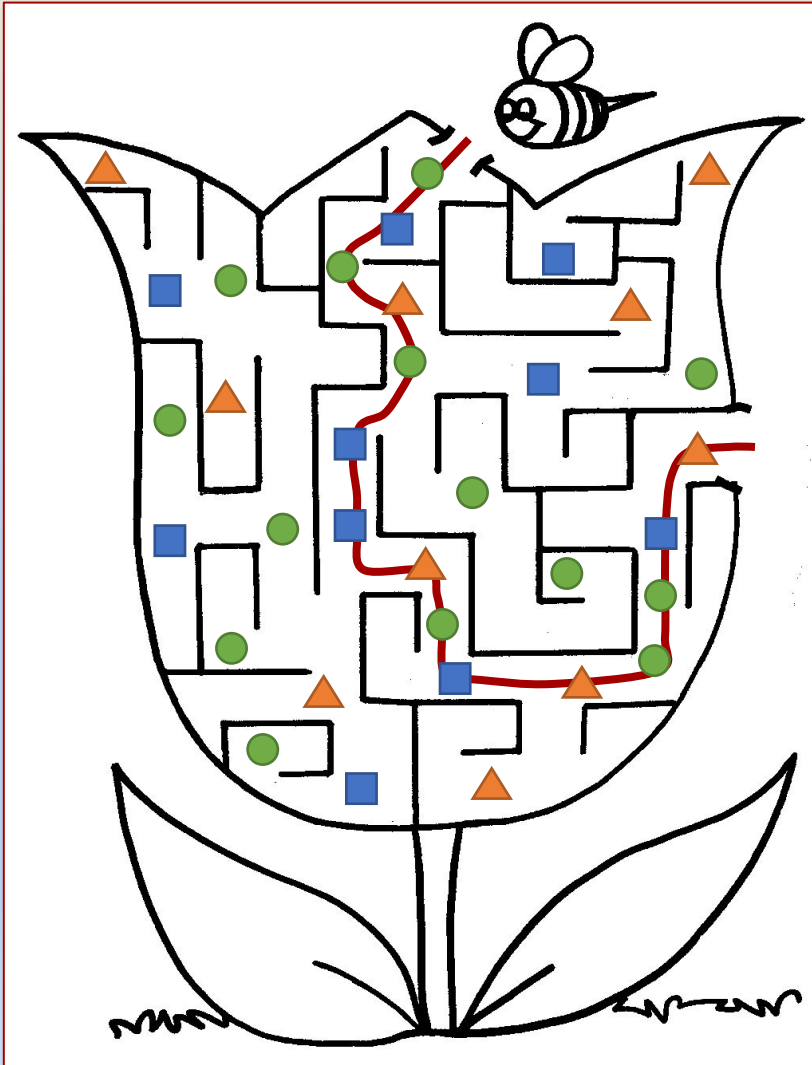
Соедини бусы.



№

9

Посчитай количество каждой геометрической фигуры на выходе из лабиринта.



Треугольников: 4

Квадратов: 5

Кругов: 6

№1

0

Составь слово из букв, за
оторыми
спряталось число 3.



$$2 + \text{Э} = 5$$

$$4 - \text{Л} = 2$$

$$5 + \text{Р} = 8$$

$$13 - \text{У} = 10$$

$$8 - \text{Е} = 6$$

$$7 + \text{Д} = 10$$

$$4 + \text{А} = 1$$

$$3 + \text{И} = 6$$

$$9 - \text{С} = 5$$

$$8 - \text{Ж} = 1$$

$$1 + \text{Т} = 4$$

СЛОВО:

ЭРУДИТ

Спасибо за участие!