

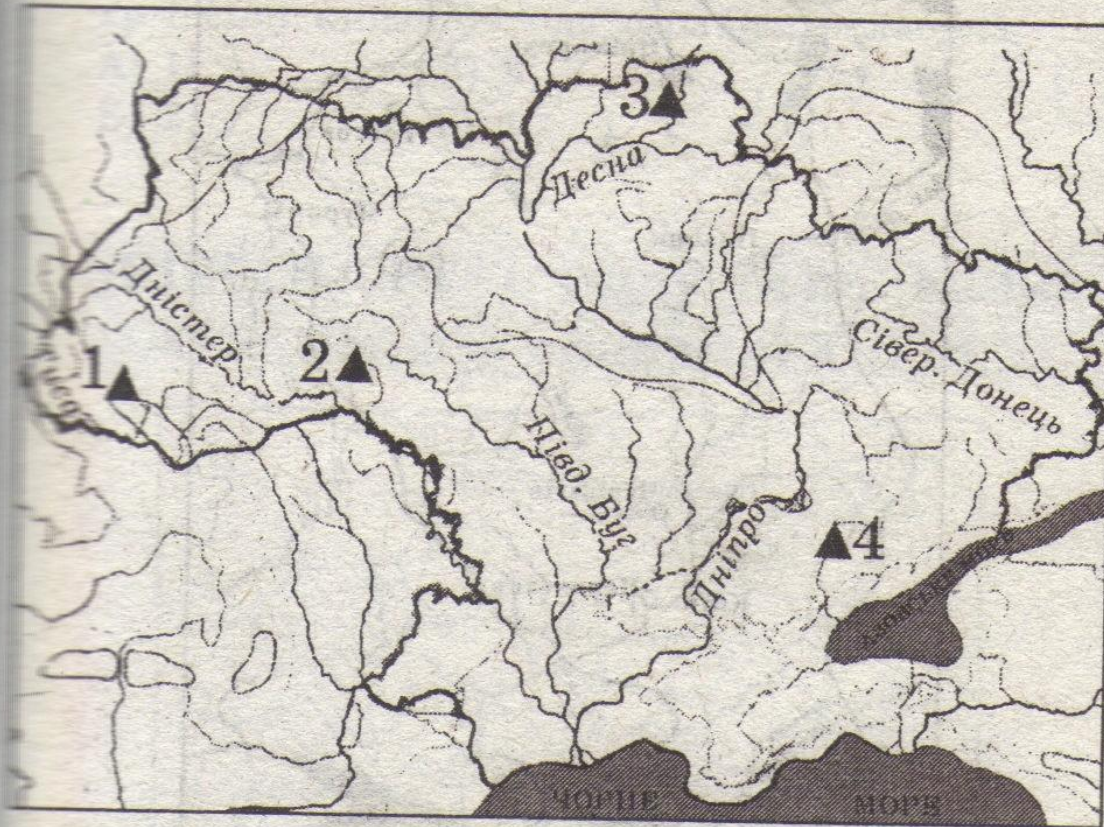
КАРТИ

ЗНО 2017

автор Гаращук С.В.
Овруцька гімназія

ЖИТТЯ ЛЮДЕЙ ЗА ПЕРВІСНИХ ЧАСІВ

1

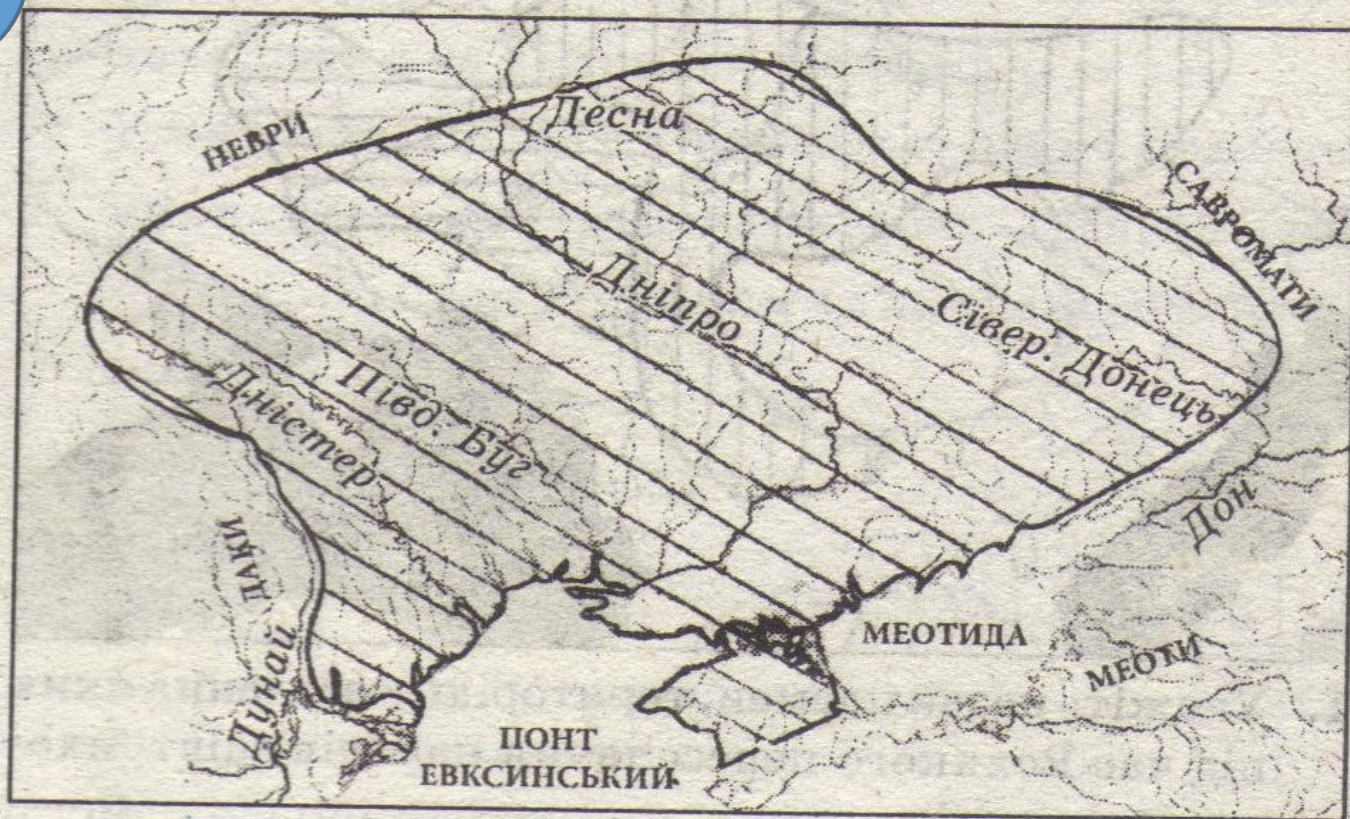


1. Укажіть цифру, якою позначено на карті найдавнішу стоянку кам'яного віку на території України.

- А) 1;
- Б) 2;
- В) 3;
- Г) 4.



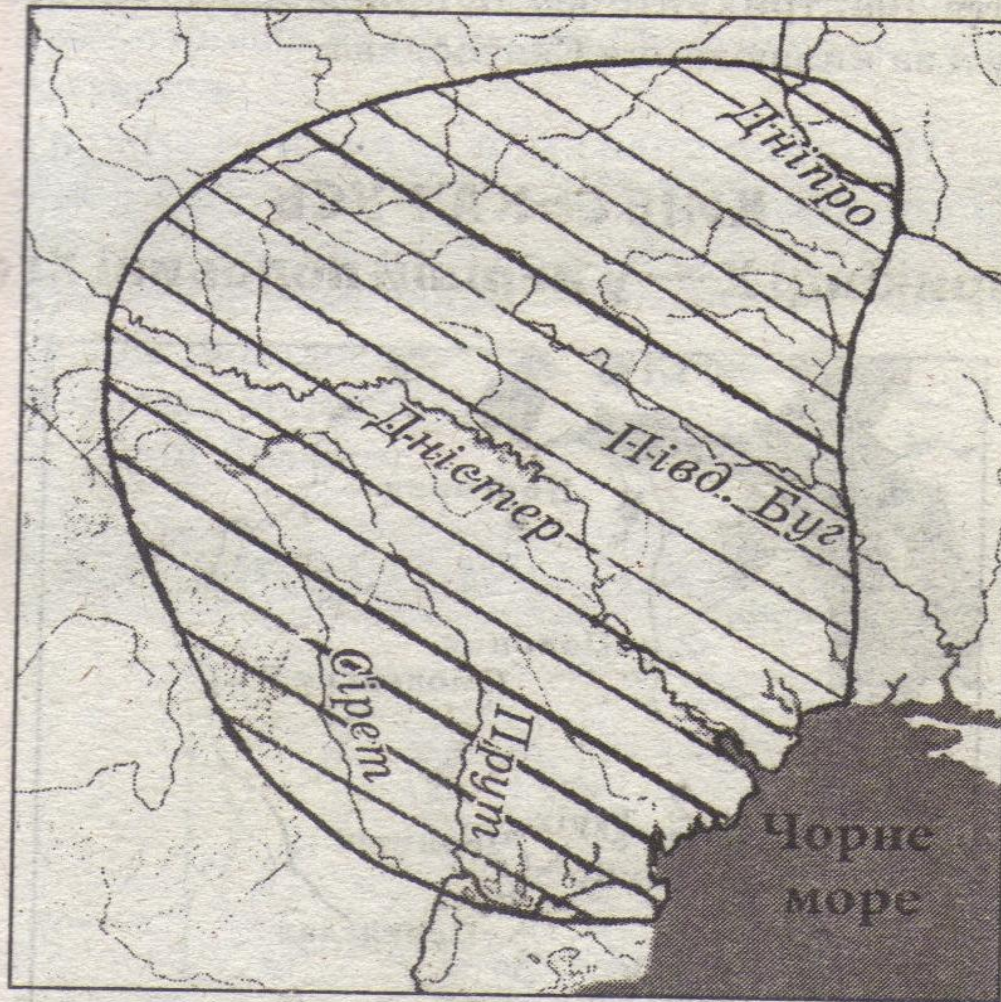
ПЕРЕДНЯ АЗІЯ



1. Укажіть кочові племена залізного віку, територію розселення яких заштриховано на карті:

- А) кіммерійці;
- Б) сармати;
- В) скіфи;
- Г) таври.





Укажіть археологічну культуру, територію поширення якої заштриховано на карті:

- А) дунайська культура;
- Б) зарубинецька культура;
- В) трипільська культура;
- Г) чорноліська культура.

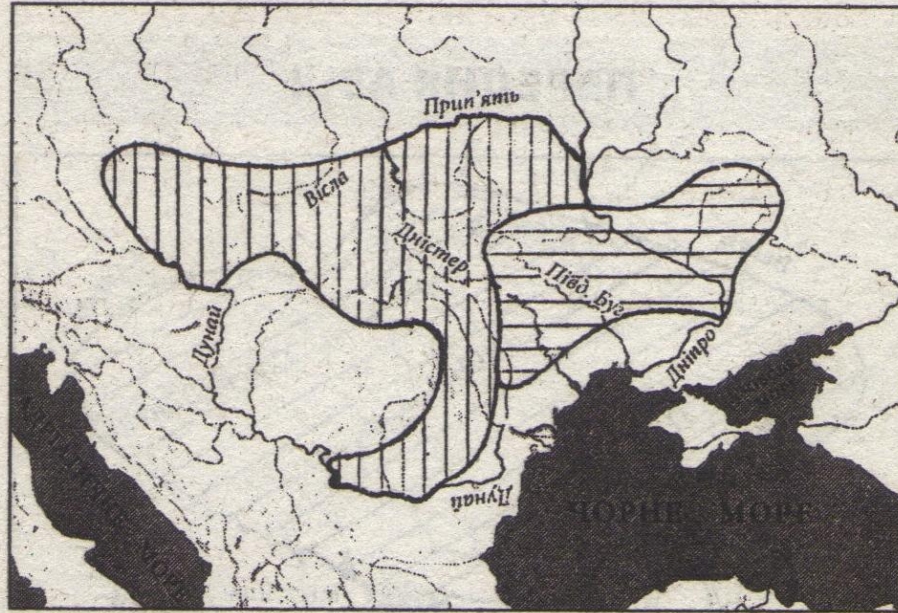


ГРЕЦІЯ В V—IV ст. до н. е.



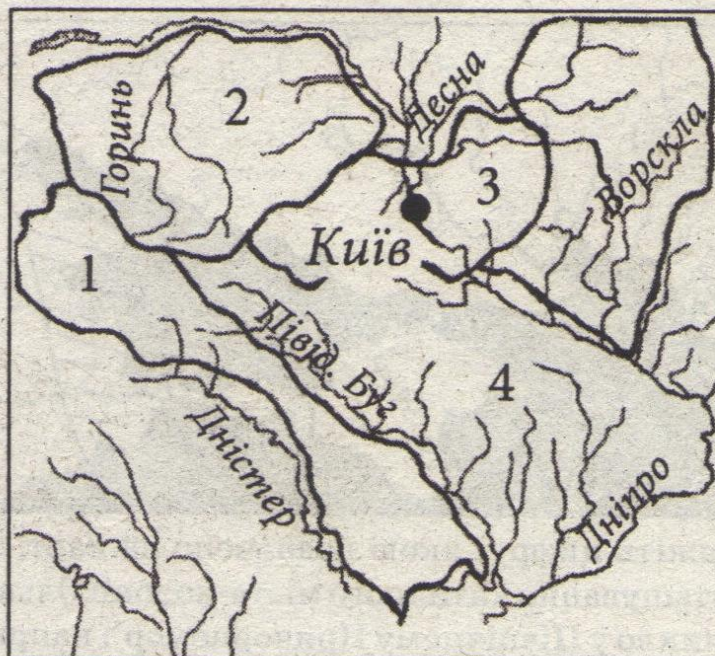
1. Укажіть цифру, якою позначено на карті місцезнаходження античного міста-колонії Ольвія, що виникло у Північному Причорномор'ї наприкінці VI ст. до н. е.:
А) 1;
Б) 2;
В) 3;
Г) 4.
2. Підпишіть найбільші грецькі міста-колонії у Північному Причорномор'ї, та назву держави, територію якої заштриховано. Укажіть назви, які греки дали Чорному морю, річкам Дніпро, Дністер, Південний Буг.

ДАВНІ СЛОВ'ЯНИ ТА ЇХНІ СУСІДИ

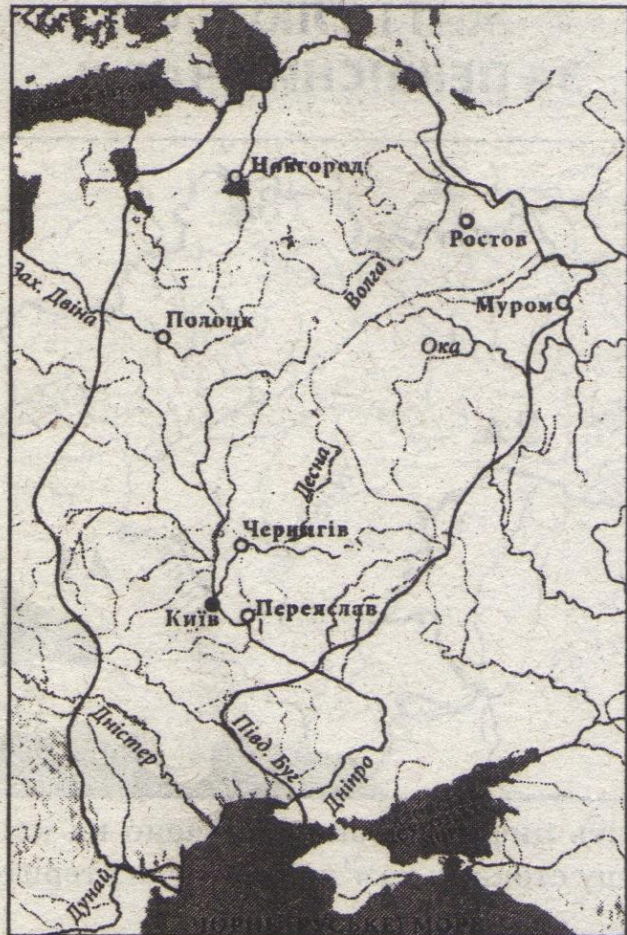


- Укажіть назви племен, територію розселення яких під час Великого переселення народів заштриховано на карті:
 - алани, гуни;
 - волохи, авари;
 - готи, роксолани;
 - склавини, анти.
- Позначте стрілками напрями розселення слов'ян у V—VIII ст. під час Великого переселення народів. Укажіть території розселення східних, західних і південних слов'ян.

ВИНИКНЕННЯ ТА РОЗКВІТ КИЇВСЬКОЇ РУСИ



1. Укажіть цифру, якою позначено на карті територію розселення східнослов'янського племінного союзу полян:
А) 1;
Б) 2;
В) 3;
Г) 4.
2. Підпишіть назви східнослов'янських союзів племен — предків українців, території розселення яких позначено на карті.



3. Укажіть ім'я князя, за правління якого Київська Русь мала позначені на карті кордони:
- А) Володимир;
 Б) Ігор;
 В) Олег;
 Г) Святослав.
4. Позначте стрілками напрямки військових походів князя Святослава, місця й дати найважливіших битв. Заштрихуйте землі, приєднані до Київської Русі за князювання Святослава.



КИЇВСЬКА РУСЬ

наприкінці X — у першій половині XI ст.



1. Заштрихуйте території, приєднані до Київської Русі князями Володимиром Великим і Ярославом Мудрим. Надпишіть назви держав і народів, що

межували з Київською Руссю в першій половині XI ст.

2. Укажіть цифру, якою позначено на карті місце хрещення князя Володимира Святославича:

А) 1; В) 3;
Б) 2; Г) 4.



КИЇВСЬКА РУСЬ у другій половині XI — першій половині XIII ст.

9



1. Підпишіть території князівств, що утворилися на території України після розпаду Київської Русі. Позначте стрілками напрямки походів проти половців князів Володимира Мономаха та Ігоря Святославича.
2. Укажіть ім'я князя, який наприкінці XII ст. створив велику централізовану державу, територію якої заштриховано на карті:
А) Данило Романович;
Б) Лев Данилович;
В) Роман Мстиславич;
Г) Юрій Львович.



ГАЛИЦЬКО-ВОЛИНСЬКА ДЕРЖАВА



1. Позначте кордони Галицько-Волинської держави на початку князювання Данила Романовича. Вкажіть місця й роки перемог Данила Галицького над німецькими, польськими та угорськими рицарями. Позначте стрілками походи військ хана Батия на Галицько-Волинські землі.
2. Установіть відповідність між назвами позначених на карті міст та іменами князів, за правління яких вони були столицями Галицько-Волинської держави:

- А) Володимир;
 Б) Галич;
 В) Львів;
 Г) Холм.
1. Володимир Василькович;
 2. Данило Романович;
 3. Лев Данилович;
 4. Роман Мстиславич;
 5. Юрій Львович.

А	
Б	
В	
Г	

**УКРАЇНСЬКІ ЗЕМЛІ У СКЛАДІ
ВЕЛИКОГО КНЯЗІВСТВА
ЛИТОВСЬКОГО ТА ІНШИХ ДЕРЖАВ
(друга половина XIV — XV ст.)**



1. Укажіть назву держави, у складі якої перебували заштриховані на карті українські землі у XV ст.:
 - А) Велике князівство Литовське;
 - Б) Молдовське князівство;
 - В) Польське королівство;
 - Г) Угорське королівство.
2. Заштрихуйте територію Кримського ханства. Позначте стрілками шляхи нападів кримських татар на українські землі.

УКРАЇНСЬКІ ЗЕМЛІ В XVI ст.



1. Укажіть цифру, якою позначено на карті українські землі, передані від Великого князівства Литовського до Польського королівства внаслідок Люблінської унії:

- А) 1;
 Б) 2;
 В) 3;
 Г) 4.



2. Позначте межі воєводств Речі Посполитої, утворених на українських землях після Люблінської унії, підпишіть їх назви та підкресліть міста — центри воєводств.

УКРАЇНСЬКІ ЗЕМЛІ в першій половині XVII ст.

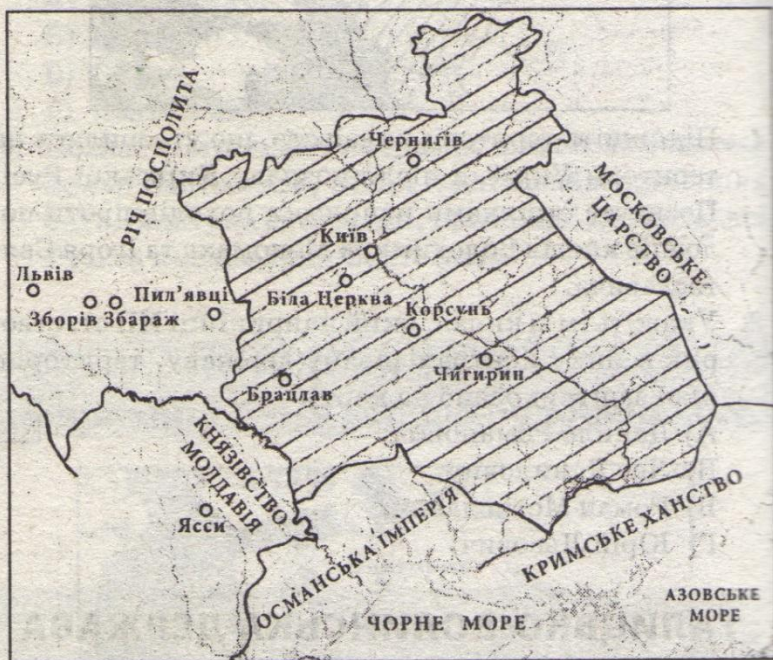


1. Укажіть відображену на карті подію історії України першої половини XVII ст.:

- А) грабіжницькі походи кримських татар на українські землі;
- Б) дії польських військ для придушення козацьких повстань;
- В) героїчні походи запорізьких козаків на турецькі володіння;
- Г) дії військ козаків під час національно-визвольних повстань.

2. Позначте місця розташування Запорізьких Січей-фортець, підпишіть їх назви та роки існування.

**ПОЧАТОК НАЦІОНАЛЬНО-
ВИЗВОЛЬНОЇ ВІЙНИ УКРАЇНСЬКОГО
НАРОДУ середини XVII ст.
ВІДРОДЖЕННЯ УКРАЇНСЬКОЇ
ДЕРЖАВИ**



1. Укажіть назву договору, укладеного під час Національно-визвольної війни українського народу середини XVII ст., за яким Українська козацька держава мала територію, заштриховану на карті.

- А) Білоцерківський договір;
- Б) Віленське перемир'я;
- В) Зборівський договір;
- Г) Кам'янецький договір.

2. Позначте стрілками походи військ Б. Хмельницького у 1648 р. і 1649 р., місця найважливіших битв Національно-визвольної війни українського народу проти Речі Посполитої.

УКРАЇНСЬКІ ЗЕМЛІ В 60—80-ті рр. XVII ст.



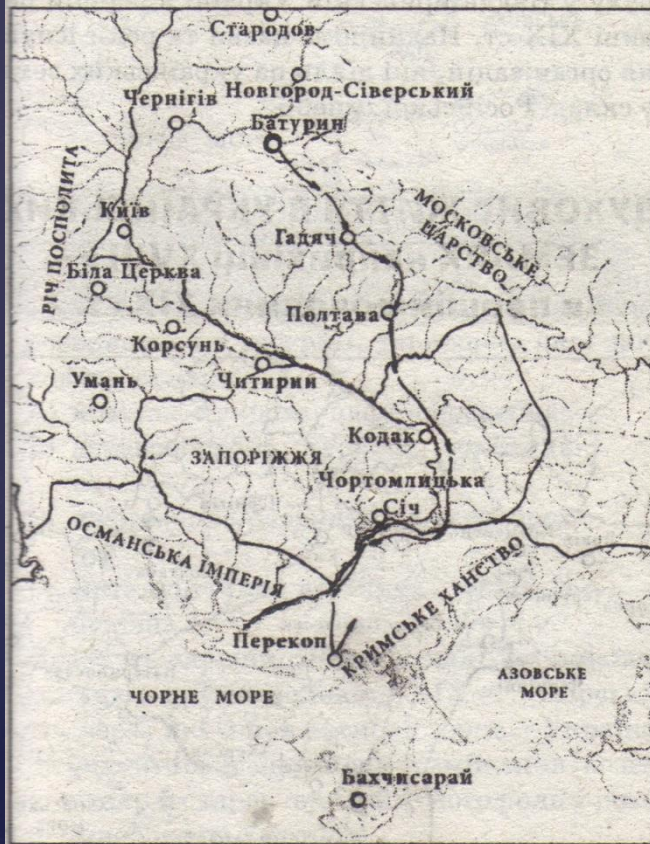
Укажіть цифру, якою позначено на карті місце битви, де гетьман І. Виговський завдав поразки російським військам у 1659 р.:

- А) 1;
- Б) 2;
- В) 3;
- Г) 4.



Позначте польсько-московський кордон за Андрусівським перемир'ям 1667 р., заштрихуйте й підпишіть території, які закріплювалися за Московською державою та Річчю Посполитою.

УКРАЇНСЬКІ ЗЕМЛІ наприкінці XVII — у першій половині XVIII ст.



1. Підпишіть назви держав, що межували з українськими землями в другій половині XVIII ст. Заштрихуйте українські землі, що увійшли до складу Російської імперії внаслідок російсько-турецьких війн упродовж 1774—1791 рр.:

2. Укажіть цифру, якою позначено на карті українські землі, що увійшли до складу Російської імперії внаслідок поділів Речі Посполитої упродовж 1772—1795 рр.:

А) 1;

Б) 2;

В) 3;

Г) 4.



УКРАЇНСЬКІ ЗЕМЛІ в другій половині XVIII ст.



1. Підпишіть назви держав, що межували з українськими землями в другій половині XVIII ст. Заштрихуйте українські землі, що увійшли до складу Російської імперії внаслідок російсько-турецьких війн упродовж 1774—1791 рр.:

2. Укажіть цифру, якою позначено на карті українські землі, що увійшли до складу Російської імперії внаслідок поділів Речі Посполитої упродовж 1772—1795 рр.:

А) 1;

Б) 2;

В) 3;

Г) 4.



**УКРАЇНСЬКІ ЗЕМЛІ У СКЛАДІ
РОСІЙСЬКОЇ ТА АВСТРІЙСЬКОЇ
ІМПЕРІЙ наприкінці XVIII —
у першій третині XIX ст.**



1. Знайдіть на карті українські землі, що перебували у складі Австрійської імперії в XIX ст. Підпишіть назви адміністративно-територіальних утворень, до складу яких входили західноукраїнські землі: Королівство Галиції і Лодомерії, Буковинський округ, Закарпаття у складі Братиславського воєводства.
2. Укажіть цифру, якою позначено на карті місто, де у 1833—1837 рр. діяло громадсько-культурне об'єднання «Руська трійця»:

А) 1; В) 3;
Б) 2; Г) 4.





3. Заштрихуйте території, приєднані до Російської імперії внаслідок російсько-турецьких війн 1806—1812 рр. і 1828—1829 рр., напишіть назви та роки приєднання територій.
4. Укажіть цифру, якою позначено на карті землі, які наполеонівська Франція планувала передати Австрійській імперії після перемоги над Росією:
- А) 1; В) 3;
 Б) 2; Г) 4.

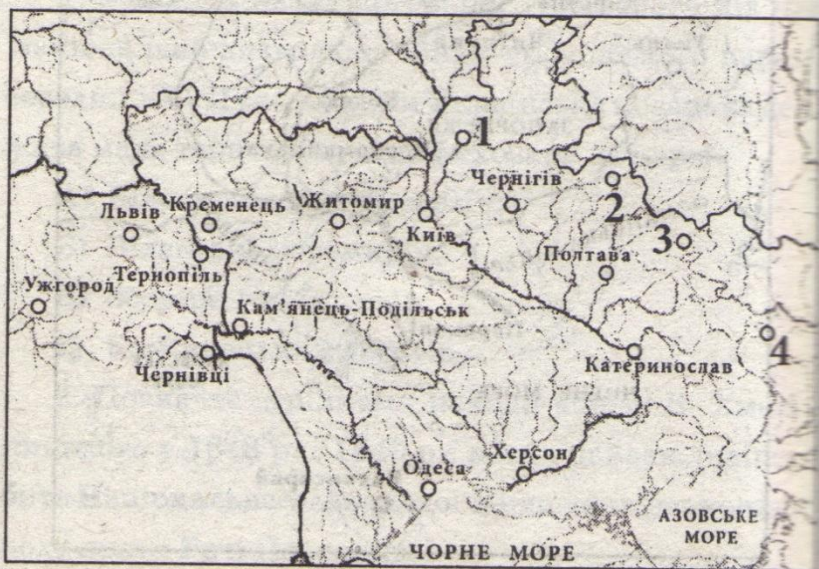


**СОЦІАЛЬНО-ЕКОНОМІЧНЕ ЖИТТЯ
НАРОДУ ТА УКРАЇНСЬКИЙ
НАЦІОНАЛЬНИЙ РУХ
у першій половині ХІХ ст.**



1. Укажіть подію антикріпосницького руху на українських землях першої половині ХІХ ст., територію поширення якої заштриховано на карті:
 - А) рух опришків під керівництвом М. Штолюка 1810—1825 рр.;
 - Б) селянське повстання на чолі з У. Кармалюком 1813—1835 рр.;
 - В) селянське повстання під проводом Л. Кобилиці 1843—1844 рр.;
 - Г) виступ козацьких полків на чолі з П. Бабиченко і Г. Гетманенко 1817 р.
2. Підкресліть назви міст, які були центрами українського та російського суспільно-політичного руху у Наддніпрянській Україні в першій половині ХІХ ст. Надпишіть назви та роки існування організацій, які діяли на українських землях у складі Російської імперії.

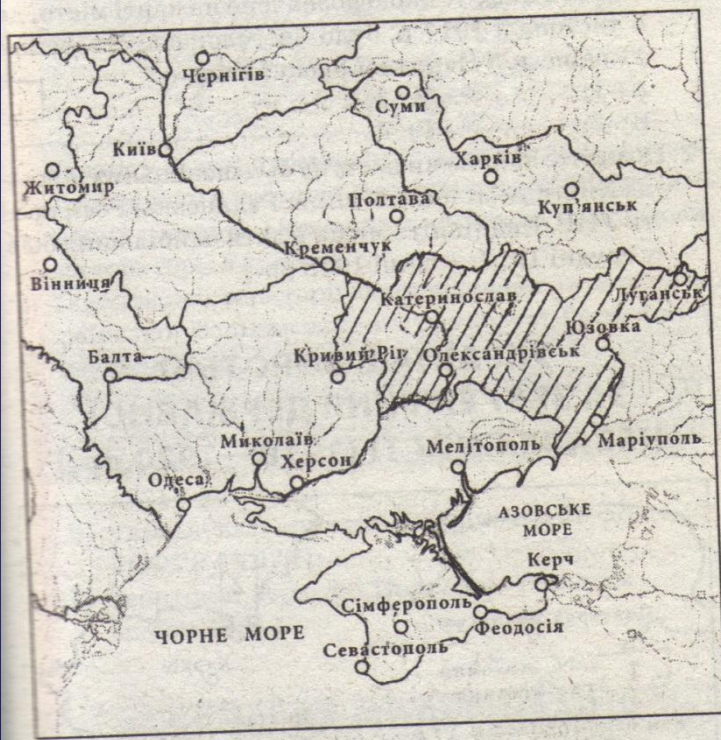
ДУХОВНЕ ЖИТТЯ В УКРАЇНСЬКИХ ЗЕМЛЯХ наприкінці XVIII — в першій половині XIX ст.



Робота з картою

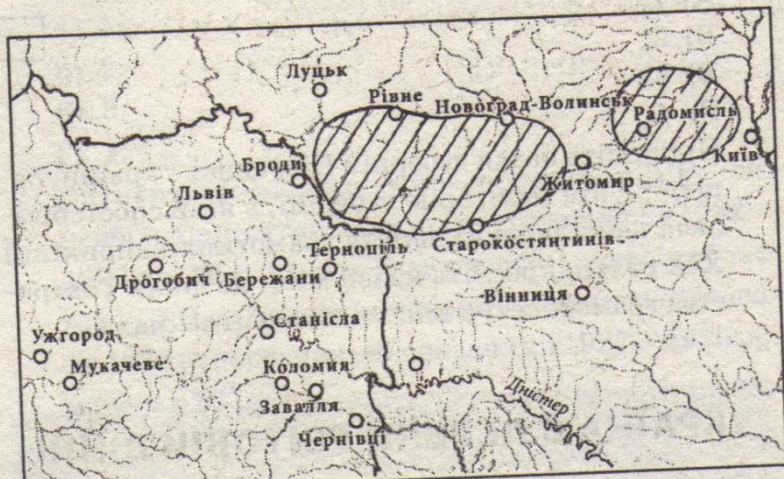
- Укажіть цифру, якою позначено на карті місто, де було відкрито перший університет у Наддніпрянській Україні:
- Підкресліть назви міст на українських землях, де діяли вищі навчальні заклади, наукові товариства та установи. Позначте міста, де були відкриті перші професійні театри.

МОДЕРНІЗАЦІЯ УКРАЇНСЬКОГО СУСПІЛЬСТВА в середині — у другій половині XIX ст.



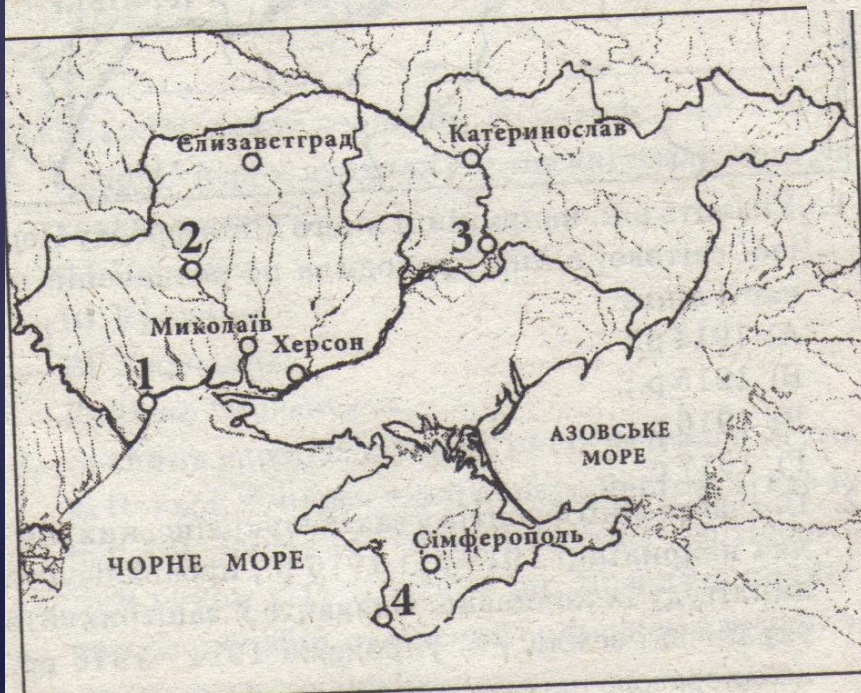
1. Укажіть галузі промисловості, які найшвидше розвивалися в губернії, територію якої заштриховано на карті:
 - А) хімічна, цукрова, нафтопереробна;
 - Б) деревообробна, харчова, текстильна;
 - В) нафтова, залізорудна, деревообробна;
 - Г) металургійна, вугільна, машинобудівна.
2. Позначте залізниці, побудовані на українських землях в другій половині XIX ст., морські порти, через які йшов експорт зерна з України. Заштрихуйте основні райони розміщення іноземного капіталу й схарактеризуйте його роль у розвитку промисловості України.

СУСПІЛЬНО-ПОЛІТИЧНИЙ РУХ В УКРАЇНІ у другій половині XIX ст.



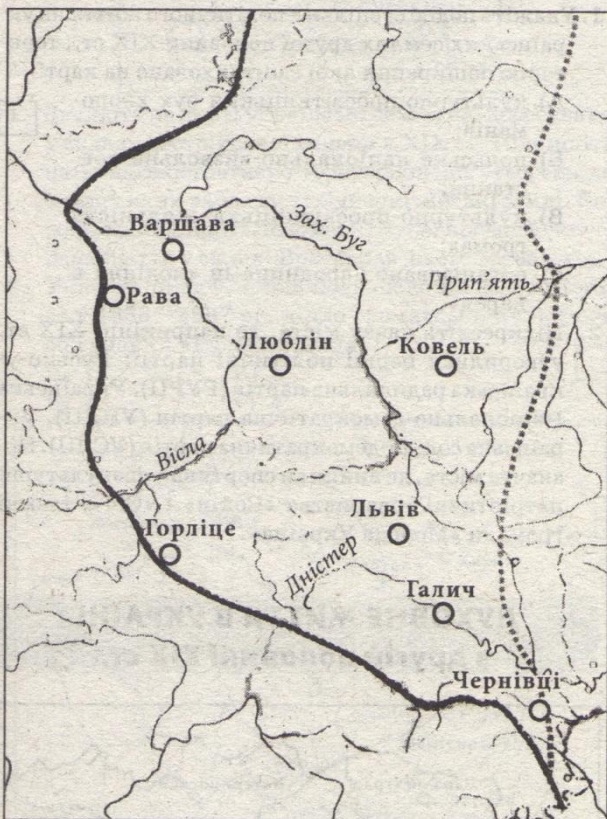
- Укажіть подію суспільно-політичного життя на українських землях другої половини XIX ст., територію поширення якої заштриховано на карті:
 - культурно-просвітницький рух хлопomanів;
 - польське національно-визвольне повстання;
 - культурно-просвітницька діяльність громад;
 - організоване народниками «ходіння в народ».
- Підкресліть назву міста, де наприкінці XIX ст. утворилися перші політичні партії: Русько-українська радикальна партія (РУРП), Українська Національно-демократична партія (УНДП), Українська соціал-демократична партія (УСДП). Позначте міста, де виникли спортивно-фізкультурні патріотичні товариства «Сокіл» і «Січ», таємні громади «Молода Україна».

ДУХОВНЕ ЖИТТЯ В УКРАЇНІ в другій половині ХІХ ст.



1. Укажіть цифру, якою позначено на карті місто, де вчені І. Мечников і М. Гамалія відкрили першу в Росії й другу в світі бактеріологічну станцію:
А) 1;
Б) 2;
В) 3;
Г) 4.
2. Підпишіть назви губерній Південної України. Заштрихуйте територію губернії, в якій спостерігалася найбільша кількість грамотних наприкінці ХІХ ст. Підкресліть назви міст, де діяли Товариства грамотності й вищі навчальні заклади.

УКРАЇНА В ПЕРШІЙ СВІТОВІЙ ВІЙНІ



1. Укажіть рік, наприкінці якого лінія фронту Першої світової війни проходила по позначеній на карті лінії:

- А) 1914 р.;
- Б) 1915 р.;
- В) 1916 р.;
- Г) 1917 р.



2. Позначте лінії фронтів у західноукраїнських землях наприкінці 1915 р. і 1916 р., проаналізуйте амплітуду їх коливань. Визначте й заштрихуйте українські землі, які упродовж 1914—1916 рр. неодноразово переходили з рук у руки.

УКРАЇНСЬКА РЕВОЛЮЦІЯ



1. Укажіть цифру, якою позначено на карті місто, де в листопаді 1917 р. було проголошено створення Української Народної Республіки:

- А) 1; В) 3;
Б) 2; Г) 4.



2. Позначте напрямки наступу більшовицьких військ на Київ під час першої війни Радянської Росії проти УНР. Надпишіть місця й дати найбільших боїв у грудні 1917 — січні 1918 рр.

УКРАЇНА В БОРОТЬБІ ЗА ЗБЕРЕЖЕННЯ ДЕРЖАВНОЇ НЕЗАЛЕЖНОСТІ (1918—1920 рр.)



1. Проаналізуйте воєнно-політичну ситуацію в Україні у 1919 р. і вкажіть, наступ яких військ позначено на карті цифрами 1, 2, 3, 4:

- А) польської армії;
- Б) радянських військ;
- В) армії Денікіна;
- Г) військ Антанти.

1	
2	
3	
4	

2. Заштрихуйте межу територій, контрольованих Директорією УНР наприкінці серпня 1919 р. Позначте лінію українсько-денікінського фронту на початку листопада 1919 р. і підпишіть район дислокації військ

УКРАЇНСЬКА СРР В УМОВАХ НОВОЇ ЕКОНОМІЧНОЇ ПОЛІТИКИ (1921—1928 рр.)



1. Укажіть галузі промисловості, які розвивалися в період непу в промислових центрах УСРР, позначених на карті. Позначте промислові новобудови на території України.
2. Укажіть, які території заштриховано на карті Української Соціалістичної Радянської Республіки в період непу:
 - А) території, передані Українській СРР у 1925 р.;
 - Б) території України, уражені голодом 1921—1923 рр.;
 - В) українські території, приєднані до РСФРР у 1925 р.;
 - Г) території, передані Польщі за Ризьким миром 1921 р.

РАДЯНСЬКА МОДЕРНІЗАЦІЯ УКРАЇНИ (1929—1938 рр.)



1. Укажіть цифру, якою на карті позначено місто, де в роки другої п'ятирічки було побудовано завод-гігант чорної металургії:

А) 1;

Б) 2;

В) 3;

Г) 4.

2. Визначте й заштрихуйте області УСРР, які найбільше постраждали під час голодомору 1932—1933 рр. Підкресліть назви міст — центрів областей УСРР, де показники рівня смертності населення 1933 р. перевищили показники 1927—1930 рр. майже в 10 разів.

ЗАХІДНОУКРАЇНСЬКІ ЗЕМЛІ (1921—1938 рр.)



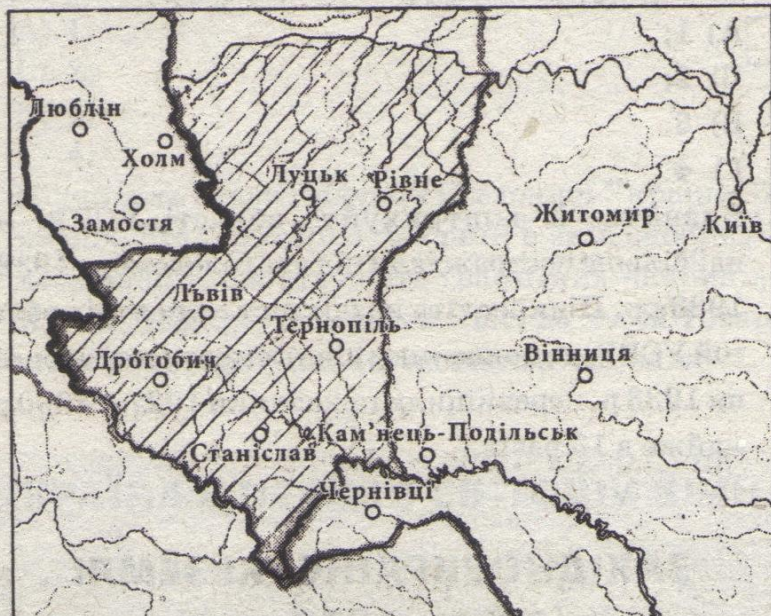
1. Укажіть назву держави, до складу якої в міжвоєнний період входили українські землі, заштриховані на карті:

- А) Польща;
 Б) Румунія;
 В) Угорщина;
 Г) Чехо-Словаччина.



2. Знайдіть українські землі, які перебували у складі Польщі в міжвоєнний період. Заштрихуйте території, охоплені антипольським партизанським рухом у 1921—1923 рр. Позначте концентраційний табір, створений польською владою для українських політв'язнів.

УКРАЇНА ПІД ЧАС ДРУГОЇ СВІТОВОЇ ВІЙНИ (1939—1945 рр.)



Укажіть дату підписання угоди, внаслідок якої заштриховані на карті території були передані СРСР і включені до складу УРСР:

- А) 30 вересня 1938 р.;
- Б) 23 серпня 1939 р.;
- В) 28 вересня 1939 р.;
- Г) 28 червня 1940 р.



Позначте стрілками дії радянських військ проти Польщі протягом 17—28 вересня 1939 р. Напишіть назви нових областей УРСР, утворених на західноукраїнських землях у 1939 р., підкресліть назви міст — центрів областей.

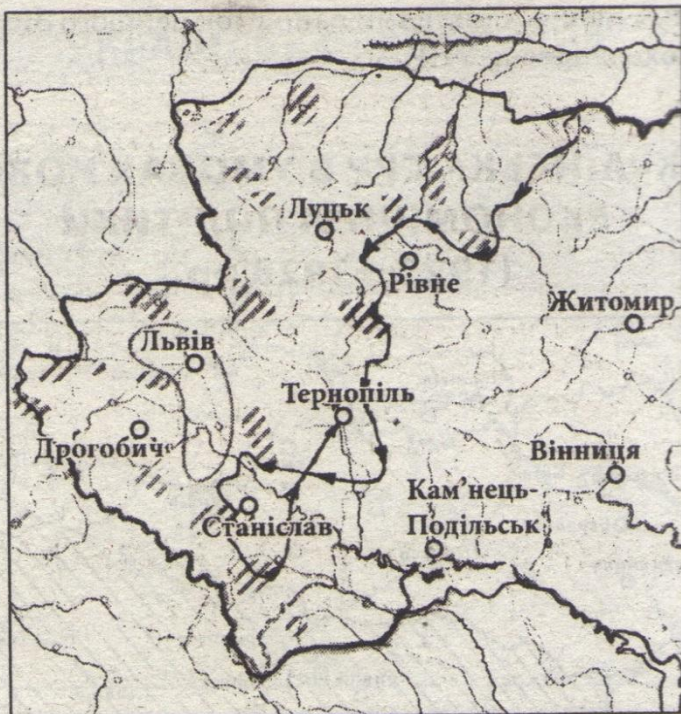


3. Укажіть цифру, якою позначено на карті території УРСР, окуповані військами Німеччини в 1942 р.

- А) 1; В) 3;
 Б) 2; Г) 4.

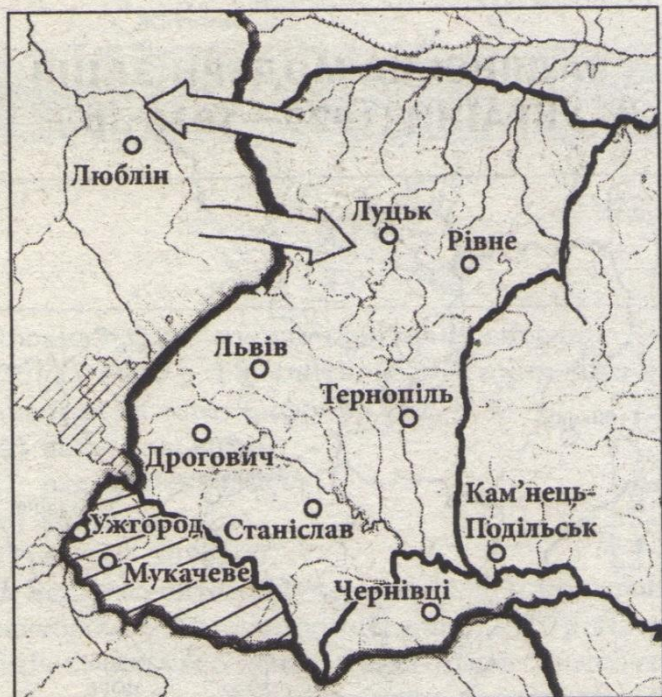


4. Позначте місця та вкажіть дати найбільшої танкової битви початкового періода Великої Вітчизняної війни в районі Рівне—Дубно—Луцьк—Броди, оборони Києва, Одеси і Севастополя. Позначте останній населений пункт України, залишений радянськими військами.



5. Укажіть прізвище командуючого партизанським з'єднанням, маршрут рейду якого позначено на карті стрілками:
- А) С. Ковпак;
 - Б) М. Наумов;
 - В) О. Сабуров;
 - Г) О. Федоров.
6. Заштрихуйте різними кольорами райони зосередження головних сил та активних дій радянських партизанів, українських повстанців (УПА) та польської Армії Крайової на території Правобережної та Західної України під час Великої Вітчизняної війни.

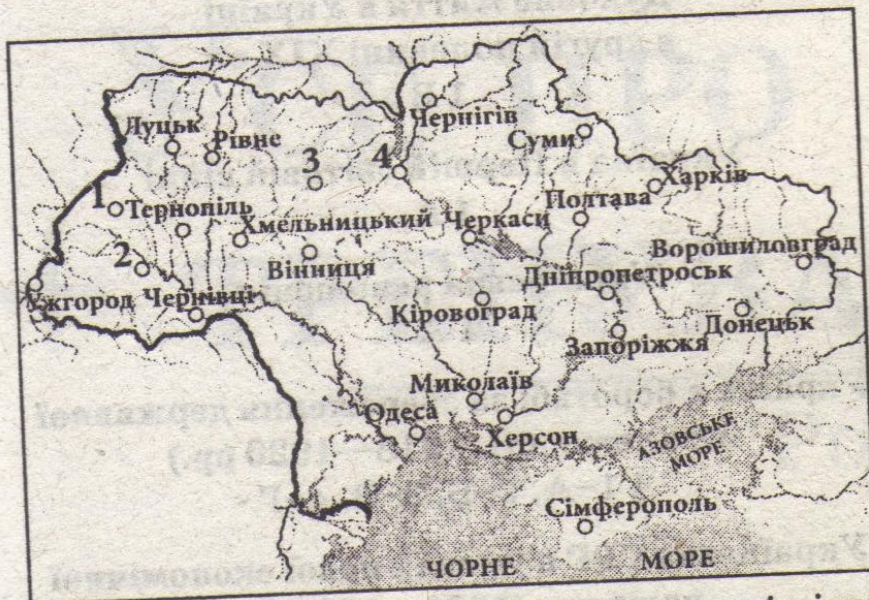
ПІСЛЯВОЄННА ВІДБУДОВА І РОЗВИТОК УКРАЇНИ В 1945 — ПОЧАТКУ 50-х рр.



Робота з картою

- Укажіть договір, за яким за УРСР були закріплені території, заштриховані на карті:
 - А) радянсько-польський договір 1945 р.;
 - Б) радянсько-польський договір 1951 р.;
 - В) радянсько-румунський договір 1947 р.;
 - Г) радянсько-чехословацький договір 1945 р.
- Позначте й підпишіть території, передані Польщі за радянсько-польськими договорами 1945 р. Заштрихуйте територію, на якій польська влада здійснила операцію «Вісла». У стрілках впишіть чисельність поляків і українців, переселених під час обміну населенням між Польщею та СРСР.

УКРАЇНА В УМОВАХ ДЕСТАЛІНІЗАЦІЇ (1953—1964 рр.)



1. Укажіть цифру, якою позначено на карті місто, де в період «відлиги» діяла Українська робітничо-селянська спілка:
2. Підкресліть назви міст, що були основними центрами дисидентського руху періоду «відлиги», де діяли підпільні групи та організації, а також осередками руху «шістдесятників».

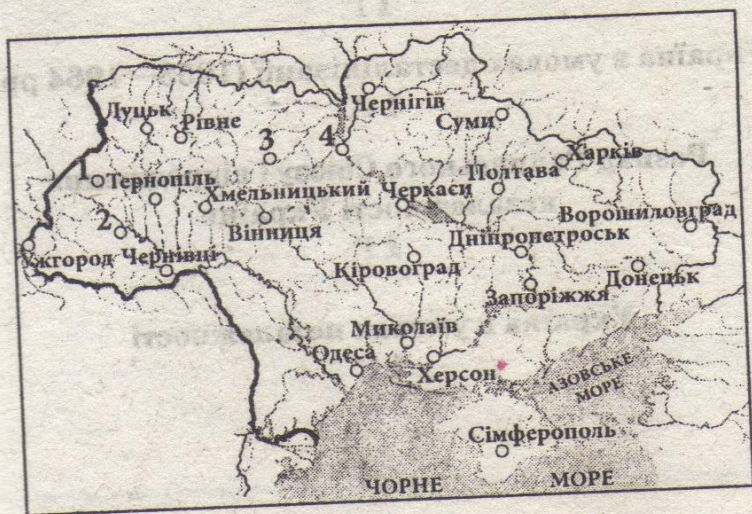
А) 1;

В) 3;

Б) 2;

Г) 4.

РОЗПАД РАДЯНСЬКОГО СОЮЗУ І ВІДРОДЖЕННЯ НЕЗАЛЕЖНОСТІ УКРАЇНИ

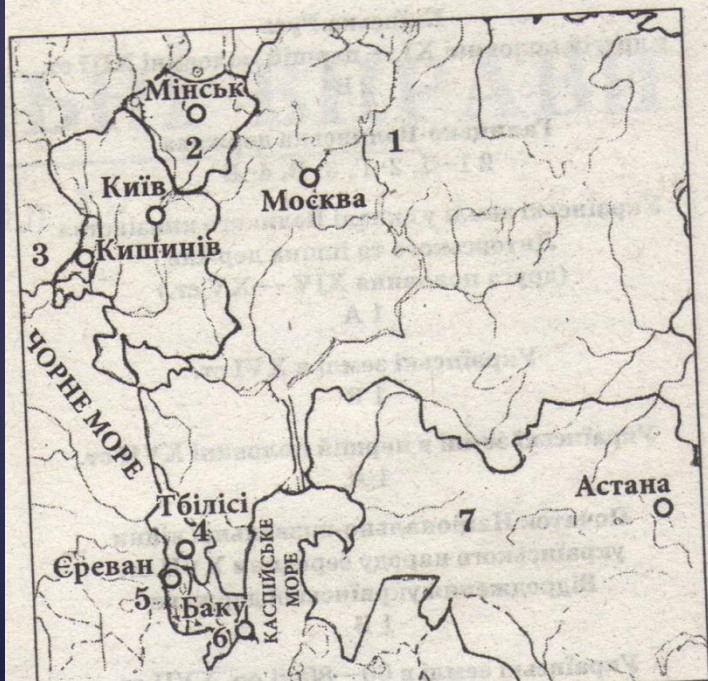


1. Укажіть цифру, якою позначено на карті місто, де 9–10 вересня 1989 р. відбувся установчий з'їзд Народного руху України за перебудову:

 - А) 1;
 - Б) 2;
 - В) 3;
 - Г) 4.

2. Підкресліть назви міст, що стали головними осередками національного відродження наприкінці 1980-х на — початку 1990-х рр. Накресліть лінію «живого ланцюгу», утвореного 21 січня 1990 р. з нагоди річниці злуки УНР і ЗУНР.

УКРАЇНА В УМОВАХ НЕЗАЛЕЖНОСТІ



1. Укажіть цифри, якими позначено на карті країни СНД, котрі разом з Україною уклали угоду про створення Єдиного економічного простору у 2003 р.:
 - А) 1, 3, 5;
 - Б) 2, 4, 6;
 - В) 3, 6, 7;
 - Г) 1, 2, 7.
2. Заштрихуйте країни СНД, котрі разом з Україною уклали угоду про створення об'єднання ГУАМ. Підкресліть назву міста, де було підписано угоду, що визначила без'ядерний статус України.

ВІДПОВІДІ НА ТЕСТОВІ ЗАВДАННЯ З КАРТАМИ

- Життя людей за первісних часів
1 А
3 Б
- Передня Азія
1 В
- Греція в V—IV ст. до н. е.
1 Б
- Давні слов'яни та їхні сусіди
1 Г
- Виникнення та розквіт Київської Русі
1 В
3 Г
- Київська Русь
наприкінці X — у першій половині XI ст.
2 Г
- Київська Русь
у другій половині XI — першій половині XIII ст.
2 В
- Галицько-Волинська держава
2 1-Д, 2-Г, 3-В, 4-Б
- Українські землі у складі Великого князівства
Литовського та інших держав
(друга половина XIV — XV ст.)
1 А
- Українські землі в XVI ст.
1 В
- Українські землі в першій половині XVII ст.
1 А
- Початок Національно-визвольної війни
українського народу середини XVII ст.
Відродження української держави
1 Б
- Українські землі в 60—80-ті рр. XVII ст.
1 В
- Українські землі наприкінці XVII — у першій
половині XVIII ст.
1 А
- Українські землі в другій половині XVIII ст.
2 Б
- Українські землі у складі Російської та
Австрійської імперій
наприкінці XVIII — у першій третині XIX ст.
2 Б
4 Б
- Соціально-економічне життя народу та український
національний рух у першій половині XIX ст.
1 Б
- Духовне життя в українських землях наприкінці
XVIII — в першій половині XIX ст.
1 В
- Модернізація українського суспільства
в середині — у другій половині XIX ст.
1 Г
- Суспільно-політичний рух в Україні у другій
половині XIX ст.
1 Б
- Духовне життя в Україні
в другій половині XIX ст.
1 В
- Україна в Першій світовій війні
1 А
- Українська революція
1 А
- Україна в боротьбі за збереження державної
незалежності (1918—1920 рр.)
1 1-А, 2-Б, 3-В, 4-Г
- Українська СРР в умовах нової економічної
політики (1921—1928 рр.)
2 Б
- Радянська модернізація України (1929—1938 рр.)
1 В
- Західноукраїнські землі (1921—1938 рр.)
1 Б
- Україна під час Другої
світової війни (1939—1945 рр.)
1 В
3 А
5 А
- Післявоєнна відбудова і розвиток
України в 1945 — початку 50-х рр.
1 Г
- Україна в умовах десталінізації (1953—1964 рр.)
1 А
- Розпад Радянського Союзу і відродження
незалежності України
1 Г
- Україна в умовах незалежності
1 Г