

5 класс



**Ондық бөлшектерге
амалдар қолданып
есептер шығару**



Оқу мақсаттары:

5.1.2.27 ондық бөлшектерді қосу және азайтуды орындау;

5.1.2.28 ондық бөлшекті натурал санға және ондық бөлшекке көбейтуді орындау;

5.1.2.30 ондық бөлшекті натурал санға және ондық бөлшекке бөлуді орындау

Сабақ мақсаттары:

- ✓ Ондық бөлшектер туралы ережелерді әртүрлі есептеулерде пайдалана алады;

АКТ қолдану дағдылары

Интербелсенді тақта

Презентация

Қима суреттер

Таратпа парақтар





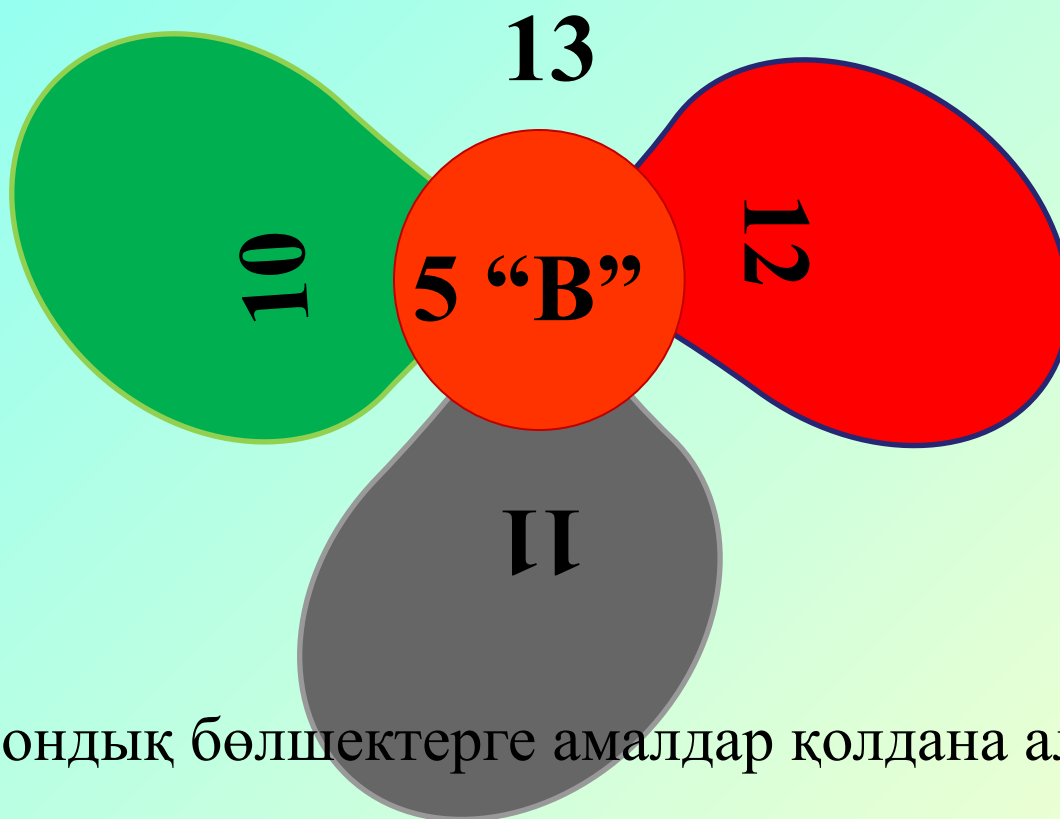
Сабақтың барысы

- I Ұйымдастыру**
- II Топқа бөлу**
- III Ойын эстафета “Кім жылдам?”**
- IV Топпен жұмыс**
- V Сергіту сәті**
- VI Сөзжұмбақ**
- VI Қорытындылау**





Топқа бөлу



Дескриптор: ондық бөлшектерге амалдар қолдана алады(дұрыс жауап-1 балл)

Ойын-эстафета

I топ	II топ	III топ	IV топ
1) $6,4 - 4,91 =$	1) $6,403 + 8,715 =$	1) $2,08 : 0,05 =$	1) $5,81 * 1,5 =$
2) $4,918 + 3,4 =$	2) $46,2 * 0,07 =$	2) $7,43 - 2,12 =$	2) $0,29 : 0,05 =$
3) $20,3 : 1,45 =$	3) $9,31 - 7,25 =$	3) $17,4 * 5,2 =$	3) $5,4 + 2,703 =$
4) $32,5 * 0,6 =$	4) $1,68 : 0,8 =$	4) $13,245 - 9,88 =$	4) $8,61 - 3,75 =$

Дескриптор: ондық бөлшектерге берілген өрнектерді дұрыс есептейді.



Ойын-эстафета

I топ	II топ	III топ	IV топ
1) 1,491	1) 15,118	1) 41,6	1) 8,715
2) 8,318	2) 3,234	2) 5,31	2) 5,8
3) 14	3) 2,06	3) 90,48	3) 8,103
4) 19,5	4) 2,1	4) 3,365	4) 4,86

Топпен жұмыс

I топ

$$\frac{9}{20} : 0,09 + 3,61 : \frac{1}{5} - 18,63 =$$

4,42

II топ

$$\left(2\frac{1}{2} - 1,805\right) : 1,39 + 4 : 2,5 =$$

2,1

III топ

$$19,5 : \left(3,5 - 1\frac{11}{20}\right) - 0,555 : 0,15 =$$

6,3

IV топ

$$91 \cdot \frac{2}{5} : 5,6 + 3,48 : \frac{6}{25} \cdot 1,8 =$$

32,6



Сәргішү сәті

Орнымыздан тұрайық,
Алақан соғайық
Бір отырып, бір тұрып
Бойымызды жазайық
Онға қарай иіліп,
Солға қарай иіліп,
Сәл демалып алайық
Орнымызға отырайық



Сөзді табыңдар

$$\frac{4}{15} + \frac{5}{15} = p; \frac{1}{10} + \frac{3}{10} = a; \frac{13}{25} + \frac{4}{25} = жс; \frac{7}{6} + \frac{8}{6} = bl; \frac{7}{16} + \frac{5}{16} = Д; \frac{11}{50} + \frac{3}{50} = й.$$

0,68 0,4 0,6 0,4 0,28 0,75 2,5

Ж А Р А Й Д ы



Үй тапсырмасы



5+





Рефлексия

Сабақтан ұнаса және бәрін түсінсең **лайк бас**

Сабақтан алған әсерінді **комментарийге жаз**

Әлі нені толық білгің келеді **репост қалдыр**





**Назар қойып
тыңдағандарыңызға
рахмет!**