



# Точки, прямые, отрезки

---

## Задания для устного счета Упражнение 1

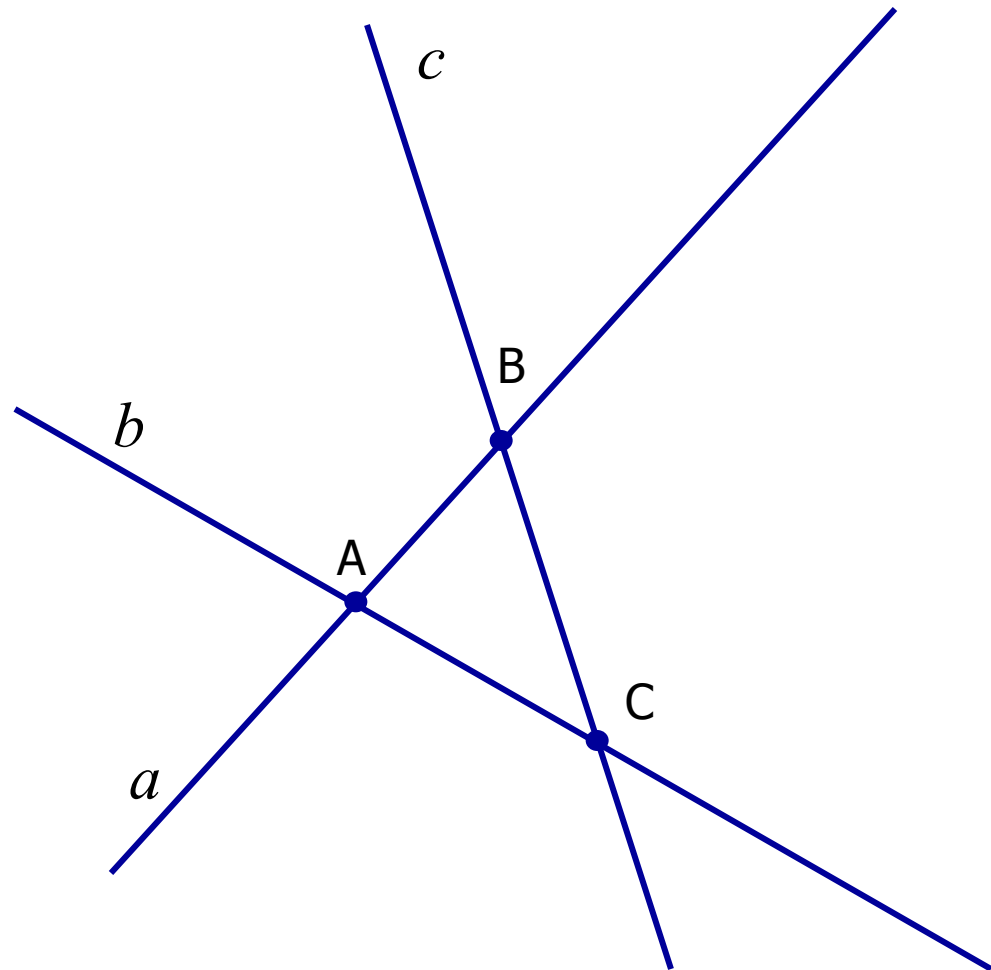
7 класс



# Ответьте на вопросы:

---

- В какой точке пересекаются прямые  $a$  и  $b$ ?
- В какой точке пересекаются прямые  $a$  и  $c$ ?
- В какой точке пересекаются прямые  $c$  и  $b$ ?
- Какие точки лежат на прямой  $a$ ?
- Какие точки не лежат на прямой  $c$ ?

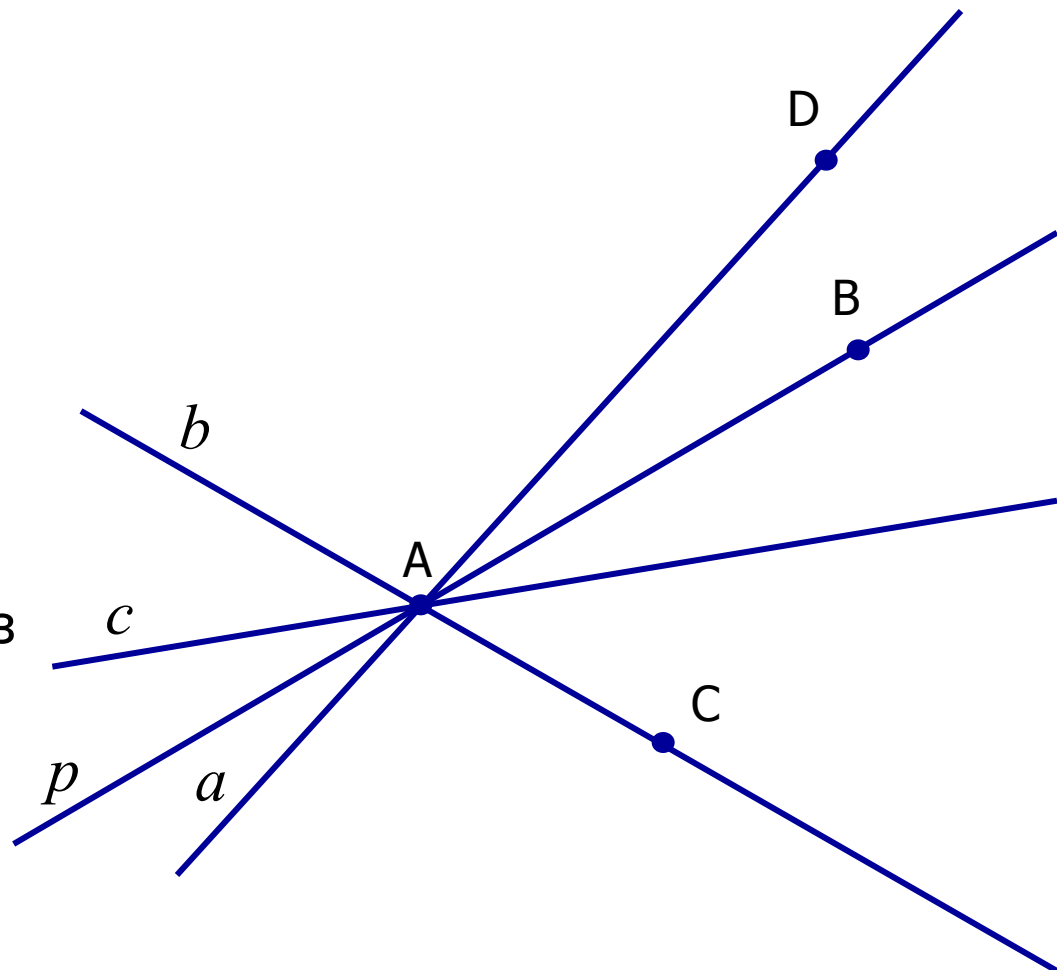




## Ответьте на вопросы:

---

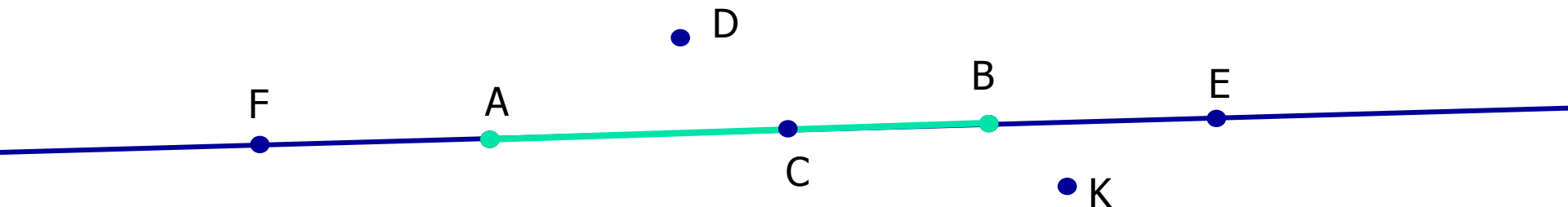
- Сколько прямых можно провести через точку  $A$ ?
- Сколько прямых провели через точку  $A$ ? Назовите эти прямые.
- На какой прямой лежат точки  $A$  и  $B$ ;  $A$  и  $C$ ?
- Какая прямая проходит через точки  $A$  и  $D$ ?
- Проходит ли какая-нибудь прямая через точки  $B$  и  $C$ ?





# Ответьте на вопросы:

---



- Сколько прямых можно провести через точки A и B?
- Как называется часть прямой, ограниченная точками A и B?
- Какие точки лежат на отрезке AB?
- Какие точки лежат на прямой AB?
- Какие точки не лежат на прямой AB?
- Какие точки не лежат на отрезке AB?
- Какие точки лежат на прямой CF?



# Ответьте на вопросы:

---

D

A

C

B

- Какие точки лежат на прямой AB?
- Назовите все отрезки, которые лежат на данной прямой.

Закр<sup>ы</sup>ть