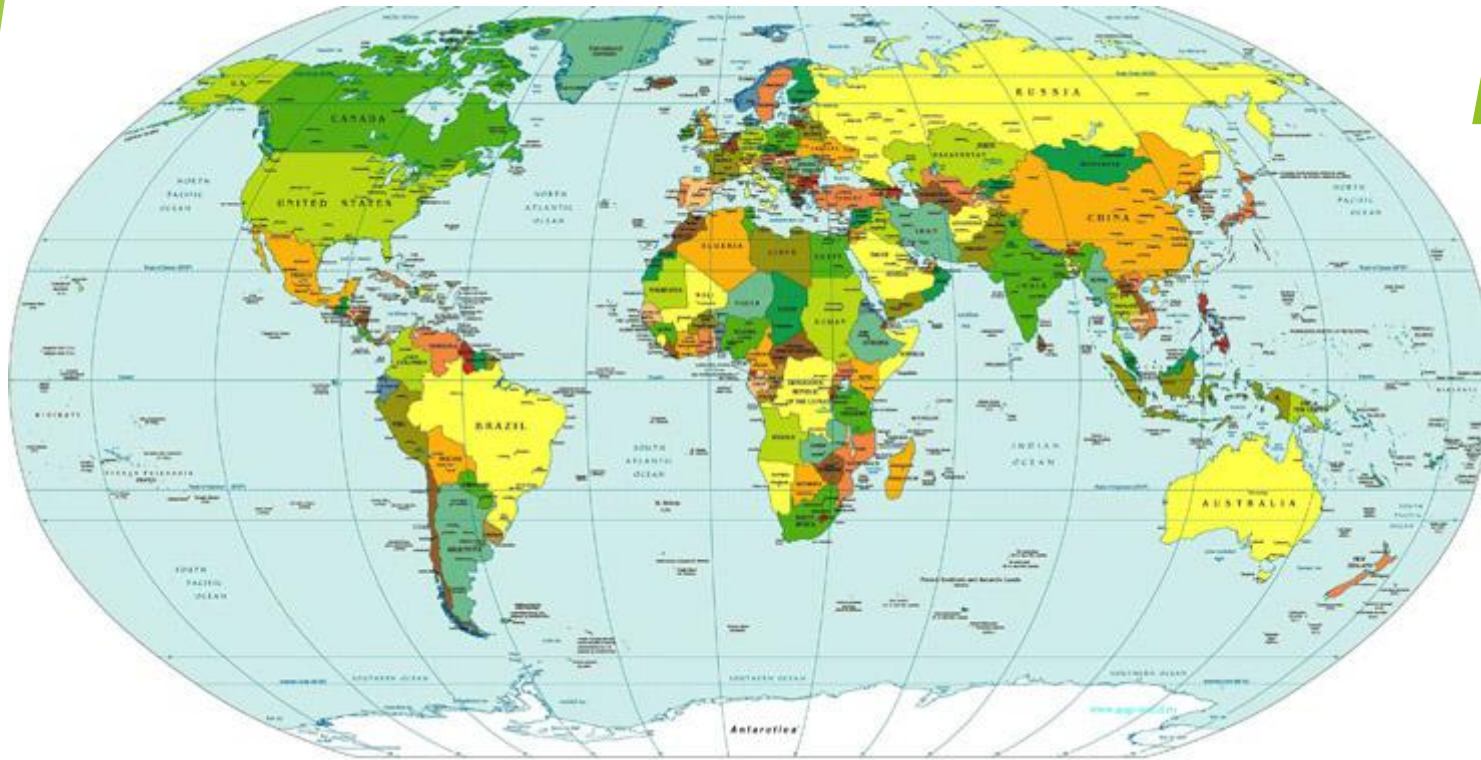




Практическая работа по политической карте мира



Цель урока: Закрепить и обобщить знания по теме «Страны мира», закрепить номенклатуру политической карты мира.

Задачи:

Образовательная:

- ▶ Формировать умение обобщать и систематизировать полученные ранее знания, применять их в новых ситуациях, умения работать с картами атласа.

Развивающие:

- ▶ Развивать умения находить нужную информацию в картах атласа, а также умения самостоятельно отмечать страны в контурной карте.
- ▶ Учить обучающихся анализировать цели и результаты своей деятельности.
- ▶ Развивать интерес к предмету через организацию самостоятельной частично - исследовательской деятельности.

Воспитательная.

- ▶ Формирование толерантного отношения друг к другу, умения работать и активно взаимодействовать в группе или парах.



Умения и навыки:

- ✓ Работа с географической картой.
- ✓ Работа с контурной картой.
- ✓ Поиск информации по заданной теме.
- ✓ Совершенствование географической культуры.
- ✓ Развитие познавательных интересов.
- ✓ Формирование самостоятельности в приобретении знаний.



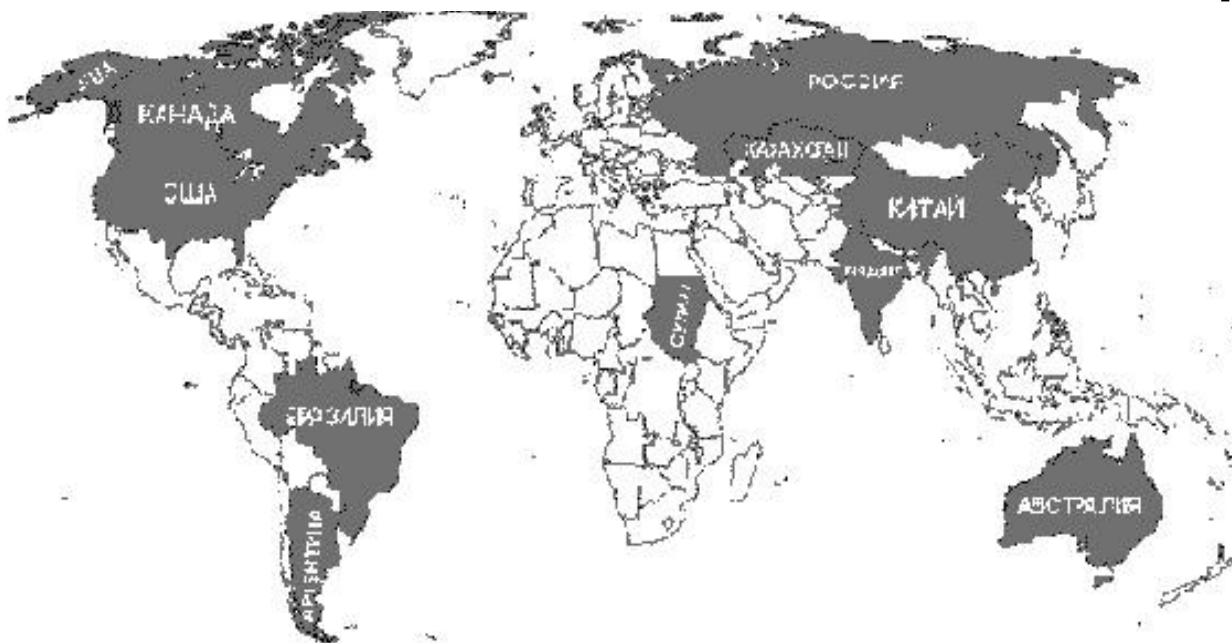
Внимание, не торопись!!!

Подумай хорошенько!!!

Это интересно!!!

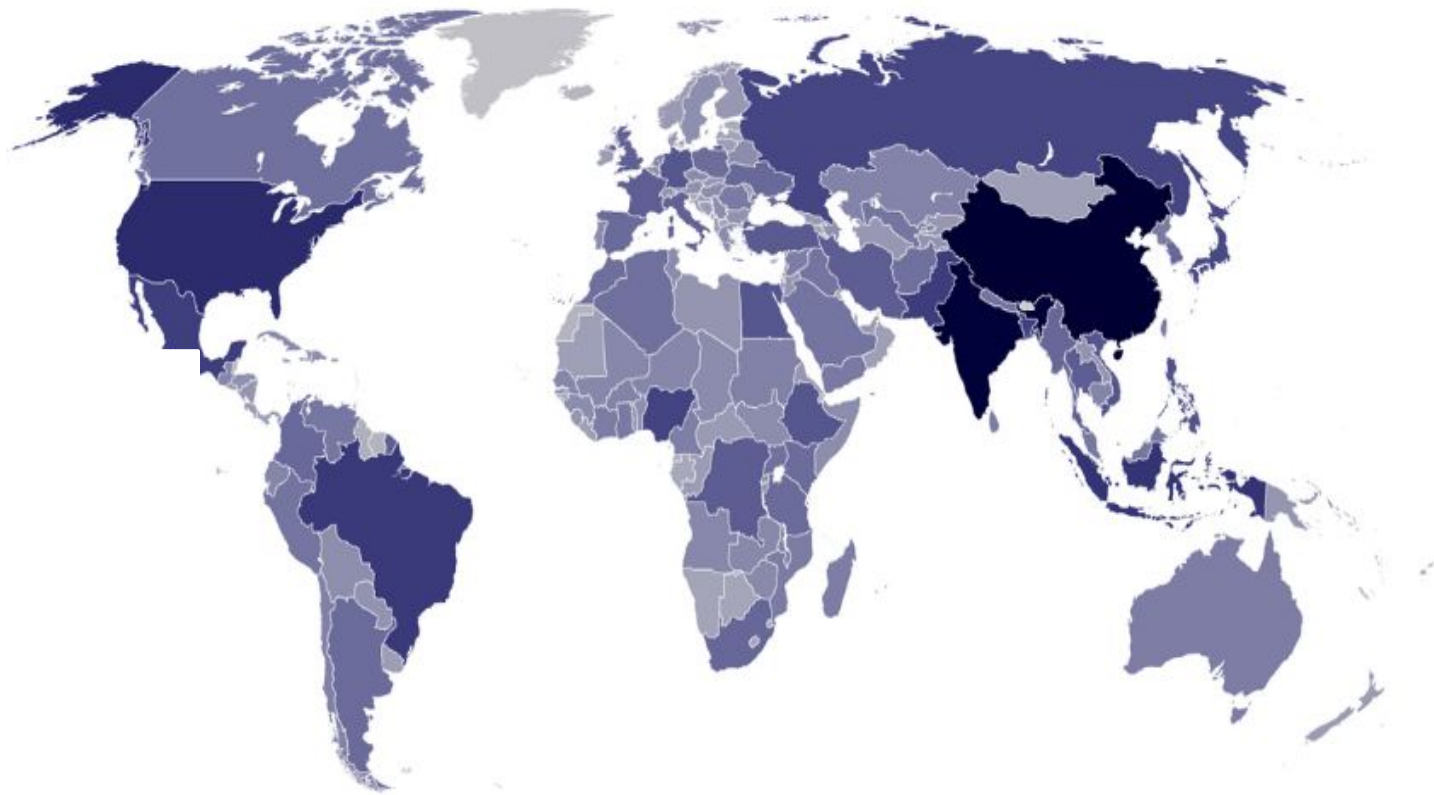


Проверка домашнего задания



10 крупнейших стран мира по площади

№	Название	Площадь, млн кв. км
1	Россия	17, 1
2	Канада	10
3	Китайская Народная Республика (КНР)	9,6
4	Соединённые Штаты Америки (США)	9,5
5	Бразилия	8,5
6	Австралия	7,7
7	Индия	3,3
8	Аргентина	2,8
9	Казахстан	2,7
10	Алжир	2,4



10 крупнейших стран мира по численности населения

№	Страна	Население, млн.чел.
1	Китай	1 480
2	Индия	1 235
3	США	315
4	Индонезия	240
5	Бразилия	197
6	Пакистан	178
7	Бангладеш	156
8	Нигерия	146
9	Россия	141
10	Япония	127

Задания практической работы

1. Выписать по 5 стран, которые имеют:

- А) положение на островах;
- Б) положение на полуостровах;
- В) приморское положение;
- Г) внутриконтинентальное положение.

2. Заполните таблицу:



Страна	Столица	На каком материке
<i>Аргентина</i>	<i>Буэнос-Айрес</i>	<i>Южная Америка</i>
<i>Р</i>		
<i>С</i>		
<i>И</i>		
<i>Н</i>		
<i>К</i>		
<i>Б</i>		

3. Выписать по 3 страны, столицы которых расположены:

А) на берегу моря;

Б) на берегу реки;

В) на равнине;

Г) в горах.

4. Заполнить таблицу:

Континент	Самая большая по площади страна на континенте	Столица
<i>Африка</i>	<i>ДР Конго</i>	<i>Киншаса</i>
<i>Азия</i>		
<i>Европа</i>		
<i>Америка</i>		
<i>Океания</i>		

5. Нанести на контурную карту самые большие страны по площади и численности населения.

6. Нанести на контурную карту страны, граничащие с Россией.

