


Математический диктант

- 1). Запиши число, в котором 5 десятков и 8 единиц. Уменьши его на 6.
- 2). Из какого числа надо вычесть 30, чтобы получить 30?
- 3). Разность двух чисел равна 76, уменьшаемое — 96. Найди вычитаемое.
- 4). К какому числу надо прибавить 5, чтобы получить 86?
- 5). Первое слагаемое — 30, второе — неизвестно, сумма — 80. Найди второе слагаемое.
- 6). На сколько надо увеличить 20, чтобы получить 73 ?
- 7). В одной вазе 36 конфет, а в другой — 18 конфет. На сколько меньше конфет во второй вазе?
- 8). Найди сумму чисел 343 и 529.
- 9). Запиши число, которое следует за числом 74. Увеличь его на 15.
- 10). На сколько 4 десятка больше четырёх единиц?

Уч. с. 86, № 1.

- У Миши возникла проблема.
- Ему нужно распределить 10 конфет поровну между двумя друзьями.
- Что значит поровну?





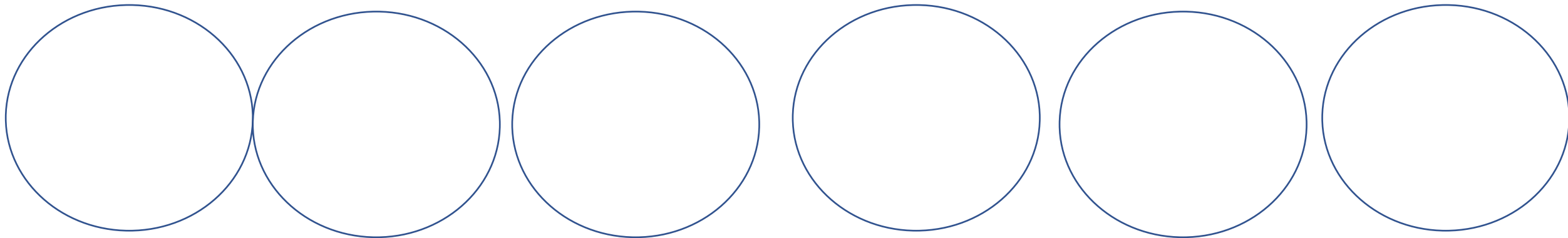
- Схематично изобрази конфеты в виде кружков в тетради и распредели их поровну между друзьями Миши.
- По сколько конфет получит каждый?

Уч. с. 86, № 2


Что значит разложить?

Разделить

Схематично изобрази тарелки в тетради и покажи. По сколько пирожков Маше нужно положить на каждую тарелку?



Уч. с. 88, № 1



- $12 : 4 = 3$

- $3 * 4 = 12$

- $12 : 3 = 4$

Уч. с. 90, № 1

$$\underline{25 : 5}$$

$$7 * 5$$

$$7 + 6$$

$$15 - 7$$

$$60 + 12$$

$$\underline{100 : 2}$$

$$\underline{42 : 2}$$

Частное

№ 2

Найдите частное в этой записи

• $\underline{12 : 4} = 3$ → *Значение частного*

Делимое
е

Делитель
ь

ИСТОЧНИКИ

- <https://ru.depositphotos.com>
- <http://clipartstation.com/>