

Подготовка к введению

сч в 2 действия.

Урок № 94



УСТНЫЙ СЧЁТ



Сосчитай примеры.

$$18 - 10 - 3 =$$

5



$$8 + 6 + 2 =$$

16

$$16 - 5 - 6 =$$

5

$$7 + 5 + 3 =$$

15



Послушай задачи, которые придумал Незнайка.
Объясните ему, что в них не так. Исправь ошибки.

На кочке сидели 8 лягушек, 2 лягушки прыгнули в воду. Сколько лягушек прыгнуло в воду?




6

лягушек
 $8 - 2 = 6$



Синеглазка принесла груши. За обедом Малышки съели 4 груши. Сколько груш осталось?



На яблоне было 15 яблок. Винтик и Бублик сняли с дерева яблоки и положили в машину. Сколько яблок осталось на дереве?



Вчера Незнайка прочитал 5 страниц, а сегодня на 2 страницы больше. Сколько Незнайка прочитал страниц сегодня?

7

$$5 + 2 = 7$$



Сколько Незнайка прочитал страниц за 2 дня?




12

$$7 + 5 = 12$$



В Цветочном городе было 10 улиц и 6 проспектов.
На сколько больше было улиц, чем проспектов в
Цветочном городе?

на 4

$$10 - 6 = 4$$



РАБОТА ПО УЧЕБНИКУ



Стр. 60

Учимся дополнять условия задач и сравнивать величины.

1. Дополни условие каждой задачи и реши её.
 - 1) За день в киоске продали 10 открыток. Сколько открыток осталось в киоске?
 - 2) В одной группе 7 туристов, а в другой — больше. Сколько туристов в другой группе?
 - 3) Боре 9 лет. У него есть младшая сестра. На сколько лет Боря старше сестры?
2.
 - 1) У Тани было 10 книг со стихами и 4 книги с рассказами. Сколько всего книг было у Тани?
 - 2) У Тани было 14 книг. Она подарила 1 книгу. Сколько книг осталось у Тани?

3.

Слагаемое	2	6				3	2	1
Слагаемое			10	9	8	7	6	5
Сумма	10	10	10	10	10			

4.

$15 - 5$

$0 + 12$

$19 + 1$

$10 - 1$

$15 - 10$

$12 + 1$

$19 - 1$

$10 + 1$

$10 + 5$

$13 - 0$

$20 - 1$

$10 + 0$

5.

$1 + 9 + 5$

$13 - 3 - 4$

$12 + 0 + 1$

$8 + 2 + 7$

$19 - 9 - 1$

$16 - 6 - 10$

$7 + 3 + 3$

$14 - 4 - 4$

$10 - 1 - 0$


6. 1 дм ○ 9 см
2 дм ○ 20 см

1 дм 1 см ○ 11 см
19 см ○ 2 дм

7. 1) На сколько больше звеньев в красной ломаной, чем в синей?
2) Найди сумму длин всех звеньев каждой ломаной. Какая сумма больше?



ЗАДАНИЯ НА СМЕКАЛКУ




У отца 2 сына. У каждого сына по 3 сестры. Сколько детей в семье?

5 детей




Сосчитай треугольники.



5 треугольников

ПОВТОРЕНИЕ





$$12 - 7 - 2 =$$

$$14 - 5 - 4 =$$

$$8 + 4 + 2 =$$

$$9 + 5 + 1 =$$



$$1 \text{ дм } 4 \text{ см} =$$

$$1 \text{ дм } 7 \text{ см} =$$

$$18 \text{ см} = \text{ дм}$$

$$14 \text{ см} \stackrel{\text{см}}{=} \text{ дм}$$

см



конец