

ЕГЭ-2015. Практикум по истории

Занятие 9.

Работаем с картой, или Как не заблудиться в истории



Совместный проект групп В Контакте: [ПРО100 ЕГЭ История](#) и [Сказки для Бабы-ЕГИ](#)

Материалы предыдущих уроков:

Подкаст:

https://vk.com/topic-66598975_30851120

Разбор присланных заданий:

https://vk.com/topic-66598975_30850678

Вопросы к занятию:

- Зачем введено задание по карте?
- С чего начать работу по «картежным» заданиям?
- Режим экономии сил: что учить и как учить?
- «Маленькие хитрости»: как повысить результат?

Работа с картой (спецификация 2015 г.):

- **Содержание задания**

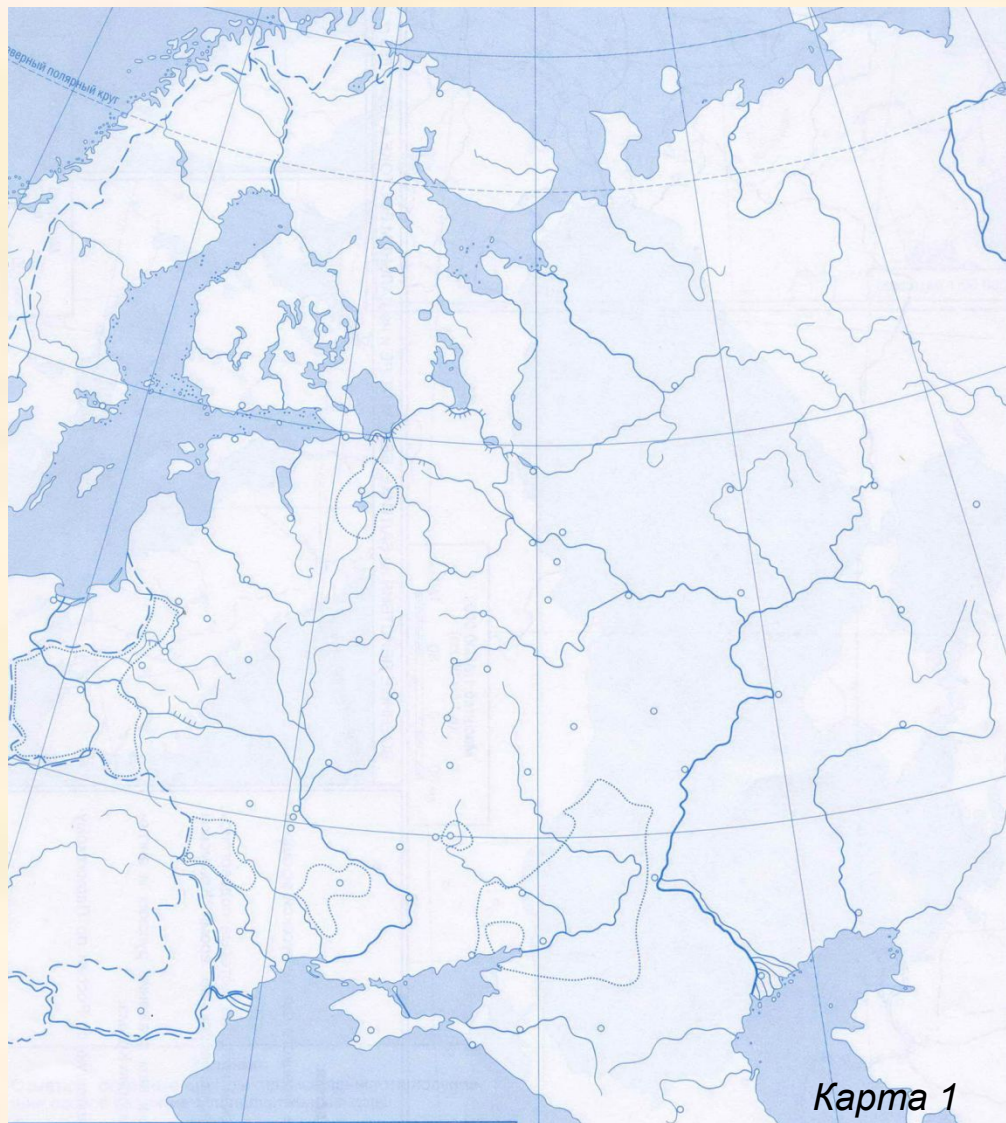
- *Цель заданий: проверка умения анализировать историческую информацию, представленную в различных знаковых системах (картах, схемах...)*
- *Задания 29-31 – задание с открытым кратким ответом*
- *хронологические рамки – отсутствуют*
- *уровень сложности – базовый*
- *Задание 32 – задание на множественный выбор*
- *хронологические рамки – отсутствуют*
- *уровень сложности – повышенный*

- **Максимальный первичный балл – 5 баллов (1+1+1+2)**

- **Стратегия успеха**

- *Не паникуй. Помни: это другой способ хранения информации, но содержание – все то же!*
- *Ликвидируй пробелы в элементарных знаниях о работе с картой. Начни с самодиагностики (см следующие слайды)*
- *Выясни, что такое «легенда карты» и пользуйся ей! Ищи подсказки!*

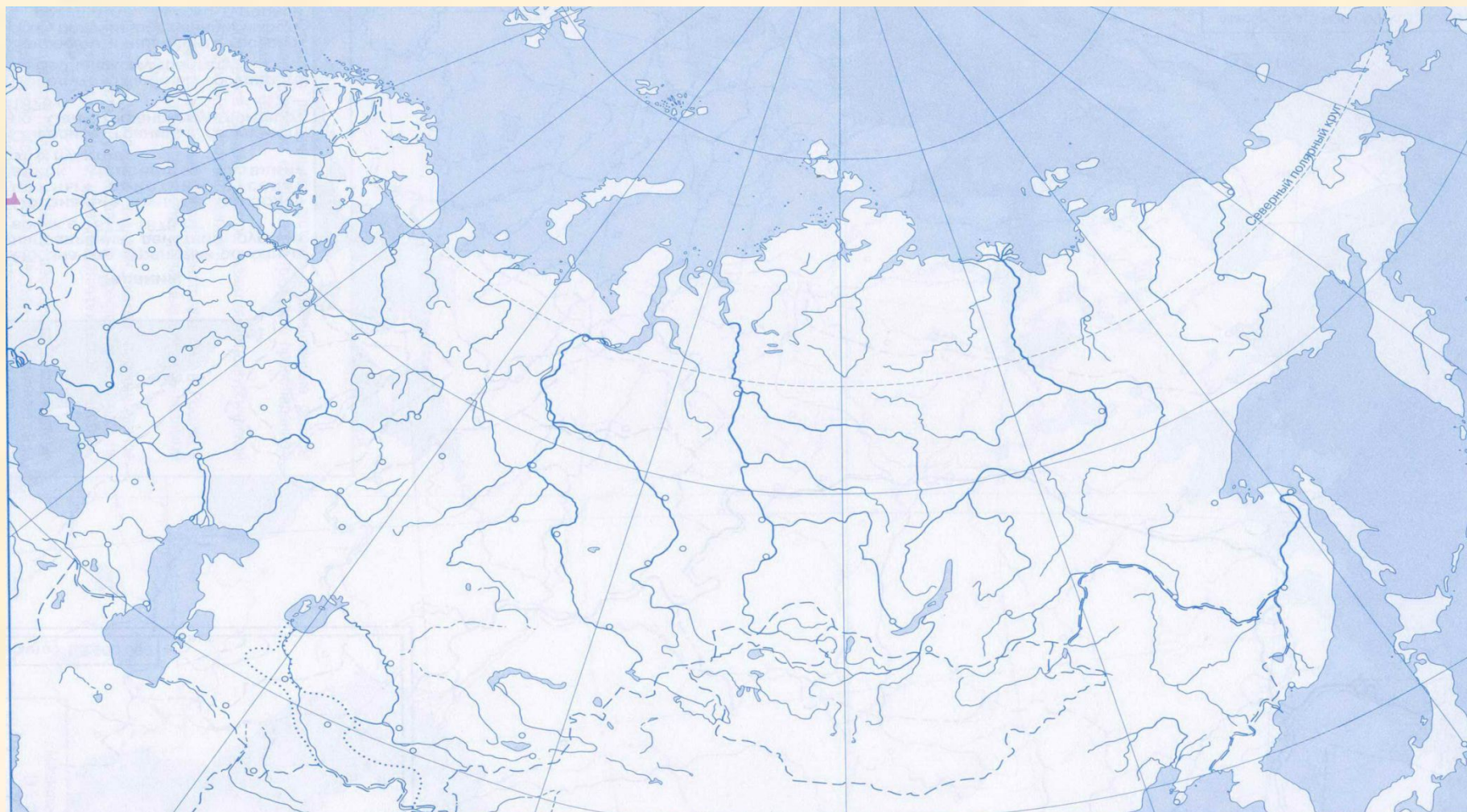
Самодиагностика. 1 уровень:



Найди на карте 1 и (или) карте 2 следующие объекты физической географии:

1. Балтийское море
2. Черное море
3. Азовское море
4. Каспийское море
5. Белое море
6. Берингов пролив
7. Ладожское озеро
8. Волга
9. Днепр
10. Дунай
11. Северная Двина
12. Лена
13. Амур
14. Нева
15. Уральские горы
16. Крым
17. Камчатка
18. Сахалин
19. Курильские острова
20. Мыс Дежнева

Самодиагностика. 1 уровень:



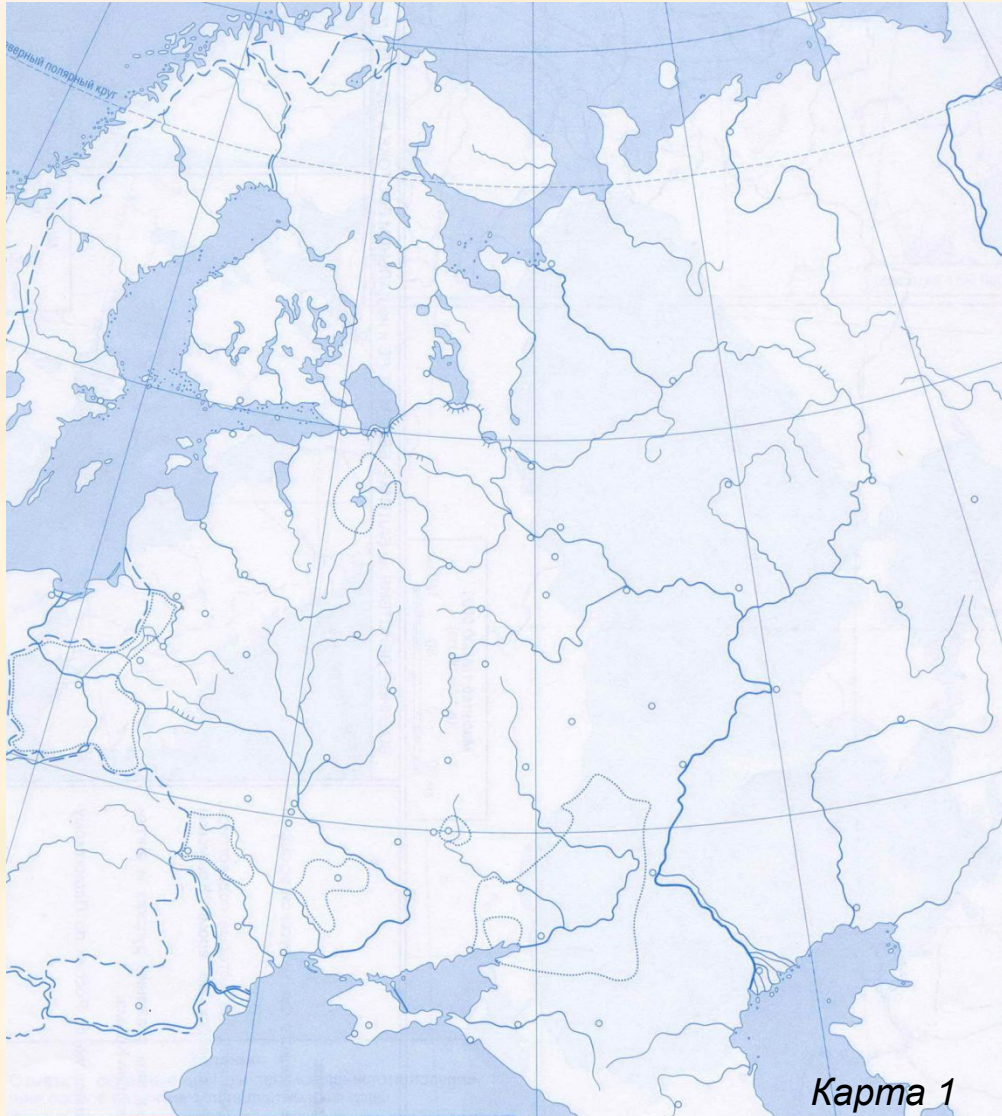
Самодиагностика. 2 уровень:



Найди на карте 1 и (или) карте 2 следующие города:

1. Новгород
2. Киев
3. Чернигов
4. Смоленск
5. Владимир
6. Тверь
7. Псков
8. Москва
9. Санкт-Петербург
10. Нижний Новгород
11. Казань
12. Астрахань
13. Волгоград
14. Архангельск
15. Екатеринбург
16. Севастополь
17. Рига
18. Варшава
19. Владивосток
20. Хабаровск

Самодиагностика. 3 уровень:



Найди на карте 1 и (или) карте 2, где примерно расположены следующие территории:

1. Финляндия
2. Царство Польское
3. Левобережная Украина
4. Правобережная Украина
5. Бессарабия
6. Северное Причерноморье
7. Грузия
8. Эстония (Курляндия)
9. Литва (в современных границах)
10. Пруссия (в границах конца XIX в.)

Критерии оценки диагностики:

Отлично:

- Уровень 1 – 95-100%
- Уровень 2 – 90-95%
- Уровень 3 – 90-95%

Хорошо:

- Уровень 1 – 90-95%
- Уровень 2 – 80-90%
- Уровень 3 – 85-90%

Предстоит много работы:

- Уровень 1 – 75-85%
- Уровень 2 – 70-80%
- Уровень 3 – 75-85%

Есть повод для опасений:

- Уровень 1 – 60-75%
- Уровень 2 – 50-70%
- Уровень 3 – 50-75%

Нужно срочно принимать меры!

- Уровень 1 – 50-60%
- Уровень 2 – 30-50%
- Уровень 3 – 30-50%

А Вы вообще в школе были?

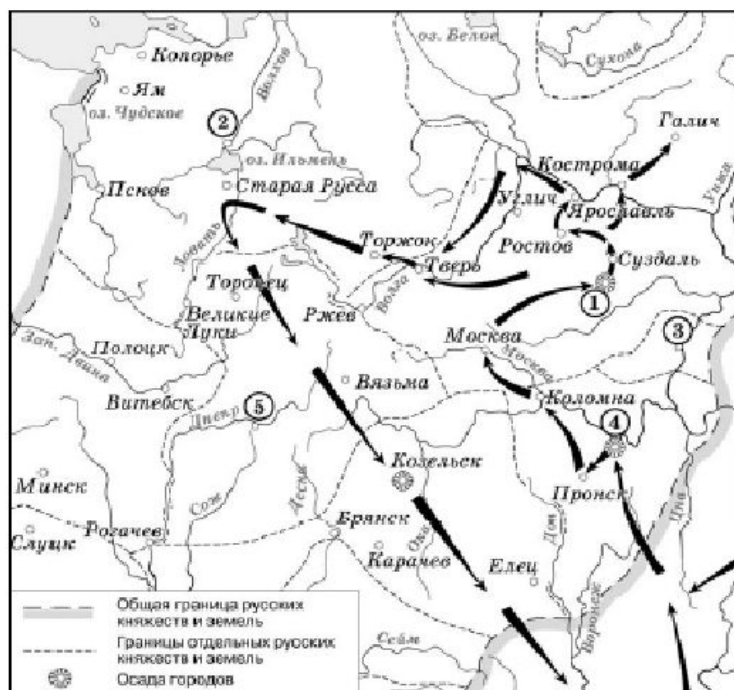
- Уровень 1 – меньше 50%
- Уровень 2 – меньше 30%
- Уровень 3 – меньше 30%

Знакомимся с заданиями:

Демоверсия-2015

Демонстрационный вариант ЕГЭ 2015 г. История, 11 класс (2015 - 15 / 29)

Рассмотрите схему и выполните задания 29–32.



29 Назовите имя полководца, осуществившего поход, обозначенный на схеме стрелками.

Ответ: _____

30 Назовите название города, обозначенного на схеме цифрой «1».

Ответ: _____

Демонстрационный вариант ЕГЭ 2015 г. История, 11 класс (2015 - 16 / 29)

31 Укажите название города, обозначенного на схеме цифрой, где в период данного похода существовала республиканская форма правления.

Ответ: _____

32 Какие суждения, относящиеся к событиям, обозначенным на схеме, являются верными? Выберите три суждения из шести предложенных. Запишите в таблицу цифры, под которыми они указаны.

- 1) Завоеватели вторглись в пределы Руси в зимний период.
- 2) Ни один из городов, захваченных завоевателями, не выдержал осады более одной недели.
- 3) Поход, обозначенный на схеме стрелками, длился около трёх лет.
- 4) Одним из последствий событий, обозначенных на схеме, было начало раздробленности Древнерусского государства.
- 5) В результате событий, обозначенных на схеме, русские земли попали в зависимость.
- 6) Полководец, поход которого обозначен на схеме, является основателем государства.

Ответ:

Знакомимся с заданиями:

Досрочный этап 2014, 1 вариант

Рассмотрите схему и выполните задания В8–В11.



В8 Назовите монарха, в период правления которого в состав Российского государства вошёл город, обозначенный на схеме цифрой «3».

Ответ: _____



В9 Заполните пропуск в предложении: «Одна из крупнейших ярмарок России в XVII–XVIII вв. – _____ – обозначена на схеме цифрой «4»».

Ответ: _____

В10 Заполните пропуск в предложении: «Цифрой «1» на схеме обозначен город _____, в непосредственной близости от которого были построены первые в России железодобывающие заводы».

Ответ: _____

В11 Какие суждения, относящиеся к данной схеме, являются верными? Выберите три суждения из шести предложенных. Запишите в таблицу цифры, под которыми они указаны.

- 1) Крупными центрами кожевенного производства согласно схеме были Тверь, Калуга, Смоленск.
- 2) Горизонтальной штриховкой  на схеме обозначены районы, специализировавшиеся на пушном промысле.
- 3) Точечным узором  на схеме обозначен основной район производства льна и пеньки.
- 4) Цифрой «6» на схеме обозначена река, название которой было изменено в результате крупного народного восстания, произошедшего в том же веке, в котором установились границы Европейской части России, обозначенные на схеме.
- 5) Цифрой «5» на схеме обозначен город, вошедший в состав Российского государства в период правления Ивана IV.
- 6) Цифрой «2» на схеме обозначен Архангельск.

Ответ:

--	--	--

Слайд 10

Знакомимся с заданием:

ЕГЭ-2014, досрочный этап

Задания:

В8. Узнать на карте Киев

В9. Вспомнить, какая ярмарка была рядом с Нижним Новгородом

В10. Вспомнить, в каком городе между Москвой и Орлом, занимаются ремеслами, связанными с обработкой железа

В11:

- Читаем легенду карты. Возле Твери и Смоленска знак полотняного производства (-1)

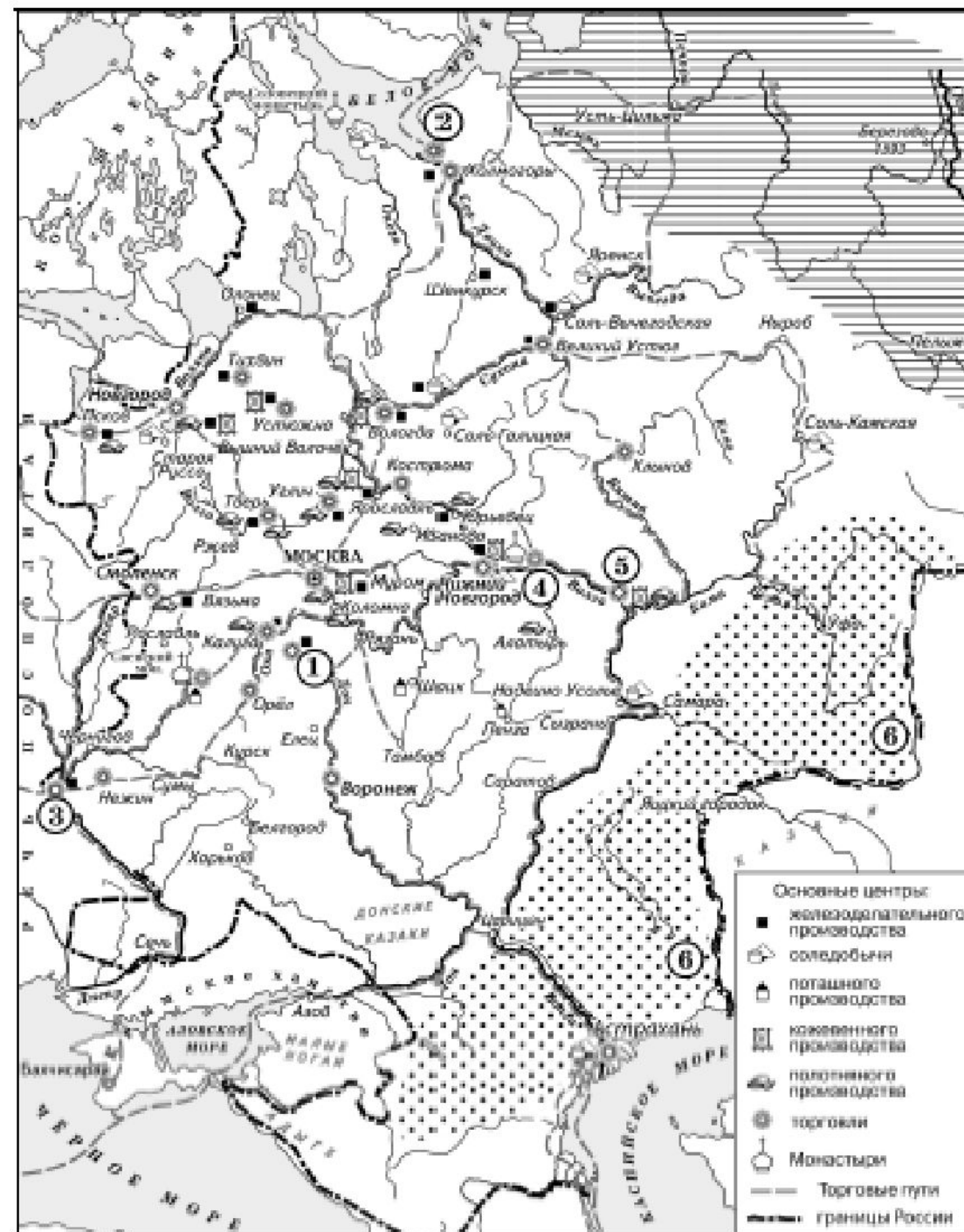
- Надо знать, что на севере добывают пушнину, а в поволжских степях не растят лён (+2-3).

- Нужно увидеть, что в состав страны не входит Прибалтика, а цифрой 6 обозначен Яик/Урал (-4)

- Надо узнать на карте Архангельск и Казань (+5+6).

Итого: 256

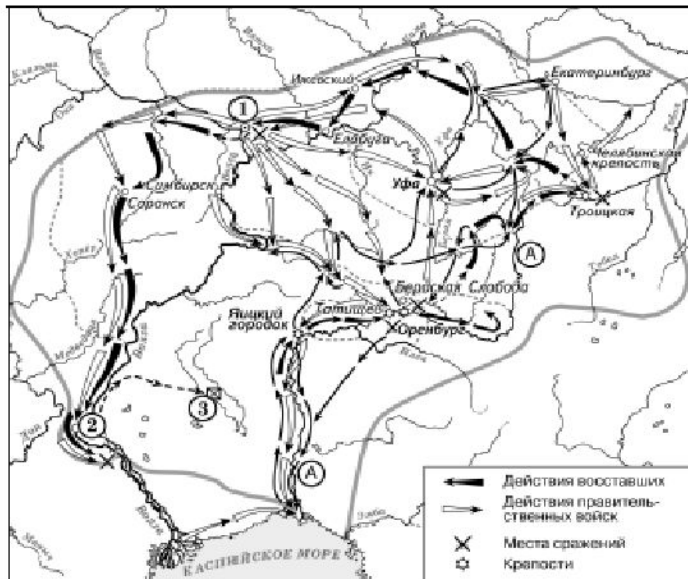
Вариант 1



Знакомимся с заданиями:

Досрочный этап 2014, 2 вариант

Рассмотрите схему и выполните задания B8–B11.



B8 Укажите век, в котором происходили события, обозначенные на схеме. Ответ запишите словом.

Ответ: _____

B9 Напишите название реки, обозначенной буквой «А», после завершения изображённых на схеме событий.

Ответ: _____

B10 Напишите название города, обозначенного на схеме цифрой «1», у которого войска, чьи действия обозначены белыми стрелками, одержали победу.

Ответ: _____

B11 Какие суждения, относящиеся к событиям, обозначенным на схеме, являются верными? Выберите три суждения из шести предложенных. Запишите в таблицу цифры, под которыми они указаны.

- 1) На схеме изображён ход крупнейшего народного восстания.
- 2) Участником событий, изображённых на схеме, был казачий атаман Василий Ус.
- 3) Вооружённые отряды, действия которых обозначены чёрными стрелками, состояли только из казаков и государственных крестьян.
- 4) У города, обозначенного на схеме цифрой «2», войска, действия которых обозначены чёрными стрелками, одержали крупную победу.
- 5) Цифрой «3» на схеме обозначено место пленения предводителя вооружённых отрядов, действия которых обозначены чёрными стрелками.
- 6) После завершения событий, обозначенных на схеме, в Российской империи была проведена губернская реформа.

Ответ:

--	--	--

Знакомимся с заданием:

ЕГЭ-2014, досрочный этап

Задания:

Главное условие: вспомнить, кто это вел военные действия в районе Оренбурга и Яицкого городка?))

V8. Вспомнить век «пугачевщины»

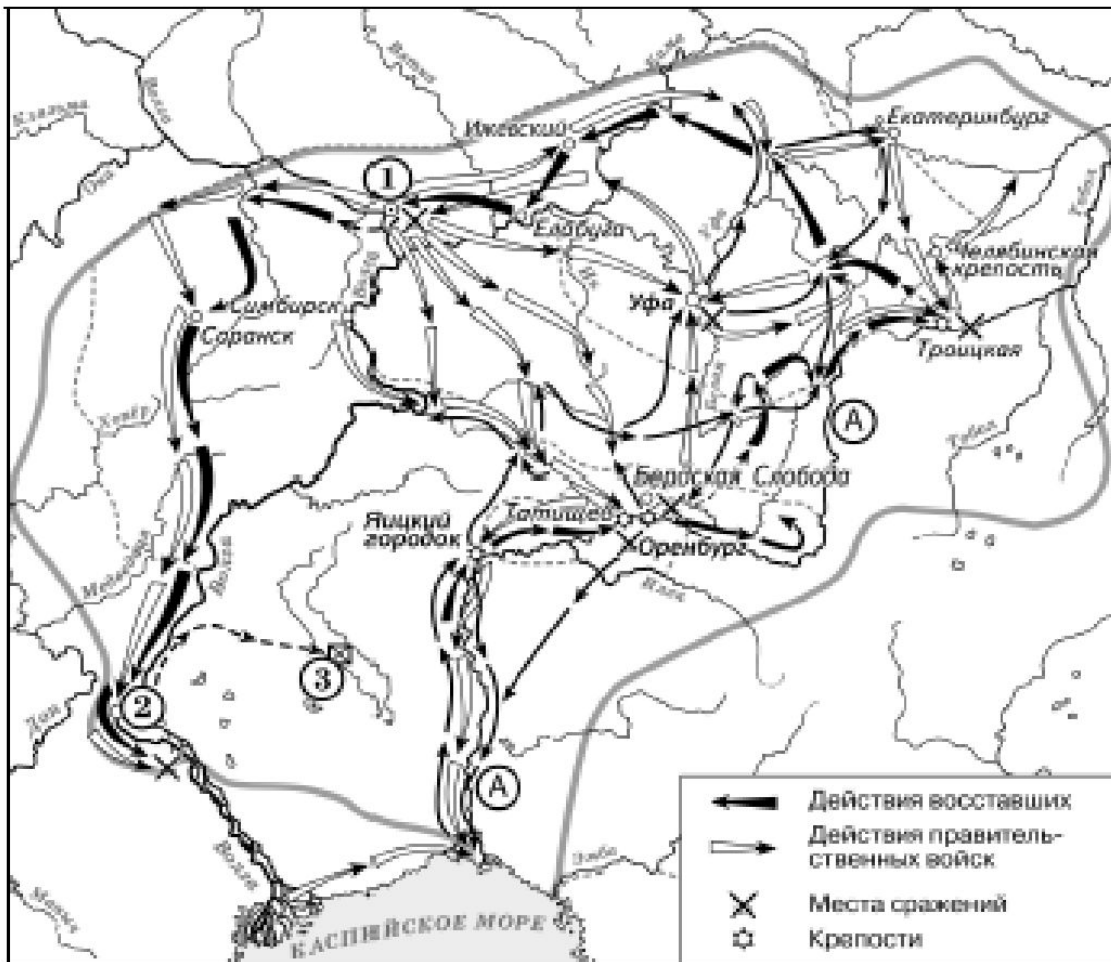
V9. Вспомнить название реки (точно не Волга, Волга подписана)

V10. Узнать на карте Казань

V11:

- «Пугачевщина» - крупное восстание? (+1)
- Помните, кто такой Василий Ус? А Степан Разин? (-2).
- Нужно вспомнить, какие группы населения шли с Пугачевым (-3)
- После цифры 2 – явное отступление (пунктир). Вряд ли победа... (-4)
- В сотатке (+5+6).

Итого: 256



Этапы подготовки к заданиям по картам:

- 1) Если необходимо, узнать, что и как обозначается на карте
- 2) Научиться узнавать объекты, перечисленные на слайдах 3, 5, 6 на картах любого масштаба и при любой «раскройке»
- 3) Если задание по карте остается проблематичным, купить комплект контурных карт для средних классов и выполнить задания. Заодно и подучите!
- 4) Не паниковать! Помните: три задания относятся к базовой категории сложности! Главное – определить время и место!
- 5) Практика, практика, практика!

На следующей неделе:

Занятие 10. Термины в истории, или Слово о словах

- Особенности исторической терминологии
- Поиск «хлебных крошек» в тексте (слова-маркеры эпохи)
- «Прощание славянки» - заключительные советы практикума.

До встречи В Контакте!

ПРО100 ЕГЭ История (http://vk.com/history_ege) –
тренинг и самоподготовка к экзамену

Сказки для Бабы-ЕГИ (<http://vk.com/skazki-baby-egi>) – видеолекции, научно-популярные и художественные фильмы для подготовки к экзамену по истории