
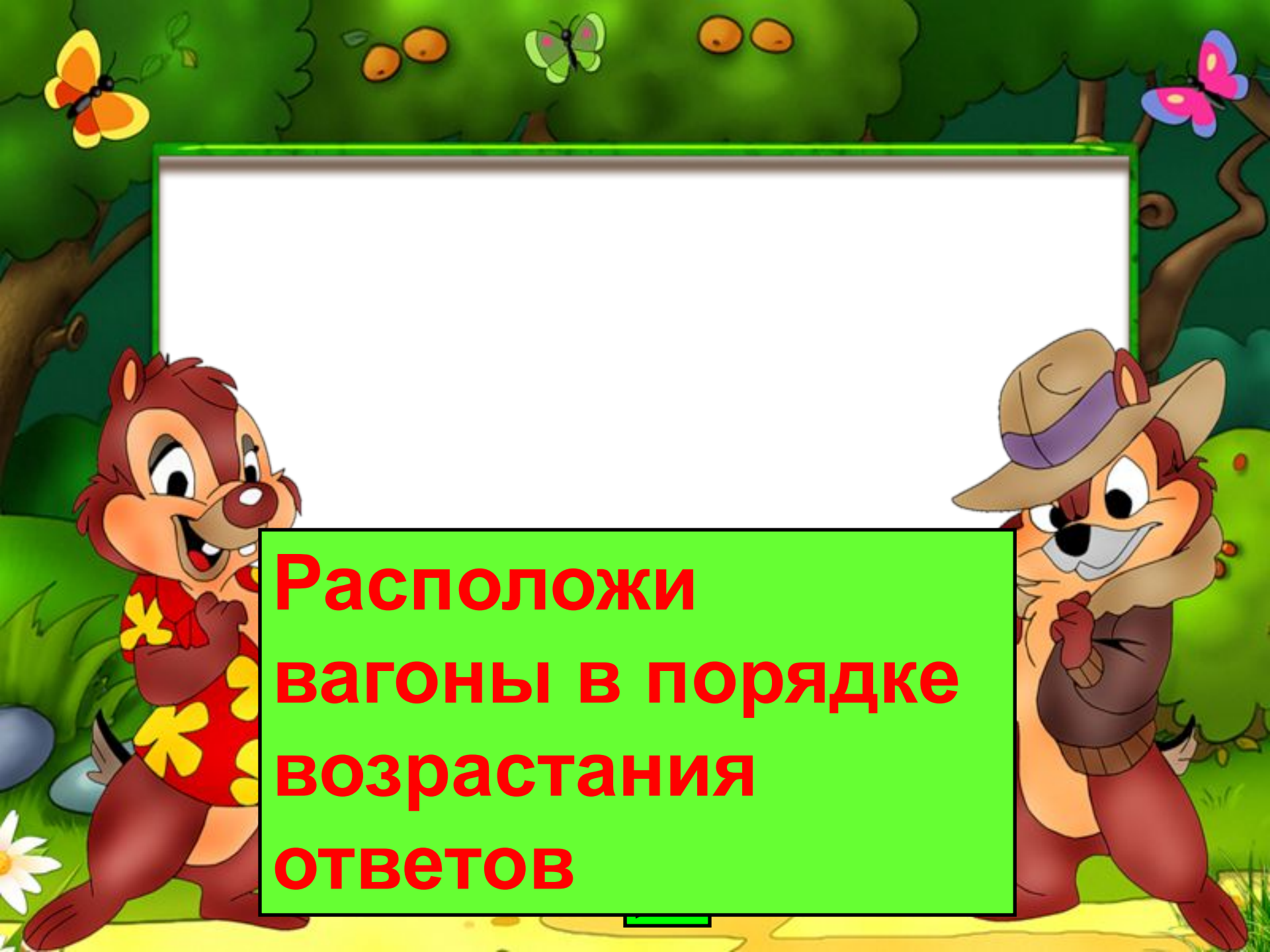





Математика 1 класс
Итоговое повторение

УСТНЫЙ СЧЁТ






**Расположи
вагоны в порядке
возрастания
ОТВЕТОВ**




Выбери знак

$$8 + 7 \dots 8 + 8$$




Молодец!



Выбери знак

$$8 + 8 \dots 9 + 5$$


Молодец!



Выбери знак


$$7 + 6 \dots 9 + 2$$

Молодец!




Выбери знак

$$9 - 7 \dots 8 - 4$$




Молодец!




Выбери знак

$$8 - 7 \dots 8 + 0$$




Молодец!



Выбери знак


$$6 + 5 \dots 5 + 5$$

Молодец!




Выбери знак

$$7 + 7 \dots 9 + 8$$




Молодец!




Выбери знак

$$4 + 5 \dots 6 + 6$$




Молодец!



Выбери знак

$$8 + 8 \dots 9 + 5$$

Молодец!



Выбери знак

$$17 - 7 \dots 9 - 5$$


Молодец!



2. Логическая разминка

- Откройте учебник на с. 89. Рассмотрите фигуры на полях.

- *Какая фигура лишняя? Назовите несколько вариантов и объясните.*



**3. Работа по учебнику
№ 2 (с. 89) – устно.**

5, 8

5, 8

6, 7



*№ 1 (с. 89). 1, 2 столбики устно,
3, 4 письменно*

13, 14, 15

6, 7, 8



$$12 - 8 + 7 = 11$$

$$17 - 8 + 7 = 16$$

$$11 - 7 + 8 = 12$$

$$12 - 8 + 4 = 8$$

$$15 - 9 + 4 = 10$$


$$14 - 7 + 2 = 9$$

Молодец!



№ 4 (с. 89).

письменно



$18 < 20$



$16 > 14$

$9 = 11 - 2$

$9 < 10 - 0$

$1 \text{ дм} < 9 \text{ см}$

$1 \text{ дм} = 10 \text{ см}$



№ 3 (с. 89).

А. -

С. -

- Какая из этих схем относится к Андрею, а какая — к Сергею, если зачеркнутые круги изображают отбитые мячи?



№ 3 (с. 89).

А. — 

С. — 

- Какая из этих схем относится к Андрею, а какая — к Сергею, если зачеркнутые круги изображают отбитые мячи?

Реши задачу



- 1) $10 - 6 = 4$ (г.) – забил Сергей.
2) $10 - 8 = 2$ (г.) – забил Андрей.
3) $4 - 2 = 2$ (г.) – на ст-ко $>$
Ответ: на 2 гола $>$ забил Сергей.

