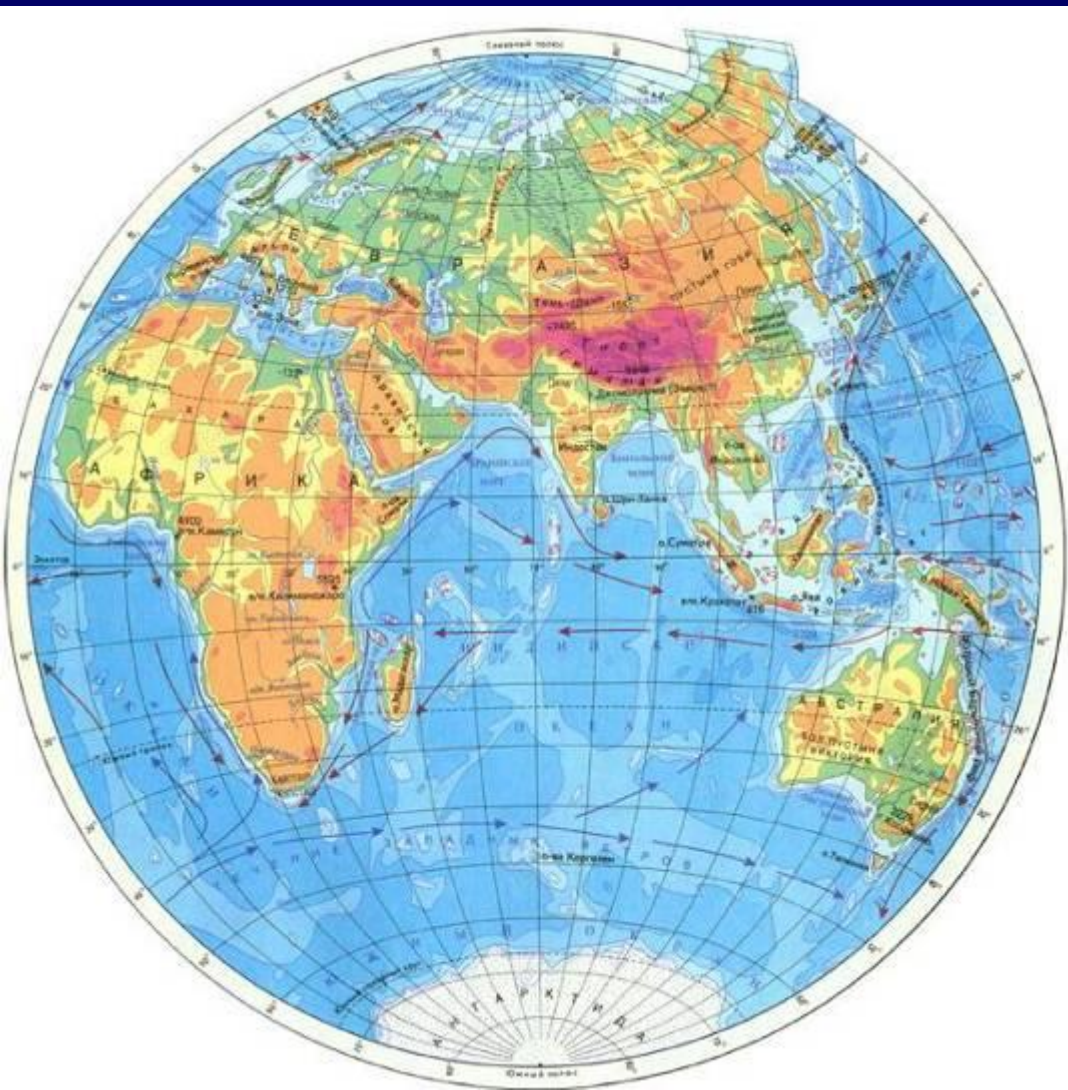


Изображение высот и глубин на физических картах

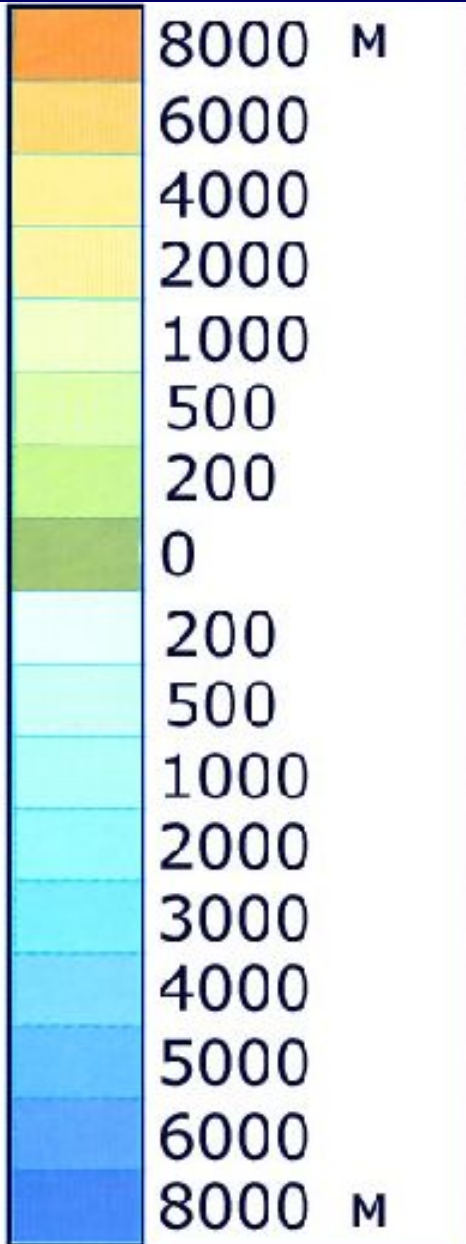


Обозначение высот на карте



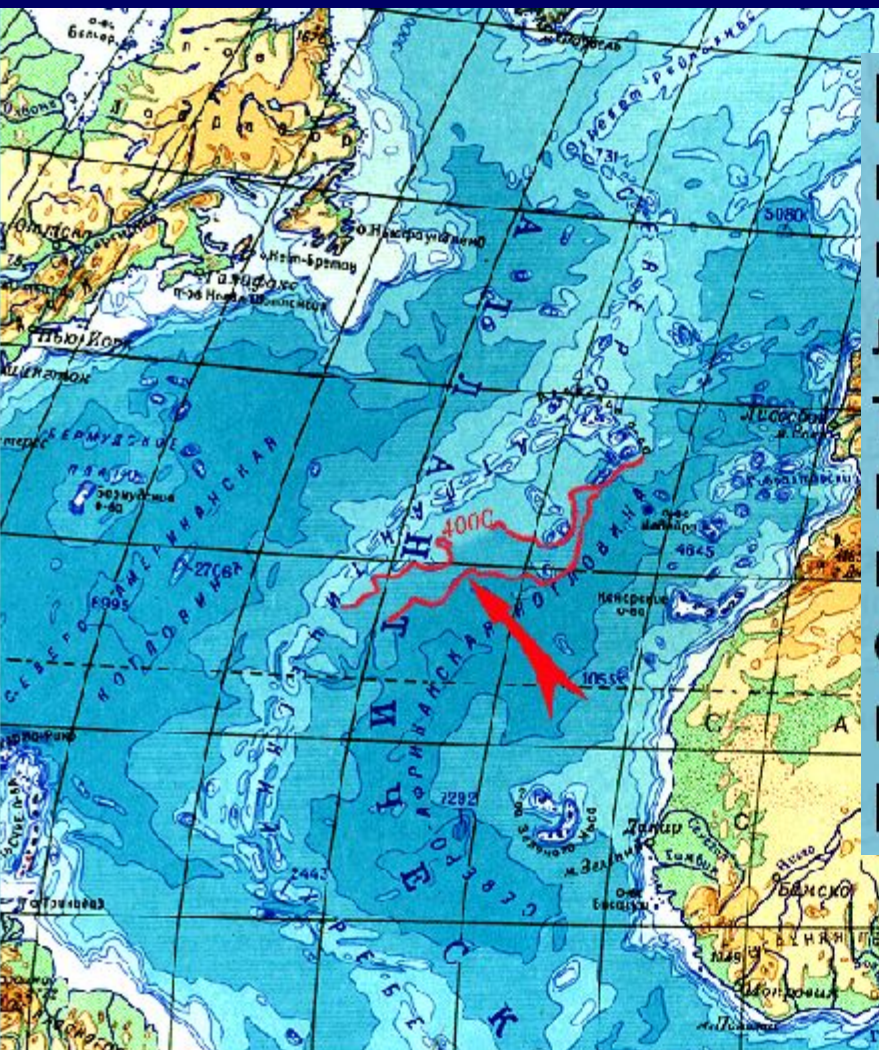
Горизонталы-
показывают
абсолютные высоты. Их
проводят тонкими
коричневыми линиями.
На физических картах
они проведены через
сотни метров.

Шкала высот и глубин

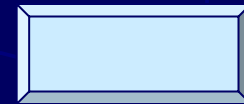


Определите среднюю и максимальную высоту Уральских гор.

Обозначение глубин и рельефа дна океана



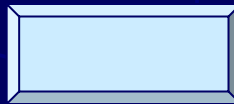
Вместо горизонталей на участках карт, изображающих водную поверхность, используют особые линии. Эти линии, соединяющие точки с одинаковой глубиной, называются изобатами. В отличие от коричневых горизонталей, изобаты окрашивают в синий цвет, а для послыной окраски используют различные оттенки синего цвета.



Обозначение глубин и рельефа дна океана



Иногда глубины обозначают только способом послойной окраски. Очевидно, что по глубине океанических пространств можно судить о рельефе дна океанов. Только соотношение оттенков синего цвета иное, чем на суше. Светло-синим цветом обозначаются возвышенные участки дна океанов, например, [Северо-Атлантический хребет](#).

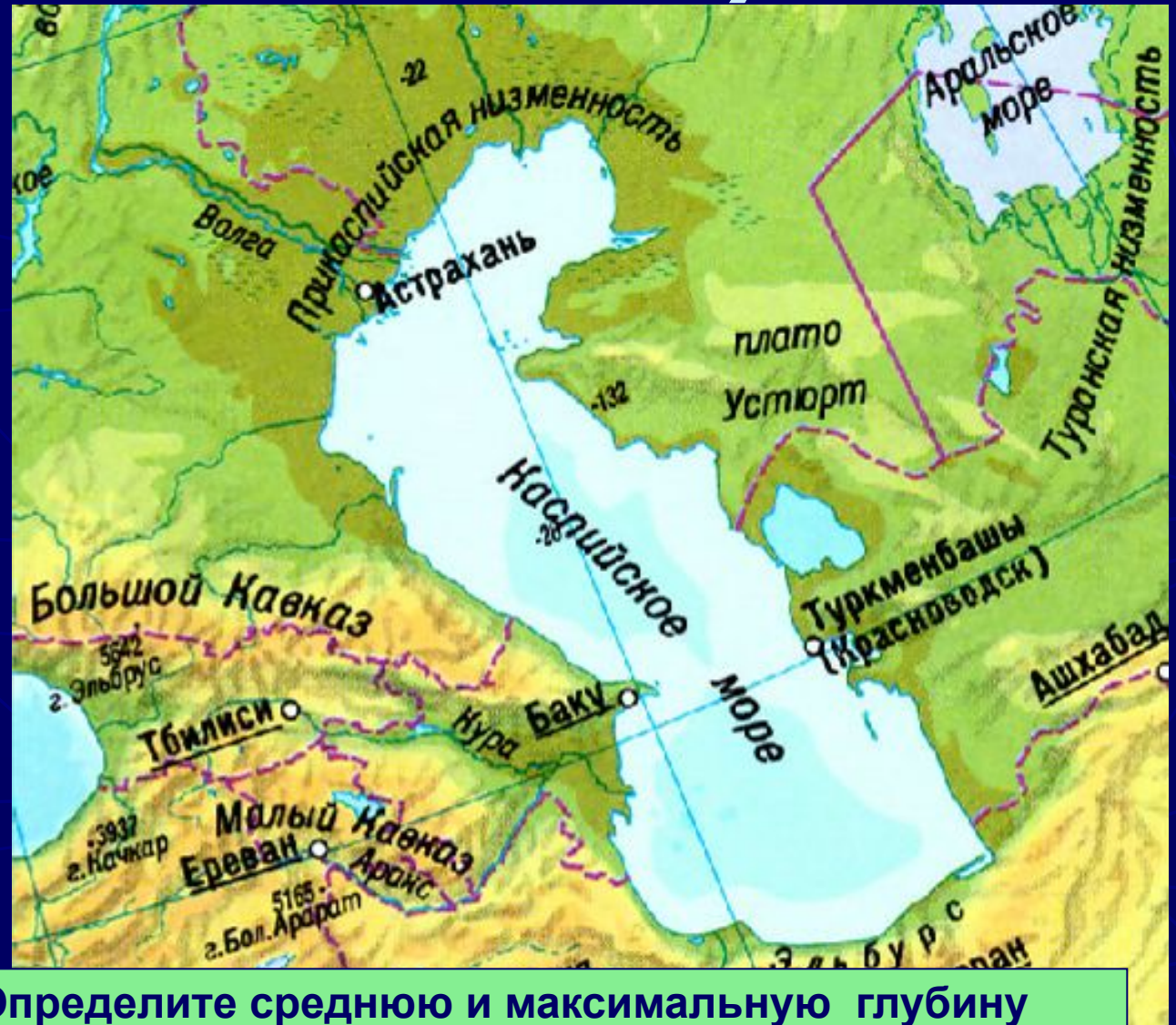
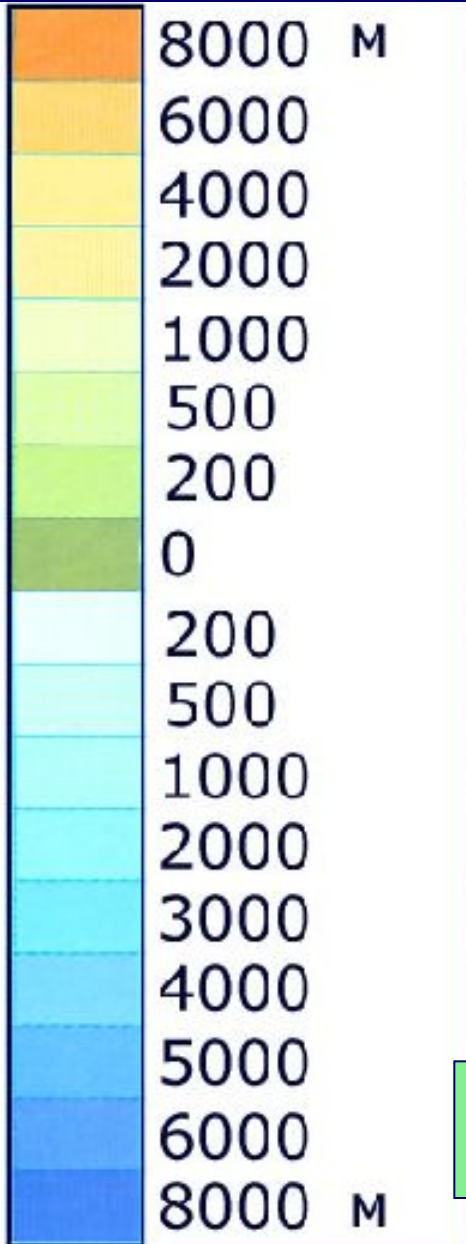


Обозначение глубин и рельефа дна океана

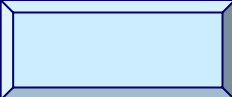


Особенно наглядно изображается рельеф дна океанов светотеневым способом. На картах, составленных таким способом, наш взгляд как бы проникает сквозь океаническую толщу, и мы видим подводные части материков, хребты и котловины на дне океанов.

Шкала высот и глубин



Определите среднюю и максимальную глубину Каспийского моря



Самые высокие точки материков

(раб. тетрадь зад.3)



Аляскинский хребет,
г. Мак-Кинли, 6194 м

Альпы, г. Монблан, 4807 м

Гималаи, Джомолунгма, 8848 м

Вулкан Килиманджаро, 5895 м

Анды, г. Аконкагуа, 6959 м

Большой Водораздельный хребет,
г. Косцюшко, 2228 м

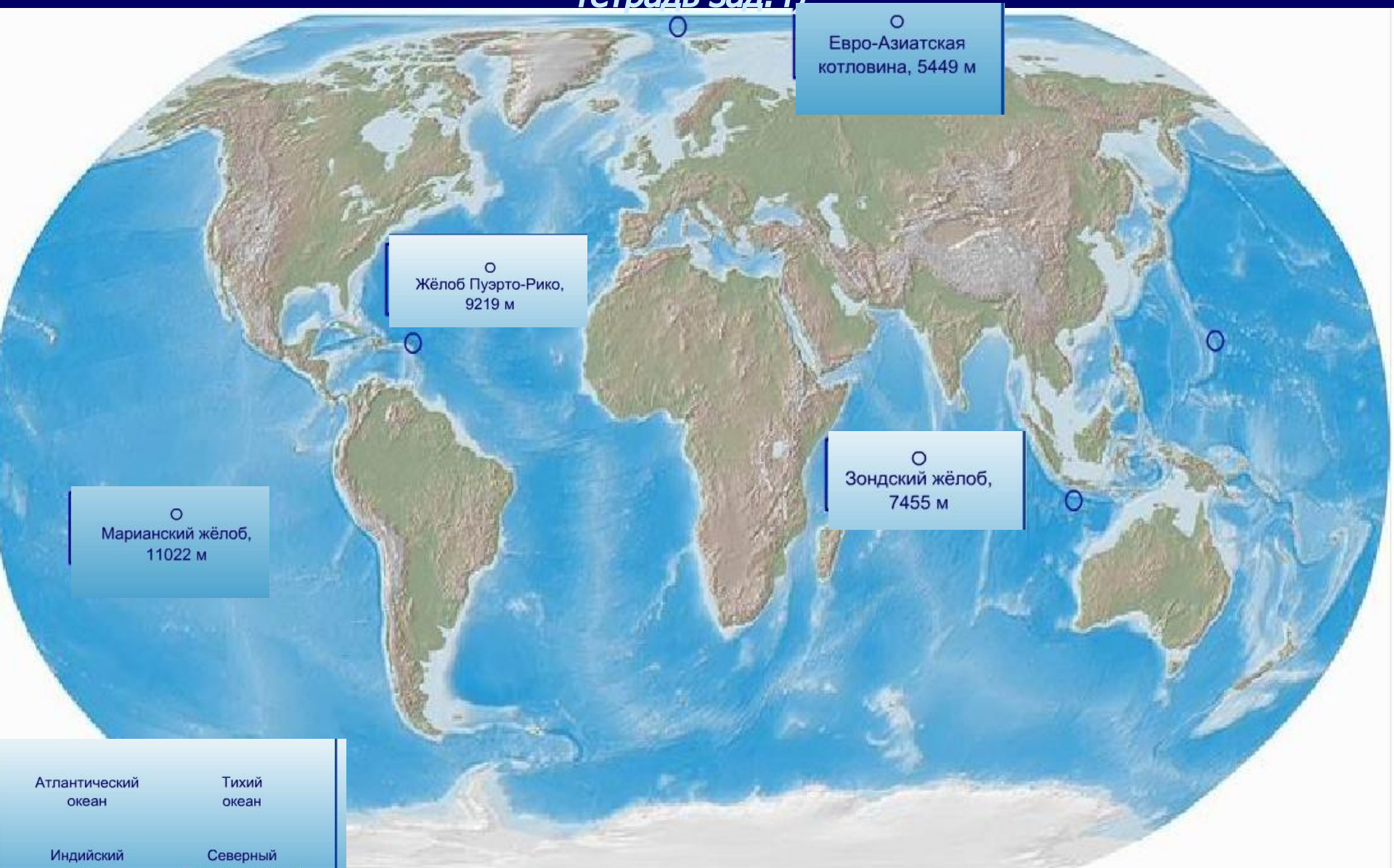
Массив Винсон, 5140 м

- Европа
- Азия
- Австралия
- Африка
- Северная Америка
- Южная Америка
- Антарктида

Определите координаты этих точек

Самые глубокие точки океанов (раб.

тетрадь зад.4)



○
Евро-Азиатская котловина, 5449 м

○
Жёлоб Пуэрто-Рико, 9219 м

○
Зондский жёлоб, 7455 м

○
Марианский жёлоб, 11022 м

Атлантический океан	Тихий океан
Индийский океан	Северный Ледовитый Океан

Домашнее задание

- ▶ Повторить параграфы 3-10

