



# Урок математики



Сколько воды вмещается в бочонок?



Рассмотри рисунок и ответь на вопрос .

- Сколько вёдер воды помещается в бочонке?



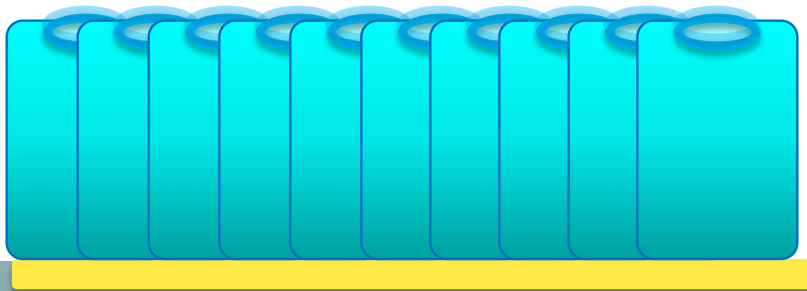
1 бочонок = 5 вёдер

**!** Вместимость можно измерить и результат измерения записать с помощью числа.

Объём этого бочонка измерили банкой. Сколько банок воды помещается в бочонке?



1 бочонок = 10 банок  
1 бочонок = 5 вёдер



**Мера об'єма - 1 литр (л).**



Выполни теперь задание Пети. В одну банку входит 1 литр воды, а в другую – 3 литра. Какая банка больше?

**! Одна из мерок вместимости - 1 литр (л).**

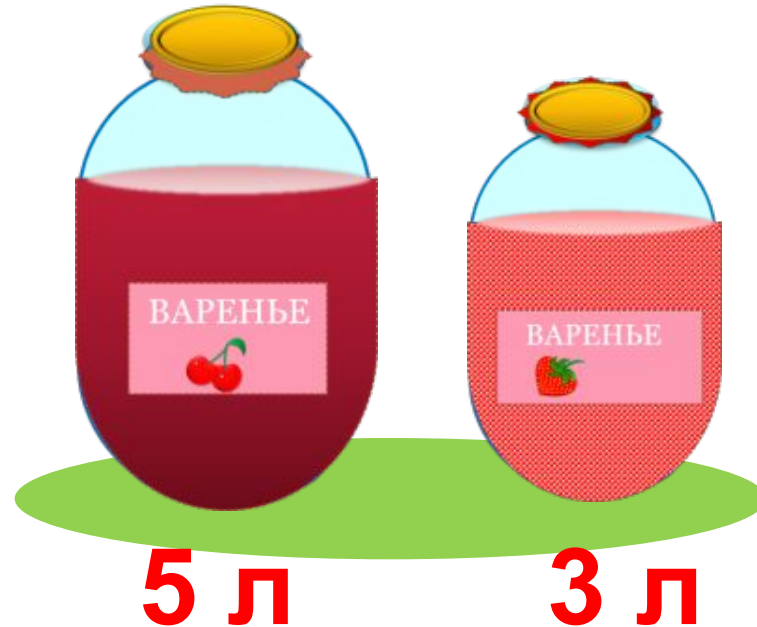


1 л  3 л

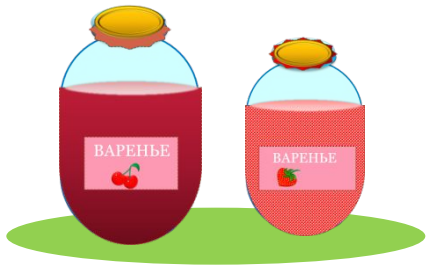
---

> = <

Мама сварила 5 л вишнёвого варенья и 3 л клубничного.  
Сколько всего литров варенья сварила мама?



Мама сварила 5 л вишнёвого варенья и 3 л клубничного.  
Сколько всего литров варенья сварила мама?



5 л    3 л

$$5 + 3 = 8 \text{ (л)}$$

Ответ: 8 л всего.



