

Практикум по исторической географии. Темы 11-15:

Тема 11. Россия в конце XVII века (1676-1700 гг.)

Тема 12. Внешняя политика России в 1700-1725 гг. Северная война 1700-1721 гг.

Тема 13. Внутренняя политика в 1700-1725 гг. Петровские реформы.

Тема 14. Россия в эпоху дворцовых переворотов (1725-1762 гг.)

Тема 15. Россия в эпоху Екатерины II (1762-1796 гг.)

Автор разработки: Маховиков Д.В. https://vk.com/d_makhovikov

Сообщество для подготовки к ЕГЭ по истории: <https://vk.com/clubege2019history>



№ 13. Назовите русского царя, в период правления которого завершилась война, события которой отражены на карте.

№ 14. Укажите название города-крепости под цифрой «2»

№ 15. Укажите название города под цифрой «3»

№ 16. Какие суждения, относящиеся к исторической ситуации, обозначенной на карте-схеме, являются верными? Выберите три суждения из шести предложенных.

1) Одной из причин войны, события которой представлены на карте, было присоединение Левобережной Украины к Османской империи.

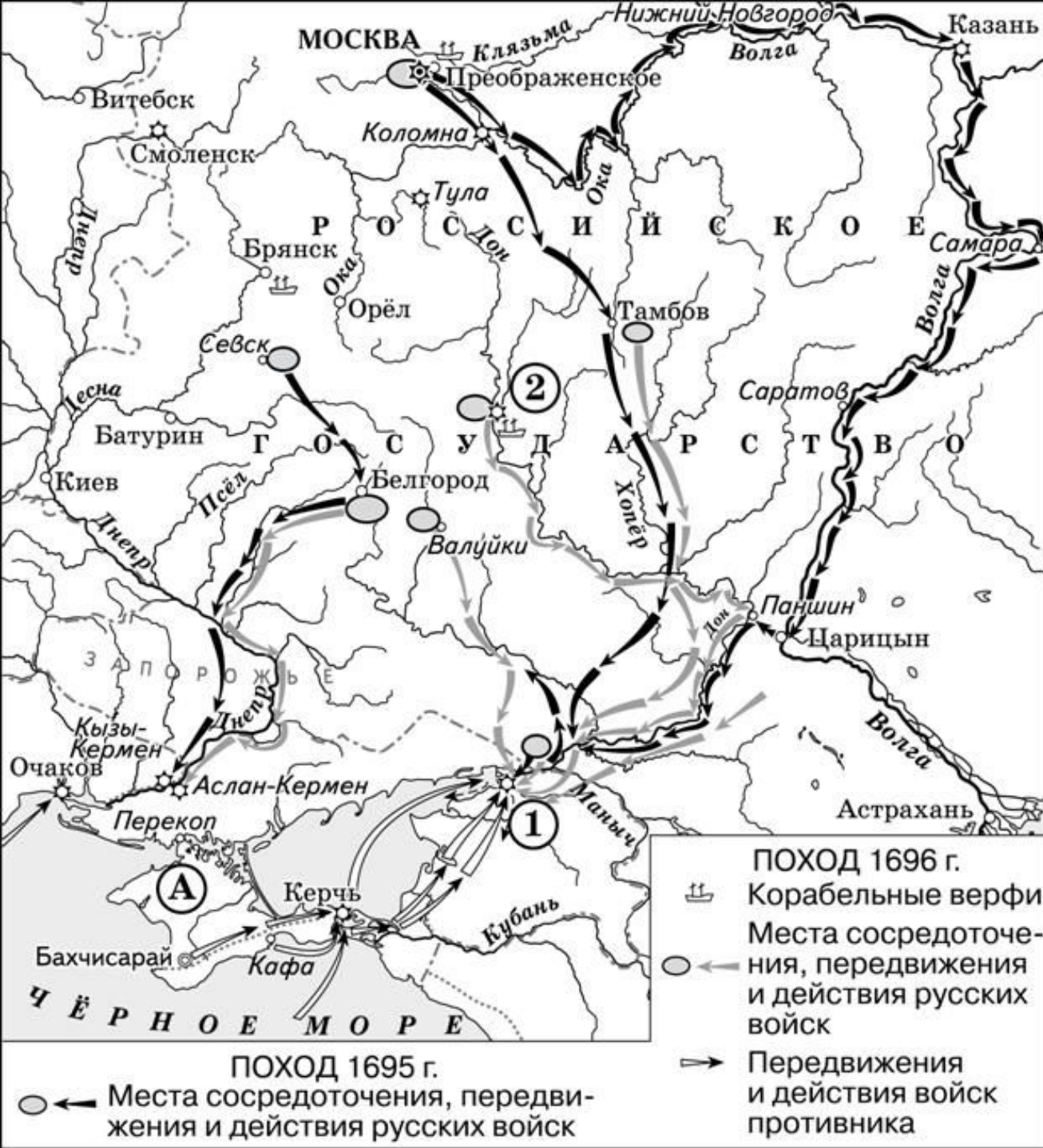
2) Город под цифрой «1» на момент описываемых на карте событий входил в состав Русского государства, но его статус был еще не до конца урегулирован.

3) Турецким войскам удалось взять город под цифрой «1» в ходе событий, отраженных на карте.

4) Оборонительные линии, отмеченные на карте, были построены за 200 лет до того, как произошла эта война

5) Западная граница России не изменится после подписания мирного договора, завершившего эту войну.

6) В конце того же столетия, к которому относятся события, отраженные на карте, произойдет еще одна русско-турецкая война



№ 13. Назовите царя, осуществившего походы, обозначенные на схеме.

№ 14. Укажите название города под цифрой «1»

№ 15. Укажите название города под цифрой «2»

№ 16. Какие суждения, относящиеся к исторической ситуации, обозначенной на карте-схеме, являются верными? Выберите три суждения из шести предложенных.

- 1) Царю, осуществившему походы, на момент их осуществления не было еще 30 лет.
- 2) Следствием походов, обозначенных на схеме, стало окончательное укрепление России на берегах Чёрного моря.
- 3) Город, обозначенный на схеме цифрой «1», в первой половине XVII в. на несколько лет был захвачен донскими казаками.
- 4) Участниками походов, обозначенных на схеме, были П. Гордон и Ф. Лефорт.
- 5) Государство, обозначенное на схеме буквой «А», в результате данных походов, вошло в состав Российского государства.
- 6) Накануне похода 1695 г. было развёрнуто масштабное строительство российских кораблей.



**Действия войск
1695 г. 1696 г.**

--->> русских войск и их союзников
-> - - -> противника

⚓ Судостроительные верфи

Районы сосредоточения войск

⊖ русских войск и их союзников
⊕ противника

✕ Крепости

№ 13. Назовите российского монарха, в годы правления которого произошли события, отраженные на схеме.

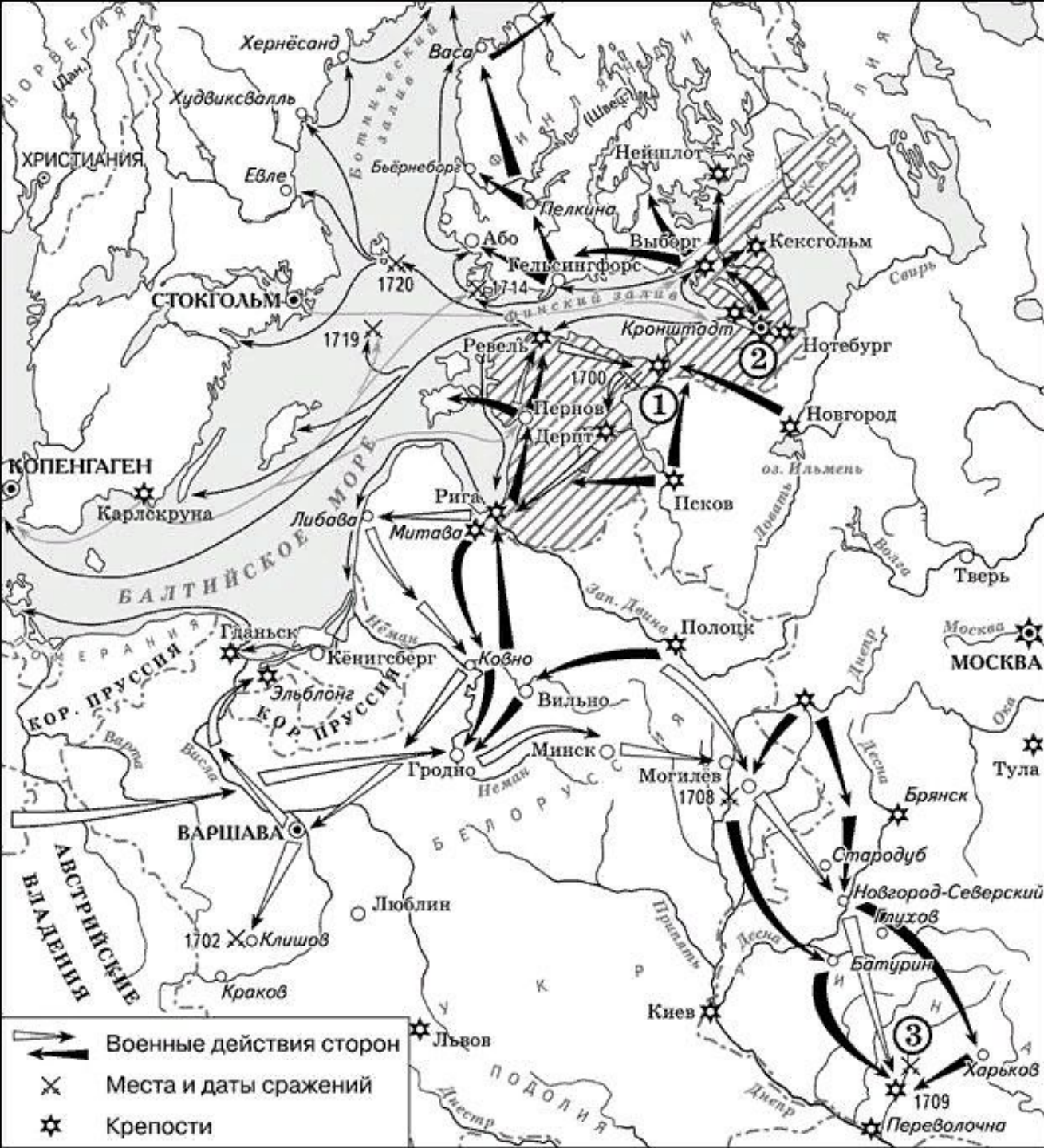
№ 14_1. Укажите название города, обозначенного на схеме цифрой «3».

№ 14_2. Назовите государство, против которого российским монархом была организована военная кампания, отраженная на схеме.

№ 15. Заполните пропуск в предложении: «Города, обозначенные на схеме цифрами «4» и «5», были присоединены к Российскому государству в годы правления царя _____».

№ 16. Какие суждения, относящиеся к схеме, являются верными? Выберите семь суждений из десяти предложенных.

- 1) Город, обозначенный на схеме цифрой «1», Россия была вынуждена оставить по итогам Прутского похода российской армии.
- 2) На верфях города, обозначенного цифрой «2», было развернуто масштабное строительство военных кораблей, благодаря которым российские войска добились успеха в военной кампании, отраженной на схеме.
- 3) Государство, обозначенное римской цифрой «8», было союзником Российского государства во время событий, отраженных на схеме.
- 4) На схеме обозначен город, в котором Дмитрий Донкой собирал войска перед Куликовкой битвой.
- 5) В период событий, отраженных на схеме, строительство военных кораблей было сосредоточено только в одном городе.
- 6) На схеме указаны имена двух руководителей Великого посольства.
- 7) На схеме обозначены города, в честь освобождения которых в годы Великой Отечественной войны в Москве был дан первый победный салют.
- 8) Город, обозначенный цифрой «6», впервые вошел в состав Российского государства в том же веке, когда произошли события, отраженные на схеме.
- 9) Государство, обозначенное на схеме римской цифрой «I», входило вместе с Российским государством в Северный союз.
- 10) На схеме обозначен город – центр формирования Второго ополчения в период Смуты.



№ 13. Напишите название войны, события которой обозначены на данной схеме.

№ 14. Напишите имя российского монарха, в годы правления которого шла война, события которой обозначены на данной схеме.

№ 15. Напишите название города, у стен которого произошло сражение, обозначенное на схеме цифрой «1».

№ 16. Какие суждения, относящиеся к событиям, обозначенным на схеме, являются верными? Выберите три суждения из шести предложенных.

1) Мирный договор, завершивший войну, события которой изображены на данной схеме, был подписан в городе, обозначенном цифрой «2».

2) В результате этой войны Россия утратила заштрихованные на схеме территории.

3) После завершения войны, события которой обозначены на данной схеме, Россия стала империей.

4) Одну из решающих побед в данной войне русская армия одержала в сражении, обозначенном цифрой «3».

5) В ходе войны, события которой обозначены на данной схеме, проводились рекрутские наборы.

6) Следствием войны, события которой изображены на данной схеме, стала утрата Россией статуса морской державы.



№ 13. Укажите век, когда происходили события, отраженные на схеме.

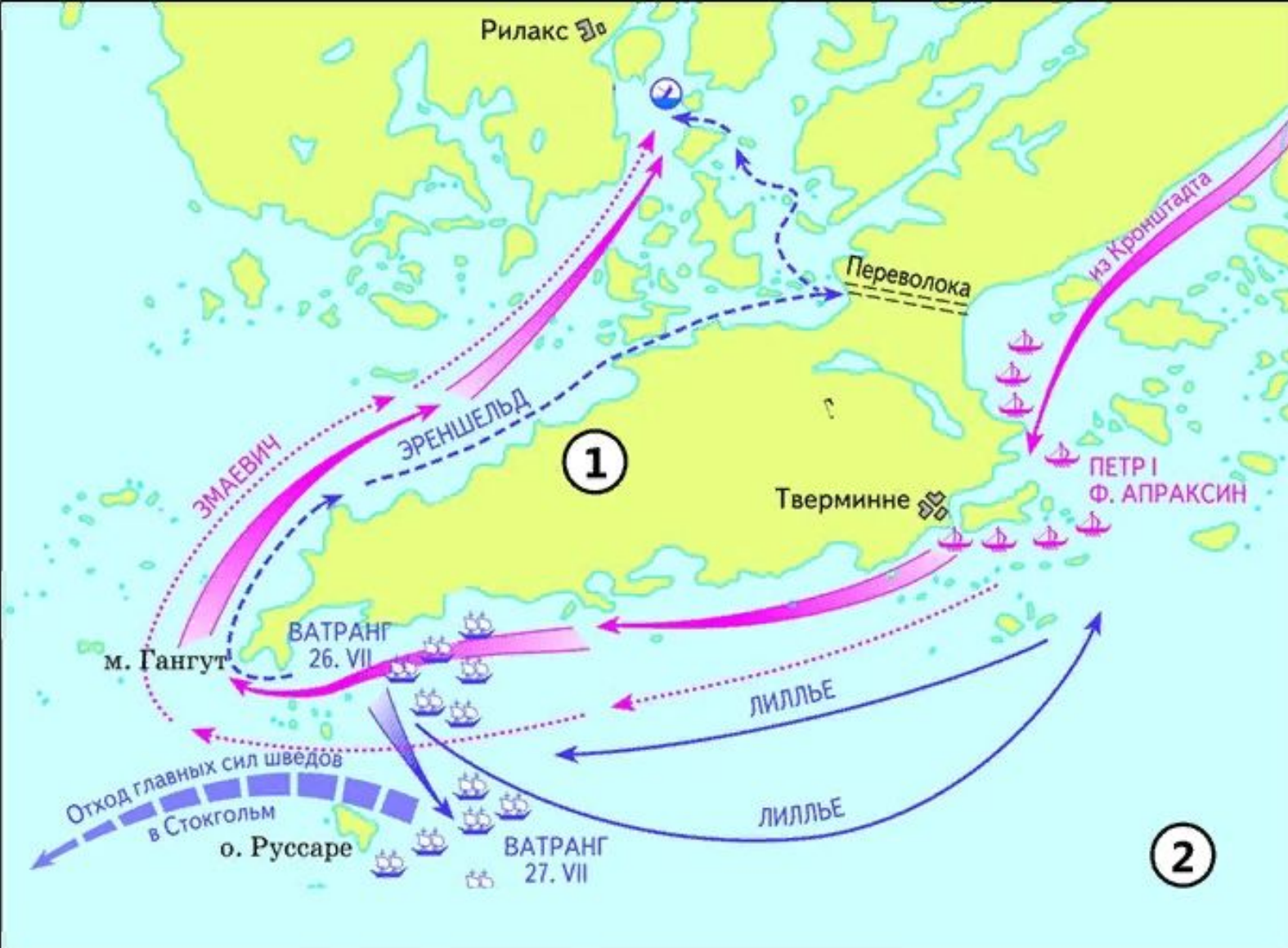
№ 14. Заполните пропуск в предложении: «Накануне событий, обозначенных на схеме, Россия, Дания, Саксония и немного позже Речь Посполитая заключили союз, получивший название _____».



№ 15_1. Напишите название города, у стен которого произошло сражение, обозначенное на схеме цифрой «1».

№ 15_2. Заполните пропуск в предложении (укажите фамилию): «В сражении, обозначенном на схеме цифрой «2», российским флотом командовал генерал-адмирал _____».

№ 16. Какие суждения, относящиеся к схеме, являются верными? Выберите шесть суждений из десяти предложенных.

- 1) Военные действия, отраженные на схеме, велись только на территории Российского государства.
- 2) В ходе войны, события которой отражены на схеме, была создана регулярная российская армия.
- 3) В сражении при городе, обозначенном на схеме цифрой «3», принимали участие Преображенский и Семеновский полки.
- 4) Город, обозначенный цифрой «4», был основан в ходе событий, отраженных на схеме.
- 5) На схеме обозначены два российских города, в которых в XII-XV вв. существовала республиканская форма правления.
- 6) Вследствие войны, события которой отражены на схеме, Россия приобрела статус морской державы.
- 7) На протяжении всей войны, события которой отражены на схеме, город, обозначенный цифрой «5», был столицей Российского государства.
- 8) На схеме обозначен и подписан город, где был заключен мирный договор, завершивший войну, события которой отражены на схеме.
- 9) В результате войны, события которой отражены на схеме, Россия утратила заштрихованные территории.
- 10) Территория, обозначенная на схеме цифрой «6», вошла в состав Российского государства во второй половине XIX в.



 Русский гребной флот	 Прорыв передового отряда русского флота
 Шведский флот	 Движение отряда Эреншельда
 Прорыв главных сил русского флота	 Движение отряда Лиллье
 Перегруппировка главных сил шведского флота	 Место боя

№ 13. Заполните пропуск. Морское сражение, представленное на карте-схеме, произошло в тысяча семьсот _____ году.

№ 14. Напишите название полуострова (мыса), отмеченного на карте цифрой «1».

№ 15. Назовите руководителя государства-основного противника России в этой войне.

№ 16. Какие суждения, относящиеся к схеме, являются верными? Выберите три суждения из шести предложенных.

- 1) Цифрой «2» на карте отмечен Ботнический залив.
- 2) Сражение, отраженное на карте, произошло после Полтавской битвы.
- 3) Битва, отраженная на карте, закончилась поражением русского флота.
- 4) Русскому гребному флоту удалось обогнуть полуостров, отмеченный цифрой «1» в ходе событий, отраженных на карте.
- 5) Военно-морская база на полуострове под цифрой «1» была арендована СССР по Московскому договору, завершившему советско-финскую войну 1939-1940 гг.
- 6) Флотом противника в сражении, отраженном на карте, командовал шведский король.



№ 13. Заполните пропуск. Русский царь, совершивший поход, отраженный на карте, умер в тысяча семьсот _____ году.

№ 14. Напишите название крепости, отмеченной на карте цифрой «3».

№ 15. Назовите наименование реки, отмеченной на карте цифрой «4».

№ 16. Какие суждения, относящиеся к схеме, являются верными? Выберите три суждения из шести предложенных.

1) Границы Российской империи проходили по реке под цифрой «4» по результатам Ясского мира 1791 г.

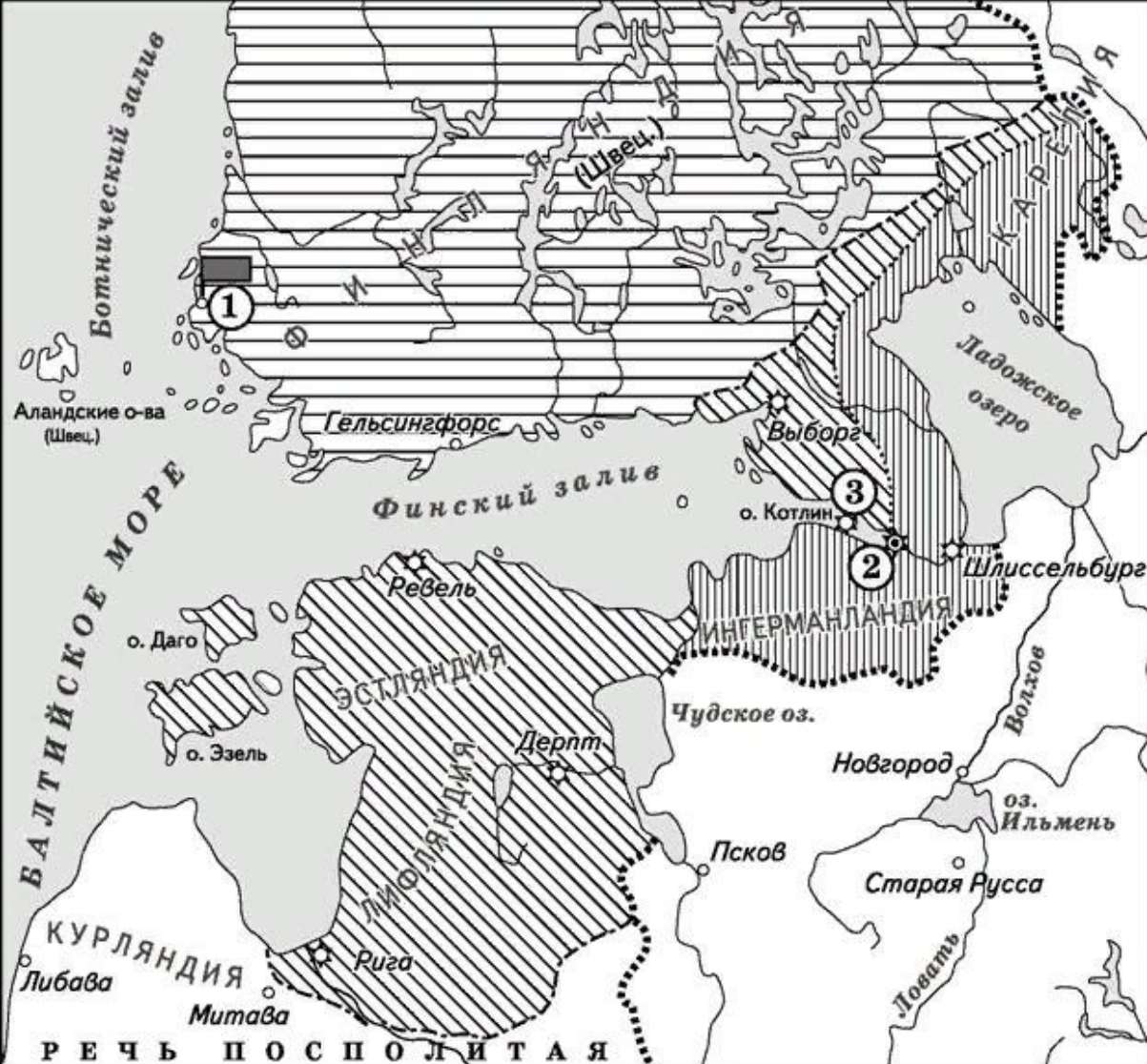
2) Город под цифрой «1» будет утерян Россией в результате похода, обозначенного на карте.

3) Государство, отмеченное на карте цифрой «2», было противником России в начальный период войны, события которой отражены на карте.

4) Границы Российской империи проходили по реке под цифрой «4» по результатам Бухарестского мира 1812 г.

5) Город под цифрой «5» вошел в состав Русского царства в 1667 г.

6) В сражение у крепости под цифрой «3» русские войска потерпели поражение.



№ 13. Укажите век, когда была установлена граница по обозначенному на схеме мирному договору. Ответ запишите словом.

№ 14. Назовите монарха, по указу которого был основан город, обозначенный на схеме цифрой «2».

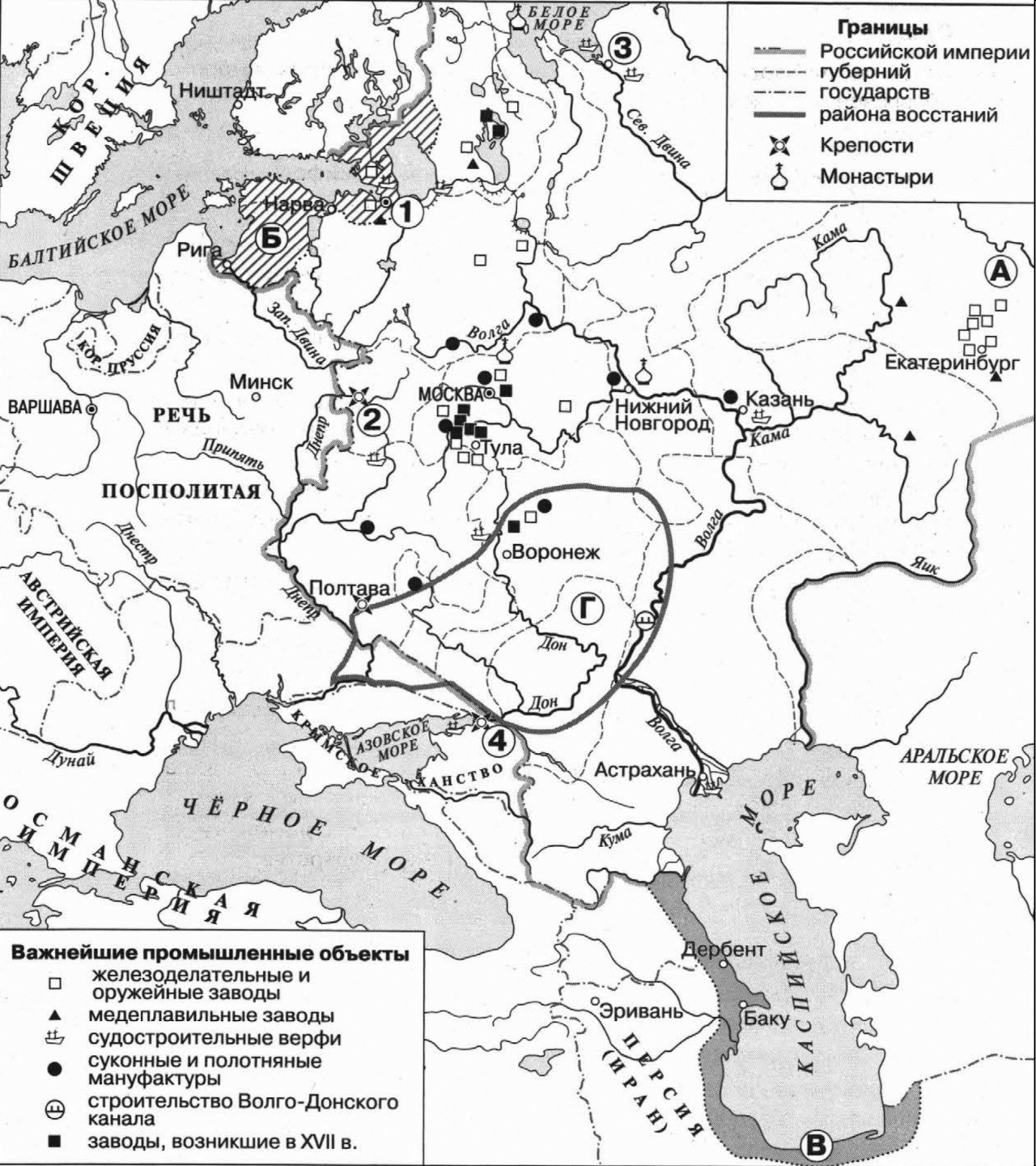
№ 15. Укажите название мирного договора, подписанного в городе, обозначенном на схеме цифрой «1».

№ 16. Какие суждения, относящиеся к схеме, являются верными? Выберите три суждения из шести предложенных.

- 1) На схеме обозначены водные объекты, по которым проходила часть древнего торгового пути «из варяг в греки».
- 2) Все заштрихованные на карте территории вошли в состав СССР в 1922 г.
- 3) Участниками войны, которая завершилась обозначенным на схеме мирным договором, были П.И. Багратион и Д.В. Давыдов.
- 4) В 1921 г. в городе, обозначенном на схеме цифрой «3», произошло антибольшевистское восстание.
- 5) В подписании мирного договора, завершившего войну, события которой отражены на схеме, участвовал Фридрих II Великий.
- 6) На схеме обозначены два российских города, в которых в XII–XV вв. существовала республиканская форма правления.

..... Граница Российского государства накануне войны
 ■ Место заключения мирного договора
 Российские земли, ранее захваченные неприятелем и возвращённые им по обозначенному на схеме мирному договору

[Диагональный штрих] Территория, присоединённая к России по обозначенному на схеме мирному договору
 [Горизонтальный штрих] Территория, занятая российскими войсками в ходе войны и возвращённая неприятелю по обозначенному на схеме мирному договору
 - - - - - Граница России по обозначенному на схеме мирному договору



№ 13. Назовите военное мероприятие российского монарха, результатом которого стало присоединение к России территории, обозначенной на схеме буквой «В».

№ 14_1. Заполните пропуск в предложении: «Предприятия, сосредоточенные в районе, обозначенном на схеме буквой «А», были основаны в _____ веке».

№ 14_2. Назовите руководителя народного восстания, территория которого обозначена на схеме буквой «Г».

№ 15. Укажите название города, обозначенного на схеме цифрой «3».

№ 16. Какие суждения, относящиеся к схеме, являются верными? Выберите три суждения из восьми предложенных.

- 1) Обозначенная на схеме западная граница Российского государства на протяжении XVIII в. оставалась неизменной.
- 2) На схеме обозначен и подписан город, где был заключен договор, по которому к Российскому государству были присоединены территории, обозначенные буквой «Б».
- 3) В освоение района, обозначенного буквой «А», в период отраженных на схеме событий большой вклад внесли представители династии российских промышленников Демидовых.
- 4) Согласно схеме, судостроительные верфи были сосредоточены только на северо-западе страны.
- 5) В период отраженных на схеме событий в Центральной России активно строились медеплавильные заводы.
- 6) Город, обозначенный на схеме цифрой «2», почти 2 года держал оборону в период Смутного времени.
- 7) Город, обозначенный на схеме цифрой «4», окончательно вошел в состав Российского государства в ходе событий, отраженных на схеме.
- 8) После провозглашения России империей город, обозначенный на схеме цифрой «1», стал столицей Российского государства.



№ 13. Укажите государство, обозначенное на схеме римской цифрой «I».

№ 14. Заполните пропуск в предложении: «Вхождение в состав Российского государства территории, обозначенной на схеме римской цифрой "II", было окончательно подтверждено условиями _____ мирного договора».

№ 15. Назовите российского монарха, в чьё правление произошли обозначенные на схеме события.

№ 16. Какие суждения, относящиеся к схеме, являются верными? Выберите три суждения из шести предложенных.

- 1) В событиях, обозначенных на схеме, были задействованы только сухопутные войска.
- 2) Один из российских военачальников, походы которых обозначены на схеме, впоследствии возглавил дворцовый переворот.
- 3) С государством, обозначенным на схеме римской цифрой «III», в годы правления царицы Софии Алексеевны был заключён «Вечный мир».
- 4) В ходе военных действий, которым посвящена схема, российским войскам не удалось преодолеть укрепления противника в районе крепости, обозначенной на схеме цифрой «1».
- 5) Вследствие событий, отражённых на схеме, город, обозначенный цифрой «2», впервые вошёл в состав Российского государства.
- 6) Город, обозначенный на схеме цифрой «3», вошёл в состав российского государства в XVII в.

Действия войск сторон:

- армии и флота неприятеля
- русской армии и флота

Важнейшие сражения

Крепости, осада

Границы государств к началу войны



№ 13. Напишите название войны, события которой обозначены на схеме.

№ 14_1. Заполните пропуск в предложении (укажите монарха): «Война, события которой отражены на схеме, началась в годы правления в Российской империи _____».

№ 14_2. Заполните пропуск в предложении: «В военных действиях, обозначенных на схеме стрелками, противником Российской империи было королевство _____».

№ 15. Заполните пропуск в предложении: «Из войны, события которой отражены на схеме, Россия вышла в _____ году».

№ 16. Какие суждения, относящиеся к схеме, являются верными. Выберите пять суждений из десяти предложенных.

- 1) В войне, события которой отражены на схеме, принимали участие такие государства как Франция, Великобритания и Австрия.
- 2) Союзницей Российской империи в войне, события которой отражены на схеме, была Великобритания.
- 3) В сражении у города, обозначенного на схеме цифрой «1», российскими войсками командовал фельдмаршал Степан Апраксин.
- 4) В сражении у города, обозначенного на схеме цифрой «2», российская армия потерпела серьезное поражение.
- 5) В ходе военных действий, отраженных на схеме, российским войскам не удалось взять город, обозначенный цифрой «3».
- 6) По итогам войны, события которой отражены на схеме, Россия расширила свои территории.
- 7) На схеме обозначено герцогство, правительница которого была приглашена на российский престол.
- 8) В военных действиях, отраженных на схеме, принимали участие только сухопутные войска.
- 9) Участниками войны, события которой обозначены на данной схеме, были Петр Румянцев и Александр Суворов.
- 10) По итогам войны, события которой отражена на схеме, государство, обозначенное римской цифрой «I», прекратило свое существование.



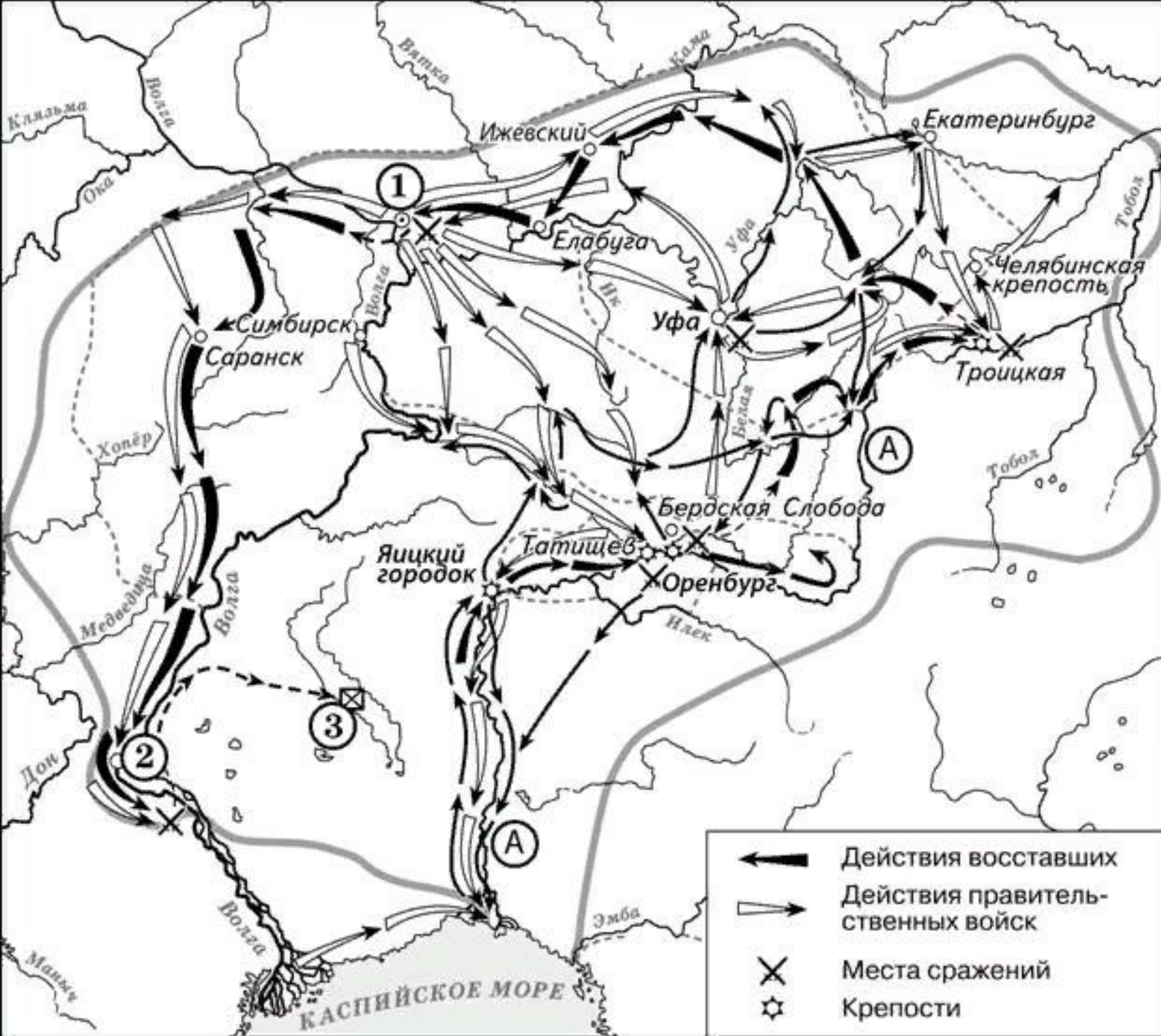
№ 13. Заполните пропуск в предложении: «Россия прекратила участие в военных действиях, обозначенных на схеме, заключив мир со своим противником в тысяча семьсот _____ году». Ответ запишите словом (сочетанием слов).

№ 14. Укажите название города, обозначенного на схеме цифрой «1».

№ 15. Заполните пропуск в предложении: «Первое по времени из обозначенных на схеме сражений российской армии произошло на территории Восточной _____».

№ 16. Какие суждения, относящиеся к схеме, являются верными? Выберите три суждения из шести предложенных. Запишите в таблицу цифры, под которыми они указаны.

- 1) Основным противником России в событиях, обозначенных на схеме, была Германская империя.
- 2) На схеме обозначен город, где в начале XIX в. был подписан русско-французский мирный договор.
- 3) В результате сражения около города, обозначенного цифрой «4», продвижение российских войск было остановлено.
- 4) На схеме подписано название герцогства, правительница которого была приглашена на российский престол.
- 5) В сражениях, обозначенных на схеме цифрами «2» и «3», главнокомандующим российской армией был А.В. Суворов.
- 6) На схеме обозначена река, на которой 25 апреля 1945 г. встретились американские и советские войска.



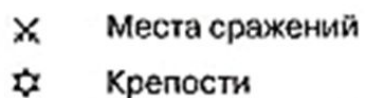
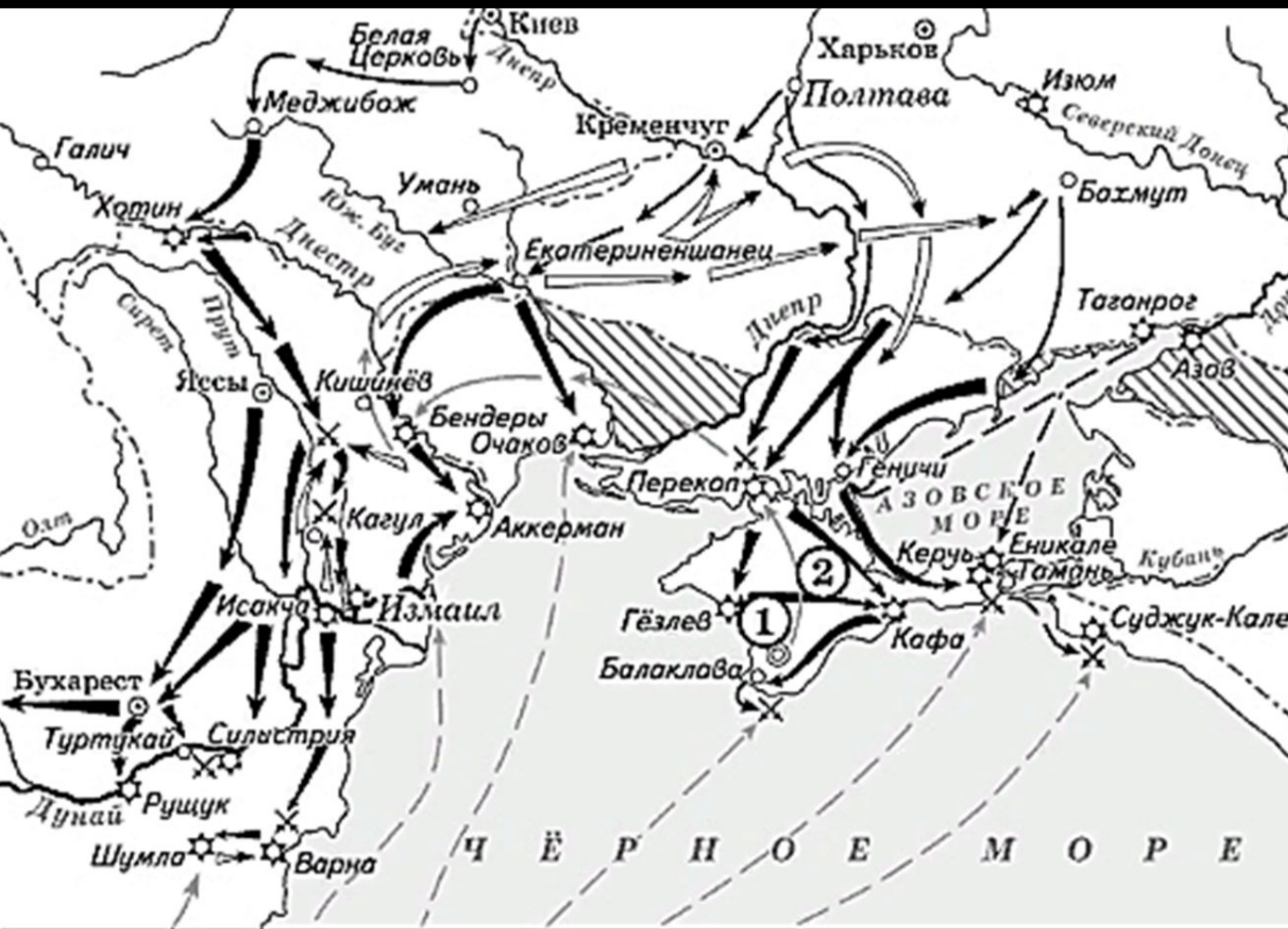
№ 13. Укажите век, в котором происходили события, обозначенные на схеме.

№ 14. Напишите название реки, обозначенной буквой «А», после завершения изображённых на схеме событий.

№ 15. Напишите название города, обозначенного на схеме цифрой «1», у которого войска, чьи действия обозначены белыми стрелками, одержали победу.

№ 16. Какие суждения, относящиеся к событиям, обозначенным на схеме, являются верными? Выберите три суждения из шести предложенных.

- 1) События, отображенные на карте, происходили в период правления Екатерины II.
- 2) Участником событий, изображённых на схеме, был казачий атаман Василий Ус.
- 3) Вооружённые отряды, действия которых обозначены чёрными стрелками, состояли только из казаков и государственных крестьян.
- 4) У города, обозначенного на схеме цифрой «2», войска, действия которых обозначены чёрными стрелками, одержали крупную победу.
- 5) Цифрой «3» на схеме обозначено место пленения предводителя вооружённых отрядов, действия которых обозначены чёрными стрелками.
- 6) После завершения событий, обозначенных на схеме, в Российской империи была проведена губернская реформа.



№ 13. Назовите монарха, в чье правление шла война, события которой обозначены на данной схеме.

№ 14. Назовите фамилию государственного деятеля, получившего почётный титул за присоединение и освоение территорий, обозначенных на схеме цифрой «2».

№ 15. Напишите название государства, которое было основным противником России в войне, события которой изображены на данной схеме.

№ 16. Какие суждения, относящиеся к событиям, обозначенным на схеме, являются верными? Выберите три суждения из шести предложенных.

- 1) В результате этой войны Россия утратила заштрихованные на схеме территории.
- 2) Начало войны, события которой изображены на данной схеме, стало предлогом для прекращения деятельности Уложенной комиссии.
- 3) После завершения войны, события которой обозначены на данной схеме, Россия стала империей.
- 4) Мирный договор, завершивший войну, события которой обозначены на данной схеме, был подписан в городе, отмеченном цифрой «1».
- 5) Следствием войны, события которой изображены на данной схеме, стало получение Россией выхода к Чёрному морю.
- 6) Участниками событий данной войны были Алексей Орлов и Петр Румянцев.



№ 13. Укажите год, когда окончилась война, события которой обозначены на схеме стрелками.

№ 14. Укажите название населённого пункта, обозначенного на схеме цифрой «1».

№ 15. Укажите название государства, обозначенного на схеме цифрой «4».

№ 16. Какие суждения, относящиеся к данной схеме, являются верными, а какие – нет? Выберите три верных суждения.

1) В войне, события которой обозначены на схеме, русскими сухопутными войсками командовал Петр Румянцев.

2) По результатам войны, события которой обозначены на схеме, крепость Кинбурн вошла в состав России.








3) Цифрой «2» на схеме обозначен Константинополь (Стамбул).

4) По результатам войны, события которой обозначены на схеме, крепость Очаков вошла в состав России.

5) Цифрой «3» на схеме обозначен Воронеж.

6) В одном из морских сражений, отраженных на карте, принимал участие Федор Апраксин.



- | | |
|--|--|
|  Территории, отошедшие к Российской империи к началу войны |  Территория, отошедшая к Российской империи после войны |
|  Действия русской армии и флота |  Место заключения мирного договора |
|  Действия турецкой армии и флота |  Граница Российской империи |
|  Места и годы важнейших сражений | |

№ 13. Заполните пропуск в предложении:
 «Война, события которой обозначены на
 схеме, завершилась в тысяча
 семьсот_____ году».

№ 14. Укажите название государства,
 обозначенного на схеме цифрой «4», в
 период, к которому относится данная схема.

№ 15. Укажите фамилию военачальника, под
 командованием которого русские войска
 взяли крепость, обозначенную на схеме
 цифрой «1».

№ 16. Какие суждения, относящиеся к
 событиям, обозначенным на схеме, являются
 верными? Выберите три суждения из шести
 предложенных.

- 1) Цифрой «2» на схеме обозначено местечко
 Кючук-Кайнарджи.
- 2) По результатам войны, события которой
 обозначены на схеме, порт Ходжибей вошёл в
 состав России.
- 3) Цифрой «3» на схеме обозначен Севастополь.
- 4) По результатам войны, события которой
 обозначены на схеме, город Аккерман вошёл в
 состав России.
- 5) Участником войны, события которой
 обозначены на схеме, был Борис Шереметев.
- 6) В ходе событий, обозначенных на схеме,
 русские войска взяли Хотин.



№ 13. Укажите название города, где был подписан договор, по условиям которого в состав Российского государства вошла территория, обозначенная на схеме римской цифрой «I».

№ 14. Назовите государство, в результате войн с которым были присоединены территории, обозначенные на схеме римской цифрой «II».

№ 15. Напишите название государства, результатом разделов которого стало присоединение к Российской империи территории, обозначенной на схеме римской цифрой «II».

№ 16. Какие суждения, относящиеся на схеме, являются верными? Выберите три суждения из шести предложенных.

- 1) Территория, обозначенная на схеме римской цифрой «I», вошла в состав Российского государства по итогам Семилетней войны.
- 2) Присоединение к Российскому государству территории, обозначенной на схеме римской цифрой «II», сопровождалось национально-освободительным движением за восстановление независимости.
- 3) Территорию, обозначенную на схеме римской цифрой «III», окончательно закрепил за Россией Бахчисарайский мирный договор.
- 4) Участниками военных действий, в результате которых к Российскому государству была присоединена территория, обозначенная на схеме римской цифрой «I», были Александр Меншиков и Борис Шереметев.
- 5) Все заштрихованные на схеме территории вошли в состав Российского государства во второй половине XVIII в.
- 6) Большая часть территорий, обозначенных на схеме римской цифрой «III», была присоединена к Российской империи при Екатерине II.