

Ұлы Жібек Жолы

Дайындаған:
7 “В” сынып оқушысы
Камал Диана

Аралығы

«Жібек Жолы» (Ұлы «Жібек Жолы») — Қытайдың Шиян деген жерінен басталып, Шинжәң, Орталық Азия арқылы Таяу Шығысқа баратын керуендік жол бағыты. Ұлы Жібек жолы-адамзат өркениеті жасаған тарихи ескерткіштердің бірі. Біздің дәуірімізден бұрынғы II ғасырдан басталған бұл жол Еуропа мен Азияның Батыс пен Шығыстың арасын жалғастырғын көпір болғын. Оның Қазақстан жерін кесіп өтетін тұсында VI ғасырдан бастап, екі бағыт: Сырдария және Тянь-Шань жолдары бағыттары кең өрістелген. Бірінші жол Қытайдан басталып, Шығыс Түркістан Қашғар арқылы Жетісуға, содана Сырдарияны жағалап, Арал маңынан әрі қарай Батыс елдеріне өткен.



Indischer Ozean

Große Mauer

Taklamakan

Tien Shan

Kunlun Shan

Himalaya

Indien

Kyauktum

Mesched

Herat

Multan

Delhi

Lhasa

Pagan

Karakorum

Karakorum

Mindokushan

Peschawar

Taxila

Pamir Yarkand

Samarkand

Taschkant

Taraz

Urgentsch

Chiwa

Karakum

Buchera

Merw

Nischnapur

Teheran

Sattina

Emamschar

Saruz

Tabriz

Baku

Bolgar

Sankel

Urumchi

Koella

Turfan

Loulan

Anxi

Jinyuguan

Zhangye

Wuwei

Lanzhou

Tianshui

Yun

Yun

Yun

Yun

Yun

Yun

Yun

Yun

Yun

Yun

Yun

Yun

Yun

Yun

Yun

Yun

Yun

Yun

Yun

Yun

Yun

Yun

Yun

Yun

Yun

Yun

Yun

Yun

Yun

Yun

Yun

Yun

Yun

Yun

Yun

Yun

Yun

Yun

Yun

Yun

Yun

Yun

Yun

Yun

Yun

Yun

Yun

Yun

Yun

Yun

Yun

Yun

Yun

Yun

Yun

Yun

Yun

Yun

Yun

Yun

Yun

Yun

Yun

Yun

Yun

Yun

Yun

Yun

Yun

Yun

Yun

Yun

Yun

Yun

Yun

Yun

Yun

Yun

Yun

Yun

Yun

Yun

Yun

Yun

Yun

Yun

Yun

Yun

Yun

Yun

Yun

Yun

Yun

Yun

Yun

Yun

Yun

Yun

Yun

Yun

Yun

Yun

Yun

Yun

Yun

Yun

Yun

Yun

Yun

Yun

Yun

Yun

Yun

Yun

Yun

Yun

Yun

Yun

Yun

Yun

Yun

Yun

Yun

Yun

Yun

Yun

Yun

Yun

Yun

Yun

Yun

Yun

Yun

Yun

Yun

Yun

Yun

Yun

Yun

Yun

Yun

Yun

Yun

Yun

Yun

Yun

Yun

Yun

Тарихы

Жол бұдан 3-4 мың жыл бұрын болған. Ол Қытайдың Хан патшалығы кезінде ғана өркендей бастаған, себебі Хан патшалығының Хан Уди патшасы Жаң Чянды батыс өңірге екі рет жіберіп, Орталық Азиядағы елдермен достасуға пейілді болған. Жаң Чян қазіргі Ферғана, Самарқан және Балқаш көлі сияқты жерлерге барған. Жаң Чяның сапары бұл жолды шығыс пен батыс үкіметтері арасындағы байланыс жолына айналдырған. Осыған орай саудагерлер де «Жібек жолында» ат ізін суытпаған. Жаң Чян батыс өңірге және Орта Азияға Қытайдың жібек өнімдерін ала барған; ал елге қайтарында барған жерлерінің тауарлары және батыс өңірінің музыкасы сияқты алуан түрлі мәдениетті алып қайтқан. Жаң Чяның сапары қытайлықтардың батыс өңірмен Орта Азияны түсінуіне мүмкіндік берді. Ал Жаң Чян барған жерлердегі халық та Қытайдың өнімдері мен мәдениетіне қатысты түсінігін анағұрлым тереңдетті.

Ұлы Жолдың Қазақстандағы тармақтары

Жүздесу б. з. дейінгі III—II-мыңжылдықтарда басталған.. Б. з. дейінгі I-мыңжылдықтың орта кезінде Ертіс пен Зайсан көлі алқабын мекендеген агрипейлер еліне кететін жол жұмыс істей бастаған еді. Осынау жолмен жібек,, иран кілемері, бұйымдар сатылған. Қымбат бағалы жібек түрлерін таратуға сақтар тайпасы қатысқан, осылардың дәнекерлік демеуі арқасында сол кез үшін таңсық болған бұл тауар Орта Азия аймағына дейін жеткен. Б. з. дейінгі II ғ. Жібек жолы сауданың тұрақты жері ретінде қызмет атқара бастайды. Б. з. II—V . Жібек жолы Қытайдың ежелгі астанасы Чаньаннан шығып, Хуанхэ өткеліне баратын, одан әрі Ұлы Қытай камалының батыс шетінен барып шығады. Осы арадан сара жол екіге айырылып, Такла-Макан шөлін солтүстік жағынан айналып өтетін. Терістік жолы Хами аймағы арқылы Іле алқабына жететін орталық жағалауына шығып, Дунхуанды басып өтіп, Үндістан аймағына кетті; бұл Оңтүстік жолы деп аталды. Мерв арқылы Сирияға баратын.

Жолда сатылған заттар



рис.29



рис.30




рис.31




рис.32


Сұрақ – жауап сәті

1. Жол қай қалада
екі тармаққа
бөлінеді?

- 
- a) Самарқанда
 - b) Испиджабта
 - c) Сарайшықта
 - d) Ферғанада




**2. Жолдағы
мәдениетте жақсы
дамыған сала?**


- 
- a) Бейнелеу өнері
 - b) Қыш құмыра жасау
 - c) Музыка
 - d) Қолөнер

3. Жолда қандай
жануарлар
сатылды?

- 
- a) Қойлар
 - b) Түйелер
 - c) Жылқылар
 - d) Пілдер

4. Қай ғасырда жібек
бүкіл Еуразияға әйгілі
болады?

- 
- a) X ғасырда
 - b) VIII ғасырда
 - c) I ғасырда
 - d) VII ғасырда



Назарларыңызға
Рақмет!!!