

Урок № 114

Случай вычитания

16 -



УСТНЫЙ СЧЁТ

$$2 + 2 =$$

$$6 - 4 =$$



Запиши ответы.



1. Первое слагаемое **7**, второе **6**. Вычисли сумму.
2. Уменьшаемое **14**, вычитаемое **5**. Чему равна разность?
3. Увеличь **6** на **5**.
4. Из какого числа вычли **8** и получили **8**?
5. Какое число при счёте называют за числом **19** ?
6. На сколько число **8** меньше, чем **18** ?
7. Вычисли разность **13** и **9**.
8. Запиши число, в котором **1** десяток и **7** единиц.
9. Запиши число, которое при счёте идёт перед **14**.

13 9 11 16 20 10 4 17 13

У клоуна было **8** мячиков . Он достал из-под фуражки ещё **5** и из рукава **2**. Сколько мячей стало у клоуна ?



15

$$8 + 5 + 2 = 15$$

На арене выступало **9** собачек. **7** собачек село на тумбочки, а остальные запрыгнули в домик. Сколько собачек оказалось в домике?



2



$$9 - 7 = 2$$

Дрессировщик вывел на арену **4** льва, **6** тигров, а пантер столько, сколько львов и тигров вместе. Сколько всего зверей вывел дрессировщик на арену?

$$4 + 6 + (4 + 6) = 20$$



20 зверей

На велосипедах ездил 5 медведей, а обезьян на 2 больше. Сколько всего обезьян ездил на велосипеде?

7

$$5 + 2 = 7$$



Сколько медведей и обезьян ездил всего на велосипеде?

12



$$5 + 7 = 12$$

Найди примеры с ответом 16.



$$8 + 8$$



$$9 + 8$$



$$9 + 7$$



$$7 + 8$$



$$9 + 9$$



$$9 + 5$$



$$10 + 6$$



$$7 + 9$$

НОВЫЙ МАТЕРИАЛ

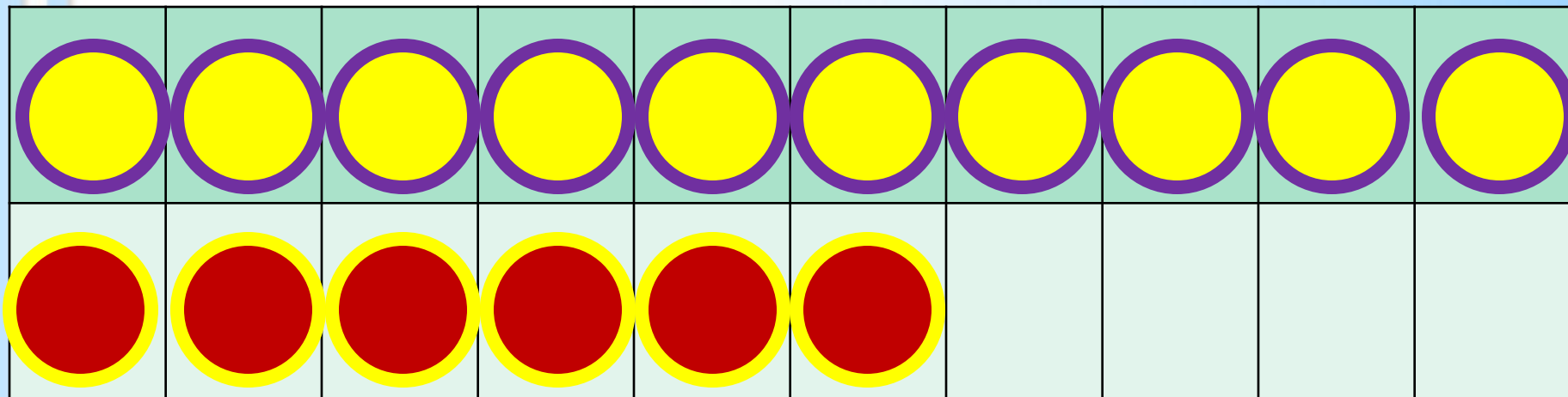


Состав числа 16



	9	8	7
16	7	8	9

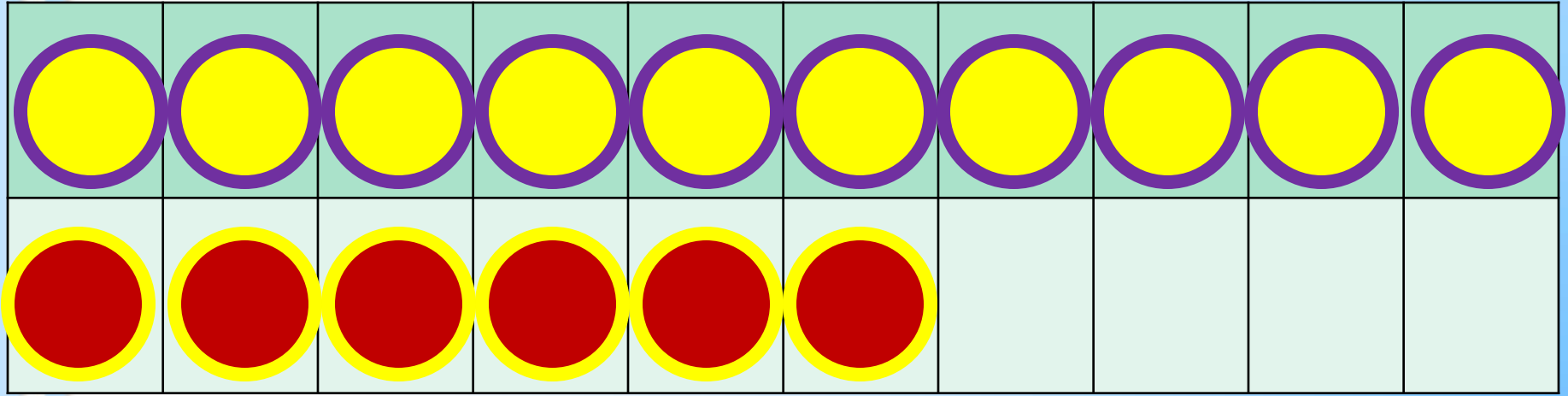
1 способ



2 способ

$$16 - 7$$

$$16 - 6 - 1$$



$$16 - 8$$

$$16 - 6 - 2$$


Запомни!

$$16 - 7 = 9$$

$$16 - 8 = 8$$

$$16 - 9 = 7$$

РАБОТА ПО УЧЕБНИКУ



Стр. 87

Объясни, как из числа 16 вычесть 9.

16	
7	
8	



$$\begin{array}{r} 16 - 9 \\ \hline 16 - 6 - 3 \end{array}$$

Вычисли и запомни.

$16 - 7$

$16 - 8$

$16 - 9$

1.	$15 - 6$	$15 - 9$	$7 + 6$	$6 + 6 - 7$
	$15 - 8$	$15 - 7$	$9 + 8$	$8 + 5 - 9$
	$14 - 9$	$13 - 8$	$8 + 6$	$7 + 6 - 4$

2. В начале зимы только 6 человек из нашего класса умели кататься на лыжах, а к концу зимы на лыжах катались уже 16 человек. Сколько ребят научились кататься на лыжах этой зимой?

3. В группе фигурного катания занимаются 6 девочек из младших классов, а из старших на 2 девочки меньше. Сколько девочек из старших классов занимаются в группе? Сколько всего девочек ... ?

4. Игра в слова

1) Коля и Витя составляли слова из букв слова ПРОГУЛКА. Коля составил 10 слов, а Витя — на 2 слова больше. Сколько слов составил Витя?

2) Когда Коля и Витя вычеркнули слова, которые встретились у обоих, у Коли осталось 1 слово. Сколько слов осталось у Вити?

$$9 = 6 + \square$$

$$16 - 9 = \square$$



$$7 = 6 + \square$$

$$16 - 7 = \square$$

$$8 = 6 + \square$$


$$16 - 8 = \square$$

РАБОТА В ТЕТРАДИ



Стр. 44

ЗАДАНИЯ НА СМЕКАЛКУ



Бульдог и такса едят связку из **9** сосисок с двух сторон. Пока такса ест **1** сосиску, бульдог съедает **2**. Сколько сосисок достанется бульдогу, а сколько таксе?

Таксе -3, бульдогу – 6.



Пони в зоопарке может прокатить или **3** взрослых, или **6** детей. Может ли пони прокатить семью из папы, мамы и малолетних сына с дочкой?

Может. Сын и дочка заменяют 1 взрослого.



КОНЕЦ