

# Тренажёр по развитию ЛОГИЧЕСКОГО МЫШЛЕНИЯ

**1 класс**  
Занятие №3

**Составитель:**

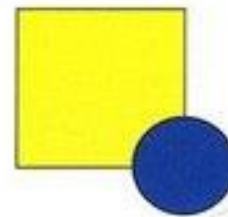
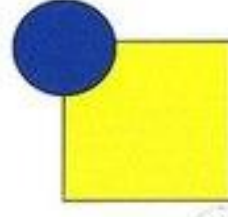
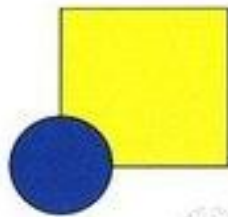

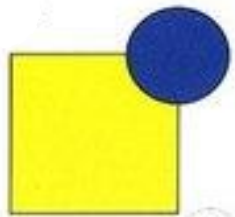
Сосновская Лилия Владимировна











Из каких цифр состоят числа?

18 -



46 -



25 -



31 -



С каких цифр начинаются числа

18, 46, 25, 31?



Продолжи начатое перечисление и назовите группу слов одним общим СЛОВОМ.

Ручка, **карандаш**, тетрадь, ..





# 13 и 31

## Чем похожи числа?

## Чем они отличаются?

**Похожи:**

1. Цветом
2. В записи чисел есть цифра 1 и 3
3. Число 13 и 31 двузначные

**Отличаются:**

1. В числе 13 цифра 1 обозначает число десятков, а в числе 31 цифра 1 – число единиц.
2. В числе 13 цифра 3 обозначает число единиц, а в числе 31 – число десятков



**Числа 2,3,5,8,12,11,18,16,19,20 разбиты на 2 группы: чётные и нечётные. Выбери тот вариант из четырёх, где задание выполнено верно.**



1) 3, 5, 11, 19, 20 и 2, 8, 12, 16, 18

2) 3, 5, 11 и 19, 2, 8, 12, 16, 18, 20

3) 3, 5, 11, 19 и 2, 8, 12, 16, 18, 20



4) 12, 3, 11, 16 и 2, 8, 5, 16, 18, 19, 20

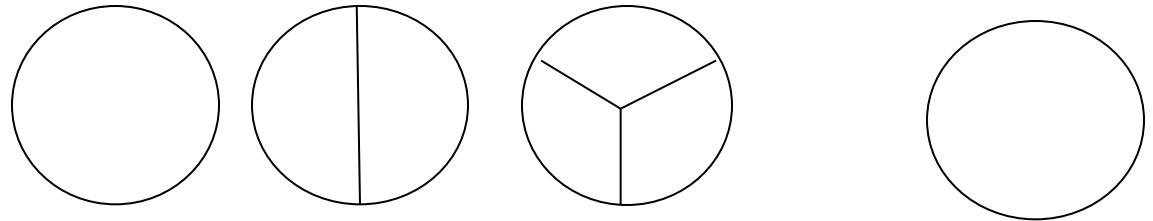


Из 10 палочек составь 2 квадрата  
(с длиной стороны в 2 палочки) и  
маленький. Сверх с образцами.





Определи, чем каждая следующая фигура отличается от предыдущей. Нарисуй четвёртую фигуру.



Соедини стрелкой пары подходящих слов.  
(например: мяч-игрушка)

**Видовое понятие**  
**понятие**

**Родовое**

мяч

тополь

шкаф

тарелка

пальто

муравей

щука

василёк

мебель

цветок

насекомое

дерево

посуда

одежда

игрушка

рыба





Ребята сидели на скамейке. В каком порядке они сидели, если известно, что Маша сидела справа от Сережи, а Сережа справа от Иры?





**МОЛОДЦЫ!!!**

