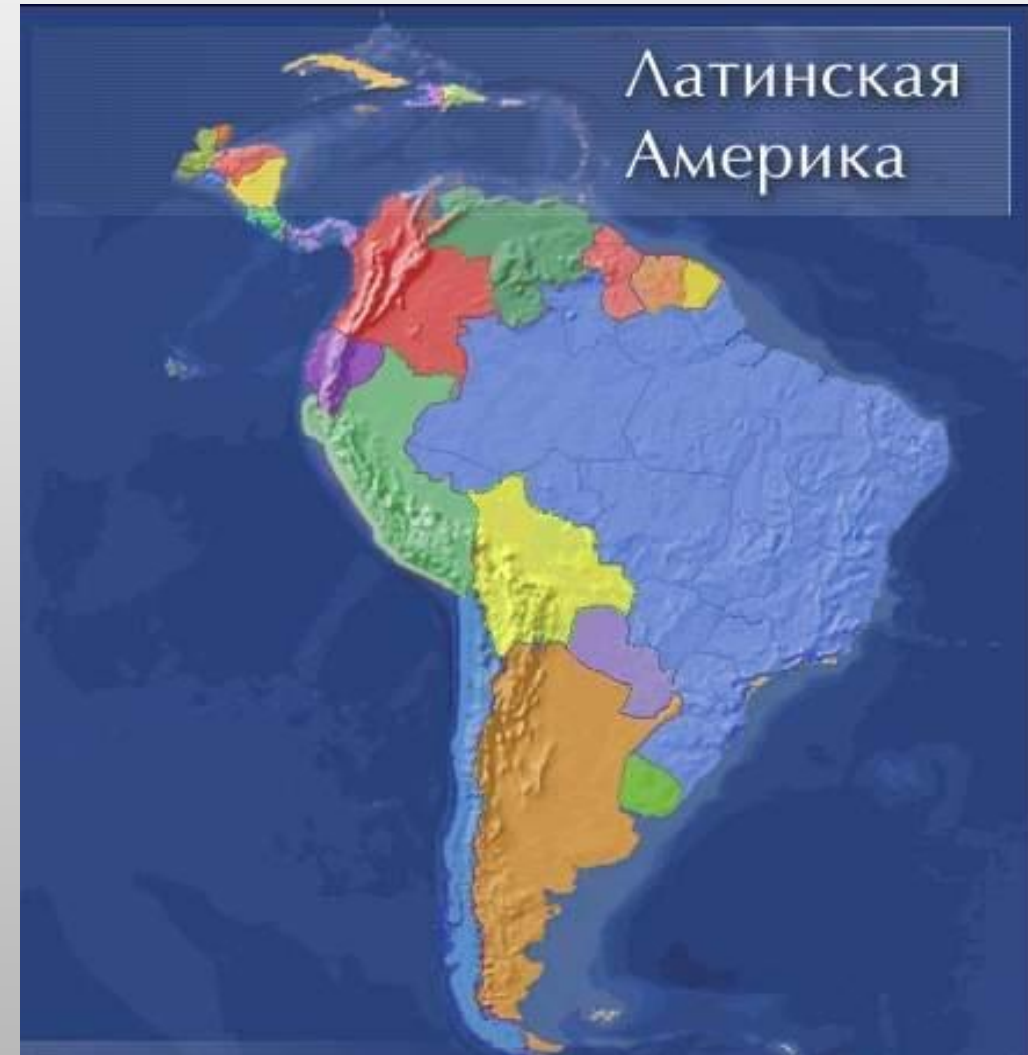


§6 Латинская Америка (1)

д\з §6 стр. 35 задания 1-10



1. По карте мировых религий определите, приверженцы каких вероисповеданий живут в Канаде. Объясните размещение ареалов этих вероисповеданий.

Подавляющую часть населения Канады представляют христиане (преимущественно католики и протестанты), так как исторически народонаселение Канады было по большей части представлено выходцами из Западной Европы: католической Франции и протестантской Англии.

2. В чем особенности географического положения Канады?

Канада является единственной страной, которая омывается водами сразу трех океанов: Северным Ледовитым, Атлантическим и Тихим, и поэтому у нее самое протяженное побережье в мире. На юге Канада граничит с Америкой, а на севере, благодаря большому количеству полярных островов (Виктория, Баффинова Земля, Ньюфаундленд, Девон, Элсмир, Банкс и другие), на 800 километров углубляются за Полярный Круг.

3. Чем Канада напоминает Россию?

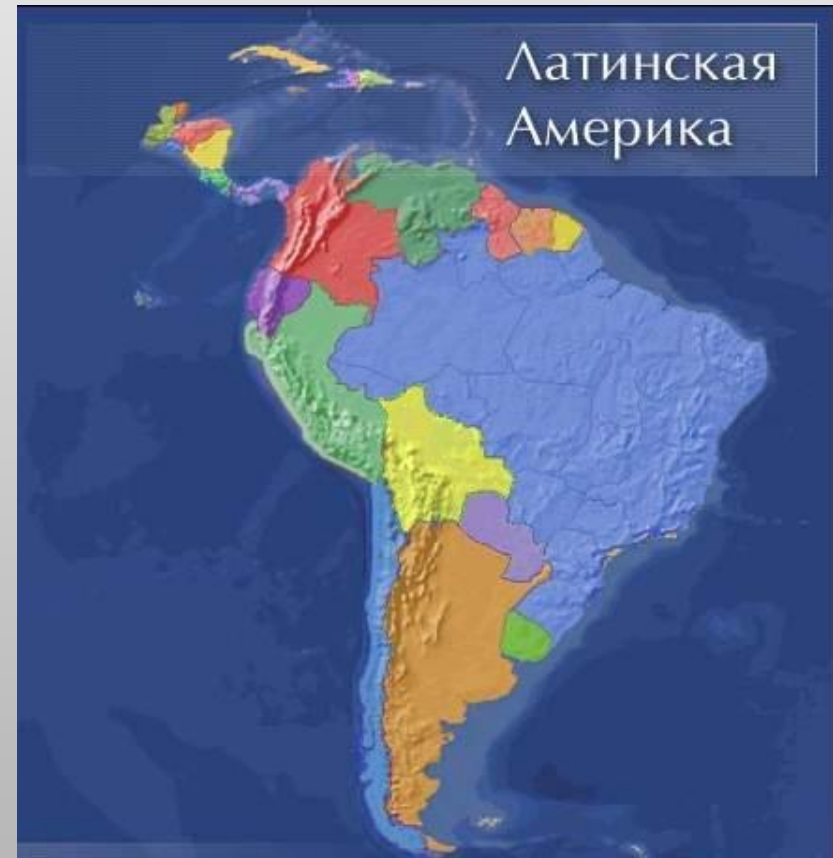
Россию и Канаду издавна называют странами-близнецами. Две эти страны — крупнейшие по территории государства современного мира. По природным условиям и богатству ресурсов Канада имеет много сходств с нашей страной, а природные ландшафты очень напоминают российские. Хотя наша общая граница представляет собой даже не линию, а просто географическую точку — Северный полюс, где сходятся условные границы арктических полярных секторов обеих стран, — Россия и Канада считаются странами-соседями. В мире лишь у России и Канады остались обширные неосвоенные территории, где много природных богатств, но сложные климатические условия.

4. Назовите отрасли международной хозяйственной специализации США и Канады.

Канада - высокоразвитая страна, хотя ее лицо в мировом хозяйстве определяет специализация на производстве и экспорте продукции горнодобывающей, лесной промышленности, энергетики, сельского хозяйства. Лицо же США в мировом хозяйстве - это автомобилестроение, электроника, электротехника, аэрокосмическая промышленность.

Приступим к изучению:

§6 Латинская Америка (1)





Латинская Америка –

регион, расположенный между США и Антарктидой.

В него входят:

- 1) *Мексика*
- 2) *страны Центральной Америки*
- 3) *Вест-Индия*
- 4) *Южная Америка*

Площадь – 21 млн.кв.км

Население – 520 млн.человек

Мексика и Центральная Америка

- 1) Мексика
- 2) Белиз
- 3) Гватемала
- 4) Гондурас
- 5) Коста-Рика
- 6) Никарагуа
- 7) Панама
- 8) Сальвадор



Вест-Индия (Карибские страны)

- 1) Багамские острова
- 2) Гаити
- 3) Доминиканская республика
- 4) Куба
- 5) Ямайка



Административно-территориальное устройство

В Латинской Америке преобладают унитарные государства,
но самые крупные страны - федерации



Аргентина



Венесуэла



Мексика



Бразилия



Федерация Сент-Китс и Невис

ОБЩАЯ ХАРАКТЕРИСТИКА СТРАН ЛАТИНСКОЙ АМЕРИКИ

**Страны Латинской Америки –
бывшие колонии Португалии и
Испании**

**Этнический состав: индейцы,
европейские переселенцы (креолы),
африканцы**

Экономическая зависимость от США

**Страны Латинской Америки стали
независимыми в начале XIX в.**

**Высокие темпы роста населения,
большая доля молодежи**

**Религиозный состав – в большинстве
католики**

ПРИРОДНЫЕ РЕСУРСЫ ЛАТИНСКОЙ АМЕРИКИ:

Богатые природные ресурсы

Нефть

Венесуэла, Мексика, Эквадор

Железная руда

**Бразилия, Венесуэла, Чили, Перу,
Мексика**

Медная руда

Чили, Перу, Мексика

Бокситы

Ямайка, Суринам, Бразилия

Драг. металлы

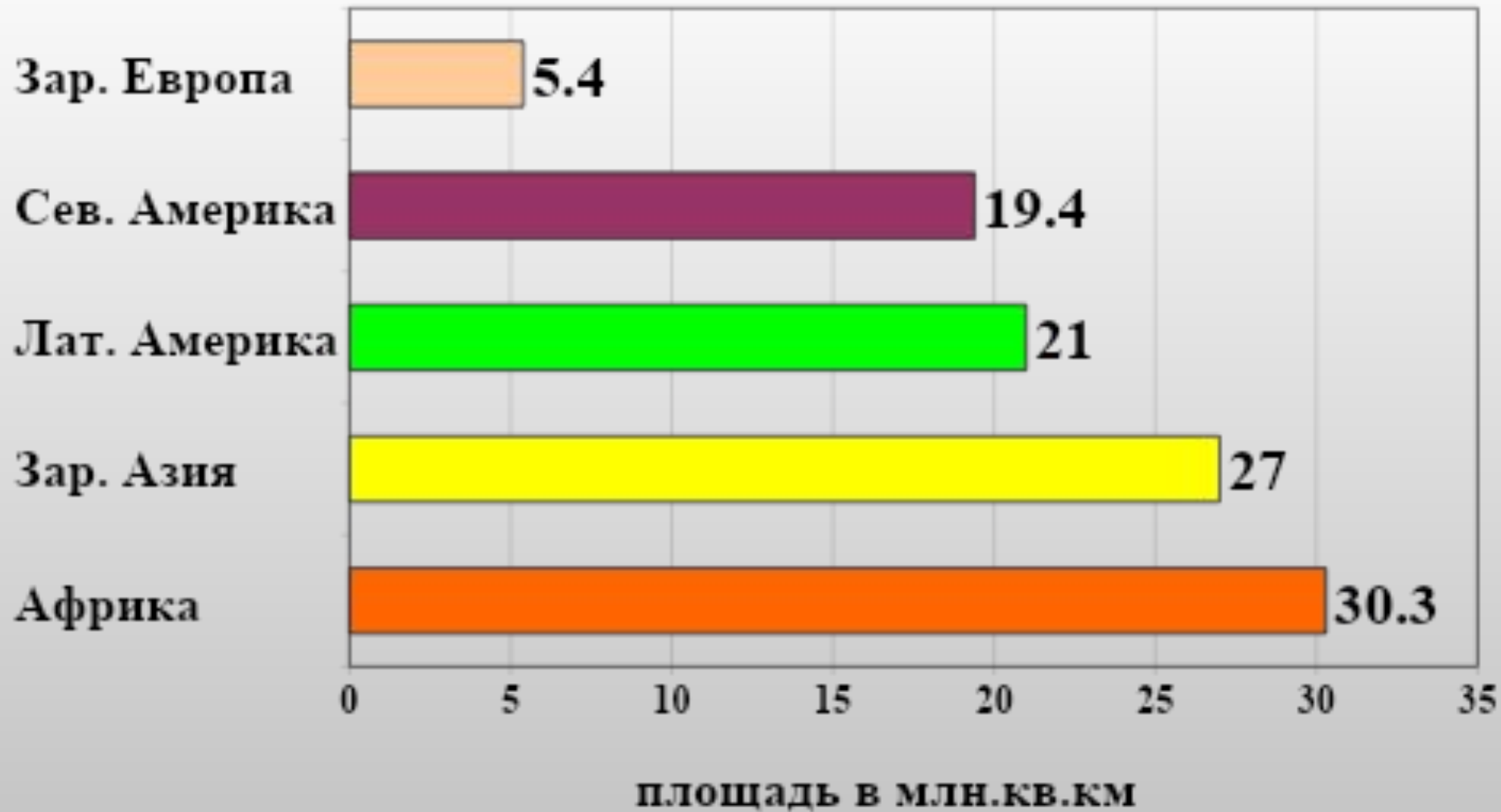
Колумбия, Бразилия, Перу

**Значительные
гидроресурсы**

**Тропические
леса**

**Рекреационные
ресурсы**

Площадь Латинской Америки.



В составе Латинской Америки выделяют несколько субрегионов

Состав субрегионов Латинской Америки.

Мексика	Центральная Америка	Вест-Индия	Андские страны	Страны бассейна Ла-Платы	Бразилия
<i>Мексика</i>	<i>Гватемала Сальвадор Гондурас Белиз Никарагуа Коста-Рика Панама</i>	<i>Куба, Гаити, Доминиканская Республика, Багамские острова, Ямайка, Барбадос, Суринам и др.</i>	<i>Венесуэла Колумбия Эквадор Перу Боливия Чили</i>	<i>Парагвай Уругвай Аргентина</i>	<i>Бразилия</i>

Политическая карта региона.

В настоящее время в пределах региона расположено 46 государств и владений некоторых стран Европы и США.

Независимых государств в регионе 33.

По форме правления страны Латинской Америки отличаются большой однородностью.

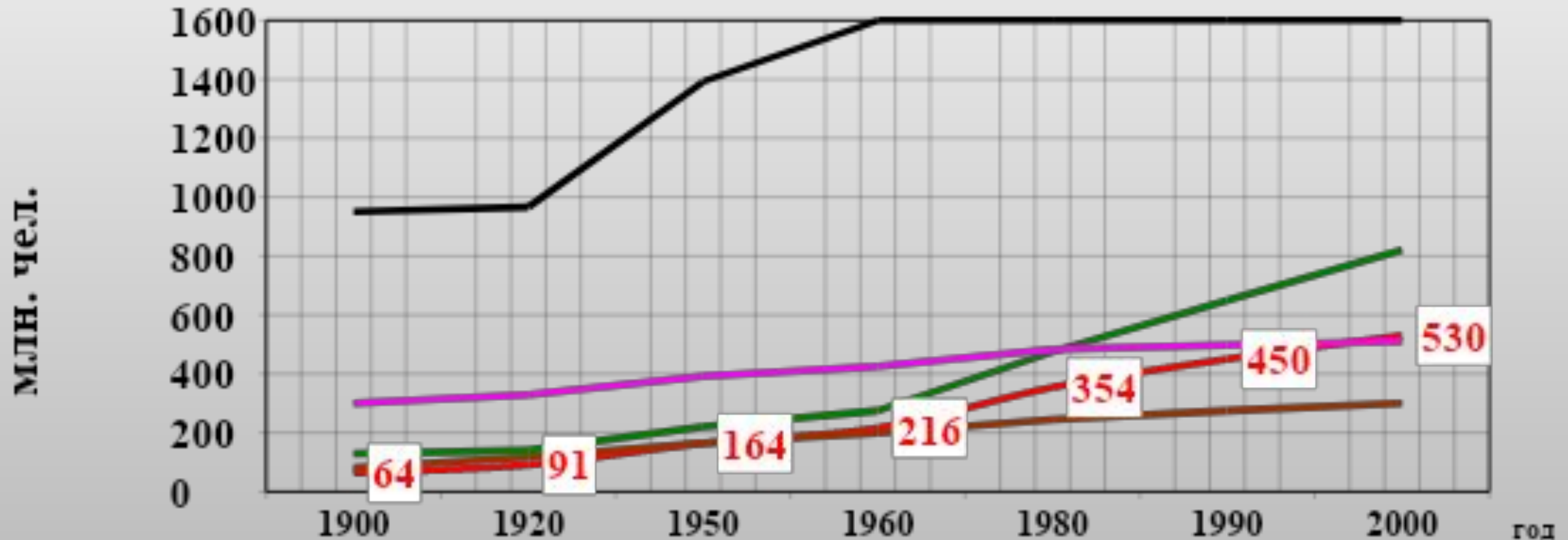
Все они являются республиками.

Особое место занимает **Куба** – единственная страна региона, относящаяся к социалистическим государствам.

Население Латинской Америки

График. Динамика роста численности населения Латинской Америки.

- Латинская Америка - Северная Америка - Африка - Зар. Азия - Зар. Европа



Воспроизводство населения и естественный прирост.

«Рождаемость»

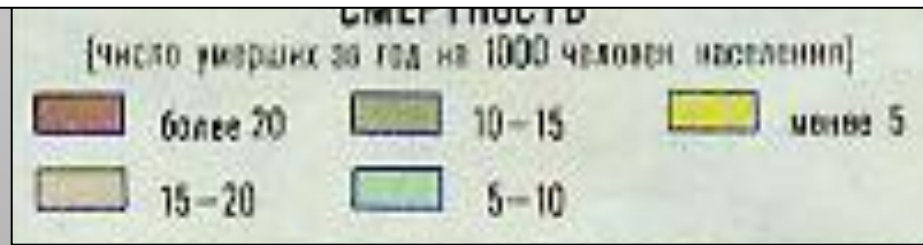
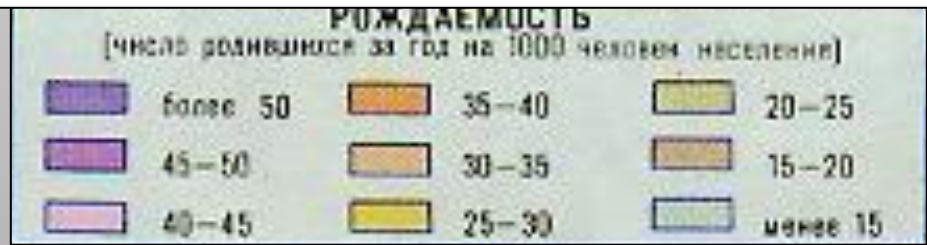
2. Рассмотрим тематическую карту «Смертность». Как видно, на карте преобладает светло-зелёная окраска, следовательно, число умерших за год на 1000 жителей Лат. Америки составляет в среднем 7 чел.

«Смертность»

1. Рассмотрим тематическую карту «Рождаемость». Как видно, на карте преобладающий цвет – желтый, следовательно, число родившихся за год на 1000 жителей Лат. Америки составляет в среднем 25 чел.



Численность населения Лат. Америки растет со скоростью 18 чел. на 1000 жителей в год.



ЭТНИЧЕСКИЙ СОСТАВ НАСЕЛЕНИЯ.

Почти полное истребление индейцев. Общая численность привезенных в Америку негров составила 10 млн. чел.

Так сложились три главных расово-этнических элемента.



Языковой состав.



Однородный. Преобладает испанский и португальский языки. Испанский язык служит государственным в 18 странах (250 млн. чел.).

Португальский язык в одной стране Бразилии - 170 млн. чел.

В Мексике, Боливии, Парагвае наряду с испанским языком официальными считаются – ацтекский, кечуа.

ПЛОТНОСТЬ НАСЕЛЕНИЯ ЛАТИНСКОЙ АМЕРИКИ



ПЛОТНОСТЬ НАСЕЛЕНИЯ на 1 кв.км

5	более 100 человек
4	от 50 до 100 человек
3	от 10 до 50 человек
2	от 1 до 10 человек
1	до 1 человека
	Незаселенные территории

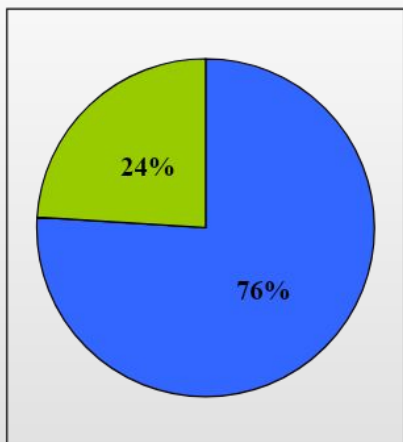
ЧИСЛО ЖИТЕЛЕЙ В ГОРОДАХ

○	свыше 7 млн. человек
○	от 1 до 5 млн. человек
○	от 300 тыс. до 1 млн. человек
○	от 100 тыс. до 300 тыс. человек
•	от 20 тыс. до 100 тыс. человек
Лима	- агломерации

ХАРАКТЕРНЫЕ ЧЕРТЫ РАЗМЕЩЕНИЯ:

- наименее заселенный регион мира со средней плотностью 25 чел. на км. кв.;
- сильно выражена неравномерность размещения;
- высока доля высокогорного населения.

УРБАНИЗАЦИЯ



Характерна ложная урбанизация. Формирование трущобных районов, «поясов нищеты», в которых живет до 50% населения многих городов.



Крупнейшие города с населением более 10 млн. чел.

Доля городского населения в странах Латинской Америки

Страна	Доля городского населения (%)
Уругвай	91
Аргентина	88
Багамские Острова	87
Венесуэла	86
Чили	84
Бразилия	79
Куба	76
Мексика	74
Колумбия	73
Тринидад и Тобаго	72
Перу	71
Доминиканская Республика	63
Никарагуа	63
Боливия	61
Эквадор	60
Панама	56
Ямайка	54
Парагвай	53
Коста-Рика	50
Суринам	49
Белиз	47
Гондурас	44
Сальвадор	43
Гватемала	39
Гайана	36
Ганти	32

Хозяйство Латинской Америки. Промышленность и сельское хозяйство.

Латинскую Америку можно отнести к промышленно развитым регионам, хотя все его страны, принято относить к группе развивающихся.

Доля региона в мировом валовом продукте составляет 8,5%.

$\frac{4}{5}$ всей промышленной продукции приходится на тройку экономических лидеров – Бразилию, Мексику, Аргентину.

В мировом сельскохозяйственном производстве региону принадлежит видное место.



Хозяйство Латинской Америки.

ПРОМЫШЛЕННОСТЬ.

Долгое время промышленность региона характеризовалась в первую очередь развитием горнодобывающих отраслей. Однако, в последнее время ведущая роль стала переходить к обрабатывающей промышленности (особенно черная, цветная металлургия, нефтепереработка, а так же электроника и машиностроение).

В Бразилии получили развитие электроника, автомобилестроение, судостроение; в Мексике, Аргентине – производство автомобилей, станков.

СЕЛЬСКОЕ ХОЗЯЙСТВО.

Представлено двумя совершенно разными секторами.

Первый сектор – это высокотоварное, плантационное хозяйство. Крупнейшие в мире производители бананов – Коста-Рика, Колумбия, Эквадор, Гондурас, Панама. На судах-рефрижераторах весь сбор бананов вывозится в Европу, США, причем по дороге они дозревают. На Кубе $\frac{1}{2}$ всех обрабатываемых земель занята плантациями сахарного тростника. Сахарные заводы производят более 5 млн т сахара в год. Сахарная промышленность – отрасль специализации Кубы.

Второй сектор – это потребительское малотоварное хозяйство, не затронутое «зелёной революцией». Крестьяне, занятые в нём выращивают кукурузу, маниоку, фасоль, овощи, картофель.

Транспорт.

Транспортная оснащённость Латинской Америки слабая.

Недостаточно развиты внутренний водный, трубопроводный транспорт, несмотря на большую протяжённость железных дорог их пропускная способность очень низкая, лучше развит – воздушный и автомобильный.

Огромную роль играет морской транспорт и морские порты, все дороги в регионе ведут к морскому порту.



Дорога в Андах.



Панамский канал.

ОСОБЕННОСТИ ЭКОНОМИКИ СТРАН ЛАТИНСКОЙ АМЕРИКИ

По уровню развития опережают развивающиеся страны Азии и Африки

Снижается доля с/х, растет доля обрабатывающей промышленности

На Бразилию, Мексику, Аргентину приходится 2/3 промышленного производства

В добывающей промышленности 80% - добыча топлива, 20% - рудного сырья

С/х занимает относительно высокую долю в ВВП, особенно в Центральной Америке

В с/х высокотоварные хозяйства сочетаются с мелкотоварным

Ведущая отрасль с/х – растениеводство, монокультурность

Специализация в с/х:

Кофе – Бразилия, Колумбия, Гватемала

Сахар – Гайана, Куба, Белиз

Бананы – Эквадор, Гондурас, Панама

Пшеница - Аргентина

д\з §6 стр. 35 задания 1-10