

Путешествие по сказке «Теремок»

Выполнила : Тимофеева И.А.



Тема урока:
**Упражнения для закрепления.
Задачи на увеличение и
уменьшение числа на несколько
единиц**





Стоит в поле теремок.
Он не низок не высок...
Мимо мышка бежала
Теремочек увидала.
В нем решила жить она.
«Вот войду, и буду жить!»
Теремок ей говорит:
- Ты задание реши,
А затем уже живи!
Вот беда, хоть стой, хоть
плачь.
Не умею я решать !
Помогите ей, ребята,
Все расставить по местам.
За решение задания
Она будет благодарна вам!

А) Вставь пропущенные числа.

1 2 3 4 5 6 7 8 9 10

2 4 6 8 10

10 8 6 4 2



Б) Цепочка.

$$10 \underline{\quad} -2 \underline{\quad} +1 \underline{\quad} -3 \underline{\quad} *$$

8

7

6



ПРАВИЛЬНО

ПРАВИЛЬНО



Подумай ещё!



Определите, кто
где будет жить?



5

6

7


4

Спасибо, ребята, мышки –норушке
вы помогли.

Что ж поделаешь - живи!



Много времени прошло иль
мало
Мимо лягушка проскакала
Теремочек увидала.
Вот войду, и буду жить.
Постой! Мышка-норушка ей
говорит:
- Ты с заданьем сначала
справься ,
А затем уже живи!
Испугалась она
Помоги ей, детвора.






На двух тарелках было всего 10 яблок. Когда с одной переложили на другую 2 яблока, на обеих тарелках их стало поровну. Сколько яблок было на каждой тарелке сначала?




Спасибо, дети, помогли.
Что же, серая, - живи!





По опушке лесной
Зайка пробегал косой.
Теремок он увидал.
Легонько лапкой постучал.
А лягушка с мышкой
говорят:

- Задачу ты реши,
А затем уже живи!
Лапки серенькие поджал
Сильно испугался.
Математикой косою
Никогда не занимался.
Ребята, зайке помогите,
Задачи «страшные»
решите.



№7

*Аня и Оля помогали маме лепить
пирожки. Аня слепила 2 пирожка,
Оля столько же. Сколько всего
пирожков слепили девочки?*



Вот спасибо, детвора,
Здесь живу уже. Ура!





Мимо лисонька бежала
Теремочек увидала.
В нем решила жить она.
Постучавшись, лишь слегка,
Звери отвечали:
- Задачу нашу ты реши,
А затем уже живи!
Вот беда, хоть плачь.
Не умеет лисонька решать
задач!
Все расставить по местам.
За решение задачи
Она будет благодарна вам!



№1

В вазе лежало 8 груш. Мама взяла 2 груши. Сколько груш осталось в вазе?



Спасибо, ребята, вы лисичке
помогли.

Что же, рыжая, - живи!





Бежит по опушке волчок-
Серенький бочок.
Теремочек он увидел,
Попросился на постой.
Чтобы волка не обидеть,
Ему дают вопрос простой.
Волк сложил - сравнил,
Вычел и сравнил.
Все как полагается,
Только правильный ответ
Никак не получается.
Может, вы ответ найдете,
И поможете ему?



Проверка

№8

$$6 > 4$$

$$8 < 9$$

$$3+2 = 5$$

$$6-2 > 3$$

$$10-2 > 7$$


$$10-1 = 9$$



Вот спасибо, помогли.
Ну волчок -серенький бочок скорее,
заходи.



В этот день, часу так в
пятом,
На опушке показался
Мишка косолапый.
Теремок увидел мишка
На весь лес давай реветь.
«Вот тут теперь я буду
жить!»



Ему зверята отвечают:
Ты, медведь, не реви,
Примеры хитрые реши,
А потом уж заходи!
Мишка за ухом чесал,
Морщил нос лохматый,
Обреченно зарычал
Просит помощи, ребята!

Вставьте вместо звездочек числа

$$10 = * + 1$$

$$9 - * = 0$$

$$8 + * = 8$$

$$9 - * = 8$$

$$10 = * + 2$$

$$8 + * = 9$$

$$9 - * = 7$$

$$10 = * + 3$$

$$8 + * = 10$$

-Закрасьте кружочки с числами так ,
чтобы в сумме было 7



Вы старались, как могли,
Зверушкам малым помогали
Задачи сложные порой
На опушку ночь спустилась
Теремок весь заселен.
Сказка наша, так случилось,
К концу плавно подошла.
В тепле пусть спят зверята,
Спасибо, вам, ребята.
Каждый из вас просто молодец.
Тут и сказочке конец!

