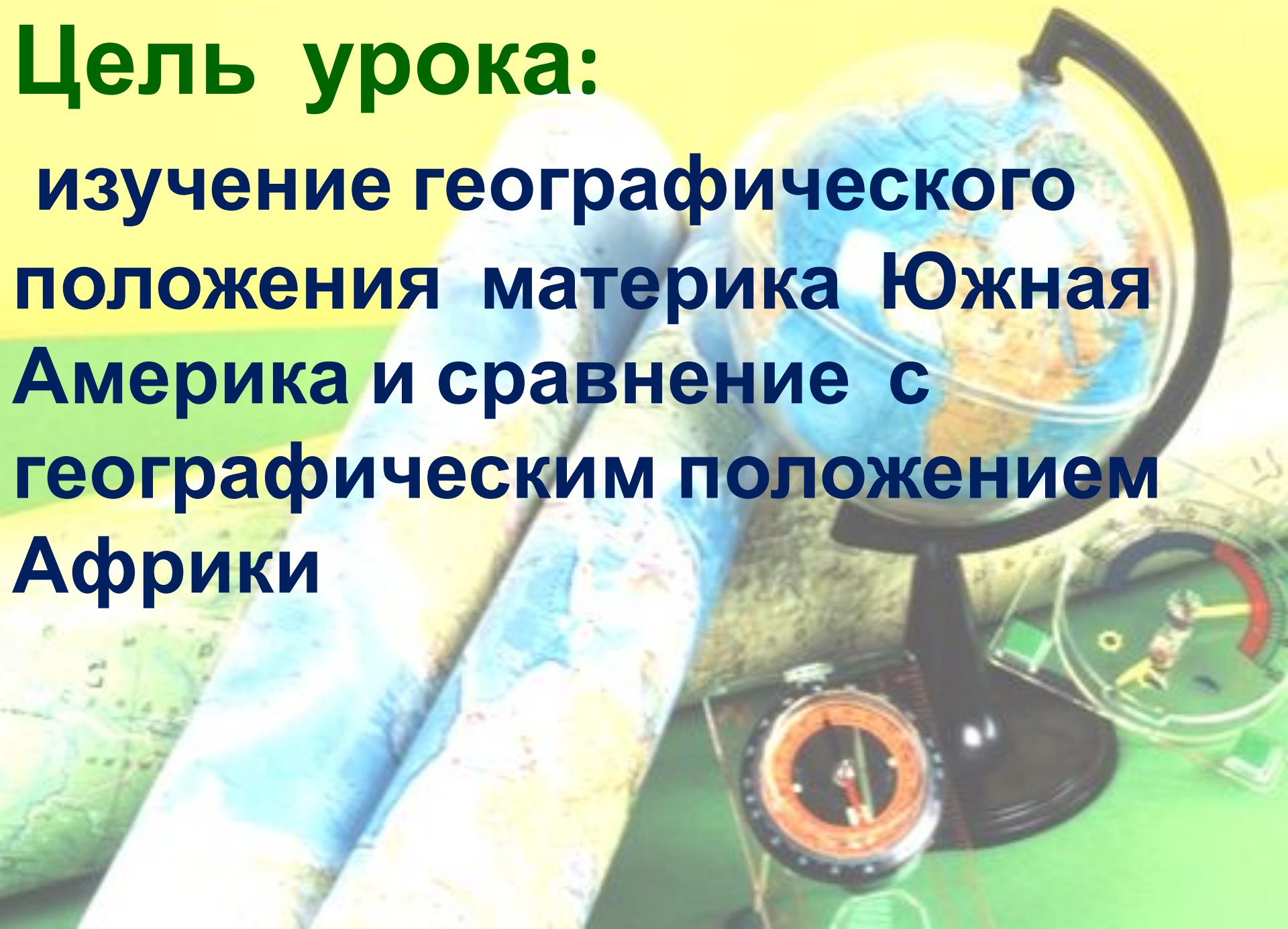


Географическое положение Южной Америки



Цель урока:

**изучение географического
положения материка Южная
Америка и сравнение с
географическим положением
Африки**



РЕЗУЛЬТАТЫ

Знать:

- план характеристики географического положения материка;
- особенности географического положения Южной Америки;



РЕЗУЛЬТАТЫ

Уметь:

- определять географическое положение Южной Америки, координаты крайних точек, протяженность материка в градусной мере и километрах;
- показывать на карте объекты береговой линии Южной Америки.

Самое - самое на материке Южная Америка

- Южная Америка - четвертый по площади материк Земли.
- Самый влажный материк
- Здесь находится самая длинная горная цепь – Анды.
- Самая большая низменность – Амазонская.
- Самая полноводная река мира – Амазонка.



Самое – самое на материке Южная Америка

- Самый высокий водопад мира Анхель высотой **1054м**.
- Самая высокая точка материка – гора Аконкагуа (**6960м**).
- Самое высокогорное озеро Титикака
- Влажные вечнозеленые леса материка называют **«легкими планеты»**.



План описания ГП материка

The background of the slide features a globe on a stand, a rolled-up map, and a compass, all set against a light green and yellow gradient background.

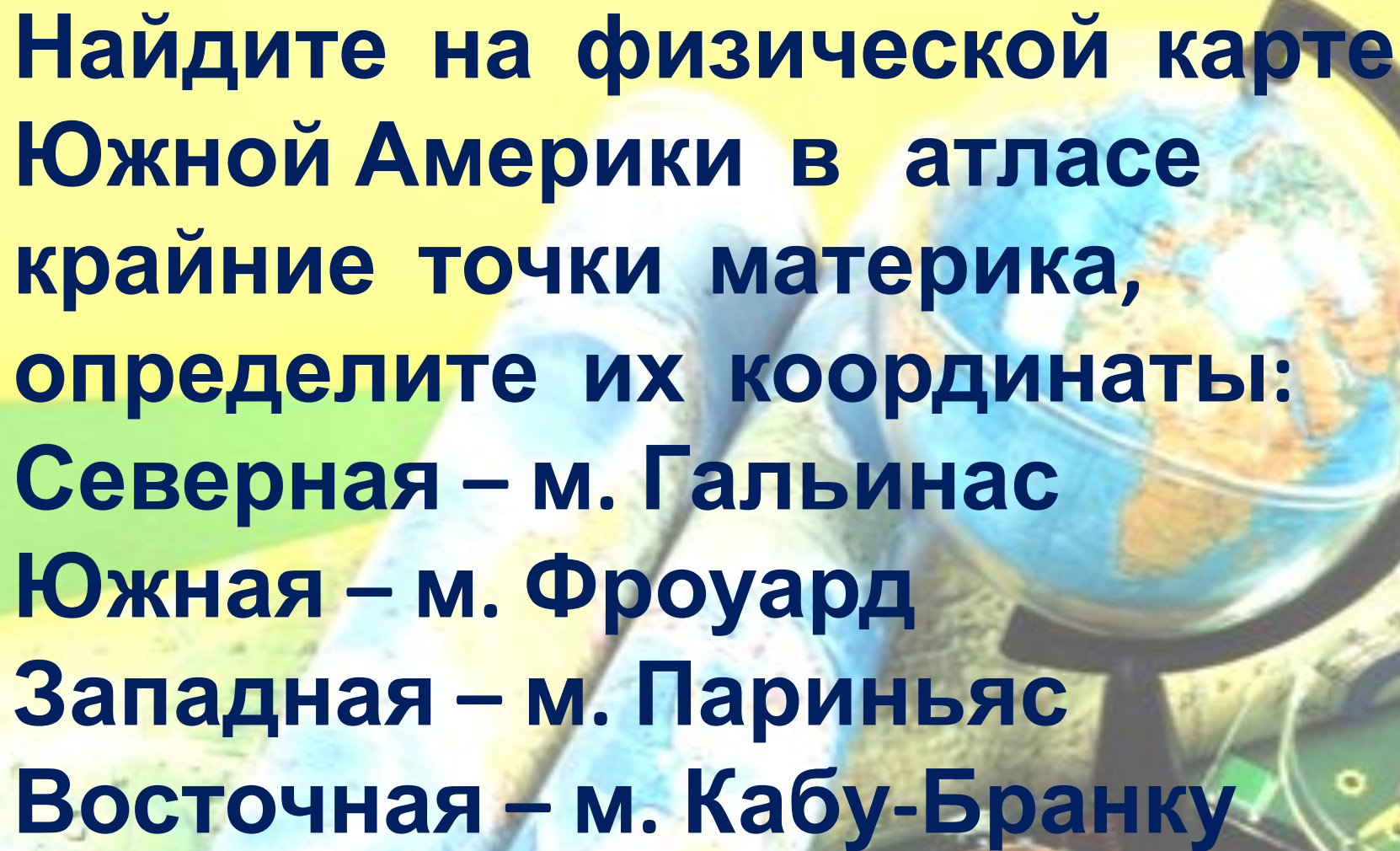
1. Как расположен материк относительно экватора и нулевого меридиана?
2. Крайние точки материка, их координаты, протяженность материка в градусах и километрах с севера на юг и с запада на восток.
3. Какие океаны омывают материк?
4. Как расположен материк относительно других материков?

Географическое положение Южной Америки

A globe showing the Americas is positioned in the upper right. Below it, a map of South America is spread out. In the lower right, a compass is visible. The background is a light green and yellow gradient.

1. Как расположен материк относительно экватора?
2. Как расположен материк относительно нулевого меридиана?

Сделайте вывод о положении Южной Америки относительно перечисленных географических объектов

The background features a globe on a black stand, a rolled-up map, and a compass. The globe shows the Americas, with South America visible. The map is partially unrolled, showing a blue and white color scheme. The compass has a red needle and a white face with black markings. The overall scene is set against a light green and yellow background.

**Найдите на физической карте
Южной Америки в атласе
крайние точки материка,
определите их координаты:
Северная – м. Гальинас
Южная – м. Фроуард
Западная – м. Париньяс
Восточная – м. Кабу-Бранку**

Проверьте правильность выполнения работы

Крайние точки Южной Америки

м. Гальинас 12с.ш. 71 з.д.

м. Фроуард 55ю.ш. 73 з.д.

м. Париньяс 5 ю.ш.81 з.д.

м. Кабу-Бранку 5 ю.ш. 34 з. д.

**Проверьте правильность
выполнения работы
Протяженность материка
с севера на юг по 70 з.д.:**

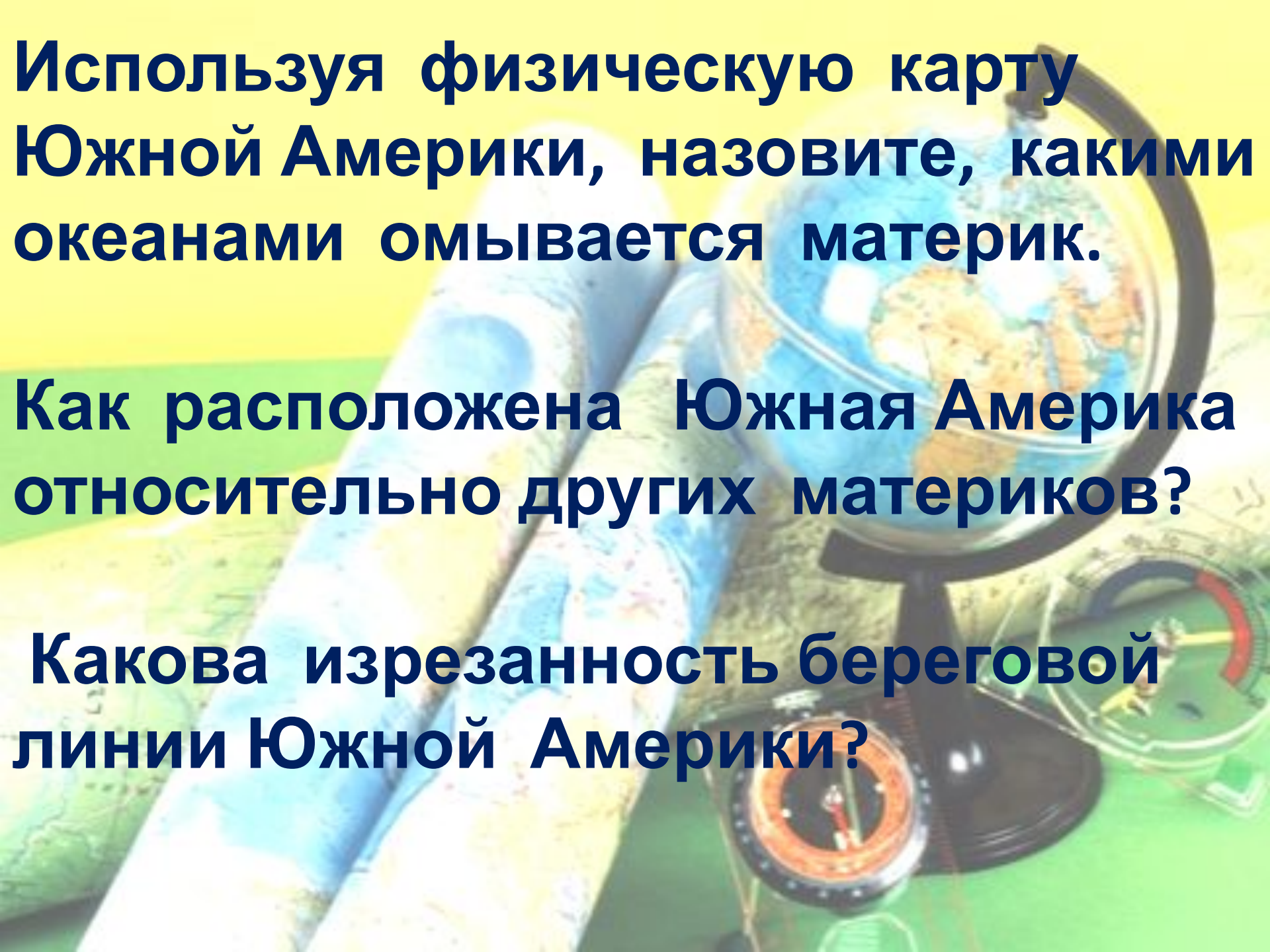
$$12^{\circ} + 55^{\circ} = 67^{\circ}$$

$$67^{\circ} \bullet 111 \text{ км} = 7\,437 \text{ км}$$

с запада на восток по 10 ю.ш.:

$$78^{\circ} - 35^{\circ} = 43^{\circ}$$

$$43^{\circ} \bullet 105 \text{ км} = 4\,515 \text{ км}$$

A globe showing the Americas is positioned in the upper right, with a rolled-up map of South America in the foreground. The background is a soft-focus green and yellow gradient.

Используя физическую карту Южной Америки, назовите, какими океанами омывается материк.

Как расположена Южная Америка относительно других материков?

Какова изрезанность береговой линии Южной Америки?

Пользуясь картами атласа, заполните таблицу «Сравнение ГП двух материков - Южной Америки и Африки»:

Южная Америка	Факторы	Африка

Проверьте правильность выполнения работы

Южная Америка	Факторы	Африка
Большая часть находится в южном полушарии	Отношение к экватору	Экватор пересекает материк почти посередине
Находится в западном полушарии	Отношение к нулевому меридиану	Большая часть находится в восточном полушарии
На севере граничит с Северной Америкой	Отношение к другим материкам	На севере граничит с Евразией
Омывается Атлантическим и Тихим океанами	Отношение к океанам	Омывается Индийским и Атлантическим океанами

Итоговое тестирование

1. Крайняя южная точка материка :

- 1) м. Гальинас
- 2) м. Фроуард
- 3) м. Кабу – Бранку
- 4) м. Париньяс



Итоговое

тестирование

2. У каких берегов Южной Америки расположены острова Огненная Земля?

- 1) западных
- 2) восточных
- 3) северных
- 4) южных



Итоговое

тестирование

**3. Южная Америка омывается
водами океанов:**

- 1) Атлантического и Индийского**
- 2) Тихого и Атлантического**
- 3) Северного Ледовитого и
Атлантического**
- 4) Тихого и Индийского**



Итоговое

тестирование

4. Какой пролив отделяет Южную Америку от острова Огненная Земля?

- 1) Босфор
- 2) Берингов
- 3) Магелланов
- 4) Гибралтарский



Итоговое тестирование

5. Крупный залив на юго-востоке Южной Америки ?

- 1) Бенгальский
- 2) Гвинейский
- 3) Ла - Плата
- 4) Гудзонов



Итоговое

тестирование

6. Какой пролив отделяет Южную Америку от Антарктиды?

- 1) Босфор
- 2) Берингов
- 3) Дрейка
- 4) Гибралтарский



Итоговое тестирование

7. Открытие Америки принадлежит:

- 1) А. Веспуччи
- 2) Х. Колумбу
- 3) А. Гумбольдту
- 4) В.В. Юнкеру



Проверьте свои знания

1. Крайняя южная точка материка :

- 1) м. Гальинас
- 2) м. Фроуард
- 3) м. Кабу – Бранку
- 4) м. Париньяс



Проверьте свои знания

2. У каких берегов Южной Америки
расположены острова Огненная
Земля?

- 1) западных
- 2) восточных
- 3) северных
- 4) южных



Проверьте свои знания

3. Южная Америка омывается
водами океанов:

- 1) Атлантического и Индийского
- 2) Тихого и Атлантического
- 3) Северного Ледовитого и Атлантического
- 4) Тихого и Индийского



Проверьте свои знания

4. Какой пролив отделяет Южную Америку от острова Огненная Земля?

- 1) Босфор
- 2) Берингов
- 3) Магелланов
- 4) Гибралтарский



Проверьте свои знания

5. Крупный залив на юго-востоке
Южной Америки?

- 1) Бенгальский
- 2) Гвинейский
- 3) Ла - Плата
- 4) Гудзонов



Проверьте свои знания

6. Какой пролив отделяет Южную Америку от Антарктиды?

- 1) Босфор
- 2) Берингов
- 3) Дрейка
- 4) Гибралтарский



Проверьте свои знания

7. Открытие Америки принадлежит:

- 1) А. Веспуччи
- 2) Х. Колумбу
- 3) А. Гумбольдту
- 4) В.В. Юнкеру



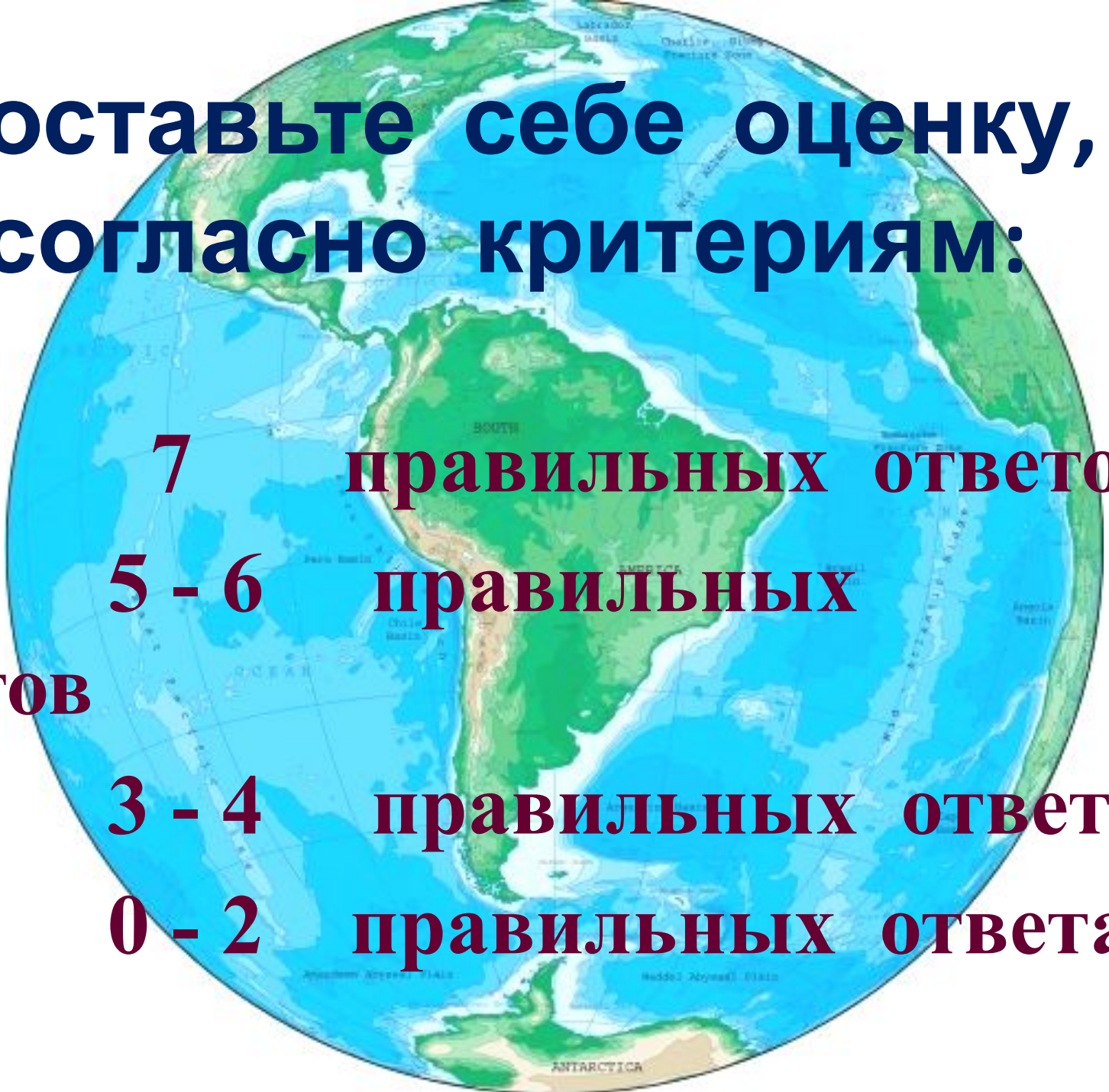
**Поставьте себе оценку,
согласно критериям:**

«5» - 7 правильных ответов

**«4» - 5 - 6 правильных
ответов**

«3» - 3 - 4 правильных ответа

«2» - 0 - 2 правильных ответа



Домашнее задание:

- прочитать § 40
- выучить изученные на уроке названия объектов

