

Перечень событий (процессов)

А) Стояние на Угре

Б) появление государства у Франков

В) Борьба между Тверью и Москвой за первенство в Северо-Восточной Руси

Г) феодальная раздробленность на Руси

1)




2)



Ответ: 214

3)

3.



4)



1)



2)



3)



4)



Ответ: 413

Перечень событий (процессов)

2.

А) Правление Ярослава Мудрого


Б) рост влияния Москвы в XIV в.

В) борьба Руси с крестоносцами

Г) появление парламентаризма в Англии



Ответ: 143



Перечень событий (процессов)

А) арабские завоевания в VII-VIII вв.

Б) военные походы русских князей на Царьград

В) вторая уособица на Руси

Г) рост влияния Москвы в первой половине XIV в.

1)



2)



Ответ: 142

3)



3.

4)



Перечень событий (процессов)

A) освобождение от Орды

Б) присоединение Новгорода к Москве

В) отражение шведской

Г) освобождение от Орды

1)



2)



Ответ: 431

3)



4)



2.

Перечень событий (процессов)

А) образование русского государства

В) Гуситское движение


Б) Победа над Мамаем в Куликовской битве

Г) Принятие христианства на Руси

1)



2)



3)



4)



Ответ: 342

1



Перечень событий (процессов)

А) возвышение Москвы

Б) монгольское нашествие на Русь

В) падение Византийской империи

Г) разгром крестоносцев на Чудском озере



**Ответ: 432
1.**

Перечень событий (процессов)

А) борьба Северо-Западной Руси против крестоносцев

В) Грюнвальдская битва

Б) правление Ярослава Мудрого

Г) четвертый крестовый поход

1)




2)



Ответ: 423

3)



1.

4)



Перечень событий (процессов)

А) правление Ивана Калиты

Б) битва на Калке

В) первый созыв Генеральных штатов во Франции

Г) съезд князей в Любече

1)



2)



Ответ: 324

3)



4)



1.

Перечень событий (процессов)

А) образование древнерусского государства

В) Великая хартия вольностей

Б) правление Андрея Боголюбского

Г) освобождение от ордынского владычества

1)



2)



**Ответ: 431
2.**

3)



4)



Перечень событий (процессов)

А) Жакерия во Франции

Б) походы Святослава

В) Русская правда Ярослава Мудрого

Г) княжение Ольги

1)



2)



3)



4)



Перечень событий (процессов)

А) правление Владимира Всеволодовича Мономаха

Б) присоединение Новгорода к Москве

В) Борьба с Золотой Ордой

Г) Крестовые походы

**Ответ: 234
1.**


1)



2)



3)



4)



**Ответ: 412
3.**

Перечень событий (процессов)

А) правление Ивана III Великого

В) правление Юстиниана

Б) поход новгород-северского князя Игоря против половцев

Г) строительство белокаменного Московского Кремля

1)



2)



3)



4)



Ответ: 324

Перечень событий (1 процессов)

А) введение пожилого и Юрьева дня

Б) походы князя Олега Вещего

В) битва при Гастингсе

Г) правление Василия II

- Прочтите отрывок из исторического источника и определите, к какому из данных событий (процессов) он относится. В ответе напишите букву, которой обозначено это событие (процесс).

Перечень событий (процессов)

А) образование древнерусского государства

Б) правление Андрея Боголюбского

В) Великая хартия вольностей

Г) освобождение от ордынского владычества

- «В том же году пришла весть к великому князю, что царь Ахмат идёт со всею Ордою... Князь же великий послал своего сына и брата и воевод со всеми войсками на Угру. И придя, они стали на Угре и заняли броды и перевозы... Ахмат пришёл к Угре со всем войском, желая перейти реку. И пришли татары и начали стрелять в наших, а наши в них... И отбили татар от берега, и много дней они подступали и не могли перейти реку, и стояли, ожидая, когда замёрзнет река...».

Ответ:

Б

- Прочтите отрывок из исторического источника и определите, к какому из данных событий (процессов) он относится. В ответе напишите букву, которой обозначено это событие (процесс)

Перечень событий (процессов)

- | | |
|------------------------------------|----------------------|
| А) Жакерия во Франции | Б) походы Святослава |
| В) Русская правда Ярослава Мудрого | Г) княжение Ольги |

- «Но отсвет её дел, отсвет её имени доходят до нас даже сквозь эту тысячелетнюю мглу. Её свершения во многом определили и наш сегодняшний день, и всё содержание нашей истории, которая — в том виде, в котором она дана нам, — была бы невозможна без её усилий по созданию Киевской державы, без осознанного ею выбора веры, без **Её** путешествия в Царьград...».

Ответ:

Г

- Прочтите отрывок из исторического источника и определите, к какому из данных событий (процессов) он относится. В ответе напишите букву, которой обозначено это событие (процесс).

Перечень событий (процессов)

А) правление Владимира Всеволодовича Мономаха

Б) присоединение Новгорода к Москве

В) Борьба с Золотой Ордой

Г) Крестовые походы

- «...Ибо никто из потомков Ярослава Великого, кроме Мономаха и Александра Невского, не был столь любим народом и боярами, как Дмитрий, за его великодушие, любовь ко славе Отечества, справедливость, добросердечие. Воспитанный среди опасностей и шума воинского, он не имел знаний, почерпанных в книгах, но знал Россию и науку правления; силою одного разума и характера заслужил от современников имя орла высокопарного в делах государственных; словами и примером вливал мужество в сердца воинов и, будучи младенец незлобием, умел с твёрдостью казнить злодеев. Современники особенно удивлялись его смирению в счастии. Какая победа в древние и новые времена была славнее Донской, где каждый россиянин сражался за Отечество и ближних?»

Ответ:

Б

- Прочтите отрывок из исторического источника и определите, к какому из данных событий (процессов) он относится. В ответе напишите букву, которой обозначено это событие (процесс).

Перечень событий (процессов)

А) введение пожилого и Юрьева дня

Б) походы князя Олега Вещего

В) битва при Гастингсе

Г) правление Василия II

- «907 г. <...> Победоносный поход на Царьград одного из первых древнерусских князей. <...> Византийские императоры Лев VI Премудрый и Александр поклялись соблюдать договор на кресте. Князь с мужами по закону русскому клялись оружием, богами — Перуном и Велесом. Нагрузили русские свои ладьи золотом, серебром, шелками, плодами и винами и двинулись восвояси. Князь же, чтобы греки запомнили его надолго, у входа в Византийскую империю оставил свой знак».

Ответ:

Б

- Прочтите отрывок из исторического источника и определите, к какому из данных событий (процессов) он относится. В ответе напишите букву, которой обозначено это событие (процесс).

Перечень событий (процессов)

- | | |
|---------------------------------|--|
| А) правление Ивана III Великого | Б) поход новгород-северского князя Игоря против половцев |
| В) правление Юстиниана | Г) строительство белокаменного Московского Кремля |

- «Рождённый и воспитанный данником степной орды, он сделался одним из знаменитейших государей в Европе: без учения, без наставлений, руководствуемый только природным умом, силою и хитростью восстанавливая свободу и целостность России, губя царство Батыево, тесня Литву, сокрушая вольность новгородскую, захватывая уделы, расширяя уделы московские...
- [Он] как человек не имел любезных свойств ни Мономаха, ни Донского, но стоит как государь на высшей ступени величия».

Правильный

ответ: А

С каким из данных событий (процессов) связано слово Русская правда? Запишите букву, которой обозначено данное событие (процесс).

Объясните смысл слова **Русская правда**.

Перечень событий (процессов)

А) Правление Ярослава Мудрого

Б) рост влияния Москвы в XIV в.

В) борьба Руси с крестоносцами

Г) появление парламентаризма в Англии

Пояснение.

Правильный ответ должен содержать следующие элементы:

1) Буква, которой обозначено данное событие (процесс), — А;

2) Объяснение смысла слова Русская Правда, например: Русская

Правда - первый письменный сборник законов на Руси.

Объяснение смысла слова может быть дано в иных, близких по смыслу формулировках.

О каком из данных событий (процессов) связано слово «халиф»? Запишите букву, которой обозначено данное событие (процесс).

Объясните смысл слова «халиф»

Перечень событий (процессов)

- | | |
|---------------------------------------|---|
| А) арабские завоевания в VII-VIII вв. | Б) военные походы русских князей на Царьград |
| В) вторая усобица на Руси | Г) рост влияния Москвы в первой половине XIV в. |

Пояснение.

Правильный ответ должен содержать следующие элементы:

- 1) Буква, которой обозначено данное событие (процесс), — А;
- 2) Объяснение смысла слова «халиф», например: Халиф — заместитель пророка, правитель арабского государства. Объяснение смысла слова может быть дано в иных, близких по смыслу формулировках.

С каким из данных события (процессов) связано слово «Тевтонский орден»? Запишите букву, которой обозначено данное событие (процесс).
Объясните смысл слова «Тевтонский орден».

Перечень событий (процессов)

- | | |
|--|-------------------------------|
| А) борьба Северо-Западной Руси против крестоносцев | Б) правление Ярослава Мудрого |
| В) Грюнвальдская битва | Г) четвертый крестовый поход |

Пояснение.

Правильный ответ должен содержать следующие элементы:

1) Буква, которой обозначено данное событие (процесс), —

А;

2) Объяснение смысла слова «Тевтонский орден», например: рыцарское государство крестоносцев в Прибалтике.

Объяснение смысла слова может быть дано в иных, близких по смыслу формулировках.

С каким из данных событий (процессов) связано слово «усобица»? Запишите букву, которой обозначено данное событие (процесс).

Объясните

СМЫСЛ

СЛОВА

«усобица»

Перечень событий (процессов)

А) правление Ивана Калиты

Б) битва на Калке

В) первый созыв Генеральных штатов во Франции

Г) съезд князей в Любече

Пояснение.

Правильный ответ должен содержать следующие элементы:

1) Буква, которой обозначено данное событие (процесс), — В;

2) Объяснение смысла слова «усобица», например: войны между князьями, междоусобная вражда.

Объяснение смысла слова может быть дано в иных, близких по смыслу формулировках.

С каким из данных событий (процессов) связано слово «династия Рюриковичей»? Запишите букву, которой обозначено данное событие (процесс).
Объясните смысл слова «династия Рюриковичей».

Перечень событий (процессов)

А) образование древнерусского государства

Б) правление Андрея Боголюбского

В) Великая хартия вольностей

Г) освобождение от ордынского владычества

Пояснение.

Правильный ответ должен содержать следующие элементы:

1) Буква, которой обозначено данное событие (процесс), — А;

2) Объяснение смысла слова «династия Рюриковичей», например:

потомки киевского князя Игоря, который считается сыном Рюрика.

Рюриковичи стояли во главе Древнерусского государства, крупных и мелких княжеств. В XII-XIII вв. некоторые из них назывались также по именам родоначальников ответвлений рода.

Объяснение смысла слова может быть дано в иных, близких по смыслу формулировках.

С каким из данных событий (процессов) связано словосочетание «греческий огонь»? Запишите букву, которой обозначено данное событие (процесс).

Объясните смысл словосочетания «греческий огонь».

Перечень событий (процессов)

- | | |
|--|--|
| А) внутренняя политика первых русских князей | Б) русско-византийские войны |
| В) возникновение и распад империи Карла Великого | Г) окончательная ликвидация зависимости Руси от Орды |

Пояснение.

Правильный ответ должен содержать следующие элементы:

1. буква, которой обозначено данное событие (процесс), — Б;
2. объяснение смысла словосочетания «греческий огонь», например: горючая смесь, применявшаяся в военных целях во времена Средневековья; впервые была употреблена византийцами в морских битвах.

Объяснение смысла словосочетания может быть дано в иных, близких по смыслу формулировках

С каким из данных событий (процессов) связано слово «ярлык»? Запишите букву, которой обозначено данное событие (процесс).

Объясните смысл слова «ярлык».

Перечень событий (процессов)

А) внутренняя политика киевского князя в 1019–1054 гг.

Б) политическое развитие русских земель с республиканской формой правления в XII–XV вв.

В) ордынское владычество на Руси

Г) падение Византийской империи

Пояснение.

Правильный ответ должен содержать следующие элементы:

1. буква, которой обозначено данное событие (процесс), — В;
2. объяснение смысла слова «ярлык», например: льготная грамота монгольских ханов подвластной светской и духовной знати.

Объяснение смысла слова может быть дано в иных, близких по смыслу формулировках

С каким из данных событий (процессов) связано слово «закуп»? Запишите букву, которой обозначено данное событие (процесс).

Объясните

смысл

слова

«закуп».

Перечень событий (процессов)

А) внутренняя и внешняя политика русских земель и княжеств во II половине XIV в.

Б) развитие законодательства в Древнерусском государстве

В) развитие науки и техники в Западной и Центральной Европе в XV в.

Г) окончательная ликвидация зависимости Руси от Орды

Пояснение.

Правильный ответ должен содержать следующие элементы:

1) буква, которой обозначено данное событие (процесс), — Б;

2) объяснение смысла слова «закуп», например: наёмный работник, крестьянин, получивший ссуду (кupu) от землевладельца и обязанный её отработать.

Объяснение смысла слова может быть дано в иных,

Перечень событий (процессов)

А) Правление Ярослава Мудрого

Б) рост влияния Москвы в XIV в.

В) борьба Руси с крестоносцами

Г) появление парламентаризма в Англии

Прочтите отрывок из исторического источника и определите, к какому из данных событий (процессов) он относится. В ответе напишите букву, которой обозначено это событие (процесс).

«1. Убьёт муж мужа, то мстит брат за брата, или сын за отца, или сын брата, или сын сестры; если не будет никто мстить, то 40 гривен за убитого.

Если убитый — русин, или гридин, или купец, или ябедник, или мечник, или же изгой, или словенин, то 40 гривен уплатить за него.

2. Если кто будет избит до крови и синяков, то ему не надо искать свидетеля, если же не будет на нём никаких следов [побоев], то пусть приведёт свидетеля, а если он не может [привести свидетеля], то делу конец. Если же человек может отомстить за себя, то пусть возмездием отомстит обиду 3 гривны, и плату лекарю».

Пояснение. Ярослав Мудрый принял Русскую Правду.

Ответ: А.

- Прочтите отрывок из исторического источника и определите, к какому из данных событий (процессов) он относится. В ответе напишите букву, которой обозначено это событие (процесс).
-
- «Он уделял много внимания просвещению и переводу книг, созданию библиотек, строительству. При нём были возведены в Киеве Золотые ворота и главный храм города, поставленный в честь жестокой сечи с печенегами».

Перечень событий (процессов)

А) борьба Северо-Западной Руси против крестоносцев

Б) правление Ярослава Мудрого

В) Грюнвальдская битва

Г) четвертый крестовый поход

Пояснение. Орывок о Ярославе Мудром.

Ответ: Б

- Прочтите отрывок из исторического источника и определите, к какому из данных событий (процессов) он относится. В ответе напишите букву, которой обозначено это событие (процесс).
-
- «В год 6370 (862) изгнали варягов за море, и не дали им дани, и начали сами собой владеть, и не было среди них правды, и встал род на род, и была у них усобица, и стали воевать друг с другом. И сказали себе: «Поищем себе князя, который бы владел нами и судил по праву». И пошли за море к варягам, к руси... Сказали руси чудь, словене, кривичи и весь: «Земля наша велика и обильна, а порядка в ней нет. Приходите княжить и владеть нами». И избрались трое братьев со своими родами, и взяли с собой всю русь, и пришли, и сел старший, Рюрик, в Новгороде, а другой, Синеус, — на Белоозере, а третий, Трувор — в Изборске. И от тех варягов прозвалась Русская земля».

Перечень событий (процессов)

А) образование русского государства

Б) Победа над Мамаем в Куликовской битве

В) Гуситское движение

Г) Принятие христианства на Руси

Пояснение.Отрывок о призвании варягов.

Ответ: А.

- Прочтите отрывок из исторического источника и определите, к какому из данных событий (процессов) он относится. В ответе напишите букву, которой обозначено это событие (процесс).
-
- «Но отсвет её дел, отсвет её имени доходят до нас даже сквозь эту тысячелетнюю мглу. Её свершения во многом определили и наш сегодняшний день, и всё содержание нашей истории, которая — в том виде, в котором она дана нам, — была бы невозможна без её усилий по созданию Киевской державы, без осознанного ею выбора веры, без её путешествия в Константинополь...»

Перечень событий (процессов)

- | | |
|------------------------------------|----------------------|
| А) Жакерия во Франции | Б) походы Святослава |
| В) Русская правда Ярослава Мудрого | Г) княжение Ольги |

Пояснение. Речь идет о княгине Ольге.

Ответ: Г.

Пояснение. В ответе должно быть дано объяснение, например:

– в тяжелейшей Столетней войне французский народ отстоял свою страну от завоевателей. Война способствовала росту национального самосознания французов. Этим были заложены основы сильного европейского государства – Франции (А);

– образование Древнерусского государства имело важное историческое значение для восточных славян. Оно создавало благоприятные условия для развития земледелия, ремёсел, внешней торговли, способствовало формированию социальной структуры. Благодаря образованию государства начала формироваться древнерусская культура, складываться единая идеологическая система общества. Начала складываться единая древнерусская народность – основа трёх восточнославянских народов: русского, украинского и белорусского (Б);

– несмотря на героическое сопротивление русского народа, Русь была разорена монголами. Восстановление экономики страны затянулось на несколько десятилетий. Но ожесточённая борьба ослабила силы захватчиков, и они не смогли покорить всю Европу (В);

– в XIV в. в ходе борьбы с ордынским владычеством русский народ осознал, что единственным способом избавления от этого владычества является объединение всех русских земель и их совместная борьба под единым руководством. На роль руководящей силы в этой борьбе всё явственнее претендовала Москва. Таким образом, Москва укрепляла свои позиции в Северо-Восточной Руси (Г).

Могут быть даны иные объяснения

Используя знание исторических фактов, объясните, почему это событие (процесс) имело большое значение в истории нашей страны и/или истории зарубежных стран.

Перечень событий (процессов)

А) Стояние на Угре

В) Борьба между Тверью и Москвой за первенство в Северо-Восточной Руси

Б) появление государства у Франков

Г) феодальная раздробленность на Руси

Пояснение. В ответе должно быть дано объяснение, например: Победа Москвы в этой борьбе сделала ее центром объединения русских земель, благодаря чему Москва укрепилась и повела борьбу за освобождение от ордынской зависимости (В);

Могут быть даны иные объяснения.

Используя знание исторических фактов, объясните, почему это событие (процесс) имело большое значение в истории нашей страны и/или истории зарубежных стран.

Перечень событий (процессов)

- | | |
|--------------------------------|-------------------------------------|
| А) освобождение от Орды | Б) присоединение Новгорода к Москве |
| В) отражение шведской агрессии | Г) восстание Уота Тайлера |

В ответе должно быть дано объяснение, например:

— при Иване III была решена важнейшая общенациональная задача — освобождение от ордынского ига. Это произошло в результате событий, вошедших в историю как Стояние на реке Угре. Не решившись дать большое сражение, хан Ахмат увёл свои войска от границ Руси. (А);

Могут быть даны иные объяснения.

Используя знание исторических фактов, объясните, почему это событие (процесс) имело большое значение в истории нашей страны и/или истории зарубежных

Пояснение. В ответе должно быть дано объяснение, например:

— успешная борьба против крестоносцев позволила сохранить православную веру и язык, вселяла уверенность в население Руси во время ордынской зависимости (А);

— правление Ярослава Мудрого создавало благоприятные условия для развития земледелия, ремёсел, внешней торговли, способствовало формированию социальной структуры. Благодаря образованию государства начала формироваться древнерусская культура, складываться единая идеологическая система общества. Начала складываться единая древнерусская народность – основа трёх восточнославянских народов: русского, украинского и белорусского (Б);

— Грюнвальдская битва не позволила крестоносцам расширить свою экспансию в Прибалтике, привела к ослаблению и упадку Тевтонского Ордена (В);

— В ходе Четвертого крестового похода крестоносцы разрушили Константинополь, подорвали могущество Византийской империи и показали главную грабительскую цель крестовых походов (Г).

Могут быть даны иные объяснения.

Используя знание исторических фактов, объясните, почему это событие (процесс) имело большое значение в истории нашей страны и/или истории зарубежных стран.

Перечень событий (процессов)

А) образование древнерусского государства

Б) правление Андрея Боголюбского

В) Великая хартия вольностей

Г) освобождение от ордынского владычества

В ответе должно быть дано объяснение, например:

— Освобождение от ордынского владычества позволило завершить процесс формирования единого централизованного государства (Г).

Могут быть даны иные объяснения.

Используя знание исторических фактов, объясните, почему это событие (процесс) имело большое значение в истории нашей страны и/или истории зарубежных стран.

Перечень событий (процессов)



- А) введение пожилого и Юрьева дня Б) походы князя Олега Вещего
В) битва при Гастингсе Г) правление Василия II

Пояснение. В ответе должно быть дано объяснение, например:
— введение пожилого и Юрьева дня — это начало прикрепления крестьян к земле, укрепление власти помещиков над крестьянами (А);

Могут быть даны иные объяснения.

Какие два из представленных изображений являются памятниками культуры России, а какие — памятниками культуры зарубежных стран? Запишите в таблицу порядковые номера соответствующих памятников культуры.

Ответ:

Памятники культуры России	Памятники культуры зарубежных стран
<div style="display: flex; justify-content: space-around; align-items: center;"> 1)  2) </div>	

Пояснение.1. Троица Андрея Рублева;
 2. Софийский собор в Константинополе или Стамбуле;
 3. Собор Парижской богородицы;
 4. Софийский собор в Новгороде.

Ответ: 1423 | 4123 | 4132 | 1432.



Какие два из представленных изображений являются памятниками культуры России, а какие — памятниками культуры зарубежных стран? Запишите в таблицу порядковые номера соответствующих

памятников культуры.


1)



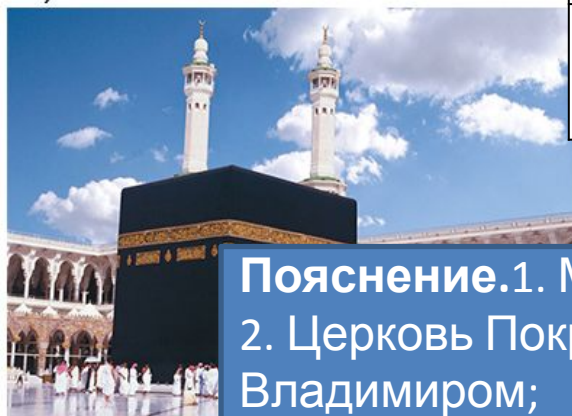
2)



3)



4)




Памятники культуры России		Памятники культуры зарубежных стран	

Пояснение. 1. Мечеть Омара в Иерусалиме;
2. Церковь Покрова на Нерли под Владимиром;
3. Софийский собор в Киеве;
4. Кааба в Мекке.

Ответ: 2314 | 2341 | 3214 | 3241.

Какие два из представленных изображений являются памятниками культуры России, а какие — памятниками культуры зарубежных стран? Запишите в таблицу порядковые номера соответствующих

1)



2)



3)



4)



Благовещенский собор в Москве;
 2. Мост в Эрфурте;
 3. Аббатство Клуни во Франции;
 4. Грановитая палата в Москве.

Ответ: 1423 | 4123 | 4132 |

Памятники культуры России

Памятники культуры зарубежных стран

--	--	--	--

- <https://hist6-vpr.sdamgia.ru/?redir=1>

