

Математика. 5 класс






**Найди правильный
ответ:**

6

36

**Произведение
чисел 18 и 3
равно**



54

15



**Найди правильный
ответ:**


**Найди восьмую
часть от
3200**

300

400

40

**160
0**





**Найди правильный
ответ:**

**Вычисли:
2м – 40см**

**240
см**

**42
см**

**196
0
см**

**160
см**



**Найди правильный
ответ:**


**Сколько минут
в 3 часах?**

180

300

360

160



Задача.

Иллюзионисту для фокусов необходим прямоугольный лист бумаги. Найдите периметр и площадь данного листа, если его стороны 4 дм и 9 дм.

Периметр:


26 дм

Площадь:

36 кв.дм

4 дм

9 дм



Задача.

На цирковое представление и обратно домой дядя Вася плыл на катере.

Катер по реке от пристани «Ключи» до пристани «Светлое» шел 6 ч со скоростью 15 км/ч. На обратный путь ему потребовалось 9 ч.

1) Каково расстояние по реке от пристани «Ключи» до пристани «Светлое»?


90 км

2) Какова была скорость катера на обратном пути?

10 км/ч

3) С какой скоростью шел катер от пристани «Светлое» до пристани «Ключи»?

15 км/ч



Задача.

40 бабушек поехали в цирк на мотоциклах. Впереди на мотоцикле без глушителя ехала в одиночестве самая шустрая бабушка, за ней мчались три мотоцикла с колясками, на каждом из которых поместилось по три бабушки, а сзади их догоняли остальные мотоциклы. На оставшихся мотоциклах сидело по две бабушки. Сколько всего мотоциклов было у бабушек?



Ответ: 19

Вариант 1.

№1 Выполните действия.

а) $4699 + 3424$;

б) $504 : 56$.

№2 При замке есть огород прямоугольной формы. Его длина 84м, а ширина 20м. Четвертая часть занята грядками с огурцами. Определите площадь участка, занятого грядками с огурцами.

Вариант 2.

№1 Выполните действия.

а) $9064 - 3298$;

б) $12 \cdot 305$.

№2 Сад при замке занимает участок земли прямоугольной формы, длина которого 120м, а ширина 45м. Третья часть сада занята яблоками. Какая площадь занята яблоками?

Познакомьтесь:

Мряк

а



Бряка наклюсюкала 356 парфусиков, а **Мряка** наплюфукала в 3 раза больше парфусиков, да еще и отняла у Бряки половину её парфусиков. Сколько парфусиков у Мряки?

Домашнее задание

- На листочках (выполняем в тетрадях для домашних работ)