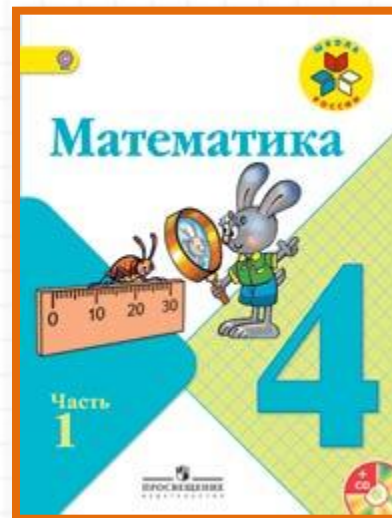


# Школа России 4 класс


стр. 49



## Устный счёт к уроку № 100

Письменное умножение на  
трёхзначное число

# Устный счёт



Переведите в меньшие единицы длины и массы.

$$5 \text{ т } 8 \text{ ц} =$$

$$45 \text{ т } 300 \text{ кг} =$$

$$7 \text{ км } 800 \text{ м} =$$

$$9 \text{ м } 6 \text{ дм} =$$

$$3 \text{ дм } 4 \text{ см} =$$

$$7 \text{ ц } 20 \text{ кг} =$$


**Посчитайте:**

$$900 : 90 =$$

$$44 \bullet 20 =$$

$$800 - 90 =$$

$$130 \bullet 70 =$$




**Посчитайте:**

$$345 + 120 =$$

$$230 \bullet 30 =$$

$$450 : 150 =$$

$$550 : 110 =$$



Мальчик купил **5** красных карандашей и **7** синих по одинаковой цене. За синие он заплатил **на 6 рублей больше**, чем за красные. Сколько мальчик заплатил за красные карандаши?



**15 рублей**

Мама принесла на огород **8 леек** воды.  
Это  **$1/4$**  часть всей воды, которой она  
должна полить огород в жаркий день.  
Сколько леек всего нужно принести  
маме на огород?

32



Зина за **1** час собирает **9** кг помидор.  
Она собрала **54 кг** помидоров. Сколько часов работала Зина?



6



С двух парников собрали **100 кг** огурцов.  
Площадь первого парника **12 м<sup>2</sup>**, а  
второго **13 м<sup>2</sup>**. Сколько кг огурцов  
собирают с **1 м<sup>2</sup>**?



**4 КГ**

С грядок собрали **80 кг** моркови.  **$\frac{2}{5}$**  всей моркови положили в погреб, а из остальной сделали морковный сок. Сколько кг моркови пошло на сок?

**48 кг**



## Алгоритм умножения

1. Умножу на число *единиц*. Начну записывать под единицами.

Получу первое неполное произведение...

2. Умножу на число *десятков*. Начну записывать под десятками .

Второе неполное произведение будет равно ...

3. Умножу на число *сотен*.

Начну подписывать третье неполное произведение под сотнями.

Получу третье неполное произведения...

4. Сложу неполные произведения.

5. Читаю ответ...

В одной упаковке **248** ластиков.  
Сколько ластиков в **536** упаковках?  
Найди ответ в данной записи примера.  
Можно ли по этой записи определить,  
сколько ластиков в **6** упаковках, в **30**  
упаковках, в **500** упаковках, в **5360**  
упаковках?

$$\begin{array}{r} \times 248 \\ 536 \\ \hline 1488 \\ + 744 \\ \hline 1240 \\ \hline 132928(\text{л.}) \end{array}$$



# Конец

Сайт Елены Берюховой «Школа АБВ»  
<http://shkola-abv.ru>

