




МОУ «Школа №9 г. Тореза

**Еще недавно ты был
Первоклассником !**





Стал выпускником

**Он – последний! Поэтому он –
необычный.**

**И вот наш последний, финальный
урок,
Нас всех разлучает прощальный
звонок.**

**Сегодня не будем ГИА мы решать
Сегодня позволим себе отдохнуть.**

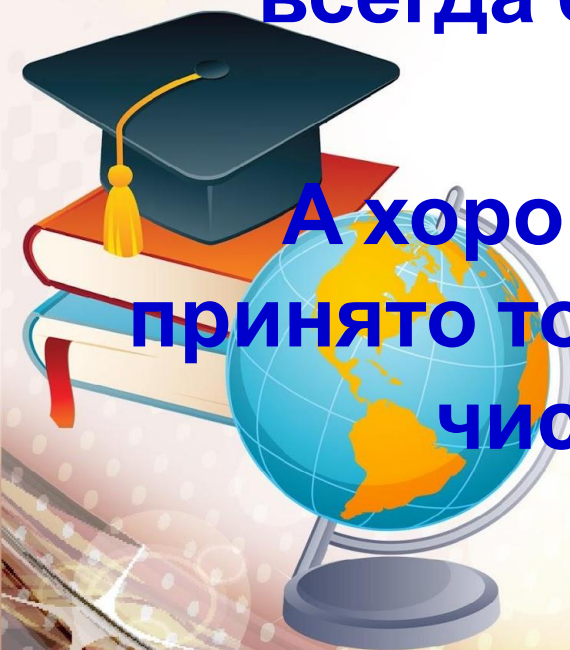


ПОСЛЕДНИЙ...

Сегодня у нас последний школьный урок математики.

Вы переходите в 10 класс. Но все вы, всегда будете решать различные задачи...

А хорошее решение может быть принято только на основе знаний, в том числе и математических.



**Увлекательная
математика
для весёлых
девочек и мальчиков**



Давайте поиграем в игру «Девочки и мальчики»

- Игруют в бантики и мишки, конечно, только лишь...
- Болты, шурупы, шестерёнки найдёшь в кармане у....
- На розыгрыш по мотогонкам стремятся только лишь...
- Весной венки из одуванчиков плетут, конечно, только...
- Коньки на льду чертили стрелочки, в хоккей играют только...
- Болтали час без передышки в цветастых платицах...



Вы можете правильно
рассуждать




Принимать обоснованное решение





• *Защищать и доказывать свое решение*

**У нас с вами было ???
уроков!**

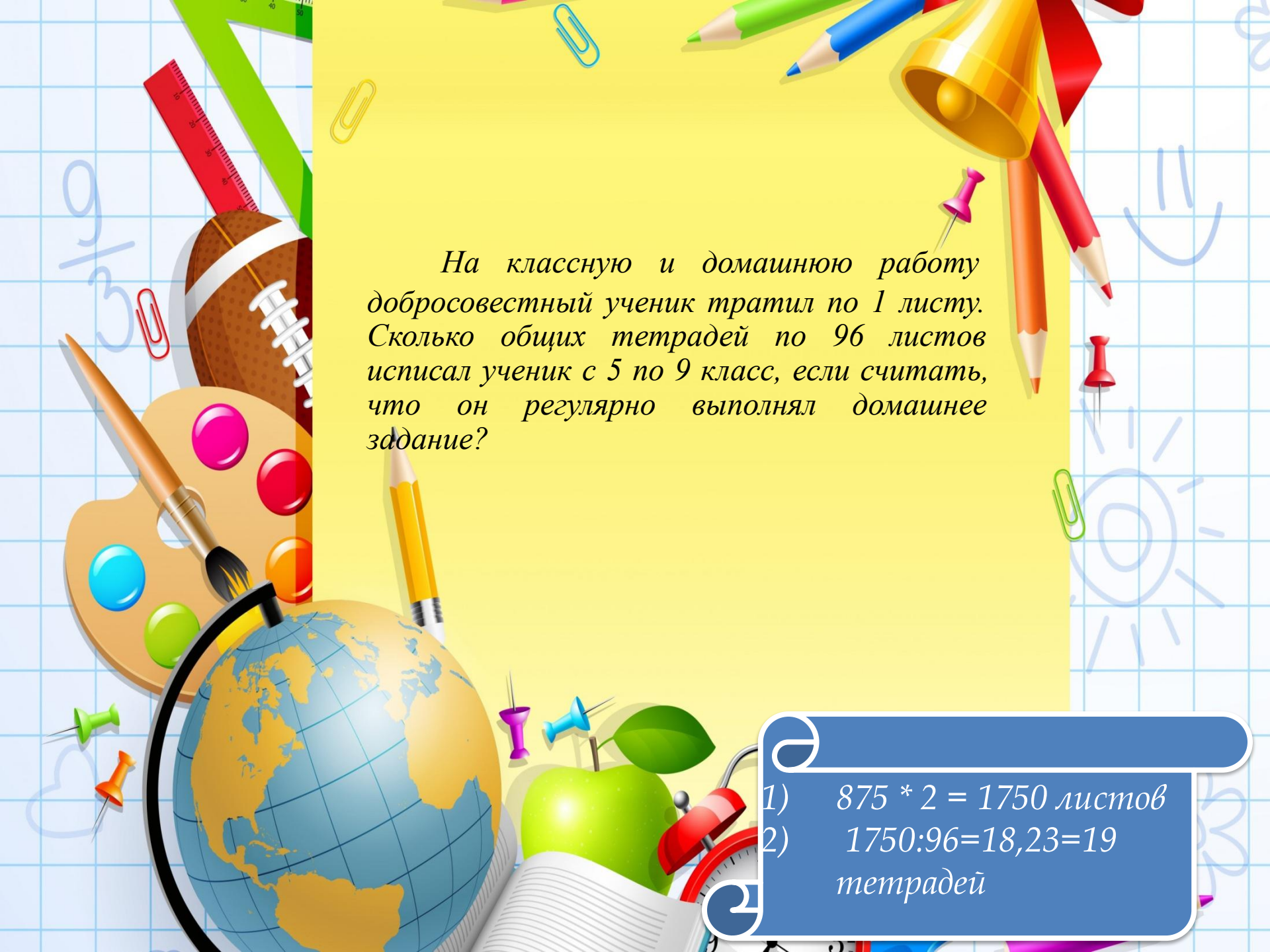




Сколько уроков девятиклассник прозанимался математикой, начиная с пятого класса, если в учебном году 35 недель, а в неделю 5 уроков математики?




$(35 \cdot 5) \cdot 5 = 875$ уроков
математики



На классную и домашнюю работу добросовестный ученик тратил по 1 листу. Сколько общих тетрадей по 96 листов исписал ученик с 5 по 9 класс, если считать, что он регулярно выполнял домашнее задание?

- 1) $875 * 2 = 1750$ листов
- 2) $1750 : 96 = 18,23 = 19$
тетрадей



Сколько страниц учебников
проштудировали учащиеся, если в
учебнике

- 5кл. 298 страниц
- 6 кл. 206 страниц
- 7кл. 190 страниц
- 8кл. 238 страниц
- 9кл. 221 страниц
- геометрия 334 страницы

**Проверим готовы ли вы
сдать
ГИА по математике.**




ВЫЧИСЛИТЕ УСТНО



**Берём цифры,
показываем ответ на вопрос.**






У семи братьев по
одной сестрице.
Сколько их вместе?



- На грядке сидят 6 воробьёв. К ним прилетели ещё 5. Кот подкрался и схватил одного. Сколько осталось воробьёв?







СКОЛЬКО ХВОСТОВ У СЕМИ КОТОВ?




**СКОЛЬКО
НОСОВ У ДВУХ
ПСОВ?**



**Сколько пальчиков у
четырёх мальчиков?**





***Сколько ушек у трёх
старушек?***



**Сколько орехов в пустом
стакане?**



Числа в

пословицах

и поговорках



Один за всех и
все за **одного.**



Семь

раз отмерь,

...один

раз отрежь.



Одна голова
хорошо,
а две лучше.





Разгадай



ребус

ВОСЕМЬ

07





Родина



Р 1 а

два



”



ПЯТЬ



”



Ь




ОДИН



Задачки- смекалки



**Мальчик каждую букву
своего имени заменил
порядковым номером этой буквы в
русском алфавите.
Получилось 5,10,14,1.
Как звали мальчика?**



Дима




В теремке Мышка живет выше Лягушки, но ниже Зайца, а Петух живет ниже Лягушки. Скажите, кто на каком этаже живет.

Мышка

Лягушка

Заяц

Петух



**На лужайке босоногих мальчиков
столько же, сколько обутых девочек.**

**Кого на лужайке больше –
девочек или босоногих детей?**

ОДИНАКОВО





Вы просто молодцы



**С окончанием я ВАС поздравляю,
пусть в жизни вам везет во всем всегда.
Успехи ваши всех нас окрыляют,
и пусть не изменяют вас года.**

**Чтобы нашли вы все свое
призвание.**

**Не забывали вы родных и знали,
что ваша школа это тоже
дом.**

Ждём вас в 10 классе



**Желаю вам дальнейших
успехов и побед!**

**С уважением, Светлана
Владимировна**

