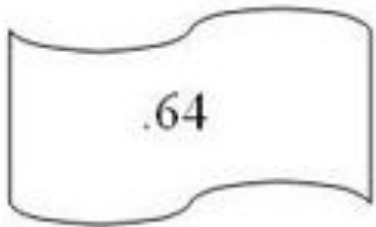


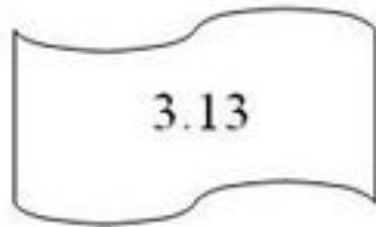
Восстановление IP адресов и адресов файлов в интернете

ЗАДАНИЕ №1

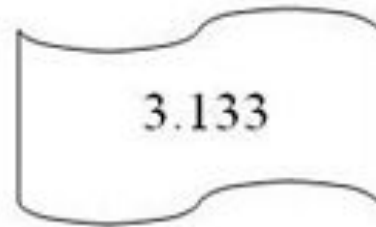
Петя записал IP–адрес школьного сервера на листке бумаги и положил его в карман куртки. Петина мама случайно постирала куртку вместе с запиской. После стирки Петя обнаружил в кармане четыре обрывка с фрагментами IP–адреса. Эти фрагменты обозначены буквами А, Б, В и Г. Восстановите IP–адрес. В ответе укажите последовательность букв, обозначающих фрагменты, в порядке, соответствующем IP–адресу.



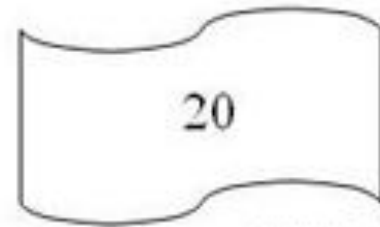
А



Б



В



Г

РЕШЕНИЕ №1

IP-адрес представляет собой числа, разъединенные точками, причем числа эти не больше 255.

Посмотрим внимательнее на данные фрагменты: под буквой А мы видим «.64». Число, на которое указывает этот фрагмент, начинается с 64. Так как числа в IP-адресе не могут быть больше 255, мы не можем добавить в конце этого числа еще один разряд, а фрагментов, начинающихся с точки, больше нет, следовательно, этот фрагмент – последний.

Посмотрим на фрагмент под буквой Г. В нем стоит число без точек, значит, это либо последний фрагмент, либо первый. Место последнего фрагмента уже занято, значит фрагмент Г на первом месте.

В конце фрагмента В - число 133, отделенное точкой. Так как в IP-адресе не может быть числа, большего 255, то за фрагментом В должен следовать фрагмент, начинающийся с точки. Значит, фрагмент В идет перед фрагментом А.

Итого получаем ГБВА.

Определение адреса или маски сети

ЗАДАНИЕ №1

В терминологии сетей TCP/IP маской сети называют двоичное число, которое показывает, какая часть IP-адреса узла сети относится к адресу сети, а какая – к адресу узла в этой сети. Адрес сети получается в результате применения поразрядной конъюнкции к заданному IP-адресу узла и его маске. По заданным IP-адресу узла и маске определите адрес сети:

IP-адрес: 145.92.137.88 Маска: 255.255.240.0

При записи ответа выберите из приведенных в таблице чисел 4 фрагмента четыре элемента IP-адреса и запишите в нужном порядке соответствующие им буквы без точек.

A	B	C	D	E	F	G	H
0	145	255	137	128	240	88	92

РЕШЕНИЕ №1

1. Запишем числа маски сети в двоичной системе счисления.

$$255_{10} = 11111111_2 \quad 240_{10} = 11110000_2 \quad 0_{10} = 00000000_2$$

2. Адрес сети получается в результате поразрядной конъюнкции чисел маски и чисел адреса узла (в двоичном коде). Так как конъюнкция 0 с чем-либо всегда равна 0, то на тех местах, где числа маски равны 0, в адресе узла стоит 0. Аналогично, там, где числа маски равны 255, стоит само число, так как конъюнкция 1 с любым числом всегда равна этому числу.

3. Рассмотрим конъюнкцию числа 240 с числом 137.

Результатом конъюнкции является число $10000000_2 = 128$

4. Сопоставим варианты ответа получившимся числам: 145, 92, 128, 0.

ЗАДАНИЕ №2

Маской подсети называется 32-разрядное двоичное число, которое определяет, какая часть IP-адреса компьютера относится к адресу сети, а какая часть IP-адреса определяет адрес компьютера в подсети. В маске подсети старшие биты, отведенные в IP-адресе компьютера для адреса сети, имеют значение 1; младшие биты, отведенные в IP-адресе компьютера для адреса компьютера в подсети, имеют значение 0.

Если маска подсети 255.255.255.224 и IP-адрес компьютера в сети 162.198.0.157, то порядковый номер компьютера в сети равен_____

РЕШЕНИЕ №2

1. Так как первые три октета (октет - число маски, содержит 8 бит) все равны 255, то в двоичном виде они записываются как 24 единицы, а значит, первые три октета определяют адрес сети.
 2. Запишем число 224 в двоичном виде $224_{10} = 11100000_2$.
 3. Запишем последний октет IP-адреса компьютера в сети:
 $157_{10} = 10011101_2$
 4. Сопоставим последний октет маски и адреса компьютера в сети:
11100000
10011101
- Жирным выделена нужная нам часть, отвечающая (по условию) за адрес компьютера в подсети. Переведем её в десятичную систему счисления:

$$11101_2 = 29_{10}$$

Ответ: 29