

## Состав района



## Особенности географического положения



## ЭГП и геополитическое положение



Вопросы

Тест

Задания

Практикум

ВЫХОД

ресурсы

# Состав района

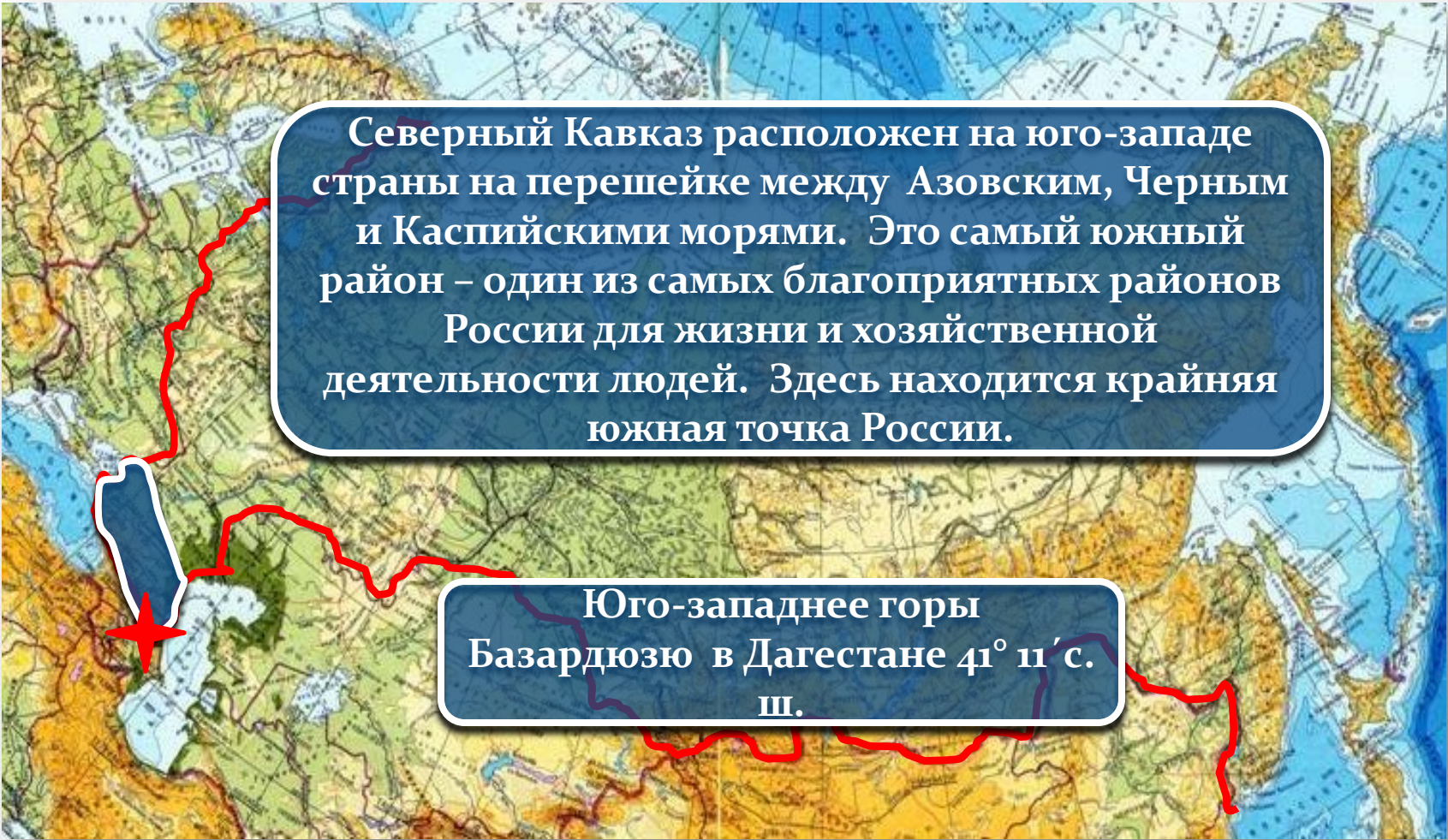


**Края:** Краснодарский,  
Ставропольский  
**Область:** Ростовская  
**Республики:** Адыгея,  
Ингушетия, Чеченская,  
Кабардино-Балкарская,  
Карачаево-Черкесская,  
Северная Осетия -  
Алания

[ВЫХОД](#)

[назад](#)

# Физико - географическое положение



Северный Кавказ расположен на юго-западе страны на перешейке между Азовским, Черным и Каспийскими морями. Это самый южный район – один из самых благоприятных районов России для жизни и хозяйственной деятельности людей. Здесь находится крайняя южная точка России.

Юго-западнее горы Базардюзю в Дагестане  $41^{\circ} 11' \text{ с. ш.}$

Физико - географическое положение.  
Площадь, протяженность, природные рубежи.



ВЫХОД

Площадь

Протяженность

[далее](#)

# Физико - географическое положение. Береговая линия.



# Физико - географическое положение. Европейский Юг – природный амфитеатр.



# ЭГП и геополитическое положение района



Центрально-Чернозёмный район

р. Дон

Волго-Донской канал

Цимлянское водохранилище

Поволжье

Абхазия

Г Р У З И Я

Азербайджан

1. Главный Кавказский хребет отделяет Европейский Юг от государств Закавказья и осложняет хозяйственные связи с ними.
  2. Единственный российский район, имеющий прямой выход к Азовскому и Чёрному морям. После распада СССР резко возросло значение каспийского побережья.
- Эти черты имеют огромное значение для обеспечения геополитических интересов страны в регионе.**

ВЫХОД

[назад](#)

# Вопросы

1

Черное, Азовское, Каспийское. Черное и Азовское моря соединяет Керченский пролив

2

Район равноудалён от экватора и полюса, поэтому территория получает большое количество тепла

**ОБЪЯСНИТЕ:**

3

Украина, Абхазия, Грузия, Азербайджан

4

Три части: равнинная, предгорная и горная (Большой Кавказ)

5

Моря способствуют развитию внешнеэкономических связей, развитию курортного и рыбного хозяйства. Главный хребет осложняет связи с Закавказьем

ВЫХОД

[назад](#)



# Тест

1. От Русской равнины Северный Кавказ отделен ...

- А *Ставропольской возвышенностью*       Б *Прикубанской равниной*  
 В *Кумо-Манычской впадиной*

2. Через Керченский пролив Северный Кавказ граничит с ...

- А *Белоруссией*       Б *Абхазией*       В *Грузией*       Г *Украиной*

3. От Каспийского моря Кавказские горы протянулись на ...

- А *Северо-восток*       Б *Юго-запад*  
 В *Северо-запад*       Г *Юго -восток*

4. Северный Кавказ не граничит с ...

- А *Украиной*       Б *Азербайджаном*  
 В *Грузией*       Г *Арменией*

5. Какие районы не входит в состав Северного Кавказа?

- А *Южные склоны Большого Кавказа*       Б *Предкавказье*  
 В *Северные склоны Большого Кавказа*       Г *Закавказье*

# Тест

1. С каким районом России не граничит Европейский Юг:

А Центрально-Чернозёмный

Б Поволжье

В Центральный

2. На климат европейского Юга оказывает влияние:

А Каспийское море

Б Азовское море

В Черное море

3. Какие моря обладают запасами ценной промысловой рыбы:

А Азовское море

Б Каспийское море

В Черное море

4. Площадь Европейского Юга:

А 355 тыс. кв. км

Б 345 тыс. кв. км.

В 245 тыс. кв. км

5. Главные курорты России находятся на побережье морей:

А Черного

Б Азовского


В Каспийского

ВЫХОД


[Назад](#)

# Задания


1. Найдите в атласе природные границы Северного Кавказа на севере и юге – запишите в тетрадь.



2. Найдите в атласе какими морями и с каких сторон омывается Северный Кавказ.



3. Найдите на карте крайнюю южную точку района. Запишите в тетрадь, определив ее координаты.



4. С какими государствами и с каких сторон граничит Северный Кавказ найдите в атласе и запишите в тетрадь.

ВЫХОД

[назад](#)

# Европейский Юг. Факторы формирования района

На контурной карте отметьте границы района линией, подпишите страны, граничащие с Европейским Югом



Подпишите Экономические районы России, с которыми граничит Европейский Юг



Подпишите следующие объекты: **моря:** Азовское, Чёрное, Каспийское ; **заливы:** Таганрогский **проливы:** Керченский **полуострова:** Таманский ; **крайние точки:** район горы Базардюзю.



Рассчитайте протяженность Кавказских гор по Главному Кавказскому хребту, используя атлас. Подпишите на контурной карте



ВЫХОД

[Назад](#)

# Европейский Юг. Факторы формирования района



1 - Азербайджан

[ВЫХОД](#)

[назад](#)

# Европейский Юг. Факторы формирования района



- 1 – Азербайджан
- 2 – Центрально-Чернозёмный

ВЫХОД

[назад](#)

# Европейский Юг. Факторы формирования района



1 – Азербайджан

2 – Центрально-Чернозёмный



★ крайняя южная точка России, р-н г.Базардюзю

[ВЫХОД](#)

[назад](#)

# Европейский Юг. Факторы формирования района



1 – Азербайджан

2 – Центрально-Чернозёмный



★ крайняя южная точка России, р-н г.Базардюзю

[ВЫХОД](#)

[назад](#)



# Ресурсы

1. [http://mediaprofi-online.ru/doc7\\_pic/a737.jpg](http://mediaprofi-online.ru/doc7_pic/a737.jpg) - народы Северного Кавказа
2. <http://i.ganjabfoto.ru/1/48/1/1480122.jpg> - Владикавказ
3. [http://www.skitalets.ru/photogallery/2009/maylinskyo8\\_manukyants/15.jpg](http://www.skitalets.ru/photogallery/2009/maylinskyo8_manukyants/15.jpg) - горы
4. <http://www.vokrugsveta.ru/photo/thumbnails/1024/6646.jpg> - Эльбрус
5. <http://www.vokrugsveta.ru/img/cmn/2008/08/13/011.jpg> - карта
6. <http://http://www.agroz9.ru/upload/iblock/946/Image018.jpg> - Кубань
7. <http://lensart.mhost.ru/picturecontent-pid-1351d.jpg> - предгорья Кавказа
8. [http://open.az/uploads/posts/2009-08/thumbs/1251706069\\_19.jpg](http://open.az/uploads/posts/2009-08/thumbs/1251706069_19.jpg) - Кавказ
9. [http://gorodsochi.ucoz.ru/\\_ph/1/2/133397793.jpg](http://gorodsochi.ucoz.ru/_ph/1/2/133397793.jpg) - Черное море
10. [http://www.lawinrussia.ru/images/th\\_533251537358371.jpg](http://www.lawinrussia.ru/images/th_533251537358371.jpg) - Европейский Юг
11. [http://www.1553.ru/lessons/geo\\_f/konturnaya\\_karta\\_Evropeyskoy\\_Rossii.jpg](http://www.1553.ru/lessons/geo_f/konturnaya_karta_Evropeyskoy_Rossii.jpg) - контурная карта