

Интерактивный тренажёр. Машинные швы



• Машинные швы

• Соединительные

• Стачные

• Вразутюжку

• Взаутюжку

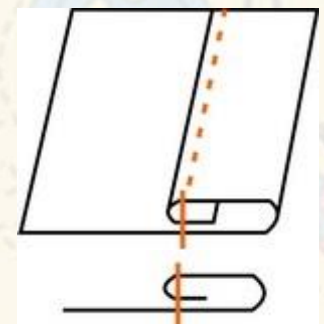
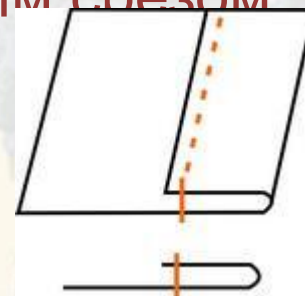
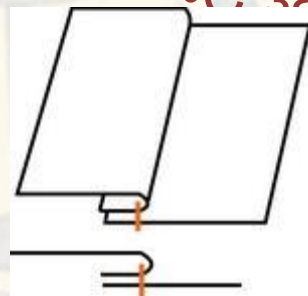
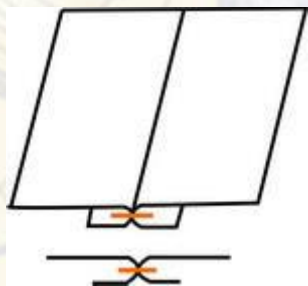
• Отделочные

• Краевые

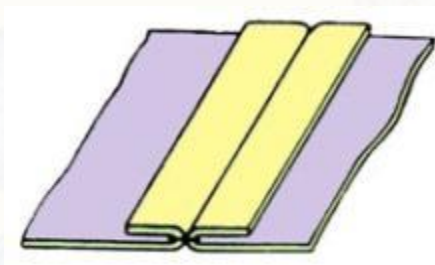
• Вподгибку

• С открытым срезом

• С закрытым срезом



Определите название шва



1

Расстрочной

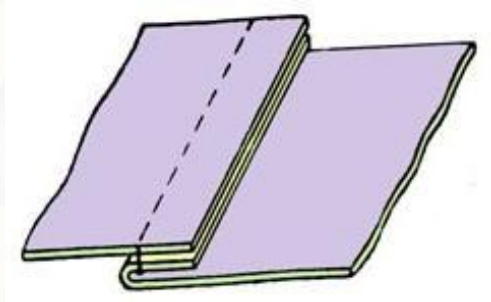
2

**Стачной
вразутюжку**

3

**Стачной
взаутюжку**

Определите название шва



1

**Настрочной
с открытыми
срезами**

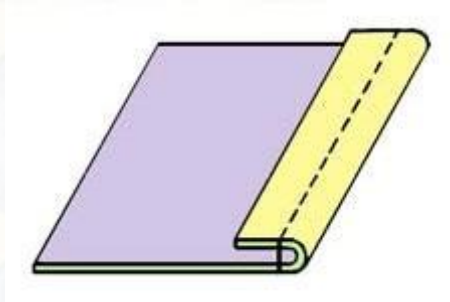
2

**Накладной
с открытыми
срезами**

3

**Стачной
взаутюжку**

Определите название шва



1

**Вподгибку
с открытым
срезом**

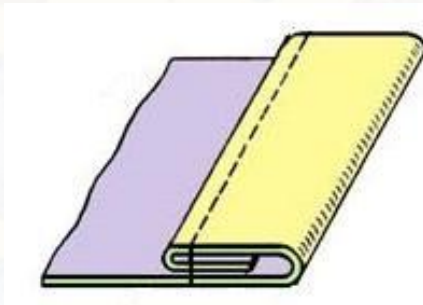
2

**Вподгибку
с закрытым
срезом**

3

**Вподгибку с
окантовочным
срезом**

Определите название шва



1

**Вподгибку
с открытым
срезом**

2

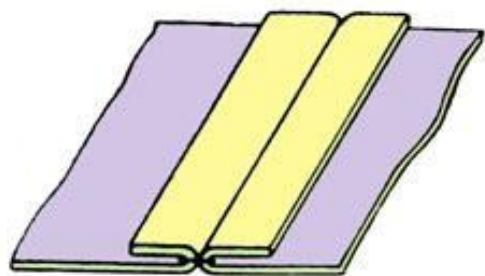
**Вподгибку
с закрытым
срезом**

3

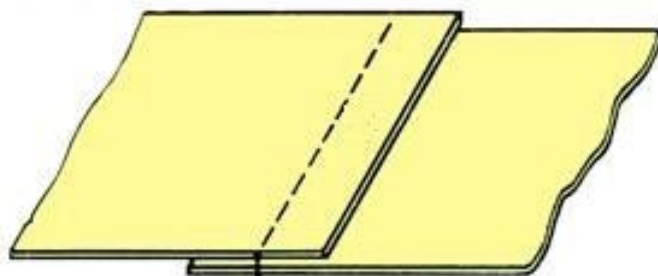
**Вподгибку с
окантовочным
срезом**

**Определите на рисунке
стачной шов вразутюжку**

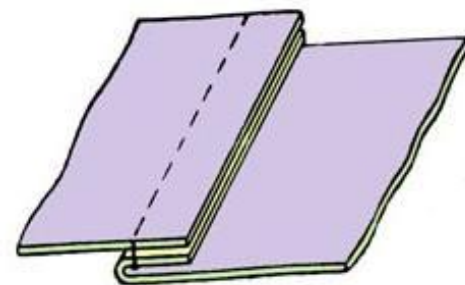
1



2



3

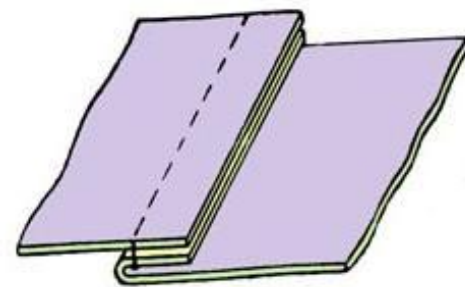
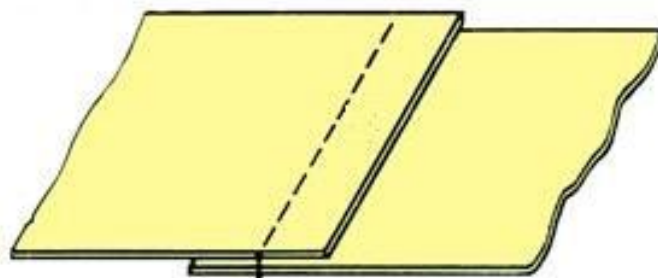
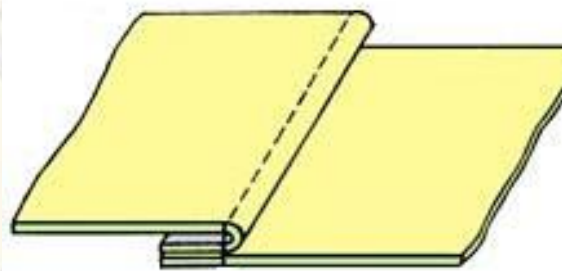


**Определите на рисунке
стачной шов взаутюжку**

1

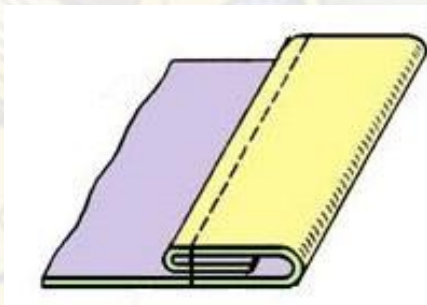
2

3

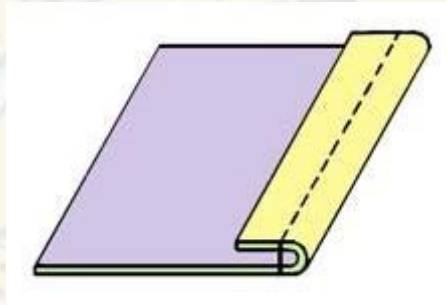


**Определите на рисунке
шов вподгибку
с открытым срезом**

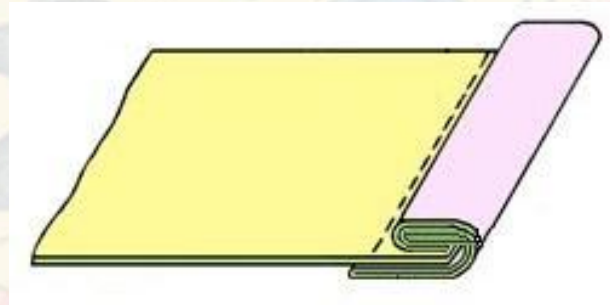
1



2

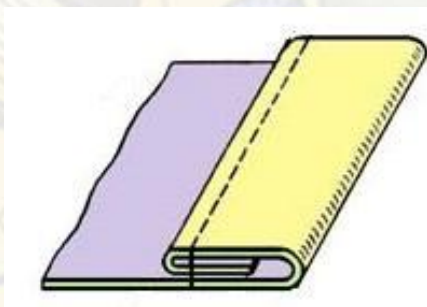


3

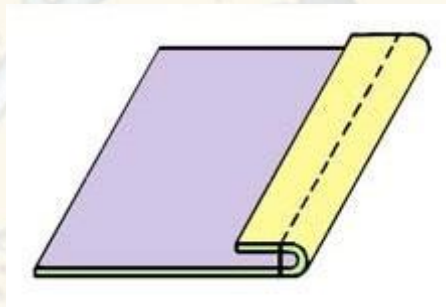


Определите на рисунке
шов вподгибку
с закрытым срезом

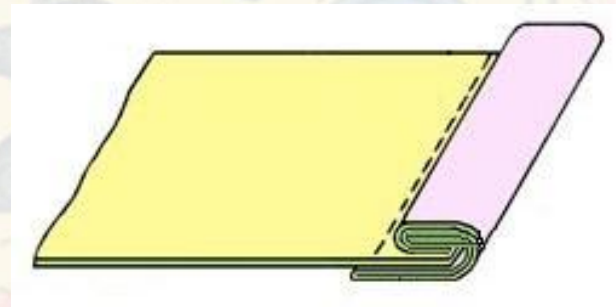
1



2



3



Определите схему
стачного шва
вразутюжку

1



2



3



Определите схему
стачного шва
взаутюжку

1



2



3



Определите схему
шва вподгибку
с открытым срезом

1



2



3



Определите схему
шва вподгибку
с закрытым срезом

1



2



3





**Ответ
неверный!**

**Попробуй ещё,
у тебя всё
получится!**



Молодцы!

Золушка справилась с заданием и может
тоже ехать на балл!

